

1 次の文章を読み、あとの(1)～(4)の問いに答えなさい。

平成 25 年、千葉県aの県政運営の指針である「新 輝け！ちば元気プラン」が発表されました。その中で、成田国際空港(以下、成田空港)は、県の経済活性化などをすすめる重要な拠点の一つとされています。開港以来、旅客・貨物の輸送bにおける空の玄関口として発展をとげてきた成田空港は、日本と世界の国々cを結び、経済や文化の交流に貢献しています。

- (1) 下線部 a に関連して、次の文中の  にあてはまる適当な語を書きなさい。

下総台地は、 層と呼ばれる火山灰が積もった赤土の層におおわれている。

- (2) 下線部 b に関連して、次のア～ウのできごとを年代の古いものから順に並べ、その符号を書きなさい。

ア 成田空港開港：高度経済成長のころに建設地が閣議決定され、12 年の時を経て開港した。

イ 市川－佐倉間に千葉県初の鉄道開通：陸軍の施設がある津田沼などを通った。

ウ ひがしまわ 東廻り航路の整備：房総半島をまわって、東北地方などの米を江戸に運んだ。

- (3) 下線部 c に関連して、次の文中の  にあてはまる適当な語を漢字 3 字で書きなさい。

複数の国に生産や販売の拠点をもち、世界的な規模で活動する企業を  企業という。

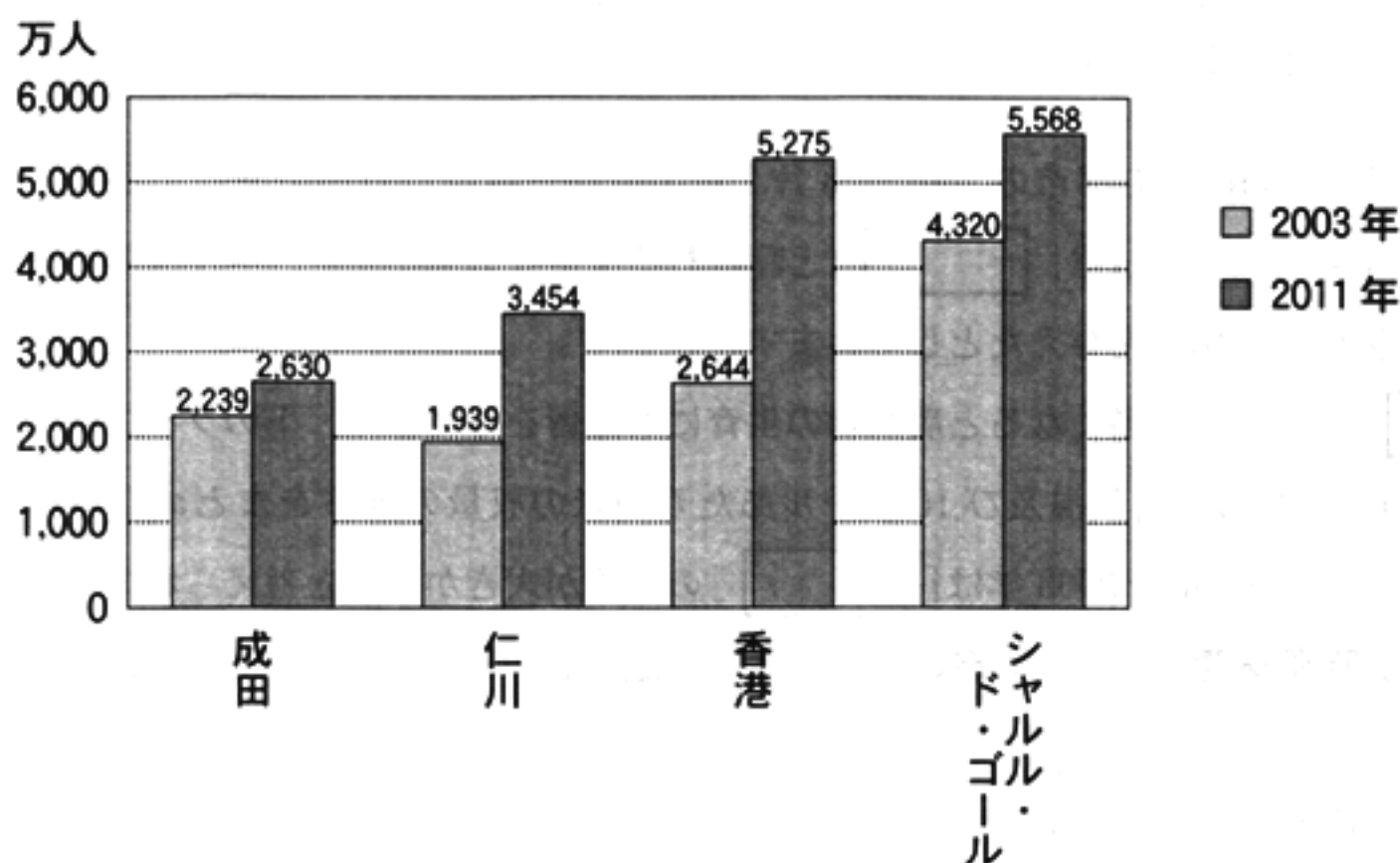
- (4) 次の資料 1、資料 2 は、ともみさんが「国際・国内貨物取扱量及び国際貨物取扱量」、「国際乗降旅客数」の上位の空港と、成田空港とを比較するためにまとめたものの一部である。これらの資料から読み取れることとして最も適当なものを、あとのア～エのうちから一つ選び、その符号を書きなさい。

資料 1 国際・国内貨物取扱量及び国際貨物取扱量(2011 年)

空港名	国際・国内 貨物取扱量(千 t)	国際貨物 取扱量(千 t)
成 田	1,945	1,899
イン チョン 仁 川	2,539	2,484
ホン コン 香 港	3,977	3,938
シャルル・ド・ゴール	2,300	2,045

(「世界国勢図会 2013/14」より作成)

資料 2 国際乗降旅客数(2003 年, 2011 年)



(「世界国勢図会 2013/14」などより作成)

- ア 「成田」と「香港」とを比べると、国際・国内貨物取扱量は「香港」の方が多いが、国際貨物取扱量は「成田」の方が多い。
- イ 2011 年の国際貨物取扱量と国際乗降旅客数がともに「成田」より少ない空港は、「仁川」と「シャルル・ド・ゴール」である。
- ウ 「成田」と「仁川」における、国際乗降旅客数の 2003 年から 2011 年の増加率を比べると、「成田」の方が高い。
- エ 2011 年の国際乗降旅客数は、「成田」、「仁川」、「香港」、「シャルル・ド・ゴール」のすべての空港において、2003 年より 350 万人以上増加している。

2 次の図を見て、あとの(1)～(3)の問いに答えなさい。



(1) 日本を8地方に区分したとき、次の七つの都市は、それぞれ七つの地方に属している。これらの都市が属していない地方名を漢字で書きなさい。

こうべ 神戸市, 松江市, 盛岡市, 松山市, 札幌市, さっぽろ  
なは 那覇市, 前橋市

(2) 次の資料は、なつこさんが日本各地に吹く特徴的な風とその影響について調べ学習を行い、その内容をまとめたレポートの一部である。これを読み、あとの①、②の問いに答えなさい。

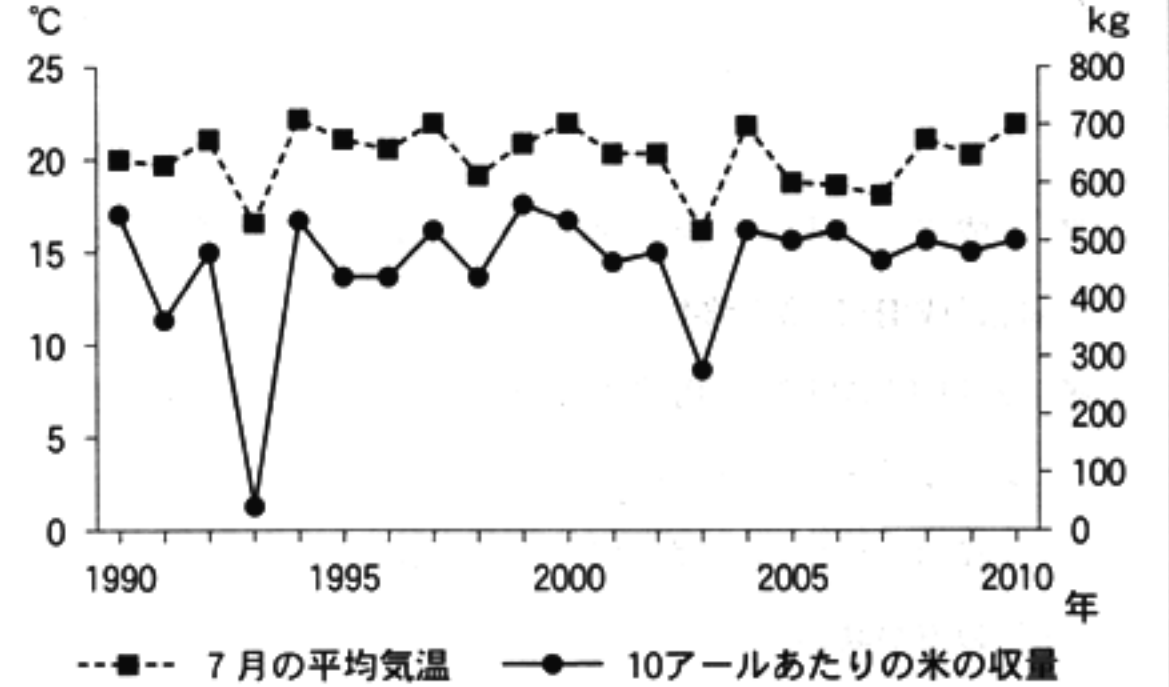
下の表は、上の図中の a～f の都市の 2001 年 8 月 7 日の最高気温及び日照時間をまとめたものです。気象庁によると、この日は「」と呼ばれる東寄りの風が吹き、太平洋側の都市の最高気温及び日照時間に影響を与えたとしています。

この「」の吹く日が多くなると農産物の生育にも影響を与えます。下のグラフは、上の図中の b の都市の 7 月の平均気温及び 10 アールあたりの米の収量の推移をまとめたものです。グラフから、特に 1993 年や 2003 年は「」の影響が大きかったと考えられます。

2001 年 8 月 7 日の最高気温及び日照時間

	最高気温 (℃)	日照時間 (時間)
a	20.8	6.8
b	17.9	0
c	21.3	0
d	26.3	12.9
e	28.8	12.3
f	27.2	7.6

b の都市の 7 月の平均気温及び 10 アールあたりの米の収量の推移



(「気象庁ホームページ」などより作成)

- ① 資料中の  に共通してあてはまる風の名称を書きなさい。
- ② 上記①の風によって引き起こされる自然災害の名称を書きなさい。

- (3) 次の地形図は、前のページの図に示した香川県の讃岐平野のある地域を示したものである。これを見て、あとの①、②の問いに答えなさい。



(国土地理院 平成 24 年発行 1 : 25,000「丸亀」原図より作成)

めもり 0 5 cm

- ① 上の地形図を正しく読み取ったことがらとして最も適当なものを、次のア～エのうちから一つ選び、その符号を書きなさい。

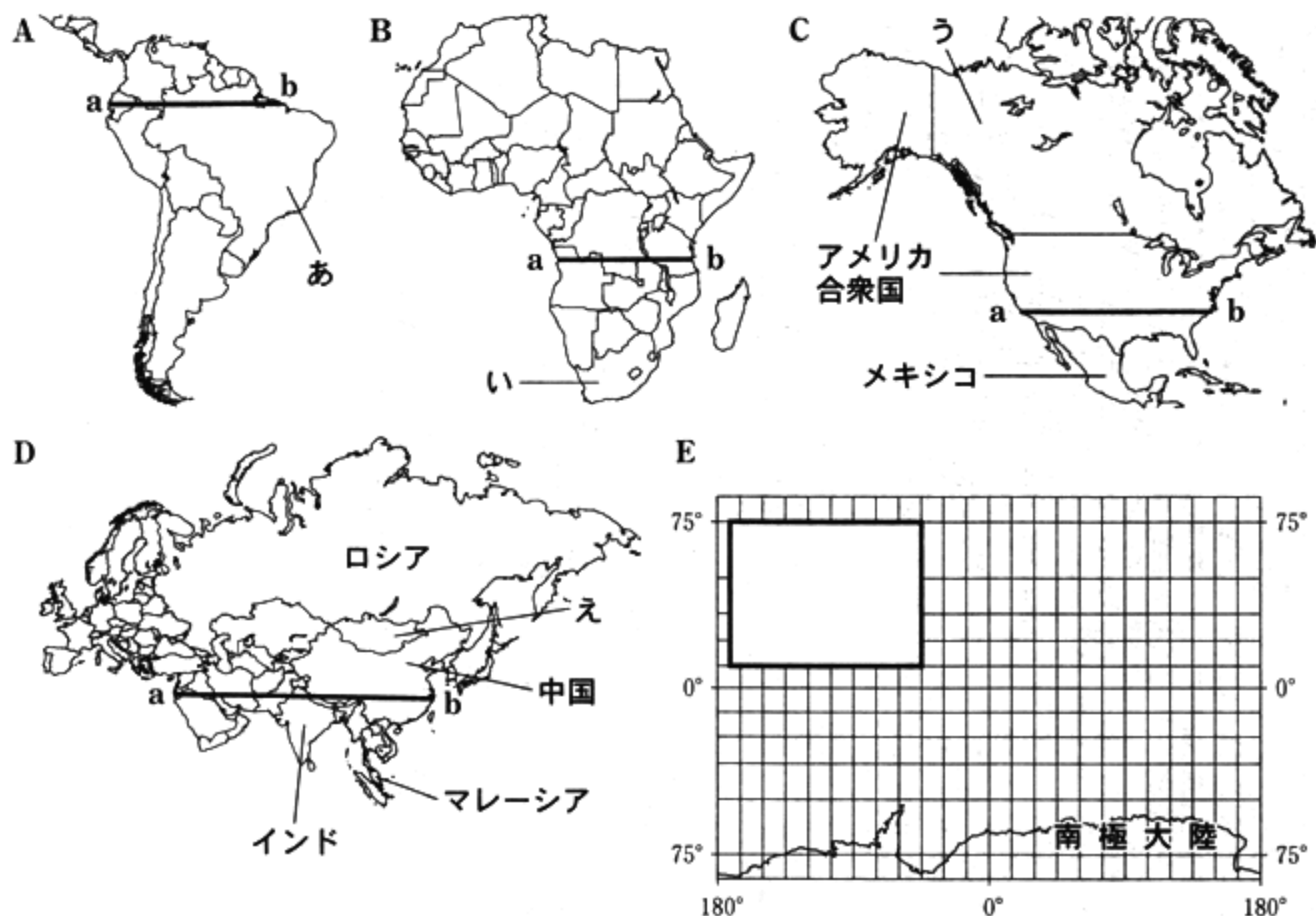
- ア 聖池は宮池より、標高が高いところにある。  
 イ まるがめ駅から見た聖池は、ほぼ東南東の方向にある。  
 ウ 丸亀城跡にある三角点を中心とした半径 0.75 km の範囲内に高等学校が二つある。  
 エ 地形図中で、標高が最も高いところは、標高 100 m 以上ある。

- ② 上の地形図中には、ため池がいくつか見られる。次の文は、ため池がつくられた理由を述べたものである。文中の  にあてはまる適当なことばを「降水量」「農業用水」及び上の地形図から読み取ったため池周辺の土地利用を示す語の三つの語を用いて 30 字以内(読点を含む。)で書きなさい。

この地域では、大きな河川がなく、また、年間を通じて  ため、ため池がつけられた。





3 次のA～Dの図は、世界の四つの大陸の主要部分とその周辺の島々の一部をそれぞれ示したもので、Eの図は、世界地図の経線、緯線及び南極大陸の一部を示したものです。これらの図を見て、あとの(1)～(5)の問いに答えなさい。



(注)・A～Eは、それぞれ縮尺が異なる。

・島等は省略したものもある。また、国境に一部未確定部分がある。

- (1) 上のA～Dの図のうち、Eの図中の  に位置するものはどれか。最も適当なものを一つ選び、その符号を書きなさい。
- (2) 世界を六つの州に区分したとき、Dの図中のロシアはどの州に属するか。その州名をすべて書きなさい。
- (3) 右の模式図は、A～Dの図のa—bで示したいずれかの土地の起伏を表したものである。A～Dの図のうち、このような起伏が見られるものはどれか。最も適当なものを一つ選び、その符号を書きなさい。ただし、模式図及びA～Dの図のa—bの長さはそれぞれ異なる。
- (4) 右の写真は、遊牧民の生活の様子の一部を示したものである。A～Dの図中のあ～えの国のうち、このような様子が見られる国はどれか。最も適当なものを一つ選び、その符号を書きなさい。



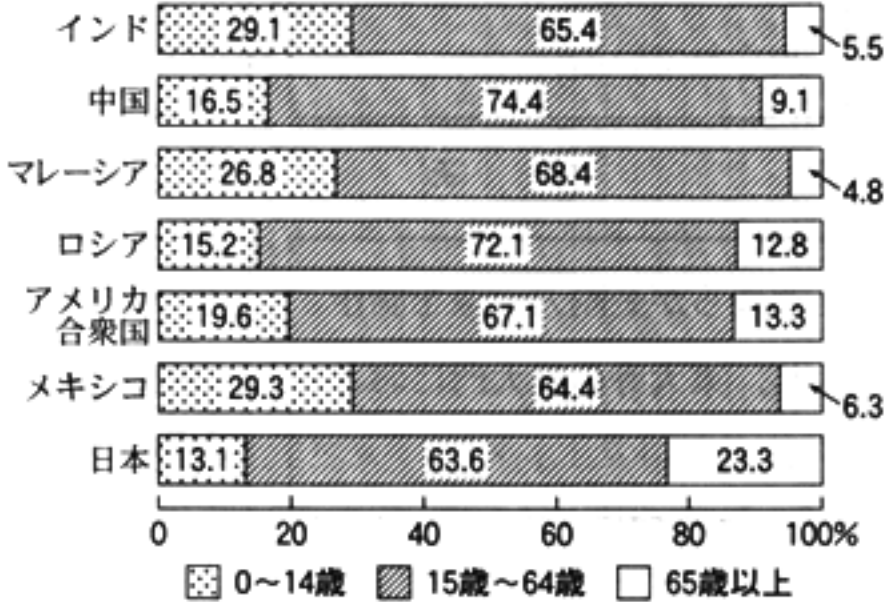
(5) 次の資料1～資料3は、はるこさんが前のページの図中のインド、中国、マレーシア、ロシア、アメリカ合衆国、メキシコ及び日本の七つの国の人口、年齢3階級別人口構成の割合及び産業別就業人口の割合について調べてまとめたものである。これらの資料から読み取れることとして最も適当なものを、あとのア～エのうちから一つ選び、その符号を書きなさい。なお、資料3については、〈資料3の読み方〉を参考にすること。

資料1 人口(百万人)

	2009 年	2010 年	2011 年
インド	1,207.7	1,224.6	1,241.5
中 国	1,334.9	1,341.3	1,347.6
マレーシア	27.9	28.4	28.9
ロシア	143.1	143.0	142.8
アメリカ合衆国	307.7	310.4	313.1
メキシコ	112.0	113.4	114.8
日 本	128.0	128.1	127.8

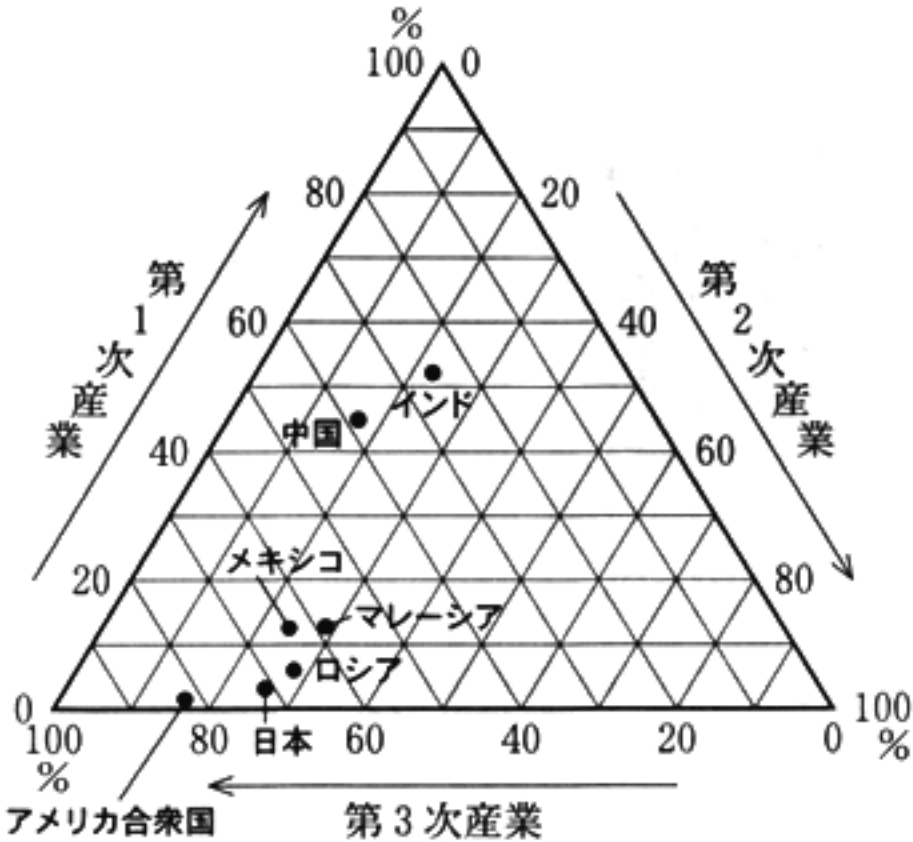
(「総務省ホームページ」より作成)

資料2 年齢3階級別人口構成の割合(%)



(注)・ロシア、メキシコは2010年のデータ、それ以外の国は2011年のデータである。  
・四捨五入の関係で合計しても100%にならない場合がある。  
(「世界国勢図会 2013/14」などより作成)

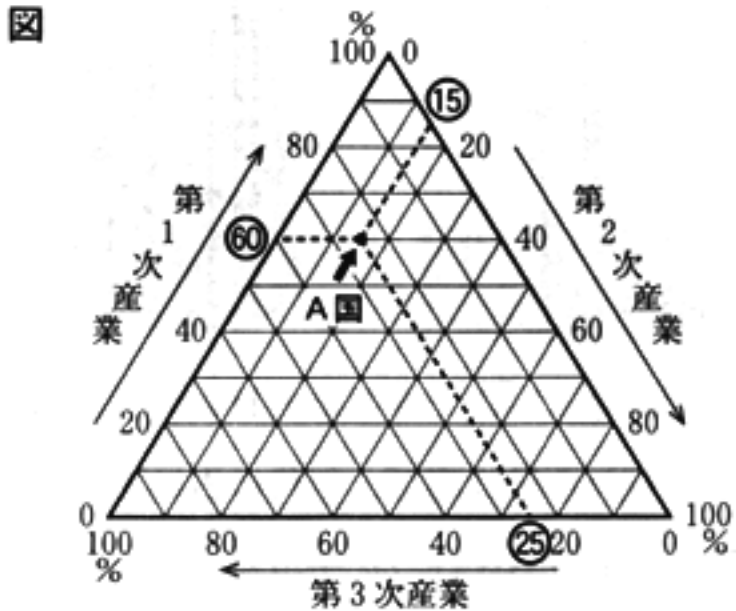
資料3 産業別就業人口の割合(%)



(注) 中国は2002年、インドは2010年、それ以外の国は2012年のデータである。  
(「世界国勢図会 2013/14」より作成)

〈資料3の読み方〉

図中の点は、A国の産業別就業人口の割合が、第1次産業60%、第2次産業15%、第3次産業25%であることを示している。



- ア 2009年から2011年までの人口の推移を見ると、七つの国のうち、人口が年々減少しているのはロシア及びメキシコである。
- イ 日本は、七つの国のうち、65歳以上の人口の割合が最も高く、2011年の日本の65歳以上の人口は、2011年のマレーシアの15歳～64歳の人口より少ない。
- ウ インドと中国の産業別就業人口の割合を見ると、第1次産業及び第2次産業に従事している人口の割合はインドの方が高く、第3次産業に従事している人口の割合はインドの方が低い。
- エ アメリカ合衆国は、七つの国のうち、第1次産業に従事している人口の割合が最も低く、第2次産業及び第3次産業に従事している人口の割合が最も高い。

4 次のA～Fのカードは、さとるさんが文化に関連する歴史的なことがらをまとめ、年代の古いものから順に並べたものです。これらのカードを読み、あとの(1)～(5)の問いに答えなさい。

A

B

C

さんないまるやま

三内丸山遺跡には、6本柱の大型の建物があつたと考えられている。

東大寺は、国家を守る中心的な寺院として、聖武天皇によって建てられた。

きんぱく

建物の内外が金箔におおわれた中尊寺金色堂が  に建てられた。

D

E

F

運慶らが金剛力士像を制作し、東大寺の南大門におさめた。

足利義政の意向により、京都の東山に銀閣が建てられた。

大阪の町人である井原西鶴は、人々の生活や感情を  浮世草子にあらわした。

- (1) Aのカードに関連して、三内丸山遺跡は今から約5500年前～約4000年前の集落跡である。この集落跡から発見されたものとして最も適当なものを、次のア～エのうちから一つ選び、その符号を書きなさい。

ア 埴輪

イ 銅鐸

ウ 縄文土器

エ 金印(漢委奴国王)



- (2) BのカードのできごととDのカードのできごととの間の時期に起きたことがらを、次のア～エのうちから三つ選び、年代の古いものから順に並べ、その符号を書きなさい。

ア 日宋貿易を行った平清盛は、瀬戸内海航路の要所にある厳島神社を整備した。

イ 唐から帰国した最澄や空海により、天台宗や真言宗が広められた。

ウ 織田信長は仏教勢力との対立もあり、キリスト教を保護した。

エ 浄土信仰の流行もあり、藤原頼通が阿彌陀堂を建てた。

- (3) Cのカード中の  と、次の文章中の  に共通してあてはまる最も適当な地名を、あとのア～エのうちから一つ選び、その符号を書きなさい。

9世紀末から10世紀にかけて、武士の力が次第に認められるようになった。11世紀後半に奥州で起きた戦乱をきっかけに、 を根拠地として勢力を拡大した奥州藤原氏は、金や馬、北方の特産品などをもとに栄え、三代にわたり栄華を誇った。

ア 鎌倉                  イ 平泉                  ウ 堺                  エ 吉野

- (4) Eのカードに関連して、このころの様子を述べた文として最も適当なものを、次のア～エのうちから一つ選び、その符号を書きなさい。

ア コロンブスがアメリカ大陸近くの西インド諸島に到達した。

イ <sup>しょう</sup>尚氏によって<sup>りゅうきゅう</sup>琉球王国が建国された。

ウ フランスで革命が起こり人権宣言が出された。

エ <sup>シルラ</sup>新羅が<sup>しらぎ</sup>朝鮮半島を統一した。

- (5) Fのカードに関連して、次の文章は江戸と大阪についてまとめたものである。文章中の  にあてはまる適当なことばを、「天下」「諸藩」の二つの語を用いて、20字以内(読点を含む。)で書きなさい。

江戸は将軍のおひざもとと呼ばれ、諸藩が大名屋敷を置いた。それに対し、大阪は  を置いたこともあり、全国から年貢米や特産物が集まった。



5 次の略年表は、日本の外交に関するできごとをまとめたものです。この略年表を見て、あとの(1)～(5)の問いに答えなさい。

年代	主なできごと
1858	大老井伊直弼が中心となり、日米修好通商条約が結ばれた … A
1874	琉球島民が殺害されたことを理由に、台湾出兵が行われた
1894	陸奥宗光により領事裁判権の撤廃が実現した ……………
1931	南満州鉄道の爆破をきっかけとして、満州事変がはじまった … C
1951	アメリカなど 48 か国と平和条約を結び、主権を回復した ……………
1964	アジアで初めてのオリンピックが開催された … D

B

(1) 略年表中の A に関連して、次の文章は、開国後の貿易が日本経済に与えた影響をまとめたものの一部である。文章中の I、II にあてはまる語の組み合わせとして最も適当なものを、あとのア～エのうちから一つ選び、その符号を書きなさい。

外国から安価な I が輸入され、国内の生産地は打撃を受けた。日本からは II や茶が大量に輸出されたこともあり、国内では品不足となった。

- ア I：生 糸 II：綿織物

イ I：毛織物 II：武 器
- ウ I：武 器 II：毛織物

エ I：綿織物 II：生 糸

(2) 略年表中の下線部に関連して、この年、国内では民撰議院設立の建白書が出されている。次の文の   にあてはまることばに関連した資料として最も適当なものを、あとのア～エのうちから一つ選び、その符号を書きなさい。

自由民権運動は、1881 年、政府が   したことから政党の結成へとすすみ、板垣退助が自由党を、大隈重信が立憲改進黨を結成した。

ア

イ

ウ

エ

前に諸藩からの版籍奉還をききいれ、新たに知藩事を命じ、〈略〉そこで今、さらに藩をなくして県を置く。

今ここに明治二十三年を期して、議員を集めて国会を開き、それによって私の初志を達成したいと思う。

ロシア皇帝陛下の政府は、〈略〉日本政府に勧告するのは、リャオトン遼東半島を領有するりょうとうことを放棄すべきであること、である。

日本政府は、これ以上国際連盟と協力することはできないと判断し、〈略〉日本が国際連盟から脱退することを通告する。

- (3) 次のア～エの文は、略年表中のBの期間の日本の様子を述べたものである。それぞれのことがらを年代の古いものから順に並べ、その符号を書きなさい。

- ア アメリカの株価暴落をきっかけに発生した世界恐慌は、日本経済にも大きな打撃を与えた。
- イ 戦場となった欧州での品不足の影響もあり、日本は大戦景気と呼ばれる好景気をむかえた。
- ウ 天皇がラジオ放送で終戦を発表した時の日本は、食糧不足など経済的に深刻な状況だった。
- エ 鉄鋼の国産化を目指し、官営の八幡製鉄所が福岡県に設立された。

- (4) 略年表中のCに関連して、次の文章中の  にあてはまる人物の名前を書きなさい。

軍部中心の内閣をつくろうと考えた海軍将校らは、1932年に首相官邸を襲撃し、内閣総理大臣である  を暗殺した。このできごとは五・一五事件と呼ばれている。

- (5) 略年表中のDに関連して、このころの日本の様子を述べた文として最も適当なものを、次のア～エのうちから一つ選び、その符号を書きなさい。

- ア 東海道新幹線や首都高速道路が開通するなど、交通網が整備された。
- イ 株式や土地への投資が増え、バブル経済と呼ばれる経済状態が続いた。
- ウ 農地改革により、地主の土地が小作人に安く売り渡され、自作農が増えた。
- エ 朝鮮戦争の影響で、アメリカ軍の軍需品の需要が増え、景気が上向いた。

- 6 次の文章は、平成 25 年版消費者白書の一部を要約したものです。これを読み、あとの(1)～(3)の問いに答えなさい。

2012 年現在、消費者<sup>a</sup>が支出する消費額の総額は、国内総生産の約 6 割を占めています。消費者の消費活動は、我が国の社会経済全体に大きな影響を及ぼすことになります。したがって、経済の持続的な発展のためには、消費者が安心して消費活動を営める市場<sup>b</sup>を構築することが重要です。

また、家計におけるインターネットを利用した取引への支出額も増加しています。インターネット取引は、店舗<sup>c</sup>の営業時間を気にする必要がないことや、自宅で商品やサービスの価格や内容をじっくり比較できることなどから、急速に普及が進んでいるものと考えられます。

(「平成 25 年版消費者白書」より作成)

- (1) 下線部 a に関連して、次の文章中の  にあてはまる適当な語を漢字 2 字で書きなさい。

2004 年に消費者保護基本法が改正され、消費者基本法となりました。この消費者基本法は、「消費者の権利の尊重」と「消費者の  の支援」を基本理念とした、消費者政策の基本となる事項を定めた法律です。日本の消費者政策は、この法律にそって進められています。

(「消費者庁ホームページ」より作成)

- (2) 下線部 b に関連して、商品の生産や販売などが少数の大企業に集中した市場に関して述べた文章として最も適当なものを、次のア～エのうちから一つ選び、その符号を書きなさい。

ア この市場では、商品の価格は、需要量と供給量が一致した時の均衡価格となる傾向がある。そのため、生産に必要な資源が効率的にむだなく使われる。

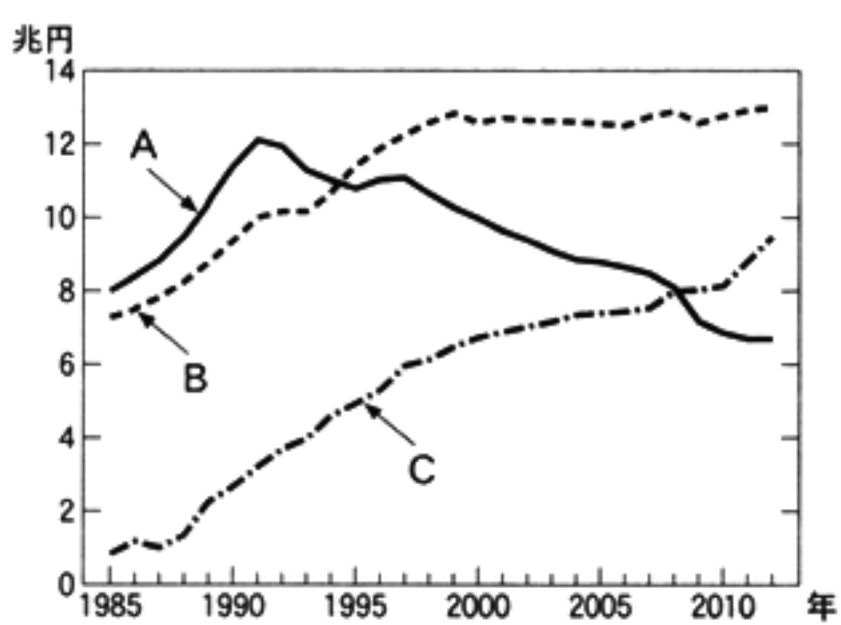
イ この市場では、電気や都市ガスの価格は、それらを提供する企業によって、政府の認可を得ることなく自由に決定される。そのため、電気や都市ガスの価格は変動が大きく、国民生活はその影響を受けることがある。

ウ この市場では、企業間の価格競争が激しくなる傾向がある。そのため、長期的なデフレーションになるが、企業の利益は大幅に増加し、雇用も増加する。

エ この市場では、企業間の価格競争が弱まる傾向がある。そのため、企業が足なみをそろえて、商品の価格を高い方へ誘導したり、生産量を調整したりすることがある。

(3) 下線部 c に関連して、次の資料 1～資料 3 は、大型スーパー、コンビニエンスストア、百貨店に関するものであり、資料 4 は、これらの資料から読み取ったことをまとめたものの一部である。また、資料 1 及び資料 2 中の A～C はそれぞれ大型スーパー、コンビニエンスストア、百貨店のいずれかをあらわしている。A～C にあてはまるものを、あとのア～ウのうちからそれぞれ一つずつ選び、その符号を書きなさい。なお、資料 1 及び資料 2 の A～C はそれぞれ同じものをあらわしている。

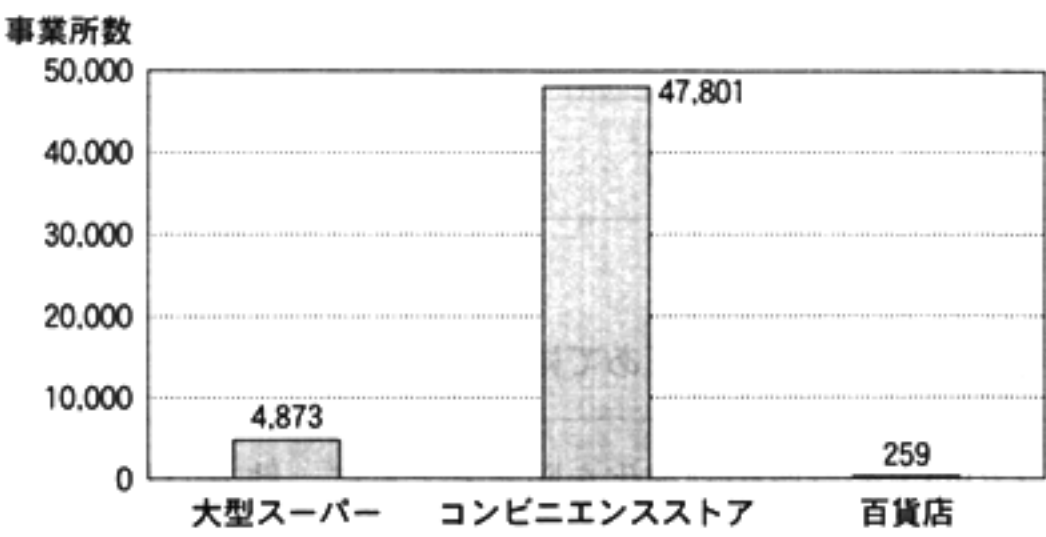
資料 1 大型スーパー、コンビニエンスストア、百貨店の年間商品販売額の推移



資料 2 大型スーパー、コンビニエンスストア、百貨店の年間商品販売額 (2012 年)

	年間商品販売額 (億円)
A	66,389
B	129,527
C	94,772

資料 3 大型スーパー、コンビニエンスストア、百貨店の事業所数 (2012 年)



(資料 1～資料 3 は「日本国勢図会 2013/14」より作成)

資料 4 資料 1～資料 3 から読み取ったことをまとめたものの一部

年間商品販売額が 1985 年より 2012 年の方が増加しているのは、大型スーパーとコンビニエンスストアです。2012 年の事業所数が一番多いのはコンビニエンスストアで、一番少ないのは百貨店です。コンビニエンスストアの事業所数は、大型スーパーの約 10 倍になっています。2012 年の大型スーパーの事業所 1 か所あたりの年間商品販売額は 26 億円を超えており、コンビニエンスストアの事業所 1 か所あたりの年間商品販売額と比べると 13 倍以上になっています。

- ア 大型スーパー
- イ コンビニエンスストア
- ウ 百貨店



7 次の文章は、たかしさんが「立憲主義と憲法について」というテーマで調べ学習を行い、その内容をまとめたレポートの一部です。これを読み、あとの(1)～(3)の問いに答えなさい。

人権の保障を宣言し、権力の分立を原則とする政治の仕組みを定めた憲法を、立憲主義の憲法といいます。日本国憲法は立憲主義の憲法で、自由権や<sup>a</sup>社会権などの人権保障や、国家権力を国会、<sup>b</sup>内閣、裁判所に分ける三権分立などが規定されています。国会、内閣、裁判所は、互いに抑制し合い均衡を保つ関係にあります。また、<sup>c</sup>地方公共団体でも首長と議会が互いに抑制し合い均衡を保つ関係にあります。

(1) 下線部 a に関連して、日本国憲法で保障されている社会権に関することがらを述べた文として最も適当なものを、次のア～エのうちから一つ選び、その符号を書きなさい。

- ア 現行犯の場合を除き、裁判官の発する令状がなければ逮捕されない。
- イ 国民には、その能力に応じて、等しく教育を受ける権利が保障されている。
- ウ 居住や移転、職業選択の自由や財産権が保障されている。
- エ 個人の私生活などは、その個人の意思に反して公開されない。

(2) 下線部 b に関連して、次の文は、内閣総理大臣の決まり方について説明したものである。文中の  にあてはまる適当なことばを、「国会議員」「国会」「天皇」の三つの語を用いて 35 字以内(読点を含む。)で書きなさい。

内閣総理大臣は  される。

(3) 下線部 c に関連して、次の文章中の  に共通してあてはまる語を書きなさい。

政府は、住民に対する行政サービスの向上や行政の効率化を図るとともに、地方公共団体が自らの発想で特色を持った地域づくりができ、その地域に合った行政を行うことができるよう、国から地方公共団体に仕事や財源を移す  を進めています。平成 25 年 6 月には、 を進める上で必要な法律の改正などを定めた「地域の自主性及び自立性を高めるための改革の推進を図るための関係法律の整備に関する法律」が成立しました。

(「平成 25 年版地方財政白書」などより作成)

8 次の文を読み、あとの(1)、(2)の問いに答えなさい。

貿易の自由化が各国の国内市場に大きな影響を与えることから、相互に共通の利害関係をもつ国々の間で地域的な経済協力をはかる動きが見られます。

(1) 下線部 <sup>a</sup> に関連して、次の文章中の  に共通してあてはまる最も適当な語を書きなさい。

日本は、世界の国々との間でEPA 及び  の交渉を積極的に推進しています。

は、特定の国や地域の間で、物品の関税やサービスの貿易における障壁等を削減・撤廃することを目的とした協定です。

日本は、2012 年 12 月の時点で 13 の国や地域との間でこれらの協定を締結しています。

(「外務省ホームページ」などより作成)

(2) 下線部 <sup>b</sup> に関連して、次の資料 1～資料 4 から読み取れることとして最も適当なものを、あとのア～エのうちから一つ選び、その符号を書きなさい。

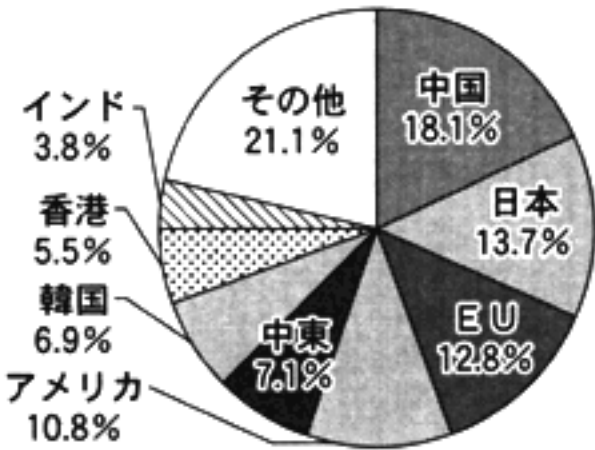
資料 1 ASEAN, EU, 日本の面積、人口及び GDP (2011 年)

	面積 (千 km <sup>2</sup> )	人口 (百万人)	GDP (億ドル)
ASEAN	4,487	603	22,054
EU	4,324	503	175,906
日本	378	127	58,704

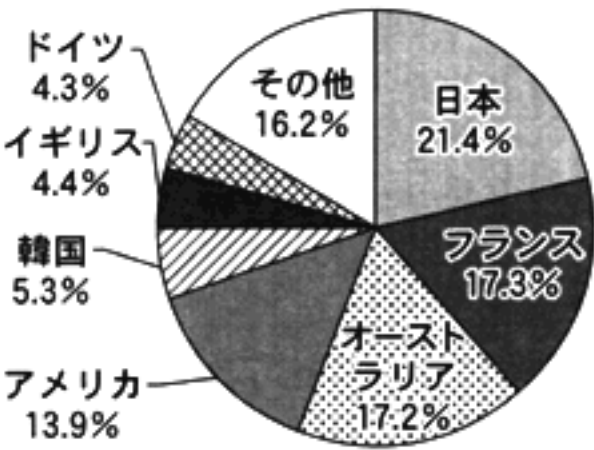
資料 2 ASEAN, EU の地域内の貿易額、地域外との貿易額及び貿易総額 (2012 年) (億ドル)

	地域内の貿易額	地域外との貿易額	貿易総額
ASEAN	6,137	18,869	25,006
EU	76,494	41,636	118,130

資料 3 ASEAN の貿易相手国、地域別貿易額の割合 (2011 年)



資料 4 ASEAN に ODA を供与している国とその供与額の割合 (2010 年)



(注) 四捨五入の関係で、合計しても 100% にならない場合がある。  
(資料 1 は「世界国勢図会 2013/14」、資料 2、資料 3 は「外交青書 2013」、資料 4 は「外交青書 2012」より作成)

- ア ASEAN と EU では、面積、人口ともに ASEAN の方が上回っており、GDP は EU の方が上回っている。地域外との貿易額は EU の方が多く、ASEAN の 3 倍以上になっている。
- イ ASEAN の人口は日本を上回っており、GDP は日本を下回っている。日本の ASEAN への ODA の供与額の割合は一番高く、フランス、イギリス、ドイツの割合の合計より高い。
- ウ ASEAN と EU では、EU の方が貿易総額に対する地域内の貿易額の割合が高く、ASEAN の方が貿易総額に対する地域外との貿易額の割合が高い。ASEAN の貿易相手国、地域別貿易額の割合は日本の方が EU より高い。
- エ ASEAN への ODA の供与額の割合は、日本とアメリカの割合を合計すると、全体の 3 分の 1 以上を占めている。また、ASEAN の貿易相手国、地域別貿易額の割合も、日本とアメリカの割合を合計すると、全体の 3 分の 1 以上を占めている。

[illegible]

問題 番号		正 解						配 点 及 び 注 意		計				
5	(1)	エ						3		15				
	(2)	イ						3						
	(3)	年代の古い順	1	2	3	4	3	・全部できた場合、点を与える。						
		符 号	エ	イ	ア	ウ								
	(4)	犬養毅						3	・ひらがなでもよい。					
	(5)	ア						3						
6	(1)	自立						3	・漢字2字	9				
	(2)	エ						3						
	(3)	A	ウ	B	ア	C	イ	3	・全部できた場合、点を与える。					
7	(1)	イ						3		10				
	(2)	国	会	議	員	の	中	か	ら		国	会	4	・正解文の趣旨にそって いれればよい。 ・部分点を与えてもよい。
		の	議	決	で	指	名	さ	れ		,	こ		
		の	指	名	に	基	づ	い	て		天	皇		
に	任	命												
(3)	地方分権						3	・ひらがなでもよい。						
8	(1)	FTA						3	・自由貿易協定でもよい。	6				
	(2)	ウ						3						
合 計										100				