

1 次の文章を読み、あとの(1)~(4)の問いに答えなさい。

千葉県は観光に力を入れています。2013(平成25)年に「富士山—信仰の対象と芸術の源泉」が世界文化遺産に登録されたことを記念して、千葉県でも富士山に関するさまざまなイベントを開催しました。千葉県は豊かな自然に恵まれているので、東京や横浜などの大都市から、イチゴ狩りや花つみ、潮干狩りなどを楽しむ観光客が、日帰りや宿泊をとまなう旅行で訪れています。

(1) 下線部 a に関連して、次の文章中の  にあてはまる機関の略称として最も適当なものを、あとのア~エのうちから一つ選び、その符号を書きなさい。

文化や教育の振興に取り組む、国際連合の専門機関である  の1972年の総会で、「世界の文化遺産及び自然遺産の保護に関する条約」が採択された。この条約に基づいて設置された世界遺産委員会で、「世界遺産リスト」への登録が決定される。

- ア UNICEF
- イ WHO
- ウ ILO
- エ UNESCO

(2) 下線部 b に関連して、右の風景画は、日本各地から望む富士山の景観を描いた『富嶽三十六景』の一つで、江戸時代の登戸浦(現在の千葉市内)の様子を描いたものである。この風景画を描いた人物として最も適当なものを、次のア~エのうちから一つ選び、その符号を書きなさい。



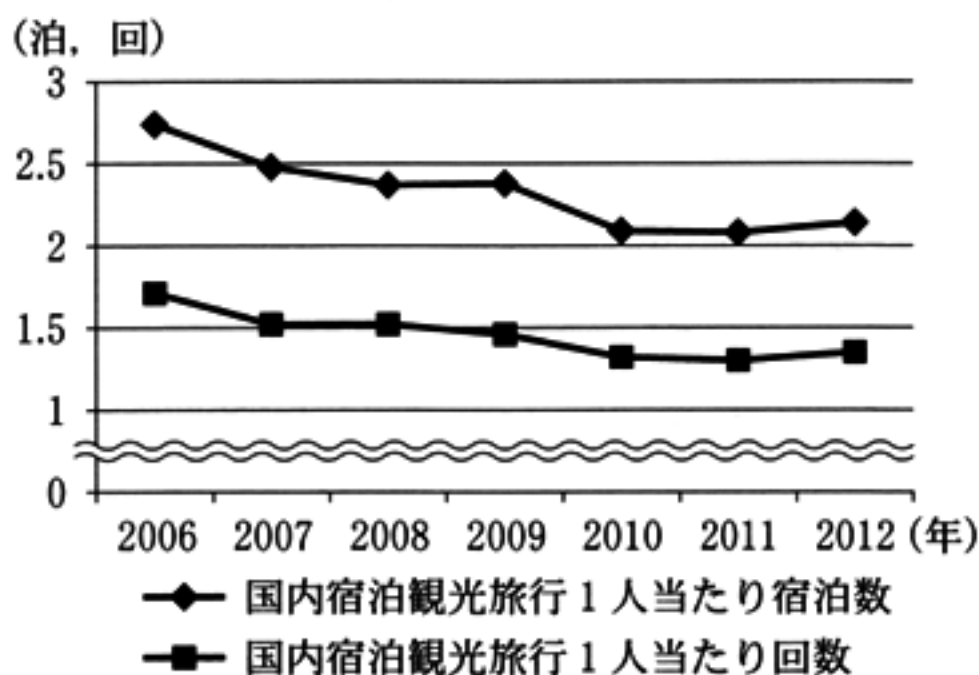
- ア 葛飾北斎
- イ 喜多川歌麿
- ウ 雪舟
- エ 東洲斎写楽

(3) 下線部 c に関連して、次の文章中の  にあてはまる適当な語をカタカナで書きなさい。

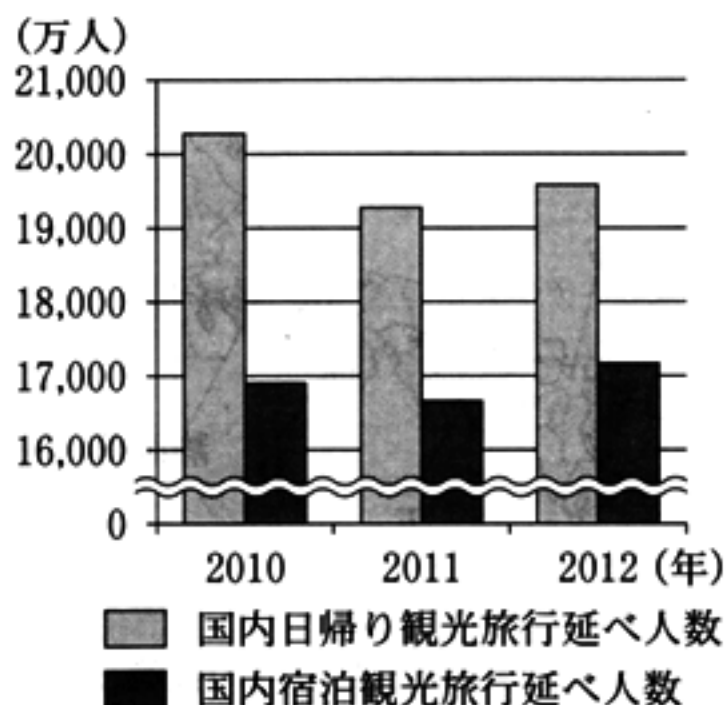
大都市では、地表面がアスファルトやコンクリートなどの人工物に覆われたり、自動車やエアコンから排出される熱が増えたりしている。このような都市化の進展により都市部の気温が周辺部よりも高くなる  現象がみられる。

(4) 下線部 d に関連して、次の資料 1～資料 4 は、日本人の旅行に関するものである。これらの資料から読み取れることとして最も適当なものを、あとのア～エのうちから一つ選び、その符号を書きなさい。

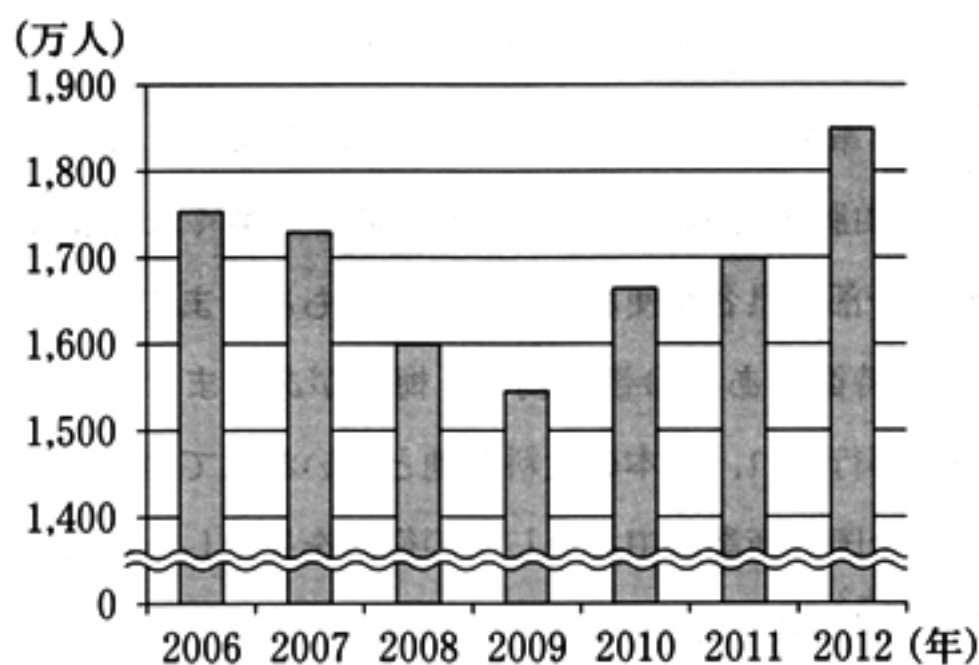
資料 1 国内宿泊観光旅行の回数及び宿泊数の推移



資料 2 国内観光旅行延べ人数 (日帰り・宿泊)の推移



資料 3 日本人の海外旅行者数の推移



資料 4 日本人旅行者の 1 人 1 回当たり旅行消費額

		2010 年	2011 年	2012 年
国内旅行	宿泊	48,412	47,149	47,444
	日帰り	16,122	16,567	14,972
海外旅行		246,457	249,522	242,340

(円)

(注) 資料 4 の海外旅行については、国内での消費額その他、旅行中の海外での消費額を含む。

(資料 1～資料 4 は、観光庁「観光白書(平成 26 年版)」より作成)

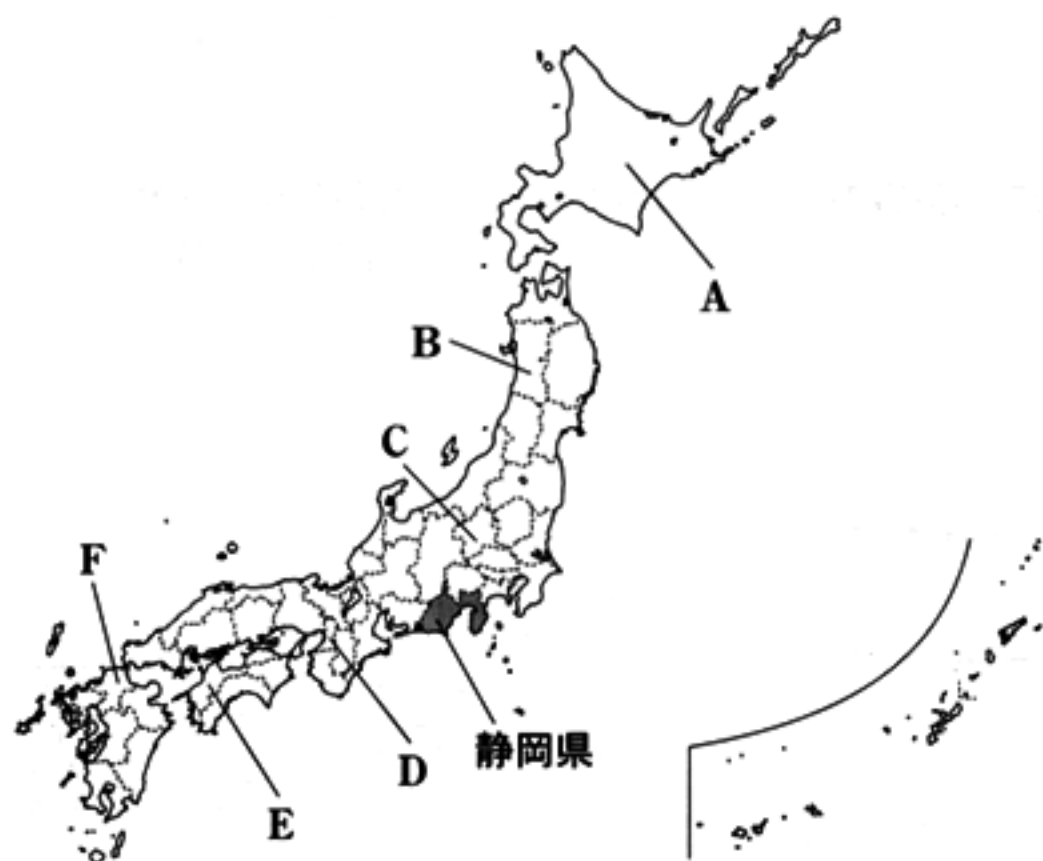
ア 2012 年の国内宿泊観光旅行 1 人当たり回数は 2006 年のものよりも減少しており、2012 年の日本人の海外旅行者数は、同じ年の国内宿泊観光旅行延べ人数の 10 分の 1 以下である。

イ 日本人の海外旅行者数は 2010 年から 2012 年にかけて毎年増加しており、同じ期間の日本人旅行者の海外旅行における 1 人 1 回当たり旅行消費額も毎年増加している。

ウ 2012 年の国内日帰り観光旅行延べ人数は前年よりも増加しているが、同じ年の日本人旅行者の国内日帰り旅行における 1 人 1 回当たり旅行消費額は前年よりも減少している。

エ 2012 年の国内観光旅行延べ人数は日帰り・宿泊ともに前年よりも増加しており、2012 年の日帰り観光旅行延べ人数と宿泊観光旅行延べ人数の合計は 3 億 8 千万人を超えている。

2 次の図を見て、あとの(1)~(3)の問いに答えなさい。



(1) 図中のA~Fの道府県のうち、道府県名と道府県庁所在地名とが異なるものはどれか。適当なものをすべて選び、その符号を書きなさい。

(2) 次の文章は、社会科の授業で、班ごとに、図中のA~Fの道府県から異なる道府県を一つ選び、その特色をまとめたものである。それぞれの文章を読み、あとの①、②の問いに答えなさい。

- 1班： 明治時代に日本初の官営製鉄所が建設され、鉄鋼業が発達しました。1960年代以降は石炭から石油への  革命が起こり、工業生産の内訳は変化しました。
- 2班： 六つの県にまたがり南北に走る山脈の西側に位置し、冬は降雪が多くなります。稲作が盛んで、米の銘柄(品種)の一部に県名が使われているものもあります。
- 3班： 短い夏と長く寒さの厳しい冬が特徴である冷帯に属し、梅雨がありません。広大な土地を生かした大規模な農牧業が行われ、日本の食料基地ともいわれています。
- 4班： 江戸時代に「天下の台所」として全国の商業の中心としての役割を果たした都市があります。年間商品販売額における卸売業おろしうりの割合が高いのが特徴です。

① 1班がまとめた文章中の  にあてはまる適当な語をカタカナで書きなさい。

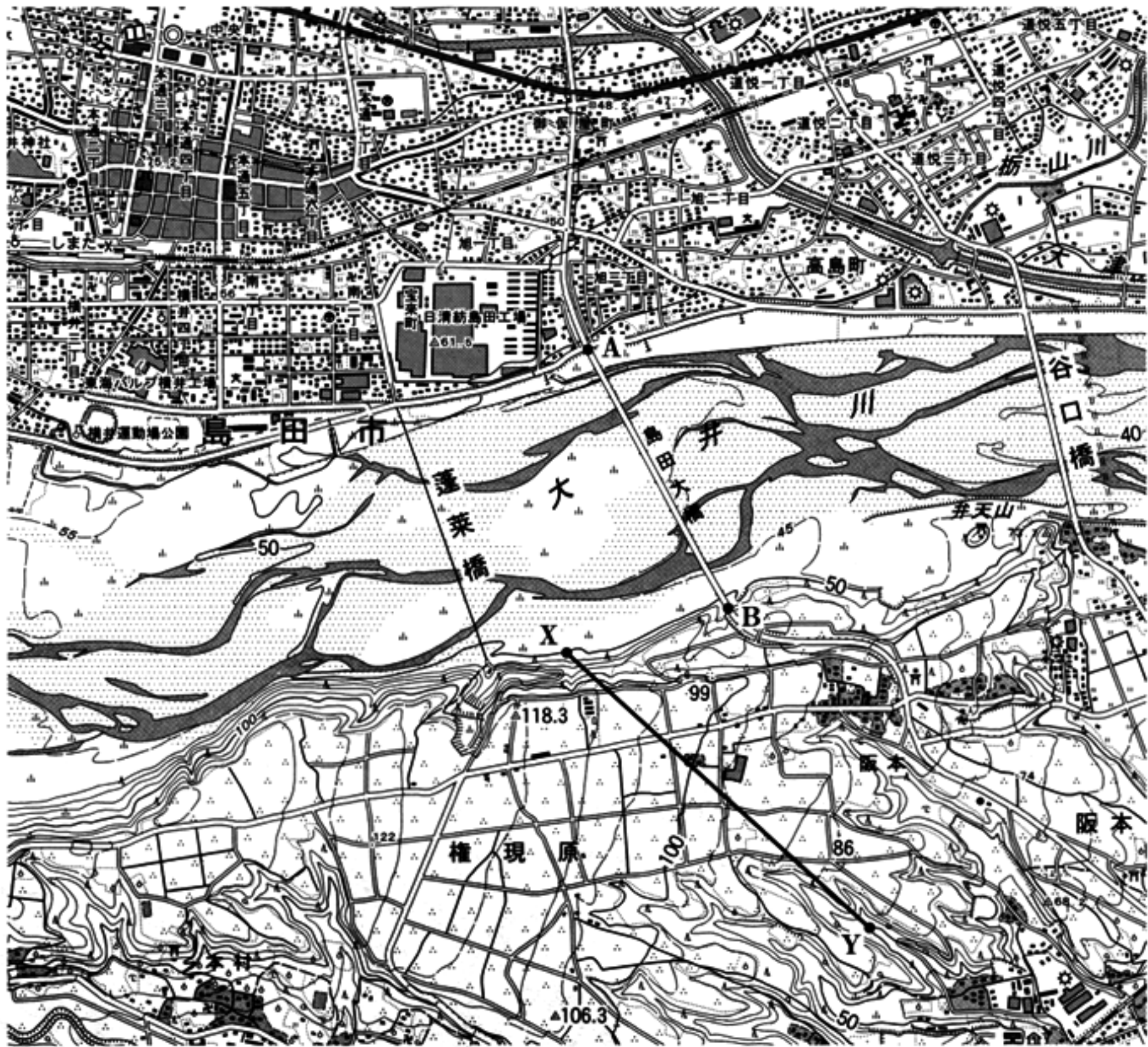
② 次の表は、四つの班が調べた道府県の人口、人口密度、製造品出荷額等及び農業産出額をまとめたものである。表中のア~エのうち、2班が調べた道府県のものはいずれか。最も適当なものを一つ選び、その符号を書きなさい。

表 四つの班が調べた道府県の人口、人口密度、製造品出荷額等及び農業産出額

	人口 (2013年) (千人)	人口密度 (2013年) (人/km <sup>2</sup> )	製造品出荷額等 (2011年) (億円)	農業産出額(2011年)			
				総額 (億円)	農業産出額に占める割合(%)		
				米	野菜	畜産	
ア	8,849	4,654	167,419	341	22.3	46.3	6.5
イ	5,431	69	61,367	10,137	12.7	18.8	51.5
ウ	5,090	1,022	81,776	2,177	20.4	34.1	17.5
エ	1,050	90	12,232	1,732	61.3	14.3	17.1

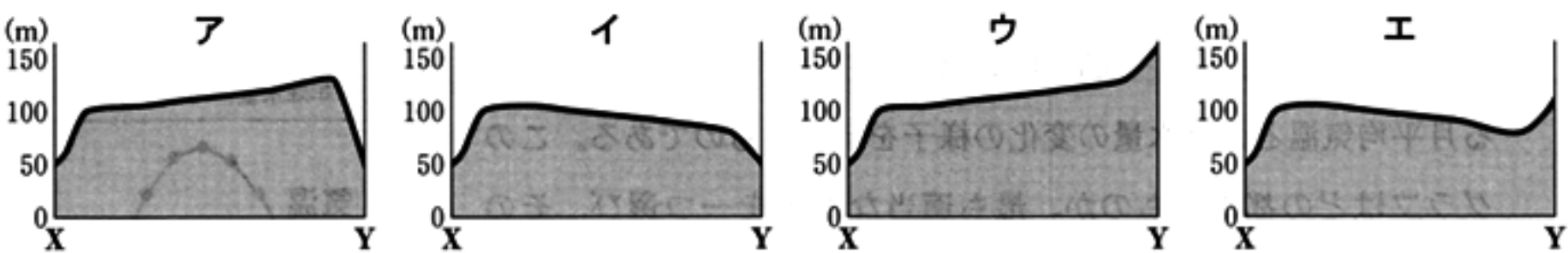
(「データでみる県勢2014」などより作成)

(3) 次の地形図は、前のページの図に示した静岡県のある地域を示したものである。これを見て、あとの①、②の問いに答えなさい。



(国土地理院 平成 21 年発行 1 : 25,000「島田」原図より作成)

① 地形図中の X—Y 間の土地の起伏を表しているものはどれか。次のア～エのうちから最も適当なものを一つ選び、その符号を書きなさい。



② 上の地形図を正しく読み取ったことがらはどれか。次のア～エのうちから最も適当なものを一つ選び、その符号を書きなさい。

- ア 「蓬萊橋」は、「谷口橋」より下流にある。
- イ 図書館は、「しまだ」駅から見るとほぼ南の方向にある。
- ウ 「権現原」一帯の土地は、主に茶畑に利用されている。
- エ A 地点と B 地点との直線距離は、約 750 m である。

3 次の図1～図3を見て、あとの(1)～(4)の問いに答えなさい。

図1



図2



図3



(注)・図1～図3は、それぞれ縮尺が異なる。

・島等は省略したものもある。

(1) 図1～図3中のA～Dは、それぞれあ～えの国の首都の位置を示したものである。次の①、②の問いに答えなさい。

① A～Dの首都の位置を緯度と経度を用いて表すとき、「南緯」と「東経」の語が使われるものはどれか。最も適当なものを一つ選び、その符号を書きなさい。

② 右の2枚の写真は、高地に暮らす人々の生活の様子の一部を示したものである。あ～えの国のうち、これらの様子が見られる国はどれか。最も適当なものを一つ選び、その符号を書きなさい。

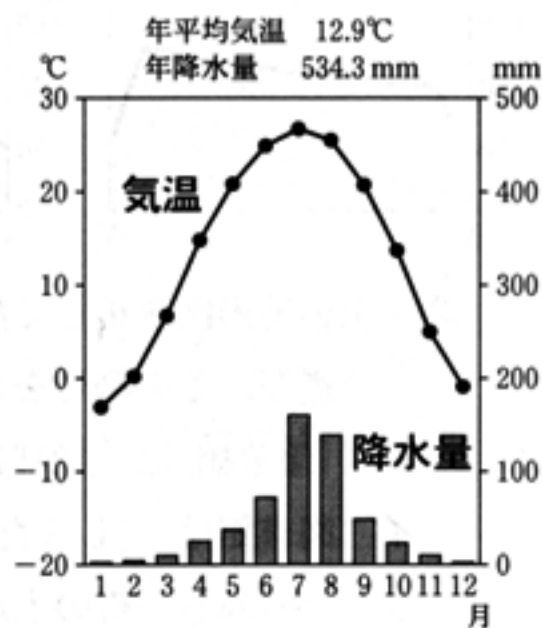


じゃがいもの栽培




飼われている家畜

(2) 右のグラフは、図1～図3中のW～Zのいずれかの都市における月平均気温と月降水量の変化の様子を示したものである。このグラフはどの都市のものか。最も適当なものを一つ選び、その符号を書きなさい。



([理科年表平成26年]より作成)

- (3) 次の文は、図1中の  で示した地域について説明したものである。文中の  にあてはまる適当な語をカタカナ3字で書きなさい。

サハラ砂漠の南側に位置するこの地域は、 とよばれ、砂漠化が進行している。

- (4) 次の資料1は、前のページの図3中のシンガポール、フィリピン、ベトナム及びマレーシアの人口、GDP及び貿易額を示したものである。資料2は、これらの国々の貿易相手の上位国・地域及び貿易額を示したものである。資料1及び資料2から読み取れることとして最も適当なものを、あとのア～エのうちから一つ選び、その符号を書きなさい。

資料1 シンガポール、フィリピン、ベトナム及びマレーシアの人口、GDP及び貿易額(2012年)

	人口 (千人)	GDP (百万ドル)	貿易額	
			輸出総額 (百万ドル)	輸入総額 (百万ドル)
シンガポール	5,303	276,520	408,393	379,723
フィリピン	96,707	250,182	52,071	65,845
ベトナム	90,796	155,820	115,458	115,101
マレーシア	29,240	304,726	227,538	196,393

資料2 シンガポール、フィリピン、ベトナム及びマレーシアの貿易相手の上位国・地域及び貿易額(百万ドル)(2012年)

		シンガポール		フィリピン		ベトナム		マレーシア	
輸出	1位	マレーシア	50,432	日本	9,881	アメリカ合衆国	19,668	シンガポール	30,944
	2位	香港	44,775	アメリカ合衆国	7,406	日本	13,060	中国	28,767
	3位	中国	44,071	中国	6,159	中国	12,388	日本	26,879
輸入	1位	マレーシア	40,418	アメリカ合衆国	7,121	中国	28,786	中国	29,763
	2位	中国	39,192	中国	6,663	韓国	15,536	シンガポール	26,081
	3位	アメリカ合衆国	38,818	日本	6,446	日本	11,603	日本	20,218

(資料1、資料2は「世界国勢図会 2014/15」より作成)

- ア マレーシアの貿易相手の上位国・地域は、輸出入ともにアジア州に属する同じ三つの国であり、これらの国々の中で輸出入を合わせた貿易額が最も多い国は日本である。
- イ フィリピンは、四つの国の中で輸出総額と輸入総額がともに最も少ないが、最大の輸出相手国である日本への輸出額はフィリピンの輸出総額の3割以上を占めている。
- ウ ベトナムの貿易額は、輸出総額と輸入総額の差が四つの国の中で最も少なく、輸入総額が輸出総額を上回る貿易赤字となっている。
- エ シンガポールは、四つの国の中で人口が最も少ないが、1人あたりのGDPは最大の貿易相手国であるマレーシアを上回っている。

4 次のA～Eのカードは、まなぶさんのクラスで、班ごとに「身近な地域の歴史」について調査した結果を整理したものである。これらのカードを読み、あとの(1)～(5)の問いに答えなさい。

A

古墳を見学しました。この古墳は、5～6世紀につくられた前方後円墳で、<sup>はにわ すえき</sup>埴輪や須恵器などが多数出土していました。

B

寺院を見学しました。この寺院は、空海が中国から伝えた仏教の教えにゆかりがあり、<sup>ふどうみょうおう</sup>不動明王などの仏像を見ることができました。

C

神社で祭りの説明を聞きました。この神社の祭りは、室町時代に始まり、有力な農民を中心にいくつかの村が共同して行っていました。

D

博物館を見学しました。この博物館には、豊臣秀吉が行った<sup>けんち</sup>検地で作られた、田畑の面積や収穫高などをあらわす検地帳が展示されていました。

E

図書館で<sup>しんでん</sup>「新田」がつく地名の由来を調べました。この地名は、17世紀後半から18世紀前半にかけて行われた新田開発によって名づけられていました。

(1) Aのカード中の下線部 a に関連して、このころの日本の様子について述べた文として最も適当なものを、次のア～エのうちから一つ選び、その符号を書きなさい。

ア かな文字が文学にも用いられるようになり、<sup>きのつらゆき</sup>紀貫之などが<sup>こきんわ かしゅう</sup>「古今和歌集」をまとめた。

イ <sup>とらいじん</sup>渡来人によって大陸のすぐれた技術や、仏教・儒教などが伝えられた。

ウ 神話や伝承などをまとめた歴史書の「古事記」と「日本書紀」が作られた。

エ 大陸から金属器が伝わり、<sup>どうたく</sup>銅鐸などの青銅器が祭りの道具として使われ始めた。

(2) Bのカード中の下線部 b に関連して、次のア～エの文は、日本と中国との交流について述べたものである。それぞれのできごとを年代の古いものから順に並べ、その符号を書きなさい。

ア 中国との貿易を重視した平清盛は、瀬戸内海の航路や兵庫の港を整備した。

イ 中国の商船は、鎖国の体制が固まった後も貿易のため長崎に来航した。

ウ 中国から<sup>わごう</sup>倭寇の取り締まりを求められた日本は、<sup>かんごう</sup>勘合を用いた貿易を始めた。

エ 中国から苦難を乗り越えて来日した<sup>がんじん</sup>鑑真は、中国の仏教の教えを広めた。

(3) Cのカード中の下線部 c に関連して、この時代の農村の様子を述べた文として最も適当なものを、次のア～エのうちから一つ選び、その符号を書きなさい。

ア 五人組制度により、農民は犯罪の防止や年貢の納入について連帯責任を負った。

イ 調や庸などの税や労役が課せられると、その負担の重さから逃亡する農民があらわれた。

ウ 農民たちは村ごとに自治的な組織をつくり、守護大名や荘園領主への抵抗を強めた。

エ 商人や地主の中には、工場をつくり農民を雇って分業で製品をつくる者があらわれた。

(4) Dのカード中の下線部 d に関連して、次の文章は、この人物が行った政策についてまとめたものである。あとの資料を読み取り、文章中の  にあてはまる適当なことばを、「武器」「一揆」「耕作」の三つの語を用いて 25 字以内(読点を含む。)で書きなさい。

豊臣秀吉は検地を実施して、検地帳に記載した農民に耕作の権利を保障し、石高に応じた年貢を納めさせた。また、農民から  ための命令を出した。一方で、武士を大名の城下町に集めるなど、武士と農民を区別する兵農分離を進めた。

#### 資料

一 諸国の百姓が、刀・脇差・弓・槍・鉄砲その他の武器を持つことを厳しく禁止する。不必要な武器を持っていると、年貢やその他の税をなかなか納入せず、ついには一揆を企てたりして、領主に反抗する者は、当然処罰される。…領主や代官の責任において武器を集め、差し出すようにせよ。

一 百姓は農具さえ持って耕作に励むならば、子孫末代まで永久の幸せを得られるものだ。

(「小早川家文書」より一部要約)

(5) Eのカード中の下線部 e に関連して、次の文章は、18世紀前半に新田開発を進めた人物について述べたものである。文章中の  にあてはまる人物として最も適当なものを、あとのア～エのうちから一つ選び、その符号を書きなさい。

財政の立て直しの必要から、 は新田開発に力を入れ、米の値段の安定に努めた。また、大名には、参勤交代で江戸に滞在する期間を半減するかわりに、幕府に米を納めさせた。

ア 徳川吉宗

イ 水野忠邦

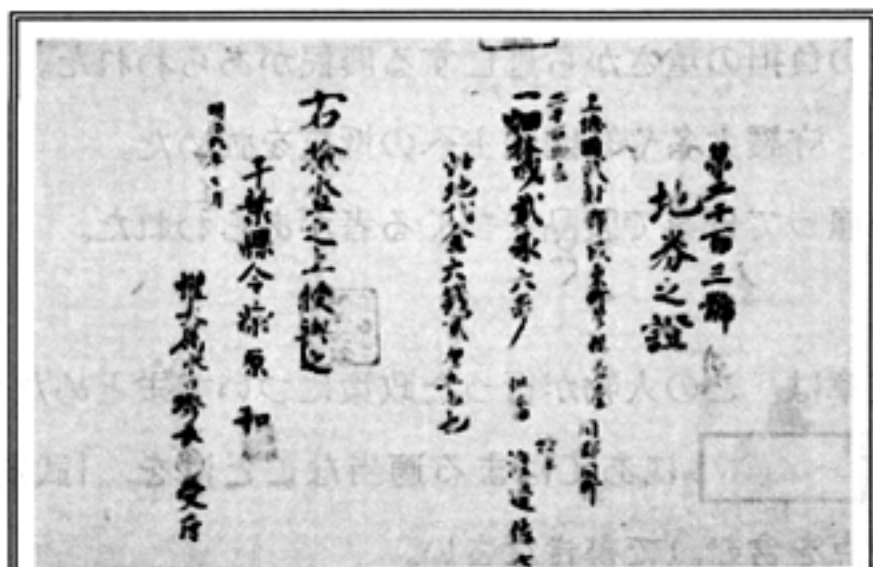
ウ 田沼意次

エ 松平定信



5 次のA～Dのパネルは、いずみさんが「千葉県の歴史」をテーマに作成したものである。これらを見て、あとの(1)～(5)の問いに答えなさい。

A



地券

1873年、千葉県誕生の年に発行された地券

a

B



佐倉におかれた陸軍の兵舎

1894年、佐倉第二連隊が日清戦争へ出兵

b

C




買い出し列車

1945年、千葉県内を走る列車の様子

c

D



千葉県で開催された「若潮国体」

1973年、開会式で入場する千葉県選手団

d

(1) Aのパネル中の下線部 a に関連して、次の文は、明治政府が行った地租改正について述べたものである。文中の 、 にあてはまる語の組み合わせとして最も適当なものを、あとのア～エのうちから一つ選び、その符号を書きなさい。

土地所有者に地券を発行して、 の3%を地租として で納めさせた。

ア I：地価 II：収穫物

イ I：石高 II：現金

ウ I：石高 II：収穫物

エ I：地価 II：現金

(2) BとCのパネルに関連して、次のア～エの文は、1894年から1945年までに起きたできごとを述べたものである。それぞれのできごとを年代の古いものから順に並べ、その符号を書きなさい。

ア 日独伊三国同盟が結成され、日本とドイツ、イタリアとの結束が強化された。

イ 国際協調と世界平和を守るための国際連盟が発足すると、日本は常任理事国になった。

ウ ロシアの南下に対抗するため、日本とイギリスは日英同盟を結んだ。

エ サラエボで起きた事件をきっかけに始まった戦争に、日本は連合国側に加わって参戦した。

- (3) Bのパネル中の下線部 b に関連して、次の文章中の  に共通してあてはまる適当な語を書きなさい。また、 にあてはまる内容として最も適当なものを、あとのア～エのうちから一つ選び、その符号を書きなさい。

日清戦争は日本の勝利に終わり、講和会議が  で開かれた。この会議の結果として結ばれた  条約では、 ことなどが決められた。

ア

清は朝鮮の独立を認めて、日本に台湾・遼東半島・澎湖諸島を譲り、多額の賠償金を支払う

イ

日本はドイツが持っていた中国山東省の権益を継承し、旅順・大連の租借期限を延長する

ウ

日本はロシアに樺太の領有を認め、かわりに、千島列島のすべてを日本領にして、ロシアとの国境を定める

エ

ロシアは韓国における日本の優越権を認めて、南満州の鉄道利権と樺太の南半分を日本に譲る

- (4) Cのパネル中の下線部 c に関連して、この年に日本で起きたできごとについて述べた文として最も適当なものを、次のア～エのうちから一つ選び、その符号を書きなさい。

ア 普通選挙法が成立し、満 25 歳以上のすべての男子に選挙権が与えられた。

イ 朝鮮戦争が始まり、大量の軍需物資の注文を受けて特需景気になった。

ウ 治安維持法が廃止され、政治活動や言論の自由などが認められた。

エ 藩閥政治を批判して、立憲政治を守ろうとする第一次護憲運動が始まった。

- (5) Dのパネル中の下線部 d に関連して、次の文章は、いずみさんが同じ年に起きた石油危機のきっかけとなった第四次中東戦争について調べたことをまとめたレポートの一部である。文章中の  にあてはまる語として最も適当なものを、あとのア～エのうちから一つ選び、その符号を書きなさい。

いずみさんのレポートの一部

イギリスが統治していた中東の  では、第二次世界大戦後に国際連合の決議を経て、ユダヤ人の国家であるイスラエルがつけられました。アラブ諸国はこれを認めず、1948年に軍事介入して戦争が起こりました。その後も、この地域では、領土問題や民族の対立などにより紛争が繰り返されてきました。

ア ユーゴスラビア

イ パレスチナ

ウ アフガニスタン

エ ソマリア

6 次の文章を読み、あとの(1)~(3)の問いに答えなさい。

国会は、日本国憲法で「国権の最高機関」と位置づけられ、「国の唯一の立法機関」として法律を制定する役割を担っています。国会は、衆議院と参議院からなる二院制(両院制)をとっており、二院制の長所を生かすため、議員の任期や選出方法などに違いを持たせています。日本国憲法は、いくつかの重要な決定について衆議院の優越を認めています。

(1) 下線部 a に関連して、次のア~エの文のうち、それぞれの法律の内容を正しく述べているものはどれか。最も適当なものを一つ選び、その符号を書きなさい。

ア 環境基本法は、環境権の提唱などを受けて制定され、環境に配慮した社会をつくるため、国や地方公共団体などが果たすべき役割を定めている。

イ 情報公開法は、プライバシーの権利に基づいて制定され、民間企業の所有する個人情報について、人々の請求により公開しなければならないことを定めている。

ウ 労働基準法は、労働時間は1日7時間以内、1週間で35時間以内とするなど、賃金や労働時間などの労働条件の最低基準を定めている。

エ 製造物責任法(PL法)は、欠陥商品による損害賠償の責任を消費者に求め、被害を受けた消費者にその商品を製造した企業の過失を証明する責任があることを定めている。

(2) 下線部 b に関連して、次の文章は、国会で行われる審議について述べたものである。文章中の  I  II にあてはまる適当な語を、それぞれ漢字3字で書きなさい。

国会での審議は、衆議院と参議院に分かれて行われ、各院の議員全員による  I と議員が少人数に分かれて所属する  II で行われる。国会に提出された議案は、まず、その内容に応じてそれぞれの  II で審議され、その結果が  I に報告され、採決が行われる。

(3) 下線部 c に関連して、次の文は、衆議院で内閣不信任案が可決された場合について述べたものである。文中の  にあてはまる適当なことばを、25字以内(読点を含む。)で書きなさい。

内閣は、衆議院で不信任の決議案を可決したときは、 しなければならない。

7 次の文章を読み、あとの(1)、(2)の問いに答えなさい。

第二次世界大戦後、世界の平和と安全を維持することを主な目的として国際連合(国連)が発足しました。また、ヨーロッパでは、戦争を再び起こさないよう経済面から統合を目指す動きが始まりました。そして、1993年に、ヨーロッパ連合(EU)が発足しました。

(1) 下線部 a に関連して、次のア～エの文のうち、日本の国際連合との関わりについて正しく述べているものはどれか。最も適当なものを一つ選び、その符号を書きなさい。

ア 日本は、アメリカ、イギリス、ロシア、中国とともに、世界の平和と安全に責任を負う安全保障理事会の常任理事国として、重要な議題に対する拒否権を持っている。

イ 1992年に国際平和協力法(PKO 協力法)が制定され、それ以降、日本は、カンボジアや東ティモールなどで行われた国連平和維持活動(PKO)に自衛隊を派遣してきた。

ウ 日本は、国際連合で採択された人権を国際的に保護する条約のうち、死刑廃止条約と児童(子ども)の権利条約の二つの条約を批准<sup>ひじゅん</sup>していない。

エ 1992年に日本の京都で「地球サミット」が開催され、オゾン層を破壊するフロンガスの排出削減目標を国や地域ごとに数値化して定めた「京都議定書」が採択された。

(2) 下線部 b に関連して、次の文章は、ヨーロッパ連合の経済面での統合の進展について述べたものである。文章中の  に共通してあてはまる適当な語をカタカナで書きなさい。

ヨーロッパ連合では、中央銀行をつくり、各国の通貨を廃止して1999年から共通通貨である  を導入した。その結果、 を使用する国どうしでは、より自由に人やものの移動ができるようになった。

8 次の文章を読み、あとの(1)~(3)の問いに答えなさい。

私たちの家庭は、何らかの仕事を持つことによって収入を得て、企業などが生産した商品<sup>a</sup>を購入したり、将来に備えて貯蓄したりします。また、政府に税金<sup>b</sup>や社会保険料を納めます。仕事をするにあたっては、仕事と家庭生活が調和したワーク・ライフ・バランス<sup>c</sup>を目指すことが求められています。

- (1) 下線部 a に関連して、次の文章中の  に共通してあてはまる適当な語をカタカナで書きなさい。

企業などが提供する商品には、食料品や衣服などの形のあるものだけでなく、美容院でのカットなどの形のないものもあり、形のない商品は  という。  
また、政府も、医療や教育などの公共  を提供している。

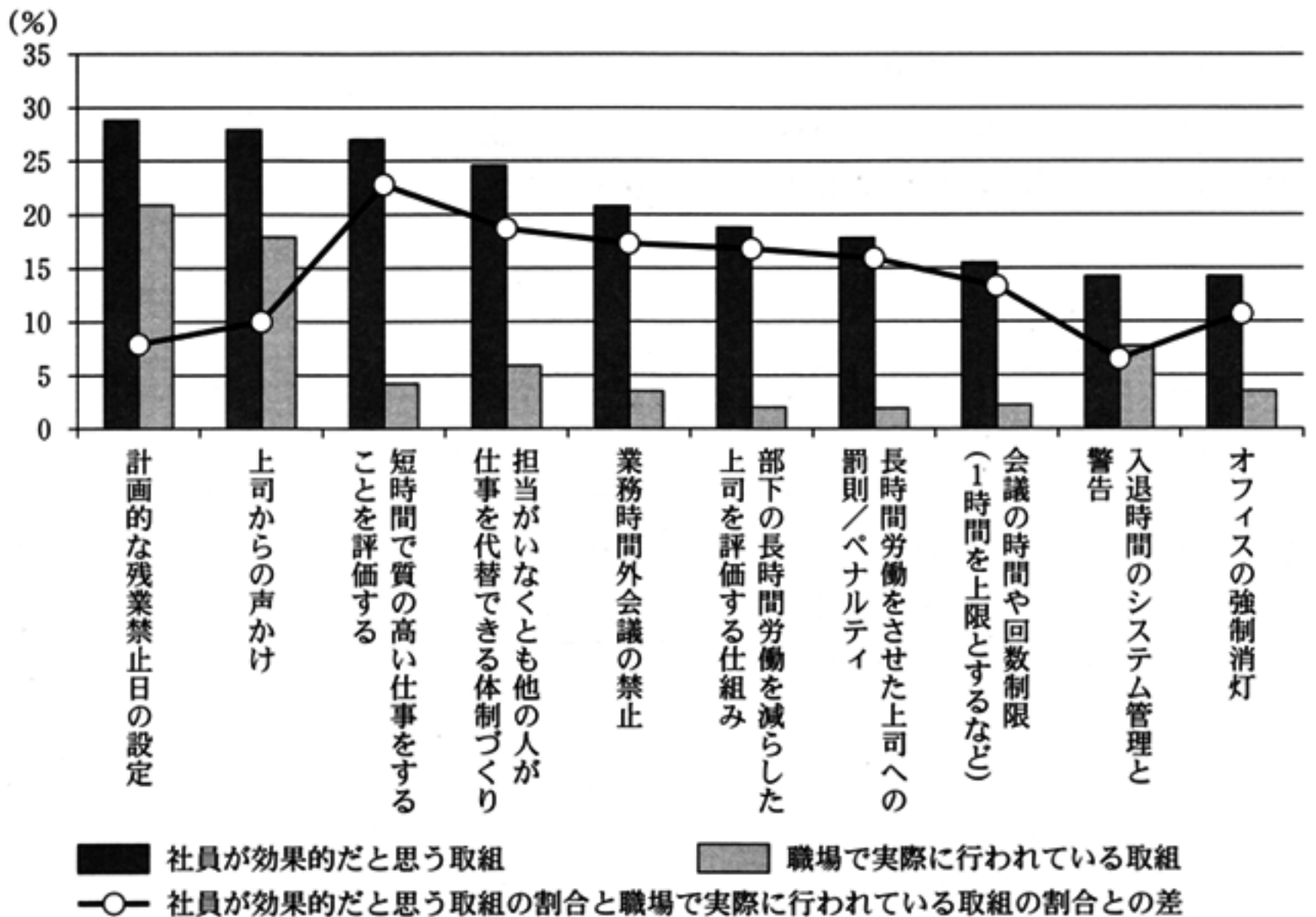
- (2) 下線部 b に関連して、次の文章は、消費税の特徴について述べたものである。文章中の  にあてはまる適当なことばを、「低所得者」「税負担」の二つの語を用いて 25 字以内(読点を含む。)で書きなさい。

消費税は、商品を購入した時に課せられる間接税である。商品を購入するすべての人が同じ税率で税負担を求められるため、高所得者と低所得者とで商品の購入金額が同じである場合、 という特徴がある。

- (3) 下線部 c に関連して、次の文章は、たけしさんとまなみさんが、右のページの資料を見ながら、社会科の授業で「残業削減の方法」について発表するために話し合っている場面の一部である。文章中の  に、資料から読み取れることとしてあてはまる最も適当なものを、あとのア~エのうちから一つ選び、その符号を書きなさい。

たけしさん：残業削減に「社員が効果的だと思う取組<sup>とりぐみ</sup>」の割合と「職場で実際に行われている取組」の割合を比較してみると、社員が効果的だと思っても職場で実際に行われていないといった、「社員が効果的だと思う取組の割合と職場で実際に行われている取組の割合との差」が大きい取組もあるね。  
まなみさん：そうね。他にもこの資料を見ると、 ことがわかるわね。

資料 残業削減に社員が効果的だと思う取組と職場で実際に行われている取組



(注) 正社員 2,537 人による複数回答の結果であり、残業削減に社員が効果的だと思う取組の上位 10 の取組と、職場で実際に行われている取組の割合を、それぞれ示している。

(内閣府「ワーク・ライフ・バランスに関する個人・企業調査報告書(平成 26 年 5 月)」より作成)

ア 「社員が効果的だと思う取組」の割合が 25 % 以上の三つの取組のうち、「社員が効果的だと思う取組の割合と職場で実際に行われている取組の割合との差」が最も大きいのは「計画的な残業禁止日の設定」である

イ 「入退時間のシステム管理と警告」と「オフィスの強制消灯」の二つの取組では、「社員が効果的だと思う取組」の割合はほぼ同じだけれども、「職場で実際に行われている取組」の割合は「オフィスの強制消灯」の方が高い

ウ すべての取組のうち、「社員が効果的だと思う取組の割合と職場で実際に行われている取組の割合との差」が最も大きいのは「短時間で質の高い仕事をすることを評価する」であり、最も小さいのは「上司からの声かけ」である

エ 「会議の時間や回数制限」と「入退時間のシステム管理と警告」の二つの取組では、「社員が効果的だと思う取組」の割合は「会議の時間や回数制限」の方が高いけれども、「職場で実際に行われている取組」の割合は「入退時間のシステム管理と警告」の方が高い

問題番号	正 解					配点及び注意	計		
1	(1)	エ					3	13	
	(2)	ア					3		
	(3)	ヒートアイランド(現象)					3		・カタカナ指定
	(4)	ウ					4		
2	(1)	A, C, E					3	・全部できた場合,点を与える。	
	(2)	①	エネルギー(革命)					3	・カタカナ指定
		②	エ					3	
	(3)	①	イ					3	
		②	ウ					3	
	3	(1)	①	D					3
②			う					3	
(2)		Z					3		
(3)		サヘル					3	・カタカナ3字指定	
(4)		エ					3		
4	(1)	イ					3		
	(2)	年代の古い順	1	2	3	4	3	・全部できた場合,点を与える。	
		符号	エ	ア	ウ	イ			
	(3)	ウ					3		
	(4)	武器を取り上げて一揆を防止し,耕作に専念させる					4	・正解文の趣旨にそってればよい。 ・部分点を与えてもよい。	
(5)	ア					3			

問題番号	正解	配点及び注意	計	
5	(1) 工	3	15	
	(2) 年代の古い順 1 2 3 4 符号 ウ エ イ ア	3		・全部できた場合、点を与える。
	(3) I 下関 II ア	3		・Iはひらがなでもよい。 ・両方できた場合、点を与える。
	(4) ウ	3		
	(5) イ	3		
6	(1) ア	3	10	
	(2) I 本会議 II 委員会	3		・I, IIとも、漢字3字指定 ・両方できた場合、点を与える。
	(3) 10日以内に衆議院が 解散されない限り、総 辞職を	4		・正解文の趣旨にそっていればよい。 ・部分点を与えてもよい。
7	(1) イ	3	6	
	(2) ユーロ	3		・カタカナ指定
8	(1) サービス	3	・カタカナ指定	10
	(2) 低所得者ほど、所得に 占める税負担の割合が 高くなる	4	・正解文の趣旨にそっていればよい。 ・部分点を与えてもよい。	
	(3) 工	3		
合計			100	