

1 次の文章を読み、あとの(1)~(3)の問いに答えなさい。

1997(平成9)年に、東京湾を横断して千葉県と神奈川県とを結ぶ東京湾アクアラインが開通し、レジャーやショッピングなどに出かける際の交通の利便性が向上しました。また、昨年10月には、この東京湾アクアラインを走る「ちばアクアラインマラソン2014」が開催され、秋晴れの^{もと}下、約1万7千人のランナーが参加しています。

かつて千葉県は^{かずさのくに}上総国、^{しもうさのくに}下総国、^{あわのくに}安房国の三国からなり、^{さがみのくに}相模国などへ人々や荷物を運ぶ船が東京湾を行き来していました。千葉県は、東京湾アクアラインを有効に活用することで、さらに経済活動が活発になるように取り組んでいます。

(1) 下線部 a に関連して、次の資料は、山形県、東京都、神奈川県及び千葉県の製造品出荷額等割合と合計額を示したものである。資料中のア~エのうち、千葉県にあてはまるものはどれか。最も適当なものを一つ選び、その符号を書きなさい。

資料 山形県、東京都、神奈川県及び千葉県の製造品出荷額等割合と合計額(2011年)

	製造品出荷額等割合(%)						合計額(億円)
ア	情報通信機械 26.1	電子部品 12.3	食料品 10.9	生産用機械 6.6	化学 5.6	その他 38.5	26,602
イ	化学 22.5	石油・石炭製品 19.8	鉄鋼 14.5	食料品 11.2	金属製品 4.3	その他 27.7	119,478
ウ	輸送用機械 20.2	石油・石炭製品 15.1	化学 9.8	食料品 7.3	生産用機械 6.8	その他 40.8	179,509
エ	輸送用機械 15.2	印刷 13.8	情報通信機械 9.4	食料品 8.6	電気機械 7.9	その他 45.1	89,477

(「データでみる県勢2014」より作成)

- (2) 下線部 **b** に関連して、次の文章は、買い物などの際の現金以外での支払い方法について述べたものである。文章中の に共通してあてはまる適当な語を漢字 2 字で書きなさい。

情報技術の発達によって、IC カードや携帯電話などを用いた マネーが開発され、店での買い物や鉄道運賃の支払いなどに幅広く利用されている。

マネーとは、デジタルデータに貨幣としての価値を持たせたものである。

- (3) 下線部 **c** に関連して、次のア～ウのできごとを年代の古いものから順に並べ、その符号を書きなさい。

ア 上総国の望陀郡もうたくんでつくられた上質な麻織物である望陀布が、調ちょうとして都みやこに納められた。

イ 下総国で家業を営んでいた伊能忠敬は、全国の海岸線を測量して日本地図をつくった。

ウ 相模国での石橋山いしばしやまの戦いに敗れた源頼朝は、海路で安房国へと逃れた。

2 次の図を見て、あとの(1)~(4)の問いに答えなさい。



(1) 図中の中部地方に属する県のうち、海に面しており、かつ県名と県庁所在地名とが異なる県が二つある。県名をそれぞれ漢字で書きなさい。

(2) 次の資料は、図中のA~Eの県の面積、人口、65歳以上人口の割合、1世帯あたりの人数及び過疎地域の面積をそれぞれ示したものである。この資料から読み取れることを述べた文として最も適当なものを、あとのア~エのうちから一つ選び、その符号を書きなさい。

資料 A~Eの県の面積、人口、65歳以上人口の割合、1世帯あたりの人数及び過疎地域の面積(2010年)

	面積 (km ²)	人口 (千人)	65歳以上人口の 割合(%)	1世帯あたりの 人数(人)	過疎地域の面積 (km ²)
A	6,114	1,451	28	2.43	3,459
B	6,708	717	29	2.74	5,731
C	3,507	589	26	2.78	1,981
D	8,480	2,861	24	2.41	5,255
E	7,113	1,945	25	2.58	4,710

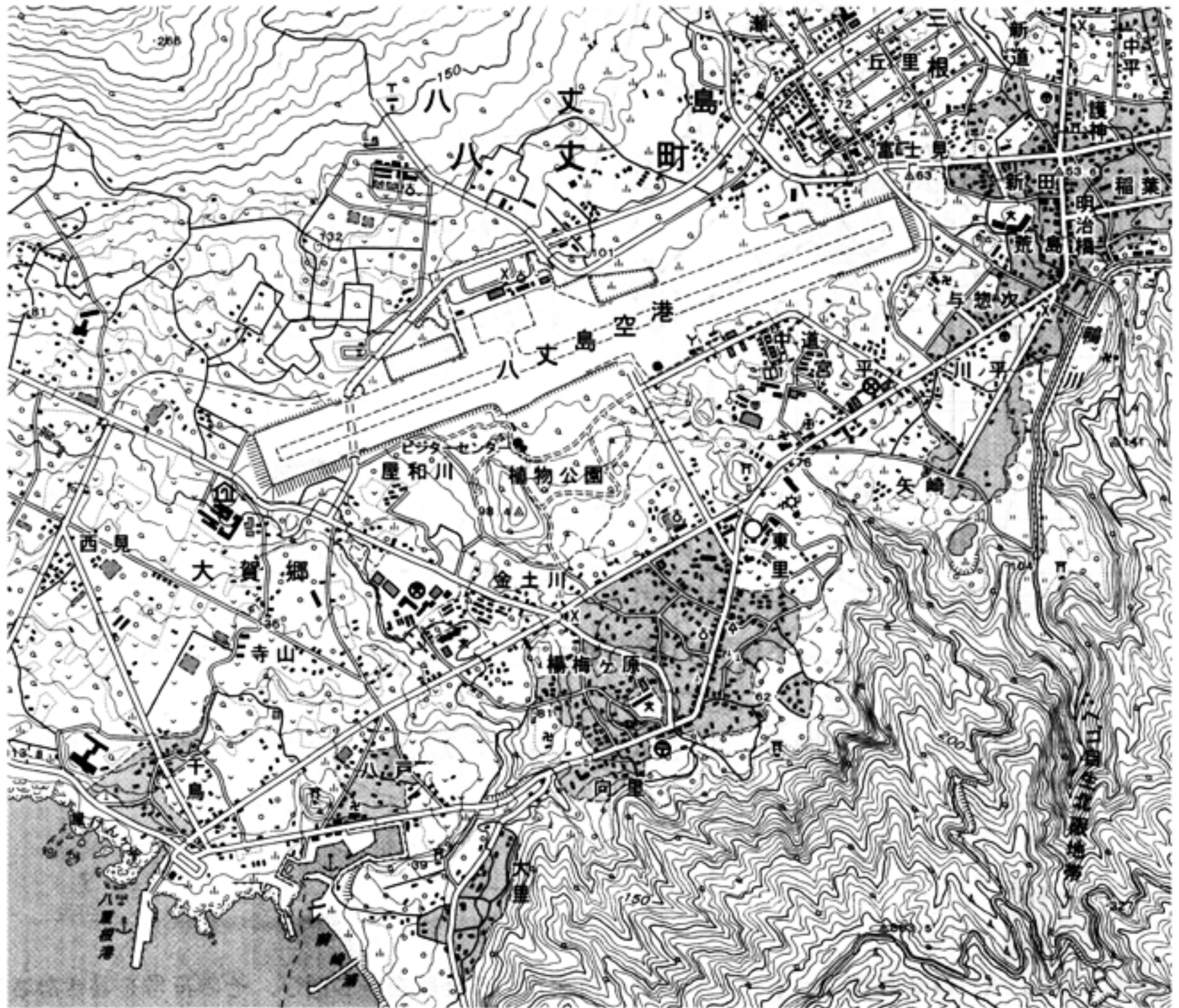
(「数字で見る日本の100年第6版」, 「データでみる県勢2014」より作成)

- ア 五つの県は、過疎地域の面積がそれぞれ県の面積の半分以下である。
- イ 五つの県の中で人口が最も多いDの県は、1km²あたりの人口ではEの県より少ない。
- ウ 五つの県の中で1世帯あたりの人数が最も多いCの県は、世帯数でもAの県より多い。
- エ 五つの県の中で過疎地域の面積が最も大きいBの県は、65歳以上人口が20万人以上である。

(3) 次の文は、図中のDの県の県庁所在地についてまとめたものの一部である。文中の にあてはまる適当な語を書きなさい。

この都市の中心市街地は、太田川が海に流れ込むところに、川が運んできた細かい砂や泥が積もってできた という地形の上に広がっている。

- (4) 次の地形図は、前のページの図中の東京都のある地域を示したものである。この地形図を正しく読み取ったことがらとして最も適当なものを、あとのア～エのうちから一つ選び、その符号を書きなさい。

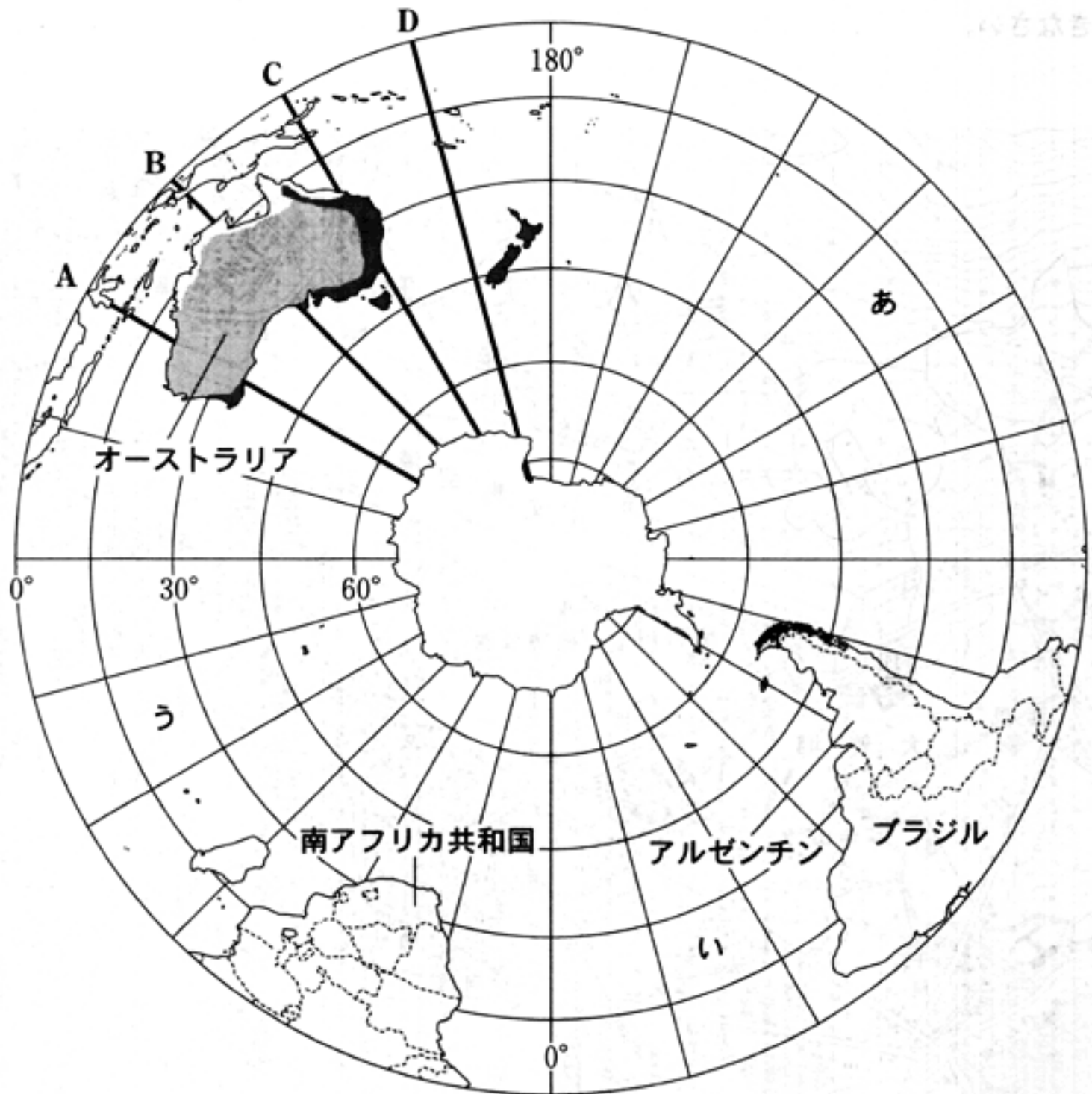




めもり 0 5 cm

(国土地理院 平成 18 年発行 1 : 25,000「八丈島」原図より作成)

- ア 「植物公園」一帯には、針葉樹林が広がっている。
- イ 町役場から「向里」の郵便局までの直線距離は、約 250 m である。
- ウ 町役場から見て警察署は、ほぼ北東の方向にある。
- エ 老人ホームと警察署との標高差は、100 m 以上である。

3 次の図を見て、あとの(1)~(4)の問いに答えなさい。



- (1) 図中のA~Dの経線のうち、日本の標準時を定める経線の一つを選び、その符号を書きなさい。
- (2) 図中のあ~うは、三つの大洋(海洋)をそれぞれ示している。これらのうち、面積が一番大きな大洋はどれか。最も適当なものを一つ選び、その符号を書きなさい。また、その大洋の名称を書きなさい。
- (3) 図中の  ,  に示す地域が属する気候帯は、それぞれどれか。次のア~オのうちから最も適当なものを一つずつ選び、その符号を書きなさい。

ア 熱帯	イ 乾燥帯	ウ 温帯
エ 冷帯(亜寒帯)	オ 寒帯	

(4) 次の資料1は、前のページの図中のアルゼンチン、オーストラリア、ブラジル及び南アフリカ共和国の国土面積、国土面積に占める農地の割合、人口及び在留邦人数を、資料2は、日本のとうもろこし、肉類及び鉄鉱石の輸入先と輸入総額に占める割合をそれぞれ示したものである。資料中のXとYにあてはまる国はそれぞれどれか。あとのア～エのうちから最も適当なものの一つずつ選び、その符号を書きなさい。なお、資料1、資料2のW～Zの符号はそれぞれ同じ国を示している。

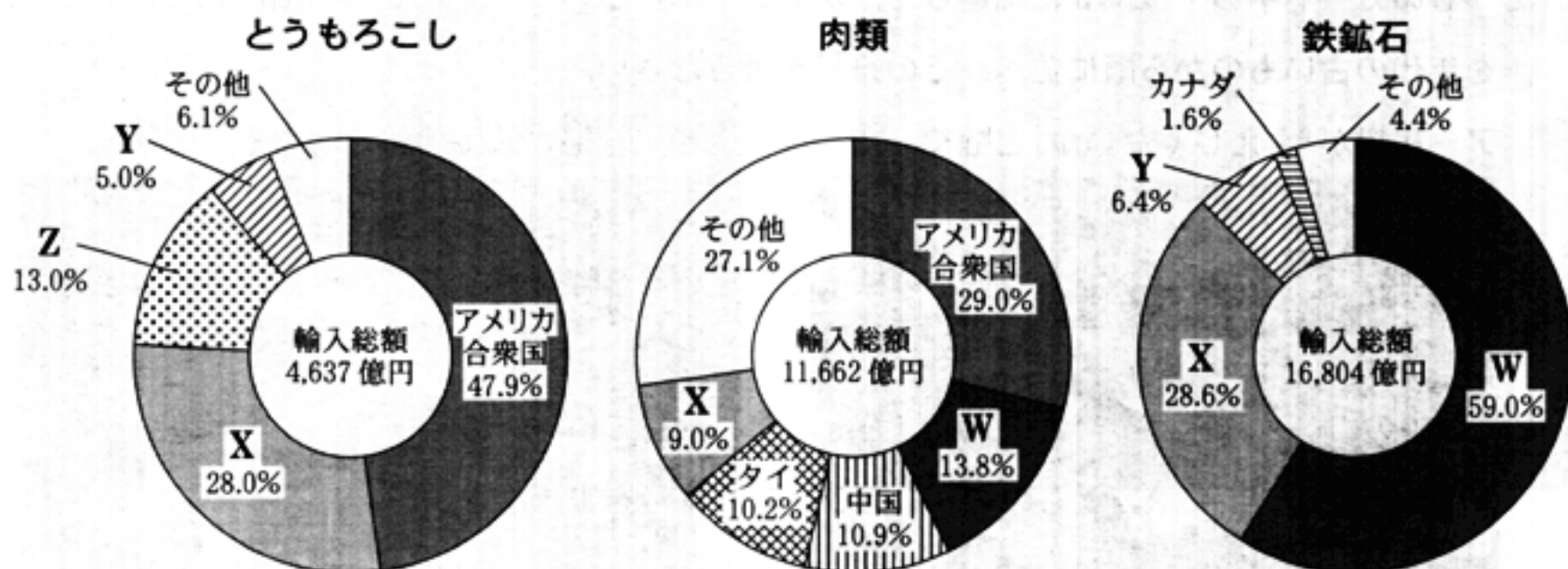
資料1 アルゼンチン、オーストラリア、ブラジル及び南アフリカ共和国の国土面積、国土面積に占める農地の割合、人口及び在留邦人数

	国土面積 (2012年)(千km ²)	国土面積に占める農地の割合(2011年)(%)	人口 (2013年)(千人)	在留邦人数 (2013年)(人)
W	7,692	53	23,343	81,981
X	8,515	32	200,362	56,217
Y	1,221	79	52,776	1,474
Z	2,780	53	41,446	12,035

(「世界国勢図会 2013/14」, 「外務省ホームページ」より作成)

(注) 在留邦人とは、海外に3か月以上滞在している日本国籍を有する者を指す。

資料2 日本のとうもろこし、肉類及び鉄鉱石の輸入先と輸入総額に占める割合(2013年)



(「日本国勢図会 2014/15」より作成)

ア アルゼンチン
ウ ブラジル

イ オーストラリア
エ 南アフリカ共和国

4 次のA～Dのカードは、ゆうやさんが「日本の世界遺産」について調べ、その内容をまとめたものである。これらを読み、あとの(1)～(5)の問いに答えなさい。

A

^{へいじょうきゅう}
平城宮は、唐の都の長安にならつてつくられた平城京の北に置かれ、
天皇の住まいや役所が建てられていました。

B

^{びやうどういんほうおうどう}
平等院鳳凰堂は、藤原頼通によつて建てられた阿弥陀堂であり、堂内の扉や壁には、
^{あみだどう}
^{とびら}極楽浄土図などの**絵画**が描かれています。

C

^{あそび}
足利義満によって建てられた金閣は、公家の文化と武家の文化がとけ合うという、室町文化の特色がよくあらわれています。

D

^{ひめじじょう}
姫路城は、^{もろだい}桃山文化を代表する**壮**大な天守がそびえる城であり、美しい白壁から、
^{しらかべ} ^{しらさぎじょう}白鷺城ともよばれています。

(1) Aのカード中の下線部 a に関連して、平城京に都が置かれていた時期に起きたできごとについて述べた文として最も適当なものを、次のア～エのうちから一つ選び、その符号を書きなさい。

- ア 中大兄皇子が政治の改革を始めた。 イ 坂上田村麻呂が征夷大將軍に任命された。
ウ 平将門が関東で反乱を起こした。 エ 聖武天皇の命じた東大寺の大仏が完成した。

(2) Bのカード中の下線部 b に関連して、次のア～エについて、それぞれに描かれていることがらを年代の古いものから順に並べ、その符号を書きなさい。


ア 民衆が「ええじゃないか」と騒ぐ




イ ^{いっぺん}一遍が武士の館を訪れる



ウ 藤原頼通が天皇をもてなす



エ ^{あしがる}足輕が応仁の乱で動員される



(3) Cのカード中の下線部cに関連して、この人物が行ったことを述べた文として最も適切なものを、次のア～エのうちから一つ選び、その符号を書きなさい。

ア キリスト教を禁止する禁教令を出して、キリシタンを弾圧した。

イ 南北朝の統一を実現させ、60年近く続いた内乱をしずめた。

ウ 楽市・楽座の政策によって商人を招き、商工業の発展をはかった。

エ 京都に六波羅探題を置いて、朝廷の監視を強めた。

(4) Dのカード中の下線部dに関連して、次の文は、茶の湯を大成した人物について述べたものである。文中の にあてはまる適当な人物を、漢字3字で書きなさい。

さかい堺の商人の出身で、豊臣秀吉につか仕えた は、質素なわ侘び茶の作法を完成させた。

(5) 次のX・Yの写真は、ゆうやさんが「外国の世界遺産」についても調べ、その結果を発表する時に使用したものである。それぞれの世界遺産について説明した文として最も適切なものを、あとのア～オのうちから一つずつ選び、その符号を書きなさい。

X



Y



ア ローマのコロッセオ(闘技場)では、剣士や奴隷どうしの決闘などが行われていた。

イ モヘンジョ・ダロの都市遺跡からは、排水施設などが整備されていたことがわかる。


ウ 始皇帝陵のそばに、約7,000体の焼き物の人形などが整然と並べられていた。

エ 万里の長城は、北方の遊牧民族の侵入を防ぐために築かれた。

オ マチュピチュ遺跡からは、高度な石造建築技術で都市がつくられていたことがわかる。

5 次のA～Dのパネルは、みずほさんが「日本の内閣総理大臣」について調べ、その内容をまとめたものである。これを読み、あとの(1)～(4)の問いに答えなさい。


A



1885年に初代内閣総理大臣となり、中心となって大日本帝国憲法の草案を作成しました。政党を中心に議会を円滑に運営するため、Ⅱを結成し、政党内閣をつくりました。

Ⅰ


B



米騒動により寺内内閣が退陣した後、「平民宰相」として国民の期待を集めました。陸軍・海軍・外務大臣以外は、衆議院第一党のⅡの党員で占める本格的な政党内閣でした。

原 敬


C



世界恐慌が起これると、日本の経済も大きな打撃を受けました。ロンドン海軍軍縮条約に調印したことに反発した青年に襲われて重傷を負い、内閣退陣に追い込まれました。

浜口雄幸

D



日韓基本条約を結び、韓国との間に経済協力を推進しました。

衆議院予算委員会で、核兵器を「持たず、つくらず、持ちこませず」という非核三原則を表明しました。

佐藤栄作

(1) AとBのパネル中のⅠ、Ⅱにあてはまる語として最も適当なものはどれか。次のそれぞれの選択肢ア～エのうちから一つずつ選び、その符号を書きなさい。

- | | | | | |
|---|-------------|---------|--------|---------|
| Ⅰ | の選択肢：ア 伊藤博文 | イ 板垣退助 | ウ 黒田清隆 | エ 大隈重信 |
| Ⅱ | の選択肢：ア 立志社 | イ 立憲改進黨 | ウ 自由党 | エ 立憲政友会 |



(2) Bのパネル中の下線部aに関連して、次の文は、米騒動が起こるきっかけになったできごとについて述べたものである。文中の にあてはまる適当なことばを、「シベリア出兵」「米」の二つの語を用いて、25字以内(読点を含む。)で書きなさい。

第一次世界大戦中の好景気によって物価の上昇が続く中、 ために大幅に米価が上昇したため、富山県の漁村の女性たちが、米の安売りなどを要求する運動を起こした。

- (3) Cのパネル中の下線部bに関連して、次の文章は、世界恐慌とその後の不況への対策として、アメリカで行われた政策について述べたものである。文章中の にあてはまる適当な語を書きなさい。

アメリカでは、政府が、ダム建設などの公共事業をおこして失業者に仕事を与えるなどの積極的な不況対策を行った。これを 政策という。

- (4) Dのパネル中の下線部cに関連して、次の略年表は、みずほさんが第二次世界大戦後の「日本と外国とのできごと」を整理したものである。略年表中のX、Yの期間にそれぞれ起きたできごとはどれか。あとのア～オのうちから一つずつ選び、その符号を書きなさい。

年 代	日本と外国とのできごと
1951	サンフランシスコ平和条約が結ばれる
	 X
1965	日韓基本条約が結ばれる
	 Y
1978	日中平和友好条約が結ばれる

- ア 日本は北方の安全を確保するため、日ソ中立条約を結ぶ
 イ アメリカの統治が続いていた沖縄が日本に復帰する
 ウ 初めての日朝首脳会談が行われ、5人の拉致被害者が帰国する
 エ 日ソ共同宣言が調印され、同年、日本は国際連合に加盟する
 オ アメリカの提案で開かれたワシントン会議の結果、日英同盟が解消される

6 次の文章を読み、あとの(1)~(3)の問いに答えなさい。

私たちの暮らしは、自国の経済活動を越えた、諸外国と相互に支え合う国際分業の中で営まれています。貿易の拡大は、各国に利益をもたらしますが、^a安い価格で外国から輸入品が入ってくると国内の産業が打撃を受けることもあります。私たちの安定した暮らしを守るために、政府は、諸外国との貿易をめぐる交渉や、さまざまな経済政策を行っていきま^bす。

(1) 下線部 a に関連して、次の文は、国内の経済活動の大きさをあらわす指^{しひょう}標について述べたものである。文中の にあてはまる最も適当な指標の略称を、アルファベット 3 字で書きなさい。

は、国内で 1 年間に新たに生み出された、ものやサービスの総額である。

(2) 下線部 b に関連して、次の文章は、需要量・供給量と価格の関係について説明したものの一部である。文章中の I ~ III にあてはまる語の組み合わせとして最も適当なものを、あとのア~エのうちから一つ選び、その符号を書きなさい。

右の図は、イワシの昨日の均衡価格を示したものとす。ここでは、価格は P で数量は Q となっているが、価格は日々変動する。

例えば、今日は、昨日よりもイワシが多く水揚げされて、市場で大量に売りに出された場合には、図中の供給曲線は右に移動する。一方で、社会全体で消費者が買おうとするイワシの数量が昨日と変わらなければ、需要曲線は移動しない。そして、新たに需要量と供給量がつり合ったところ、つまり二つの曲線の新しい交点が、今日のイワシの均衡価格となる。

市場経済では、この例のように I 量が II 量を上回った場合には、価格は III することがわかる。

需要量・供給量と価格の関係

- ア I : 需要 II : 供給 III : 上昇 イ I : 供給 II : 需要 III : 上昇
 ウ I : 供給 II : 需要 III : 下落 エ I : 需要 II : 供給 III : 下落

- 7 次の文章は、さゆりさんが「国民の政治参加」をテーマに行ったスピーチの原稿の一部である。これを読み、あとの(1)~(3)の問いに答えなさい。

日本の国の政治は、立法・行政・司法の三つの権力から成り立っています。日本国憲法の前文にあるように、国の政治の権威は国民に由来します。そのため選挙で投票する以外にも国民が政治に参加するさまざまな仕組みが取り入れられています。

また、民主政治では、国民の世論が、国の政治を動かす原動力となります。私たち国民は、日頃から政治や社会に対する自分自身の意見をしっかりと持つようにすることが大切です。

- (1) 下線部 a に関連して、次の文は、日本国憲法に定められている公務員のあり方について述べたものである。文中の にあてはまる適当なことばを、「一部」「奉仕者」の二つの語を用いて 25 字以内(読点を含む。)で書きなさい。


日本国憲法には、すべての公務員は、 ことが定められている。

- (2) 下線部 b に関連して、次のア~エの文のうち、裁判員制度について正しく述べているものはどれか。最も適当なものを一つ選び、その符号を書きなさい。

- ア 裁判員は、18 歳以上の国民の中から地方公共団体の首長の推薦で選ばれる。
イ 裁判員は、殺人、強盗などの重大な刑事事件の裁判に関わることはできない。
ウ 裁判員は、一つの事件につき 10 名で担当し、2 名の裁判官と一緒に審理を行う。
エ 裁判員は、裁判官と一緒に有罪か無罪か、有罪の場合はどのような刑罰がよいかを決める。

- (3) 下線部 c に関連して、次の文章は、国民が自分自身の考えをまとめる際に必要なことについて述べたものである。文章中の に共通してあてはまる適当な語をカタカナ 6 字で書きなさい。

大量の情報を伝達する手段になる新聞・テレビなどの は、国民が世論を形成する上で大きな影響力を持っている。国民は などが伝える情報をただ受け入れるのではなく、さまざまな視点からとらえ、自分自身で判断をする必要がある。

問題番号	正 解					配点及び注意	計		
1	(1)	イ				3		10	
	(2)	電子				4	・漢字2字指定		
	(3)	年代の古い順 符 号	1 ア	2 ウ	3 イ	3	・全部できた場合、点を与える。		
2	(1)	石川(県)		愛知(県)		4	・漢字指定、順不同 ・両方できた場合、点を与える。	16	
	(2)	工				4			
	(3)	三角州				4	・ひらがなでもよい。 ・「デルタ」でもよい。		
	(4)	ウ				4			
3	(1)	B				3		15	
	(2)	符 号	あ	大洋名	太平洋	4	・大洋名は、ひらがなでもよい。 ・両方できた場合、点を与える。		
	(3)		ウ		イ	4	・両方できた場合、点を与える。		
	(4)	X	ウ	Y	工	4	・両方できた場合、点を与える。		
4	(1)	工				3		19	
	(2)	年代の古い順	1	2	3	4	4		・全部できた場合、点を与える。
		符 号	ウ	イ	工	ア			
	(3)	イ				4			
	(4)	千利休				4	・漢字3字指定		
(5)	X	オ	Y	ウ	4	・各2点ずつを与える。			

問題番号	正 解								配点及び注意	計				
5	(1)	I	ア			II	エ			4	・各2点ずつを与える。	16		
	(2)	シ	ベ	リ	ア	出	兵	を	み	こ	し		4	・正解文の趣旨にそって いればよい。 ・部分点を与えてもよい。
		て	,	米	の	買	い	占	め	が	行			
		わ	れ	た										
(3)	ニューディール(政策)								4	・「新規まき直し」でもよい。				
(4)	X	エ			Y	イ			4	・各2点ずつを与える。				
6	(1)	GDP								4	・アルファベット3字指定	12		
	(2)	ウ								4				
	(3)	①	A	ウ	B	イ	C	ア		2	・全部できた場合、点を与える。			
		②	デフレーション								2		・カタカナ指定 ・「デフレ」でもよい。	
7	(1)	全	体	の	奉	仕	者	で	あ	っ	て	4	・正解文の趣旨にそって いればよい。 ・部分点を与えてもよい。	
		,	一	部	の	奉	仕	者	で	は	な			
		い												
(2)	エ								4					
(3)	マスメディア								4	・カタカナ6字指定				
合 計										100				