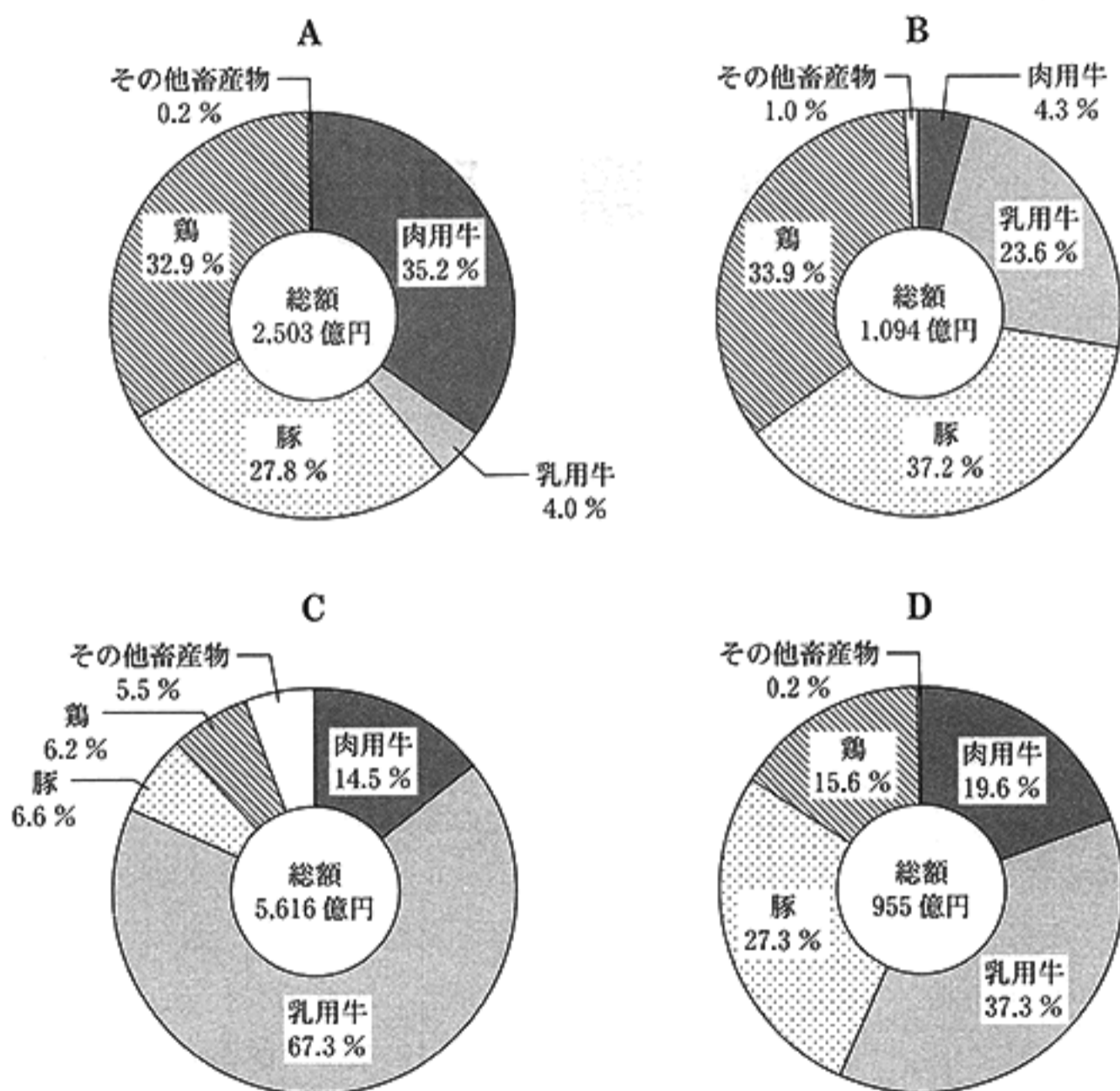


1 次の文章を読み、あとの(1)~(4)の問いに答えなさい。

千葉県は畜産業がさかんです。江戸時代、<sup>a</sup>安房国<sup>b</sup>の嶺岡牧で日本の酪農<sup>c</sup>が始まったといわれています。千葉県では多くの消費者<sup>d</sup>に千葉県産の畜産物を届けようと、生産者などと連携してPR活動を展開しています。

(1) 下線部 a に関連して、次の資料 1 は、北海道、栃木県、鹿児島県及び千葉県の畜産物の産出総額と内訳を示したものである。A~D のグラフは、それぞれどの道県のものか。その組み合わせとして最も適当なものを、あとのア~エのうちから一つ選び、その符号を書きなさい。

資料 1 北海道、栃木県、鹿児島県及び千葉県の畜産物の産出総額と内訳(2012年)



(注) 四捨五入の関係で、合計しても 100 % にならない場合がある。

(「農林水産省ホームページ」より作成)

- |   |          |         |         |          |
|---|----------|---------|---------|----------|
| ア | A : 栃木県  | B : 千葉県 | C : 北海道 | D : 鹿児島県 |
| イ | A : 鹿児島県 | B : 千葉県 | C : 北海道 | D : 栃木県  |
| ウ | A : 栃木県  | B : 北海道 | C : 千葉県 | D : 鹿児島県 |
| エ | A : 鹿児島県 | B : 北海道 | C : 千葉県 | D : 栃木県  |

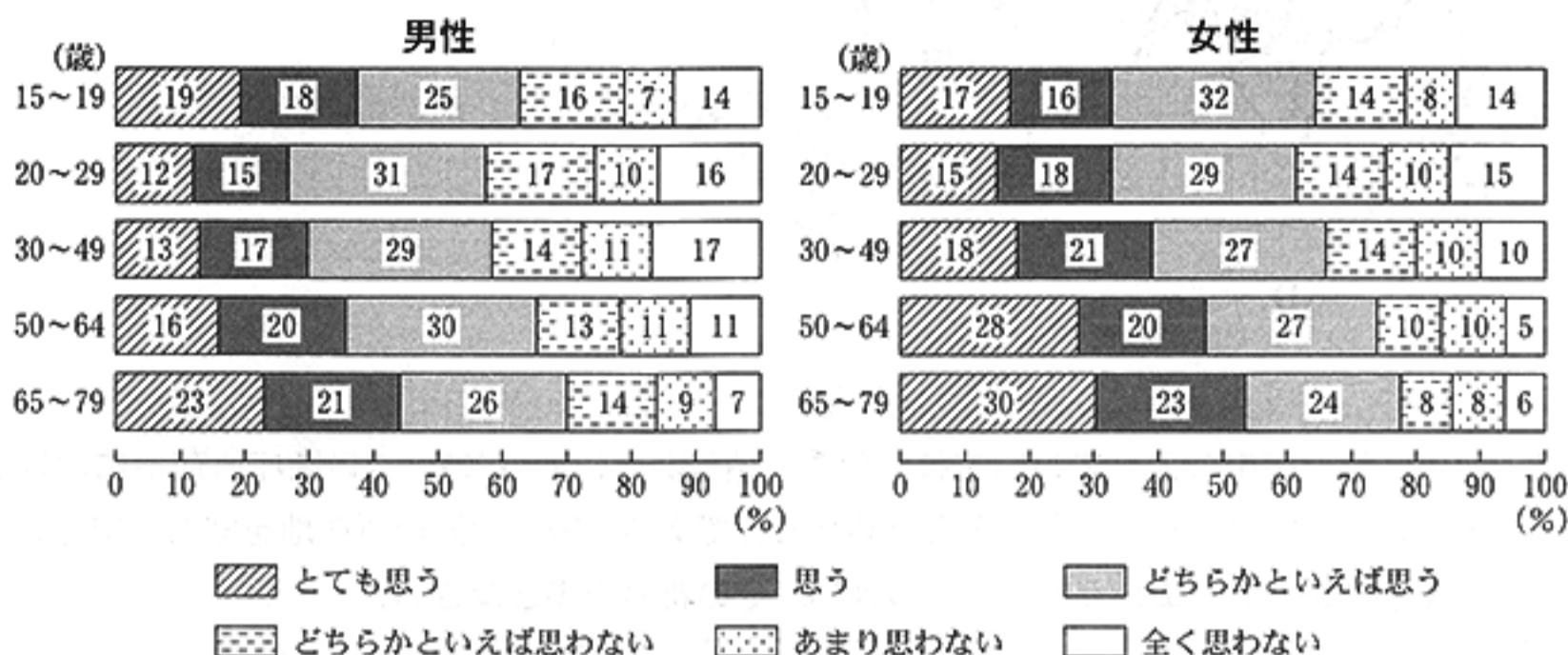
(2) 下線部 b に関連して、次のア～ウの文は、それぞれ江戸時代の将軍が行ったことについて述べたものである。ア～ウを年代の古いものから順に並べ、その符号を書きなさい。

- ア 大名に領地と江戸とを往復させる参勤交代さんきんこうたいを制度として定めた。  
 イ 公事方御定書くじかたおさだめがきという裁判の基準となる法律を定めた。  
 ウ 極端な動物愛護令である生類憐みの令しょうるいあわれを出した。

(3) 下線部 c に関連して、次の資料 2 は、牛乳に関するアンケート調査結果の一部である。男女別、さらに世代別にそれぞれの結果を見たとき、資料 2 から読み取れることとして最も適当なものを、あとのア～エのうちから一つ選び、その符号を書きなさい。

資料 2 牛乳に関するアンケート調査結果の一部

質問 あなたは「牛乳」のことを、「自分自身にとって、なくてはならない大切な食べ物（飲み物）である」と、どれくらい思いますか。



(注) 四捨五入の関係で、合計しても 100 % にならない場合がある。

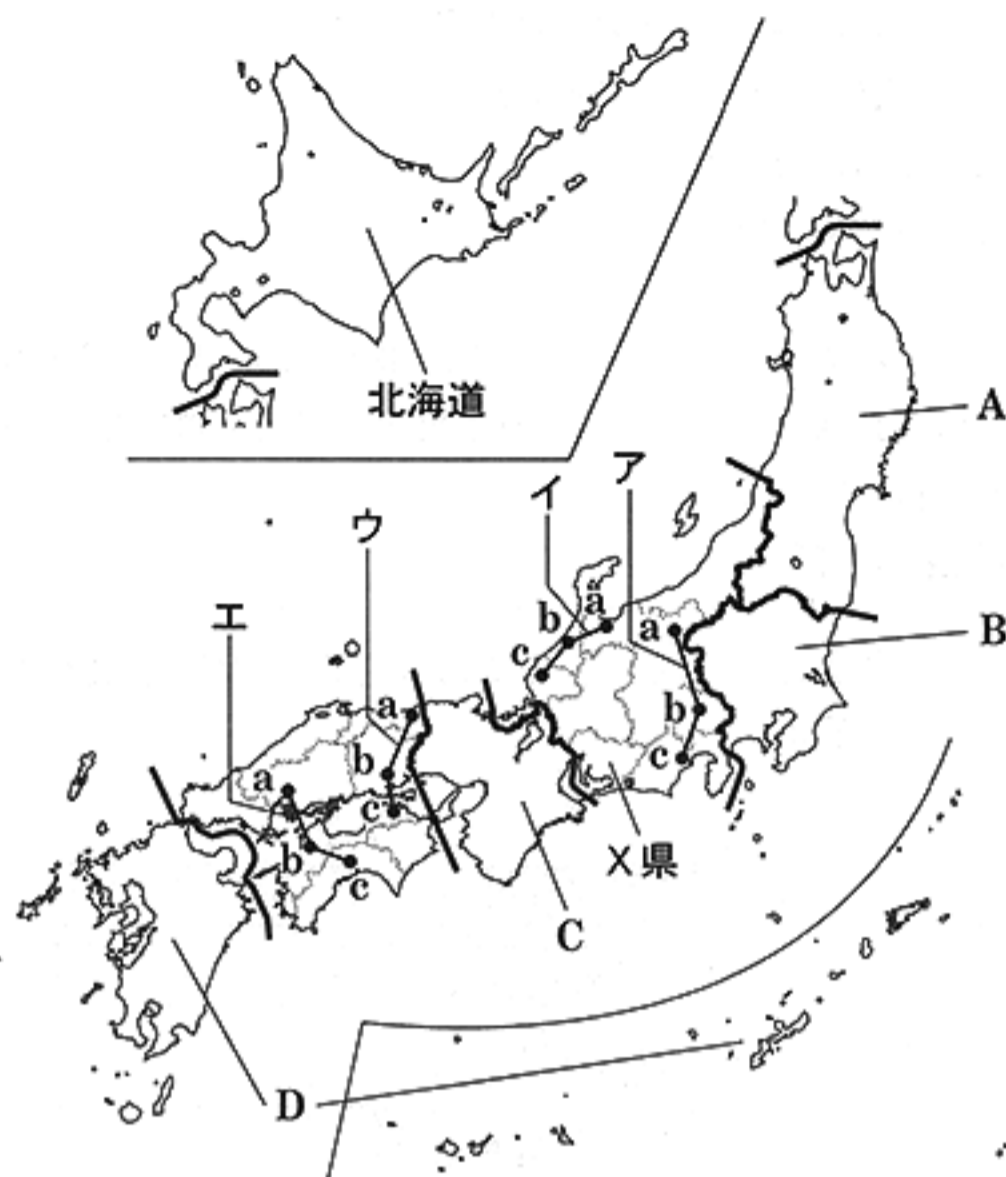
(一般社団法人)ミルク「牛乳乳製品に関する食生活動向調査 2014」より作成

- ア 「とても思う」と「思う」の割合の合計は、女性がすべての世代で 30 % 以上であり、男性はすべての世代で 40 % 以下である。  
 イ 「とても思う」と「思う」の割合の合計は、男性と女性、ともにすべての世代で「全く思わない」の割合の 2 倍を超えている。  
 ウ 「とても思う」、「思う」、「どちらかといえば思う」の割合の合計は、すべての世代で男性よりも女性の方が高い。  
 エ 「全く思わない」、「あまり思わない」、「どちらかといえば思わない」の割合の合計は、男性と女性、ともに 15～19 歳の世代が最も高い。

(4) 下線部 d に関連して、次の文章は、生産された商品が消費者に届くまでの流れについて述べたものである。文章中の  に共通してあてはまる適当な語を漢字 2 字で書きなさい。

生産された商品が、卸売業者や小売業者などを経て、最終的に消費者に届くまでの流れを商品の  といい、 に関連する産業のうち、卸売業と小売業などを合わせて、商業という。なお、産地直送など、生産者が直接、消費者に販売する場合もある。

2 次の図を見て、あとの(1)~(4)の問いに答えなさい。



(1) 日本を七つの地方に区分したとき、図中のA~Dの地方のうち、その地方に属する都府県の数が多い地方はどれか。最も適当なものを一つ選び、その符号を書きなさい。

(2) 次の表は、図中のア~エのいずれかの線で結ばれた、a~cの三つの県庁所在地における1月と8月の平均気温と平均降水量をまとめたものである。表中の県庁所在地を結んだ線として最も適当なものを、ア~エのうちから一つ選び、その符号を書きなさい。

	平均気温(°C)		平均降水量(mm)	
	1月	8月	1月	8月
a	-0.6	25.2	51.1	97.8
b	2.8	26.6	40.2	149.5
c	6.7	27.0	75.0	250.9

(注) 表中のデータは1981年から2010年までの平均値を示す。  
〔平成27年理科年表〕より作成

(3) 次の資料は、さちえさんが図中のX県の製造品出荷額等割合を見て気がついたことをまとめたものの一部である。資料中の **I** にあてはまる適当な語を漢字2字で書きなさい。また、**II** に共通してあてはまる語として最も適当なものを、あとのア~エのうちから一つ選び、その符号を書きなさい。

資料

X県の県庁所在地を中心に **I** 工業地帯が広がっています。X県では、**II** の生産がさかんに行われています。

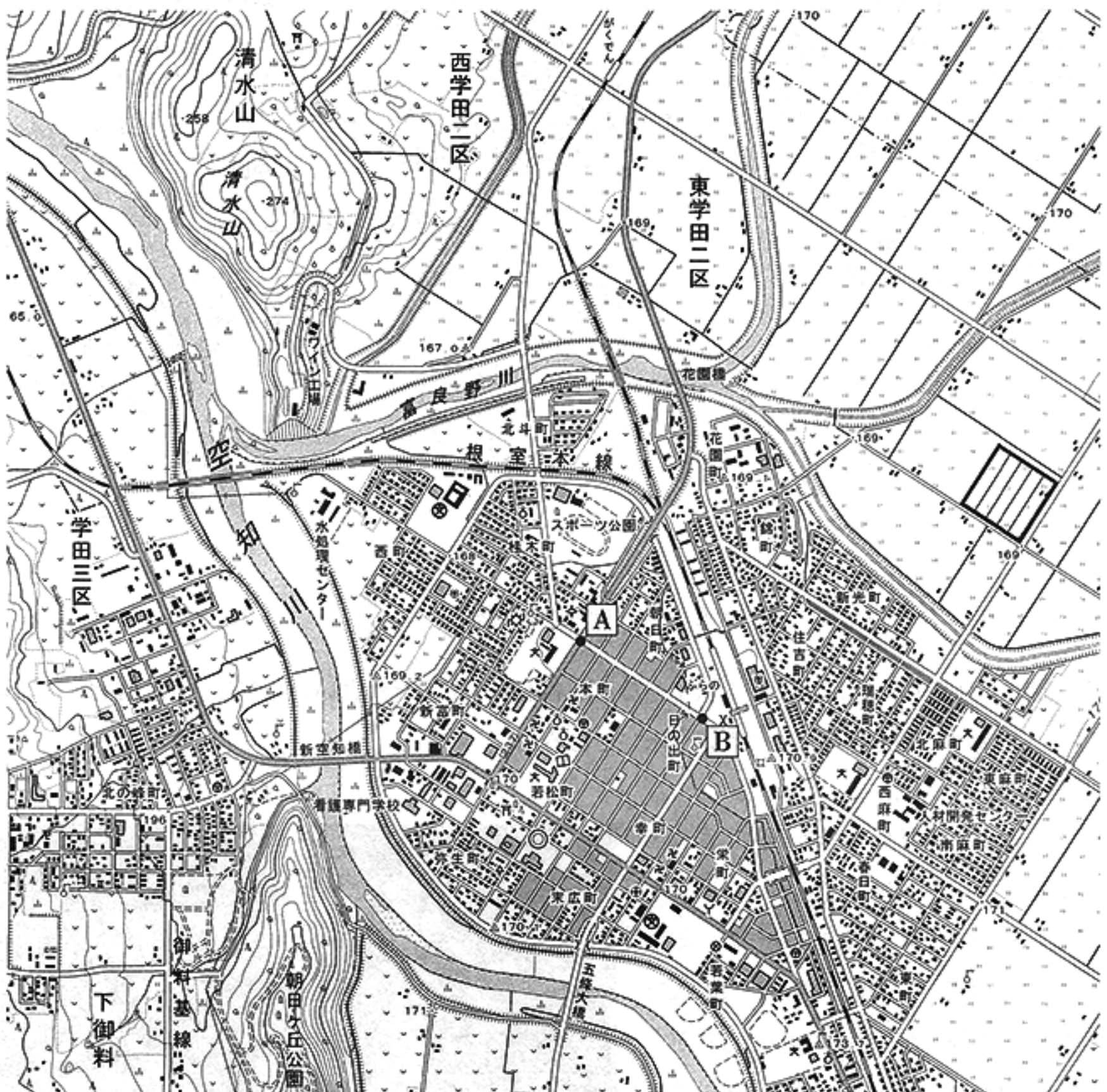
X県の製造品出荷額等割合(%) (2012年)

<b>II</b>	53.5	鉄鋼 6.3	食料品 3.9
		電気機械 4.4	生産用機械 3.8
			その他 28.1


〔データで見る県勢2015〕より作成

ア 情報通信機械      イ 石油・石炭製品      ウ 電子部品      エ 輸送用機械

(4) 次の地形図は、前のページの図に示した北海道のある地域を示したものである。これを見て、あとの①、②の問いに答えなさい。



めもり 0 5 cm (国土地理院 平成 20 年発行 1 : 25,000「富良野」原図より作成)

① 地形図中の斜線(  )で示した部分の土地面積は約何  $m^2$  か。次のア～エのうちから最も適当なものを一つ選び、その符号を書きなさい。

ア 約  $10,000 m^2$     イ 約  $25,000 m^2$     ウ 約  $62,500 m^2$     エ 約  $250,000 m^2$

② 上の地形図を正しく読み取ったことがらとして最も適当なものを、次のア～エのうちから一つ選び、その符号を書きなさい。

ア A 地点から B 地点までの直線距離は、約  $1,000 m$  である。

イ A 地点を中心とした半径  $1.25 km$  の範囲内には、高等学校が二つある。

ウ 市役所から見て B 地点は、ほぼ南東の方向にある。

エ 道路の下を JR 線の線路が通過している所は 1 か所である。

3 次の図を見て、あとの(1)~(5)の問いに答えなさい。



(注) 島等は省略したのものもある。また、国境に一部未確定部分がある。

(1) 図中の大陸のうち、本初子午線が通る大陸名をすべて書きなさい。ただし、図中には、六大陸のうち南極大陸を除く五つの大陸が示してある。

(2) 右の2枚の写真は、ある同じ宗教を信仰する人々の生活の様子の一部を示したものである。図中のア~エの国のうち、この宗教を信仰する人々の、人口に占める割合が最も高い国はどれか。最も適当なものを一つ選び、その符号を書きなさい。



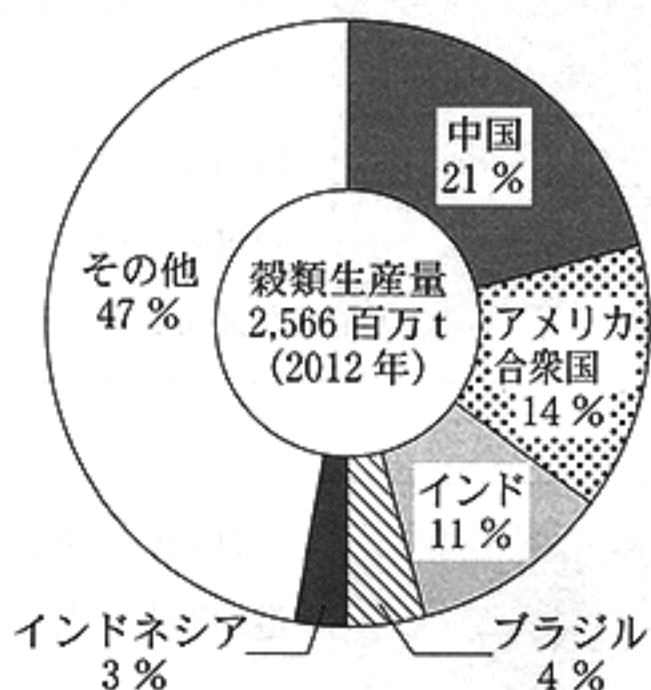
(3) 図中のロサンゼルスでは、西経120度の経線で標準時を定めている。日本が2月9日午前9時のとき、ロサンゼルスでは2月何日の何時か書きなさい。なお、午前、午後については、解答用紙の「午前」、「午後」のいずれかを○で囲むこと。

(4) 次の文章は、図中に矢印で示した南アジアに吹く風について説明したものである。文章中の  にあてはまる適当な語を書きなさい。

図中の矢印は、海洋から大陸へ風が吹いていることを示しており、これは夏の風向きである。この地域では、  という夏と冬で風向きが変わる風が吹いている。

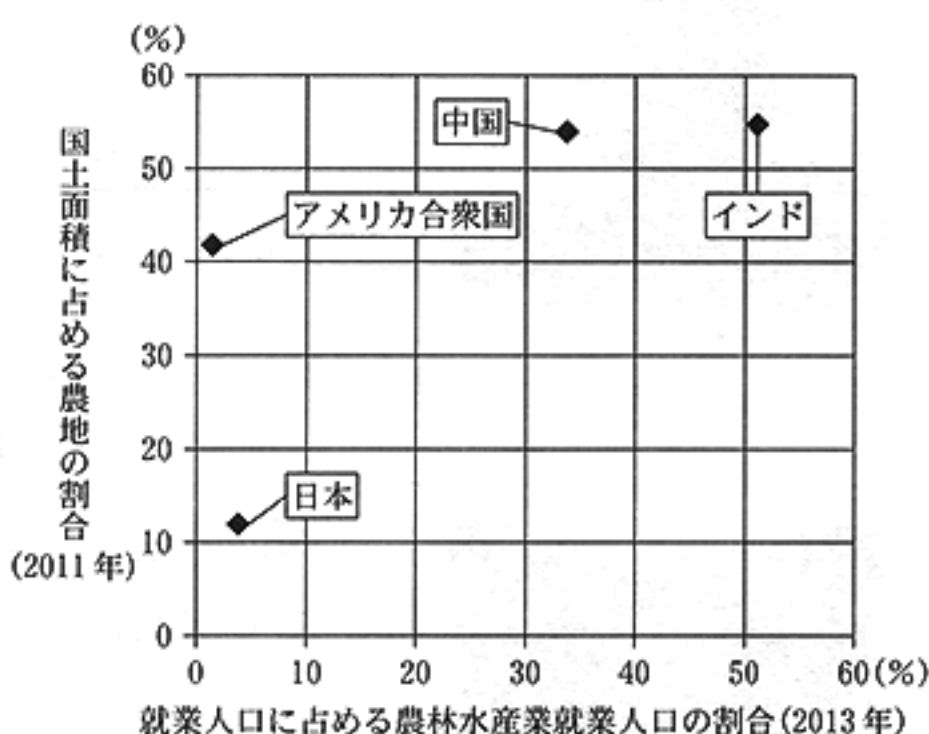
- (5) こうたさんは、前のページの図中の中国、アメリカ合衆国及びインドの農業と貿易について調べ、次の資料1～資料3のようにまとめた。これらの資料から読み取れることとして最も適切なものを、あとのア～エのうちから一つ選び、その符号を書きなさい。

資料1 穀類生産量上位5か国の世界の穀類生産量に占める割合



(総務省統計局「世界の統計 2015」より作成)

資料2 就業人口に占める農林水産業就業人口の割合と国土面積に占める農地の割合



(「世界国勢図会 2014/15」より作成)

資料3 中国、アメリカ合衆国及びインドの3か国と日本との貿易(百万ドル)

	日本への輸出総額		日本からの輸入総額	
		農林水産物輸出額		農林水産物輸入額
中国	181,052	12,131	126,472	586
アメリカ合衆国	71,390	17,564	128,794	881
インド	6,988	920	8,121	8

(注) 表中のデータは、アメリカ合衆国は2013年、中国とインドは2014年のものである。

(「農林水産省ホームページ」より作成)

- ア 中国、アメリカ合衆国、インドの3か国で、世界の穀類生産量の46%を占めている。この3か国の日本への農林水産物輸出額の合計は、500億ドル以上である。
- イ アメリカ合衆国は、就業人口に占める農林水産業就業人口の割合が日本よりも低い。アメリカ合衆国の日本からの農林水産物輸入額は、日本への農林水産物輸出額よりも多い。
- ウ インドと中国は、国土面積に占める農地の割合がともに50%以上である。インドの日本への農林水産物輸出額は、日本への輸出総額の約30%を占めている。
- エ 中国の穀類生産量は5億t以上である。中国は日本との貿易において、輸出総額は輸入総額を、農林水産物輸出額は農林水産物輸入額を、それぞれ上回っている。

4 次のA～Dは、夏休みに、ちなつさんのもとに友達から届いた4通の絵はがきである。これらを見て、あとの(1)～(5)の問いに答えなさい。

A



家族旅行で奈良の法隆寺を見学してきました。この寺が建てられたころ、冠位十二階の制度が定められました。

B



鎌倉時代に活動した法然にゆかりのある京都の知恩院に來ています。彼の教えは弟子の親鸞らに影響をあたえました。

C



種子島に來ました。この島に流れ着いた中国船に乗っていたポルトガル人により、日本に初めて鉄砲が伝えられました。

D



日米和親条約で港が開かれた下田にいます。開国後、さらに幕府は日米修好通商条約を結び、自由な貿易を認めました。

(1) Aの絵はがき中の下線部aに関連して、次の文は、冠位十二階の制度について述べたものである。文中の□にあてはまる適当なことばを、「家柄」「才能」「功績」の三つの語を用いて、20字以内(読点を含む。)で書きなさい。

この制度は□を役人に取り立てることを目的としたもので、かんむりの色などにより朝廷での位を示した。

(2) Bの絵はがき中の下線部bに関連して、この人物について説明した文として最も適当なものを、次のア～エのうちから一つ選び、その符号を書きなさい。

ア 中国から帰国した後に、高野山に金剛峯寺を建て、真言宗を開いた。

イ 「南無阿弥陀仏」と念仏を唱えれば、誰でも極楽浄土に生まれ変われると説いた。

ウ 座禅による厳しい修行を通して、自らの力でさとりを開こうとする禅宗を伝えた。

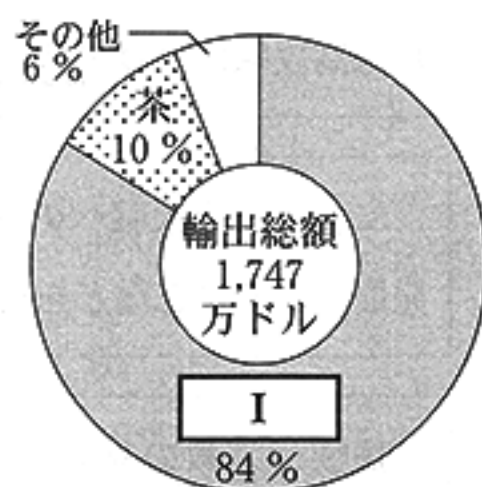
エ 「南無妙法蓮華経」という題目を唱えれば、人も国も救われると説いた。

- (3) Cの絵はがき中の下線部cに関連して、このできごとと同じころに起こったできごととして最も適当なものを、次のア～エのうちから一つ選び、その符号を書きなさい。
- ア ルターがカトリック教会を批判し、聖書の教えに立ち返ることを主張した。
- イ ワシントンがアメリカ合衆国の初代大統領に就任した。
- ウ マルコ・ポーロが元の都である大都を訪れ、皇帝のフビライ・ハンに仕えた。
- エ クロムウェルを指導者としてピューリタン革命が起こり、共和制が実現した。

- (4) Dの絵はがき中の下線部dに関連して、次の文章は、この条約が結ばれたことにより始まった日本と外国との貿易について説明したものである。文章中の  I 、 II  にあてはまる語として最も適当なものを、それぞれあとの選択肢ア～エのうちから一つずつ選び、その符号を書きなさい。なお、文章中とグラフ中の  I  には同じ語があてはまる。

外国との貿易が始まったころ、日本の最大の輸出品として  I  が取り引きされ、貿易相手国としては  II  が中心であった。右のグラフは、このころの横浜港における主要輸出品の輸出総額に占める割合を示したものである。

横浜港における主要輸出品の輸出総額に占める割合(1865年)



(「幕末貿易史の研究」より作成)

I  の選択肢：ア 毛織物

イ 銅

ウ 生糸

エ 綿織物

II  の選択肢：ア イギリス

イ アメリカ

ウ オランダ

エ ロシア

- (5) 次の絵はがきは、ちなつさんが家族旅行で出かけた場所から友達に送ったものである。ちなつさんの絵はがきに書かれた内容について説明した、あとの文章中の   にあてはまる適当なことばを書きなさい。



家族で山口県に来ています。

今日は、しょうかそんじゅく 松下村塾を見学し、よしだしょういん 吉田松陰について学んできました。

大老のいいなおすけ 井伊直弼は、左の絵はがきに登場した吉田松陰をはじめ、幕府の政策に反対した大名や公家などを処罰した。これを   という。



5 次のA～Fのカードは、社会科の授業で、さとしさんたちの班が「明治時代以降の日本と世界の歴史」をテーマに調べ、まとめたものである。これらを読み、あとの(1)～(5)の問いに答えなさい。

A カンファド  
江華島事件により日朝修好条規が結ばれました。これは外国人の犯罪はその国の領事が裁くという領事裁判権などを朝鮮が認めさせられた不平等条約でした。  
こうかとう  
a

B 日清戦争の結果、清の弱体化が明らかになると、イギリス、フランスなどの列強は競って清へ勢力を伸ばし始めました。  
b

C 第一次世界大戦が起こり、日本は連合国側で参戦しました。この戦争では、飛行機などの新兵器が登場し、特にヨーロッパでは国力のすべてをつぎ込む総力戦となりました。  
c

D ルー コウチアオ  
盧溝橋付近での日中両軍の武力衝突をきっかけに日中戦争が始まりました。その後、しんじゅわん  
真珠湾攻撃によりアメリカとの戦争も始まり、戦争は長期化しました。  
d

E 二度の世界大戦への反省から、世界の平和と安全を維持することや諸国間の友好関係を発展させることなどを目的に国際連合が発足しました。  
e

F 民族や宗教の対立などから、世界各地で地域紛争が今もなお続いています。アメリカ同時多発テロ(事件)では多くの犠牲者が出ました。  
f

(1) カードA中の下線部 a に関連して、次の文は、日本の不平等条約改正について述べたものである。文中の  にあてはまる人物名を書きなさい。

が外務大臣のときに日英通商航海条約が結ばれ、領事裁判権が撤廃されて、関税自主権の一部も認められた。

(2) カードB中の下線部 b に関連して、次の文章は、この戦争後に起こったできごとについて述べたものである。このできごとを何というか。最も適当なものを、あとのア～エのうちから一つ選び、その符号を書きなさい。

列強の中国分割に対して、清では外国の勢力を排除しようという動きが強まった。この動きは北京に広がり、各国の公使館を包囲した。日本を中心とする8か国の連合軍は共同で出兵してこれをしずめた。

ア 義和団事件      イ しんがい 辛亥革命      ウ 甲午農民戦争      エ 五・四運動

- (3) カードC中の下線部cに関連して、次の文章は、この大戦後に設立された国際連盟について述べたものである。文章中の **I** , **II** にあてはまる語の組み合わせとして最も適当なものを、あとのア～エのうちから一つ選び、その符号を書きなさい。

国際連盟は、国際社会の平和と安全を守るために設立された機関である。この機関は **I** に本部が置かれ、 **II** が事務(局)次長として活躍した。

- ア I : ポーツマス II : 美濃部達吉      イ I : ジュネーブ II : 美濃部達吉  
ウ I : ポーツマス II : 新渡戸稲造      エ I : ジュネーブ II : 新渡戸稲造

- (4) カードD中の下線部dに関連して、この戦争中の日本の社会や人々の生活の一部を述べたものとして最も適当なものを、次のア～エのうちから一つ選び、その符号を書きなさい。

- ア 大学などの数が増えて知識層が拡大する中で、メディアが発達し、1日に100万部以上を発行する新聞があらわれるようになり、ラジオ放送も始まった。  
イ 石油危機の影響で石油や石油を原料とする製品の値上がりが起こり、品不足への不安などから人々がトイレットペーパーなどの売り場に殺到した。  
ウ 労働力不足を補うため中学生や女学生なども勤労働員の対象となり、空襲が激しくなると、都市部の小学生は地方の農村などに集団で疎開した。  
エ 人々はコートや帽子を身につけたり牛肉を食べたりするなど生活様式が変わり、暦も、それまでの暦に代わって太陽暦が採用され、7日が1週間とされた。


- (5) 次のア～エは、カードE中の下線部eとカードF中の下線部fの二つのできごとの間に起こったことである。これらを年代の古いものから順に並べ、その符号を書きなさい。

ア



株価や地価が急激に上昇するバブル経済(景気)が起こった。

イ



高度経済成長期に、公害問題が深刻化し、環境庁が設置された。

ウ



経済の民主化を目指し、日本経済を支配してきた財閥が解体された。

エ



朝鮮戦争が始まると、軍需物資が日本で調達され、特需景気が起こった。

6 次の文章を読み、あとの(1)~(3)の問いに答えなさい。

日本国憲法は、前文で国民主権を宣言し、「日本国民は、正当に選挙<sup>a</sup>された国会<sup>b</sup>における代表者を通じて行動]するとしています。選挙は国民が自らの意思を表示する重要な機会です。しかし、選挙における投票率の低下傾向<sup>c</sup>がみられ、特に若者の投票率が低くなっています。

- (1) 下線部 a に関連して、次の文章は、衆議院議員選挙のしくみについて述べたものである。文章中の  にあてはまる適当なことばを、「政党」「得票」の二つの語を用いて 25 字以内(読点を含む。)で書きなさい。

衆議院議員選挙は、小選挙区制と比例代表制とを組み合わせた小選挙区比例代表並立制で行われる。小選挙区制では、選挙区ごとに一人の議員が選出される。また、比例代表制では、有権者が  を配分するしくみがとられている。

- (2) 下線部 b に関連して、次の文章は、衆議院議員選挙後の国会の動きについて述べたものである。文章中の  I  ,  II  にあてはまる適当な語を、それぞれ漢字 2 字で書きなさい。

国会は、国会議員の中から内閣総理大臣を指名する。そして内閣総理大臣は、内閣を組織する。この内閣に参加して政権を担<sup>にん</sup>う政党を  I  といい、政権を担わない政党を  II  という。

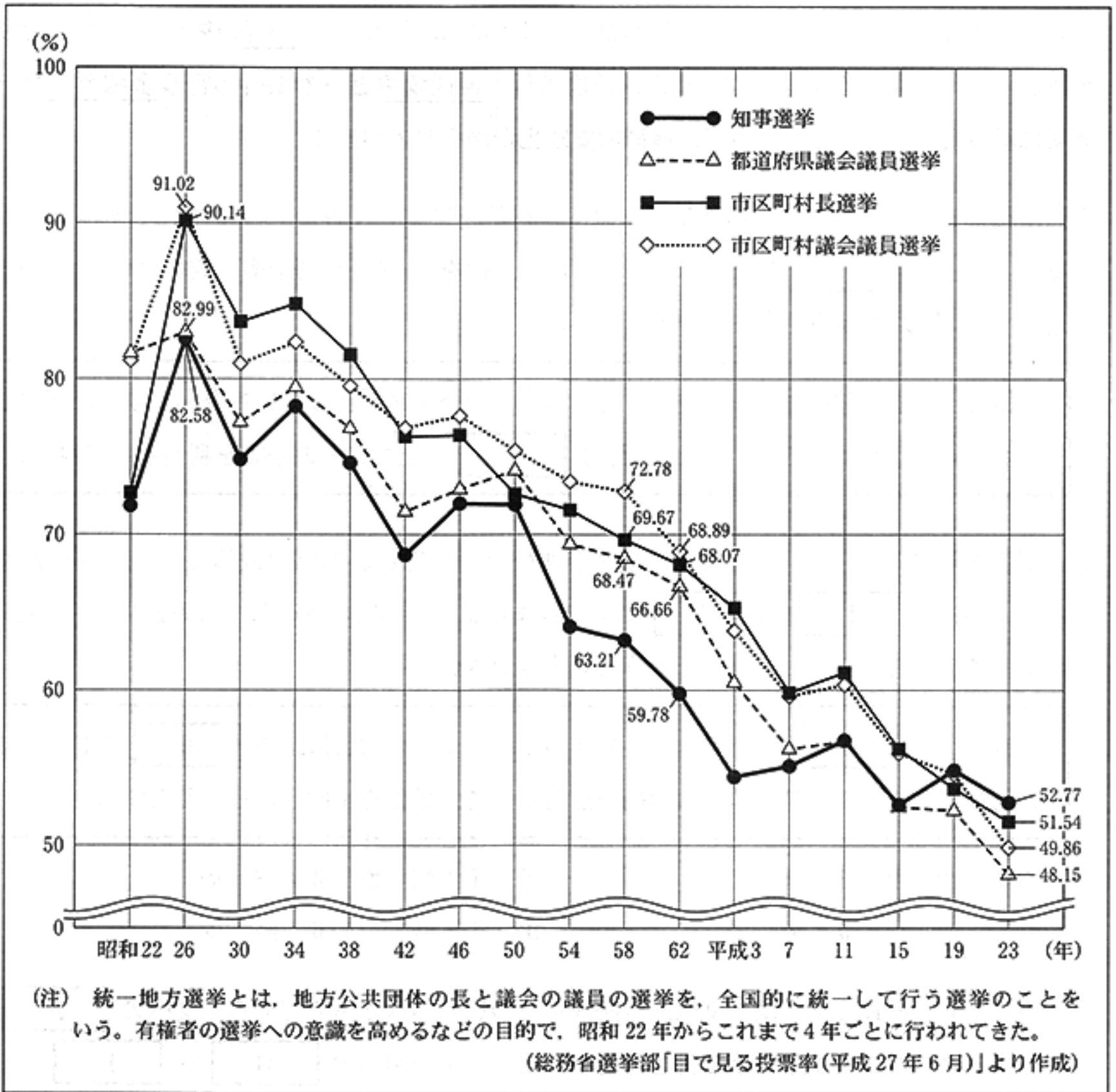
- (3) 下線部 c に関連して、次の文章は、社会科の授業で、ひろきさんたちの班が右のページの資料を見ながら「投票率を高める方法」について話し合っている場面の一部である。文章中の  X  ,  Y  にあてはまるものとして最も適当なものを、それぞれあとの選択肢ア~エのうちから一つずつ選び、その符号を書きなさい。

ひろきさん：この資料を見ると、私たちに身近な地方公共団体の選挙でも投票率が低下傾向にあることがわかるね。

かおるさん：確かにそうね。例えば、資料中の四つの選挙のうち  X  ことが、この資料からわかるわね。投票率を高めるには、どうすればよいのかしら。

かずやさん：やっぱり、みんなが政治に関心を持つようにしなければいけないんじゃないかな。地方自治は「 Y  主義の学校」といわれるよね。まずは、身近な地域の問題を考えることから始めていくことが大切だと思うよ。

資料 統一地方選挙における投票率の推移



**X** の選択肢

- ア 知事選挙の投票率は、昭和26年には82.58%だったけれども、昭和62年に初めて60%以下となり、その後、さらに低下を続けて平成23年には50%以下になっている
- イ 都道府県議会議員選挙の投票率は、昭和26年には82.99%と、わずかに知事選挙の投票率を上回っていたけれども、平成23年には四つの選挙の中で最も低くなっている
- ウ 市区町村長選挙の投票率は、昭和26年には90%以上だったけれども、昭和58年に初めて70%以下となった後は、平成23年まで一度も上昇することなく低下し続けている
- エ 市区町村議会議員選挙の投票率は、昭和26年には91.02%と、四つの選挙の中で最も投票率が高かったけれども、平成23年には昭和26年の投票率の半分以下にまで低下している

**Y** の選択肢

- ア 平和                      イ 社会                      ウ 資本                      エ 民主

7 次の文章を読み、あとの(1)~(3)の問いに答えなさい。

日本の中央銀行は日本銀行です。日本銀行には主に「発券銀行」,<sup>a</sup>「銀行の銀行」,<sup>b</sup>「政府の銀行」と呼ばれる三つの役割があります。また、政府の行う財政政策と日本銀行の行う金融政策など<sup>c</sup>とを適切に組み合わせることによって、経済の安定化が図られています。

- (1) 下線部 a に関連して、次の文章は、銀行が利益を得るしくみの一つについて述べたものである。文章中の  にあてはまる適当なことばを、「預金」「利子率」「貸し出し」の三つの語を用いて 25 字以内(読点を含む。)で書きなさい。

銀行は家計の貯蓄などを預金として預かり、資金を必要としている企業や家計などにその預金を貸し出している。この際、銀行は  ことで、その差額を利益として得ている。

- (2) 下線部 b に関連して、次の文は、景気が悪いときに行われる財政政策について述べたものである。文中の  I  ,  II  にあてはまる語の組み合わせとして最も適当なものを、あとのア~エのうちから一つ選び、その符号を書きなさい。

政府は、 I  を行ったり、公共事業への支出(公共投資)を  II  させたりすることなどにより、生産や消費の活動を活発にして、景気を上向きにしようとする。

ア I : 増 税 II : 増 加

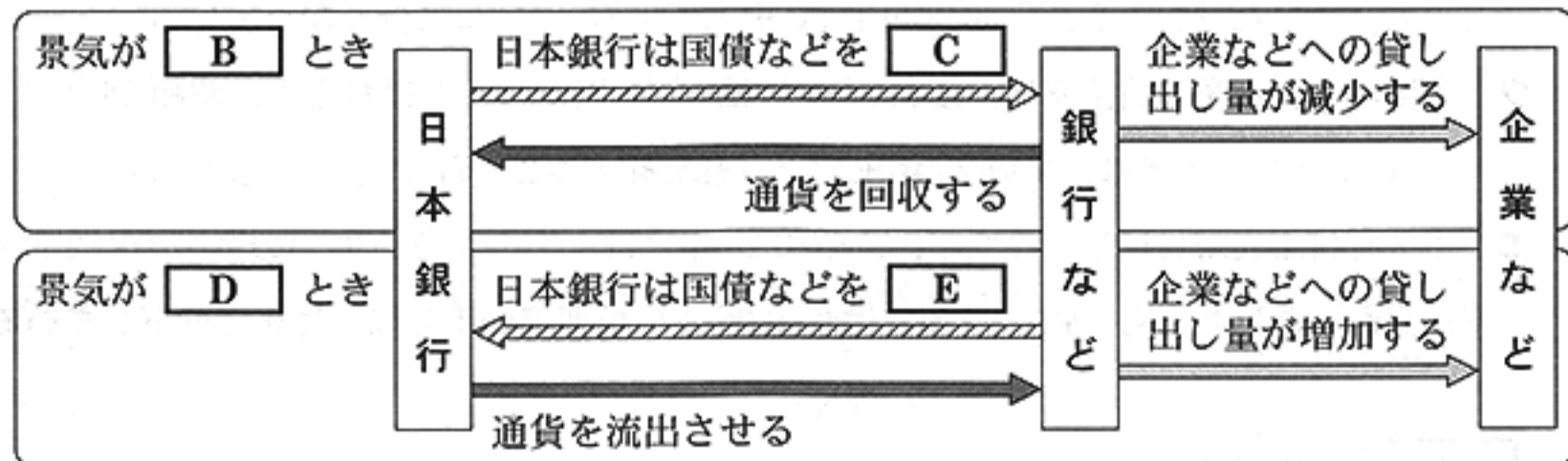
イ I : 減 税 II : 増 加

ウ I : 増 税 II : 減 少

エ I : 減 税 II : 減 少

- (3) 下線部 c に関連して、次の文は、金融政策について述べたものである。文中の  A  にあてはまる適当な語を漢字 4 字で書きなさい。また、下の図中の  B  ~  E  のうち、 B  と  C  とにあてはまることばの組み合わせとして最も適当なものを、あとのア~エのうちから一つ選び、その符号を書きなさい。

日本銀行は、下の図で示したように、国債などの売買によって銀行などの資金量を増減させ、企業などへの貸し出し量を調整する  A  操作という方法を主にとっている。



ア B : 良 い C : 売 る

イ B : 良 い C : 買 う

ウ B : 悪 い C : 買 う

エ B : 悪 い C : 売 る

8 次の文章は、2013年7月12日、マララ・ユスフザイさんが16歳の誕生日に国際連合本部で行ったスピーチの一部である。この文章を読み、あとの(1)、(2)の問いに答えなさい。

親愛なる兄弟姉妹の皆さん、何百万もの人が貧困、不正、無知に苦しんでいることを忘れてはなりません。<sup>a</sup>何百万もの子どもたちが学校に通えていない現実を忘れてはなりません。<sup>b</sup>私たちの兄弟姉妹が、明るく平和な未来を待ち望んでいることを忘れてはならないのです。

ですから、本とペンを手に取り、全世界の無学、貧困、テロに立ち向かいましょう。それこそ私たちにとって最も強力な武器だからです。



スピーチを行うマララさん

(スピーチの文章は、「国際連合広報センターホームページ」より一部引用)

(1) 下線部 a に関連して、次の文章は、国際的な人権保障に向けた国際連合の動きについて述べたものである。文章中の  に共通してあてはまる適当な語を漢字6字で書きなさい。

国際連合において、1948年、人権保障について、各国が達成すべき共通の基準を定めた  が採択された。さらに、この  で定めた内容を実現するため、1966年には法的な拘束力こうそくのある国際人権規約が採択された。

(2) 下線部 b に関連して、次のA～Dは、まゆみさんが、子ども(児童)の権利条約には大きく分けて四つの権利があることを学習し、まとめたものである。それぞれどの権利の内容をまとめたものか。最も適当なものを、あとのア～エのうちから一つずつ選び、その符号を書きなさい。

A

防げる病気などで命を奪われないことなど。



B

教育を受けることや、休んだり遊んだりできることなど。



C

あらゆる種類の虐待ぎゃくたいなどから守られることなど。



D

自由に意見を表明したり、集まってグループを作ったり、自由な活動を行ったりできることなど。



ア 守られる権利

イ 生きる権利

ウ 参加する権利

エ 育つ権利

問題番号	正 解				配点及び注意	計		
1	(1)	イ				3	12	
	(2)	年代の古い順	1	2	3	3		・全部できた場合、点を与える。 ・
		符 号	ア	ウ	イ			
	(3)	ウ				3		
(4)	流 通				3	・漢字2字指定		
2	(1)	D				3	15	
	(2)	ア				3		
	(3)	I	中 京	II	エ	3		・Iは漢字2字指定 ・両方できた場合、点を与える。
	(4)	①	ウ	②	イ	各3		
3	(1)	ユーラシア大陸、アフリカ大陸				3	15	
	(2)	ウ				3		
	(3)	2月8日 午前 (午後) 4時				3		
	(4)	モンスーン				3		・「季節風」でもよい。 (ひらがなでもよい。)
	(5)	エ				3		
4	(1)	家柄にとらわれず、才				4	・正解文の趣旨にそっていればよい。 ・部分点を与えてもよい。	
		能や功績のある人物						
	(2)	イ				3	16	
	(3)	ア				3		
	(4)	I	ウ	II	ア	3		・両方できた場合、点を与える。
(5)	安政の大獄				3	・ひらがなでもよい。		

問題番号	正 解					配 点 及 び 注 意		計		
5	(1)	陸奥宗光					3	・ひらがなでもよい。	15	
	(2)	ア					3			
	(3)	エ					3			
	(4)	ウ					3			
	(5)	年代の古い順	1	2	3	4	3	・全部できた場合、点を与える。		
符 号	ウ	エ	イ	ア						
6	(1)	政 党 の 名 前 を 書 い て 投 票 し、 得 票 に 応 じ て 各 政 党 に 議 席					4	・正解文の趣旨にそっていればよい。 ・部分点を与えてもよい。	11	
	(2)	I	与 党	II	野 党	3	・I、IIとも、漢字2字指定 ・両方できた場合、点を与える。			
	(3)	X	イ	Y	エ	各2				
7	(1)	預 金 の 利 子 率 よ り も、 貸 し 出 し の 利 子 率 を 高 く 設 定 す る					4	・正解文の趣旨にそっていればよい。 ・部分点を与えてもよい。	10	
	(2)	イ					3			
	(3)	A	公開市場	BとC	ア		3	・Aは漢字4字指定 ・両方できた場合、点を与える。		
8	(1)	世界人権宣言					3	・漢字6字指定	6	
	(2)	A	イ	B	エ	C	ア	D		ウ
合						計		100		