

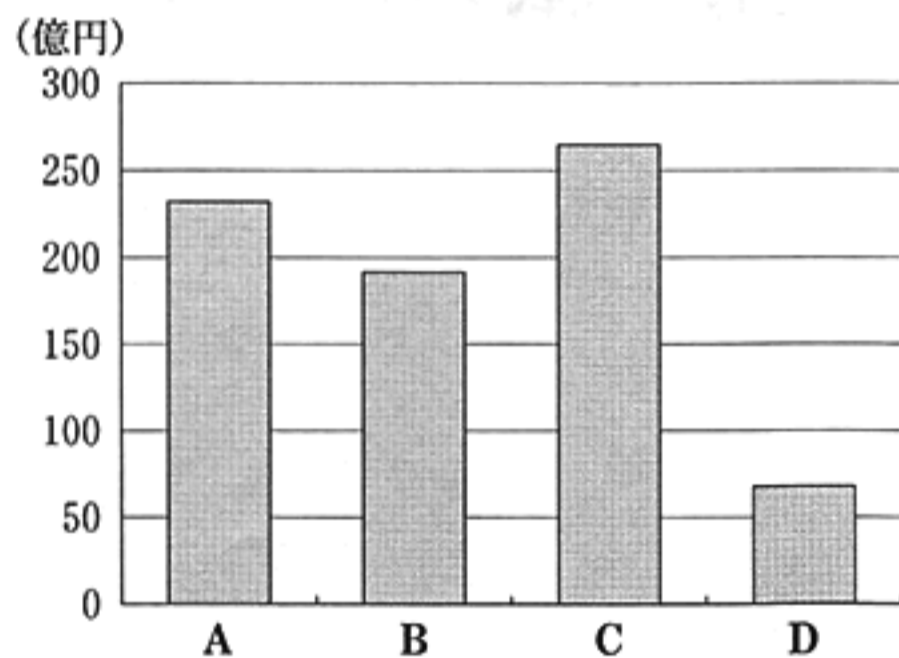
1 次の文章を読み、あとの(1)~(3)の問いに答えなさい。

千葉県は花き栽培がさかんです。また、全国有数の植木の生産地でもあり、専門の職人の伝統技術^aによって理想の容姿に仕立てられた植木などが海外へ輸出されています。特に中国では、千葉県の「県の木」である「マキ」が幸せを呼ぶ縁起のよい樹木^bとされて人気があります。

(注) 花きとは鑑賞用に栽培する植物のことである。^c

(1) 下線部 a に関連して、次の資料 1 は、埼玉県、高知県、福岡県及び千葉県の花きの産出(出荷)額を、資料 2 は、これら四つの県の総面積、昼夜間人口比率及び野菜の収穫量を示したものである。資料 1、資料 2 中の A~D が示す県の組み合わせとして最も適当なものを、あとのア~エのうちから一つ選び、その符号を書きなさい。なお、資料 1、資料 2 中の A~D の符号はそれぞれ同じ県を示している。

資料 1 埼玉県、高知県、福岡県及び千葉県の花きの産出(出荷)額(2013年)



(「農林水産省ホームページ」より作成)

資料 2 埼玉県、高知県、福岡県及び千葉県の総面積、昼夜間人口比率及び野菜の収穫量

	総面積(km ²) (2013年)	昼夜間人口比率(%) (2010年)	野菜の収穫量(t)(2013年)		
			はくさい	なす	いちご
A	4,979	100.1	7,280	20,500	17,500
B	3,798	88.6	22,900	9,860	3,760
C	5,157	89.5	8,640	9,030	6,710
D	7,105	99.9	2,460	36,700	1,160

(注) 昼夜間人口比率(%)は、(昼間人口÷夜間人口)×100の値である。

(「データでみる県勢 2015」, 「農林水産省ホームページ」より作成)

- | | | | |
|-----------|---------|---------|---------|
| ア A : 福岡県 | B : 埼玉県 | C : 千葉県 | D : 高知県 |
| イ A : 高知県 | B : 埼玉県 | C : 千葉県 | D : 福岡県 |
| ウ A : 福岡県 | B : 千葉県 | C : 埼玉県 | D : 高知県 |
| エ A : 高知県 | B : 千葉県 | C : 埼玉県 | D : 福岡県 |

- (2) 下線部 b に関連して、次の文章は、通貨が異なる国などとの貿易に必要な通貨の交換について述べたものである。文章中の に共通してあてはまる適当な語を書きなさい。

通貨と通貨を交換する比率を 相場(レート)という。例えば日本とアメリカとの貿易において、1ドル=120円が1ドル=110円になった場合のような、ドルに対して円の価値が高くなる 相場(レート)の動きは円高とよばれる。

- (3) 下線部 c に関連して、次のア～ウのカードは、社会科の授業で、けいこさんたちの班が千葉県内の「歴史上の人物にゆかりがある樹木」について調べ、まとめたものである。ア～ウのカードを、それぞれのカード中の人物が活動した年代の古いものから順に並べ、その符号を書きなさい。

ア

イ

ウ

^{とうがね}東金市にある^{ほんぜんじ}本漸寺には、徳川家康が植えたとされる^{みかん}蜜柑の木があります。徳川家康は、関ヶ原の戦いで豊臣政権を守ろうとした大名らと戦った人物です。

^{ちやうなん}長南町にある、^{さいちやう}最澄が開いたとされる^{かさもりじ}笠森寺には、三本杉などの名木の残る自然林があります。最澄は、唐から帰国した後、天台宗を開いた人物です。

^{ふつつ}富津市にある^{やくおうじ}薬王寺には、松平定信が植えたとされるオハツキイチョウがあります。松平定信は、湯島^{しょうへいざかがくもんじょ}に昌平坂学問所をつくった人物です。

2 次の図を見て、あとの(1)~(4)の問いに答えなさい。



(1) 図中の①~④の県のうち、県名と県庁所在地名が異なる県が一つある。その県庁所在地名を漢字で書きなさい。

(注) ● : 同じ発電の方法による発電所(最大出力180万kW以上)
〔データでみる県勢2015〕より作成

(2) 次の資料1は、米の収穫量(2013年)が全国上位5位までの **A** ~ **E** の道県についてまとめたものであり、資料2は、資料1中の五つの道県について、やすおさんたちが班で話し合っている場面の一部である。資料1中の **C** と **D** にあてはまる道県として最も適当なものを、それぞれ図中のあ~おのうちから一つずつ選び、その符号を書きなさい。

資料1 米の収穫量(2013年)が全国上位5位までの道県の10アールあたり米の収量、稲の作付延べ面積、農業産出額及び米の産出額

道県名	10アールあたり 米の収量(kg) (2013年)	稲の作付延べ面積 (ヘクタール) (2013年)	農業産出額 (億円) (2012年)	米の産出額 (億円) (2012年)
A	608	68,300	2,352	972
B	555	119,700	2,775	1,698
C	542	77,100	4,281	1,008
D	572	92,500	1,877	1,204
E	562	112,000	10,536	1,439

〔データでみる県勢2015〕より作成

資料2 班で話し合っている場面の一部

やすおさん：これら五つの道県のうち、稲の作付延べ面積が10万ヘクタールを超えているのは、北海道と新潟県だけだよ。

くみこさん：北海道は、農業産出額に占める米の産出額の割合では、これら五つの道県の中で最も低いね。逆に一番高いのは秋田県で約64%だよ。

たくみさん：農業産出額に含まれるのは、米の産出額だけではないからね。茨城県も農業産出額に占める米の産出額の割合が北海道の次に低いよ。

みなみさん：山形県は、これら五つの道県の中で、10アールあたり米の収量が一番多いよ。

- (3) 次の文章は、前のページの図中に●で示した発電所で行われている発電の方法について説明したものである。文章中の□に共通してあてはまる適当な語を漢字で書きなさい。

これらの発電所は、燃料の輸入に便利で、電力需要も多い大都市や工業地域に近い臨海部に立地している□発電所である。□発電は、1960年代に電力需要が増えたことにより、日本の中心的な発電の方法となった。

- (4) 次の地形図1、地形図2は、それぞれ昭和62年及び平成23年発行の富山県のある地域を示したものであり、あとの文章は、みゆきさんが、この2枚の地形図を比較して、読み取ったことからまとめたレポートの一部である。文章中の下線部ア～エのうち、内容が誤っているものを一つ選び、その符号を書きなさい。

地形図1



(国土地理院 昭和62年発行 1:25,000「上市」原図より作成)

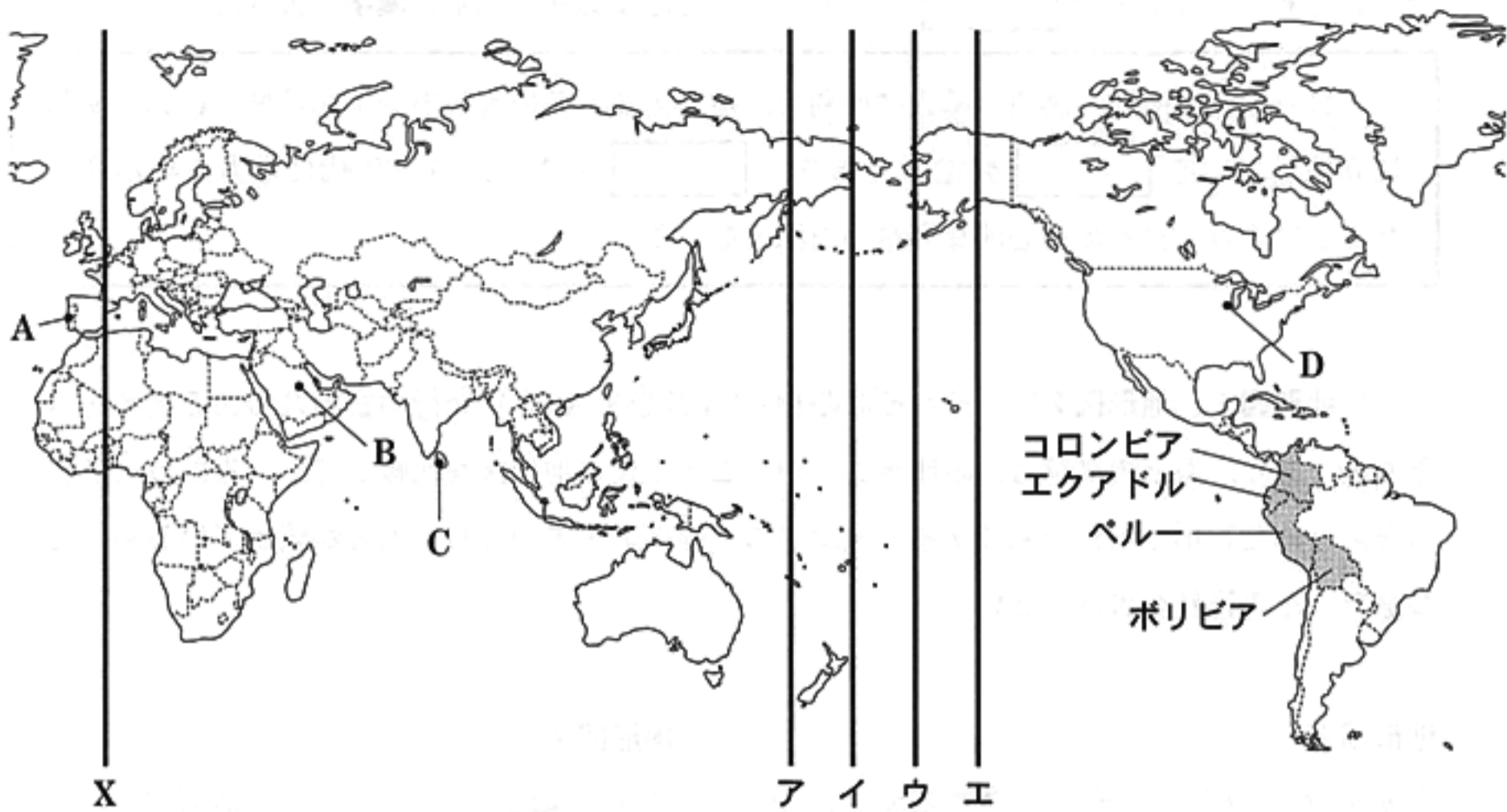
地形図2



(国土地理院 平成23年発行 1:25,000「上市」原図より作成)

以前は田であったところに住宅がつけられました。そして、村役場から見てほぼ南南西の方向にはア高等学校が、ほぼ北北東の方向にはウ老人ホームがつけられました。また、「えイちゅうふなはし」駅の近くには、新たに郵便局とエ図書館がつけられました。

3 次の図を見て、あとの(1)~(4)の問いに答えなさい。



(注) 島等は省略したものもある。また、国境に一部未確定部分がある。

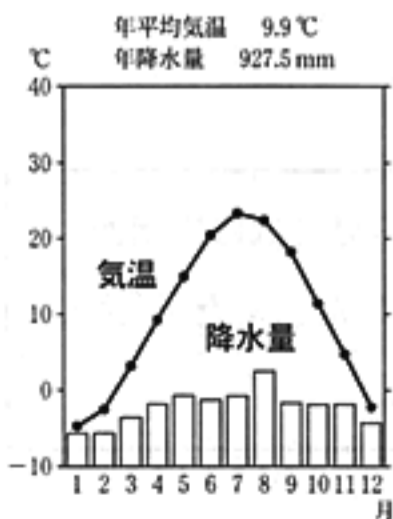
(1) 世界を六つの州に区分したとき、次の五つの国は、それぞれ異なる州に属している。これらの国が属していない州名を書きなさい。

スウェーデン、ナイジェリア、チリ、モンゴル、メキシコ

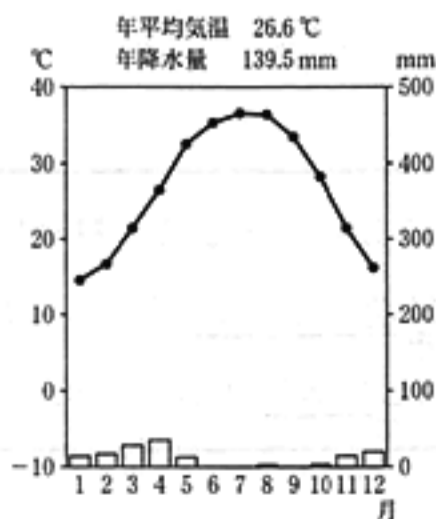
(2) 図中の線 X は、本初子午線を示している。地球儀上で、本初子午線を延長し地球を一周させるとき描かれる線は、図中ではどこに描かれるか。最も適当なものを、図中のア~エのうちから一つ選び、その符号を書きなさい。

(3) 次の①~④のグラフは、図中の A~D の都市における月平均気温と月降水量の変化の様子を示したものである。これらのうち、①のグラフはどの都市のものか。最も適当なもの一つを選び、その符号を書きなさい。

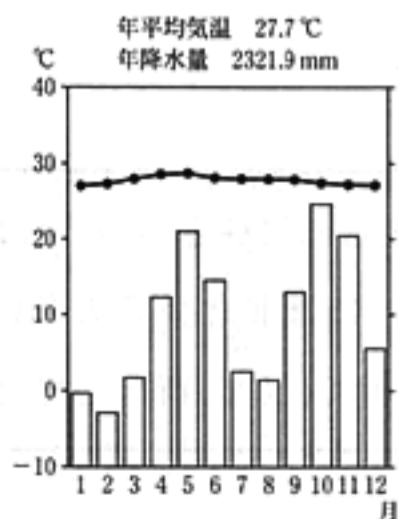
①



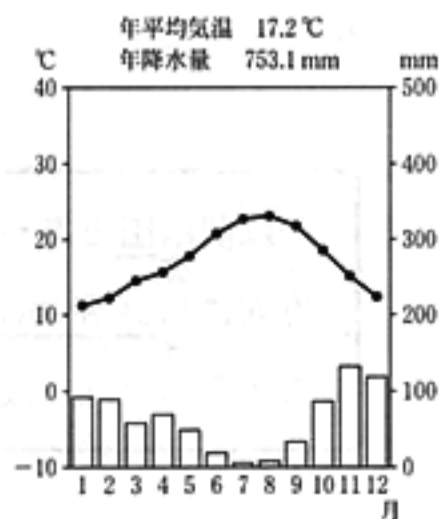
②



③



④



(注) グラフ中のデータは1981年から2010年までの平均値を示す。

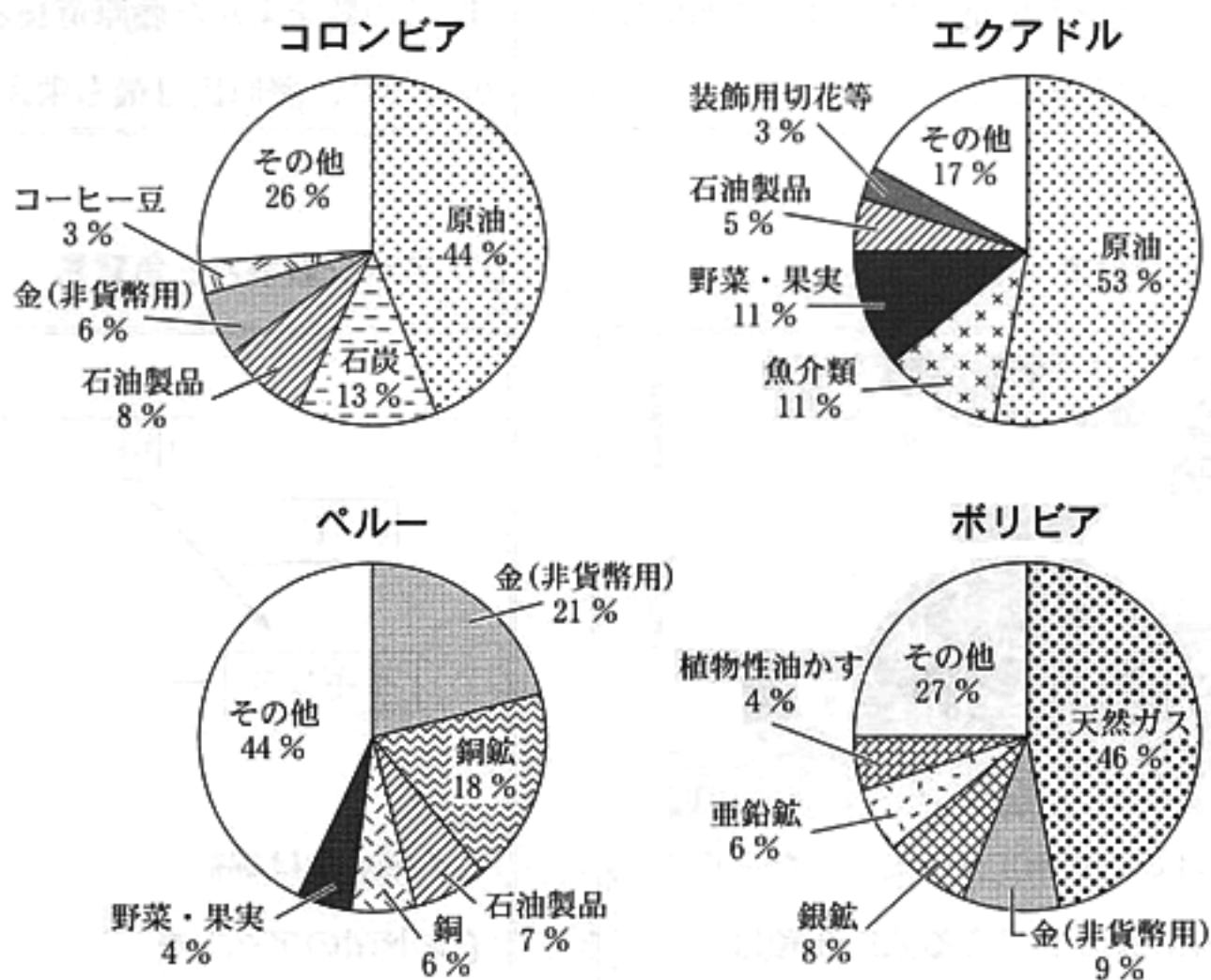
(「理科年表平成27年」より作成)

(4) 次の資料1は、前のページの図中のコロンビア、エクアドル、ペルー及びボリビアの2007年と2012年の貿易額を、資料2は、これら4か国の2012年の輸出上位5品目の輸出額に占める割合を示したものである。資料1と資料2から読み取れることとして最も適当なものを、あとのア～エのうちから一つ選び、その符号を書きなさい。

資料1 コロンビア、エクアドル、ペルー及びボリビアの2007年と2012年の貿易額(百万ドル)

	コロンビア		エクアドル		ペルー		ボリビア	
	2007年	2012年	2007年	2012年	2007年	2012年	2007年	2012年
輸出額	29,786	60,274	13,852	23,852	27,882	45,946	4,458	11,793
輸入額	33,164	58,088	13,565	25,197	19,580	42,274	3,457	8,281

資料2 コロンビア、エクアドル、ペルー及びボリビアの2012年の輸出上位5品目の輸出額に占める割合



(資料1、資料2は「世界国勢図会 2014/15」などより作成)

- ア これら4か国のうち、2012年の輸出額が2007年の輸出額の2倍以上になった国はすべて、輸出上位5品目に石油製品が入っている。
- イ これら4か国のうち、2007年、2012年ともに輸出額が輸入額を上回っている国はすべて、輸出上位5品目に野菜・果実が入っていない。
- ウ コロンビアとエクアドルの輸出上位5品目を見ると、2か国とも原油が第1位である。これら2か国の2012年の貿易額は、ともに輸出額が輸入額を上回る貿易黒字である。
- エ ペルーとボリビアの輸出上位5品目を見ると、2か国とも鉱産資源が第1位である。これら2か国の第1位品目の2012年の輸出額は、ともに50億ドル以上である。

4 次のA～Dは、たくやさんのクラスが文化祭で行った「ミニ歴史博物館」で展示したパネルである。これらを見て、あとの(1)～(5)の問いに答えなさい。

A：7世紀中ごろの天皇家の系図

(一部省略、■は女性天皇を示す)

なかとみのかまたり
中臣鎌足らと新しい政治のしくみをつくる改革を行った中大兄皇子は、のちに即位して天智天皇となりました。

B：藤原氏の摂関政治

この世をば
わが世とぞ思う
望月の
欠けたることも
なしと思えば
（『小右記』より）

「紫式部日記絵詞」に描かれた藤原道長

上の歌は、藤原氏の栄華を表現したものです。この歌をよんだ藤原道長と、子の藤原頼通のときに、藤原氏は最も栄えました。

C：武田氏について

上の写真は、武田信玄をまつた武田神社です。武田信玄の子である武田勝頼は、長篠の戦いで織田信長に敗れました。

D：アヘン戦争と三角貿易

イギリスは綿織物などをインドに輸出し、インド産のアヘンを中国に密輸する三角貿易を行いました。

(1) Aのパネルに関連して、次の文章は、天武天皇について述べたものである。文章中の□にあてはまる最も適切なことばを、あとのア～エのうちから一つ選び、その符号を書きなさい。

天智天皇が亡くなると、後継者をめぐる争いから□が起こった。これに勝利して即位した天武天皇は、天皇の権威を強化した新しい政治のしくみをつくり上げていった。

- ア 応仁の乱 イ 白村江の戦い ウ 壬申の乱 エ 平治の乱

- (2) Bのパネルに関連して、次の文章は、藤原氏が政治の実権を握るためにとった方法について説明したものである。文章中の にあてはまる適当なことばを、「天皇」「きさき」「子」の三つの語を用いて、25字以内(読点を含む。)で書きなさい。

他の貴族を退けて、朝廷の主な役職を占めた藤原氏は ことで勢力をのぼした。そして、その天皇が幼いときには摂政^{せつしょう}として、成人してからは関白^{かんぱく}として、政治の実権を握った。

- (3) Cのパネルに関連して、次の文章は、武田氏などの戦国大名が領国支配の強化のためにとった政策の一つについて述べたものである。文章中の にあてはまる適当な語を漢字3字で書きなさい。

戦国大名は、自らの居所として城を築き、城の周辺に家臣や商工業者などを呼び寄せて住まわせ、城を中心とする をつくった。その例として、朝倉氏の一乗谷^{いちじょうだに}などが知られている。

- (4) Cのパネル中の下線部のできごとよりも後に起こったできごとを、次のア～エのうちから三つ選び、年代の古いものから順に並べ、その符号を書きなさい。

- ア 中国から墨一色で自然などを描く水墨画^{せつしゅう しゅうとうさんすいず}がもたらされ、雪舟は「秋冬山水図」を描いた。
イ 町人の風俗を美しく描く浮世絵^{ひしかわもろのぶ}を始めた菱川師宣^{みかえ びじんず}は「見返り美人図」を描いた。
ウ 旅の道中をこっけいに描いた「東海道中膝栗毛^{とうかいどうちゅうひざくりげ}」が十返舎一九^{じっぺんしゃいっく}により書かれた。
エ 豊臣秀吉が朝鮮に出兵したころ、朝鮮から連れてこられた陶工^{とうこう}たちが有田焼^{ありたやき}を始めた。

- (5) Dのパネルに関連して、次の文章は、アヘン戦争について述べたものである。文章中の I , II にあてはまる語の組み合わせとして最も適当なものを、あとのア～エのうちから一つ選び、その符号を書きなさい。なお、Dのパネル中と文章中の I には、共通の語があてはまる。

イギリスは中国から I を大量に輸入し、支払いのための銀が不足すると、インド産のアヘンを中国に持ちこんで販売した。これを中国が厳しく取り締まるとイギリスは中国と戦争を始め、この戦争に敗れた中国は、多額の賠償金を支払うことや II をゆずりわたすことなどを認めさせられた。

- ア I : 茶 II : 香 港 イ I : 茶 II : 広 州
ウ I : 毛織物 II : 香 港 エ I : 毛織物 II : 広 州

5 次の略年表は、あやかさんたちの班が社会科の授業で「明治時代以降の千葉県の歴史」について調べ、まとめたものである。これを見て、あとの(1)~(4)の問いに答えなさい。

年 代	千葉県内の主なできごと
1872	<small>いぬぼうさきとうだい</small> 犬吠埼灯台の建設が始まる …………… A
1894	市川－佐倉間に千葉県初の鉄道が開通する …………… B
1906	<small>あびこ</small> 我孫子に製糸工場が設立される …………… C
1935	県営事業として ^{おおとね} 大利根用水の工事が始まる …………… D
1978	新東京国際空港(現在の成田国際空港)が開港する …………… E

(1) 次の文章は、略年表中のAと同じ年に起こったできごとについて説明したものである。文章中の にあてはまる適当な語を漢字2字で書きなさい。

日本の近代化に教育の普及が必要であると考えた政府は、近代的学校制度を定めた法令として を公布した。これにより、特に初等教育が重視され、全国各地に小学校がつくられることとなった。

(2) 右の絵画は、略年表中のB~Cの時期に発表されたものである。フランスの画風に学び、この絵画を描いた人物名として、最も適当なものを、次のア~エのうちから一つ選び、その符号を書きなさい。



- ア 狩野永徳 イ 黒田清輝 ウ 岡倉天心 エ 横山大観

- (3) 次の文は、略年表中のC～Dの時期の日本の輸出額と輸入額の推移について述べたものである。文中の にあてはまる最も適当なものを、あとのア～エのうちから一つ選び、その符号を書きなさい。

右のグラフで、1917年の輸出額が同じ年の輸入額を大幅に上回る状況になっているのは、日本において、 からである。



- ア 欧米の優れた技術や知識を取り入れた富岡製糸場などの官営模範工場が開設された
- イ 関東大震災後に不景気が深刻となり、多くの銀行が休業、倒産する金融^{きょうこう}恐慌が起こった
- ウ 第一次世界大戦による好景気が起こり、特に重化学工業の発展がみられた
- エ 五か年計画による工業化が進められたため、世界恐慌の影響を大きく受けることがなかった

- (4) 次のア～オのカードは、略年表中のD～Eの期間に起こったできごとをまとめたものである。これら5枚のカードのうち、カード中の「この国」が同じ国を示しているものが2枚ある。その2枚のカードはどれとどれか。適当なものを二つ選び、その符号を書きなさい。

ア

この国は、資本主義の西側陣営と社会(共産)主義の東側陣営との対立により、東西に分かれて独立した。

イ

この国のバンドンで、アジア・アフリカ会議が開催され、29か国が参加した。

ウ

この国では、国民政府(国民党)と共産党との内戦が再発し、共産党が勝利した。

エ

この国が、ポーランドに侵攻したことがきっかけとなり、第二次世界大戦が始まった。

オ

この国の大統領は、イギリスのチャーチル首相と会談し、大西洋憲章を発表した。

6 次の文章を読み、あとの(1)~(3)の問いに答えなさい。

近代になって、自由権が保障され自由な経済活動が活発になった一方で、貧富の差が拡大したため、人間らしい生活を保障する社会権が登場しました。日本国憲法においても社会権が保障され、社会全体でお互いに助け合うため、社会保障制度が整備されています。また、少子高齢社会を迎え、2000年から介護保険制度がスタートしました。

- (1) 下線部 a に関連して、次の文章は、企業間の自由で公正な競争の確保について述べたものである。文章中の にあてはまる適切な語を漢字 4 字で書きなさい。

独占禁止法は、企業どうしが話し合って競争を避ける取り決めるを行うことなどを禁止している。この法律を運用するために設置された機関が 委員会である。

- (2) 下線部 b に関連して、次のア~エのカードは、みなこさんが、日本の社会保障制度の四つの柱について調べ、それぞれの内容をまとめたものである。これらのカードのうち、公的扶助の内容をまとめたものはどれか。最も適切なものを一つ選び、その符号を書きなさい。

ア

収入が少なく、生活に困っている人に対して、生活費や教育費などを支給する。



イ

感染症の予防や対策、上下水道の整備や廃棄物処理などを実施する。



ウ

毎月、加入者などが保険料を支払い、病気になったときなどに給付を受ける。



エ

高齢者や障がいがある人、児童などの生活を保障し、支援サービスなどを提供する。

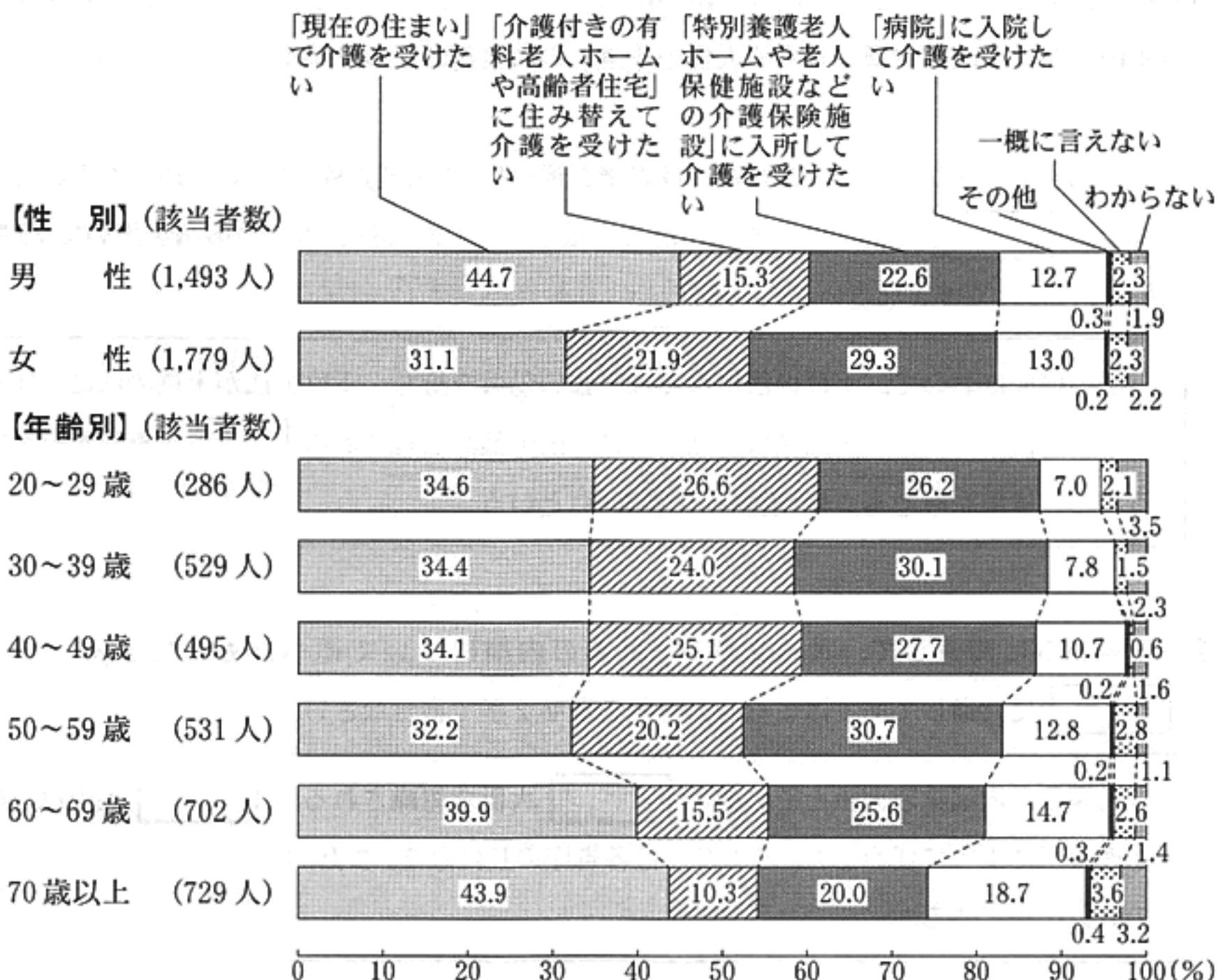


- (3) 下線部 c に関連して、次の文章は、なおきさんとゆみこさんが、右のページの資料を見ながら、社会科の授業で「高齢者の介護のあり方」について発表するために話し合っている場面の一部である。文章中の にあてはまる最も適切なものを、あとのア~エのうちから一つ選び、その符号を書きなさい。

なおきさん：この資料から、性別や年齢別で、どんな傾向がわかるかな。

ゆみこさん：例えば、自分自身が介護を受けたい場所について、 ことが、この資料からわかるわね。

質問 仮に、あなたご自身が老後に寝たきりや認知症になり、介護が必要となった場合に、どこで介護を受けたいと思いますか。



(注)・この調査で、「特別養護老人ホーム」とは、「常に介護を必要とする高齢者を介護する施設」をいい、「老人保健施設」とは、「病状安定期にあり、入院による治療の必要はないが、リハビリ、看護、介護を中心とした医療ケアが必要な高齢者向けの施設」をいう。

・四捨五入の関係で、合計しても100%にならない場合がある。

(内閣府「介護保険制度に関する世論調査(平成22年9月調査)」より作成)

ア 性別で見ると、「介護付きの有料老人ホームや高齢者住宅」、「特別養護老人ホームや老人保健施設などの介護保険施設」、「病院」の三つの割合は、いずれも女性よりも男性の方が高い

イ 年齢別で見ると、70歳以上だけが「現在の住まい」の割合が「介護付き有料老人ホームや高齢者住宅」と「特別養護老人ホームや老人保健施設などの介護保険施設」の割合の合計よりも低い

ウ 年齢別で見ると、「介護付きの有料老人ホームや高齢者住宅」の割合は20歳代が最も高く、次いで40歳代なのに対して、「病院」の割合は50歳代が最も高く、次いで30歳代となっている

エ 年齢別で見ると、「現在の住まい」の割合は、70歳以上が最も高く、50歳代が最も低いけれども、「特別養護老人ホームや老人保健施設などの介護保険施設」の割合は、逆に50歳代が最も高く、70歳以上が最も低い

7 次の文章を読み、あとの(1)~(3)の問いに答えなさい。

日本国憲法は、立憲主義の思想に基づいて政治権力の^{らんよう}濫用を防ぎ、国民の人権を守るため、三権分立制を採用して^aおり、国会・内閣・裁判所は、それぞれ憲法の規定に基づいて活動します。

日本国憲法は、国民主権、^b基本的人権の尊重、^c平和主義の三つを基本原理としています。

- (1) 下線部 a に関連して、次の文章は、違憲審査権(違憲立法審査権)について述べたものである。文章中の にあてはまる適当なことばを、「法律」「違反」の二つの語を用いて 25 字以内(読点を含む。)で書きなさい。

法の構成において、上位の法になるほど強い効力を持ち、下位の法が上位の法に反するときは無効になる。日本国憲法は、裁判所に、国の最高法規である 権限を与えている。この権限を違憲審査権(違憲立法審査権)という。

- (2) 下線部 b に関連して、次の文章は、日本の内閣について述べたものである。文章中の に共通してあてはまる適当な語を漢字 2 字で書きなさい。

内閣は、内閣総理大臣とその他の 大臣で組織される。 大臣は、内閣総理大臣によって任命され、その多くは各省庁の長になる。また、内閣は、閣議を開いて政府の方針を決定する。

- (3) 下線部 c に関連して、次のア~エの文のうち、日本における刑事裁判について正しく述べているものはどれか。最も適当なものを一つ選び、その符号を書きなさい。

ア 被疑者・被告人は、裁判で無罪の判決を受けるまでは有罪であると推定され、弁護人とともに自らが無罪であることを証明しなければならない。

イ 被告人は、自分に不利益なことなど、答えたくない質問であっても、法廷の場では答えることを拒否して黙っていることは認められない。

ウ 被疑者・被告人に対して、^{どれいてきこうそく}奴隷的拘束や^{くえき}苦役からの自由が保障されており、警察官などによる^{ごうもん}拷問についても禁止されている。

エ 裁判で有罪が確定した場合には、新たな証拠が発見されるなど裁判の重大な^{あやま}誤りが疑われたとしても、裁判をやり直すことはできない。

問題番号	正 解					配 点 及 び 注 意	計							
1	(1)	ア					3	10						
	(2)	為 替					3		<ul style="list-style-type: none"> ・「外国為替」でもよい。 ・ひらがなでもよい。 					
	(3)	年代の古い順	1	2	3	4	<ul style="list-style-type: none"> ・全部できた場合、点を与える。 							
	符 号	イ	ア	ウ										
2	(1)	宇都宮(市)					4	16						
	(2)	C	お	D	い	各2								
	(3)	火 力					4		<ul style="list-style-type: none"> ・漢字指定 					
	(4)	イ					4							
3	(1)	オセアニア(州)					3	15						
	(2)	イ					4							
	(3)	D					4							
	(4)	エ					4							
4	(1)	ウ					3	19						
	(2)	娘	を	天	皇	の	き		さ	き	と	し	4	<ul style="list-style-type: none"> ・正解文の趣旨にそって いればよい。 ・部分点を与えてもよい。
		て	,	そ	の	子	を		天	皇	の	位		
		に	つ	け	る									
	(3)	城下町					4		<ul style="list-style-type: none"> ・漢字3字指定 					
(4)	年代の古い順	1	2	3	4	<ul style="list-style-type: none"> ・全部できた場合、点を与える。 								
	符 号	エ	イ	ウ										
(5)	ア					4								

問題番号	正解	配点及び注意	計	
5	(1) 学 制	4	・漢字2字指定	16
	(2) イ	4		
	(3) ウ	4		
	(4) ア エ	4	・順不同 ・両方できた場合、点を与える。	
6	(1) 公正取引	4	・漢字4字指定	12
	(2) ア	4		
	(3) エ	4		
7	(1) 憲法に、法律などが違 反していないかどうか を判断する	4	・正解文の趣旨にそっ ていれよ。 ・部分点を与えてもよ い。	12
	(2) 国 務	4	・漢字2字指定	
	(3) ウ	4		
	合 計	100		