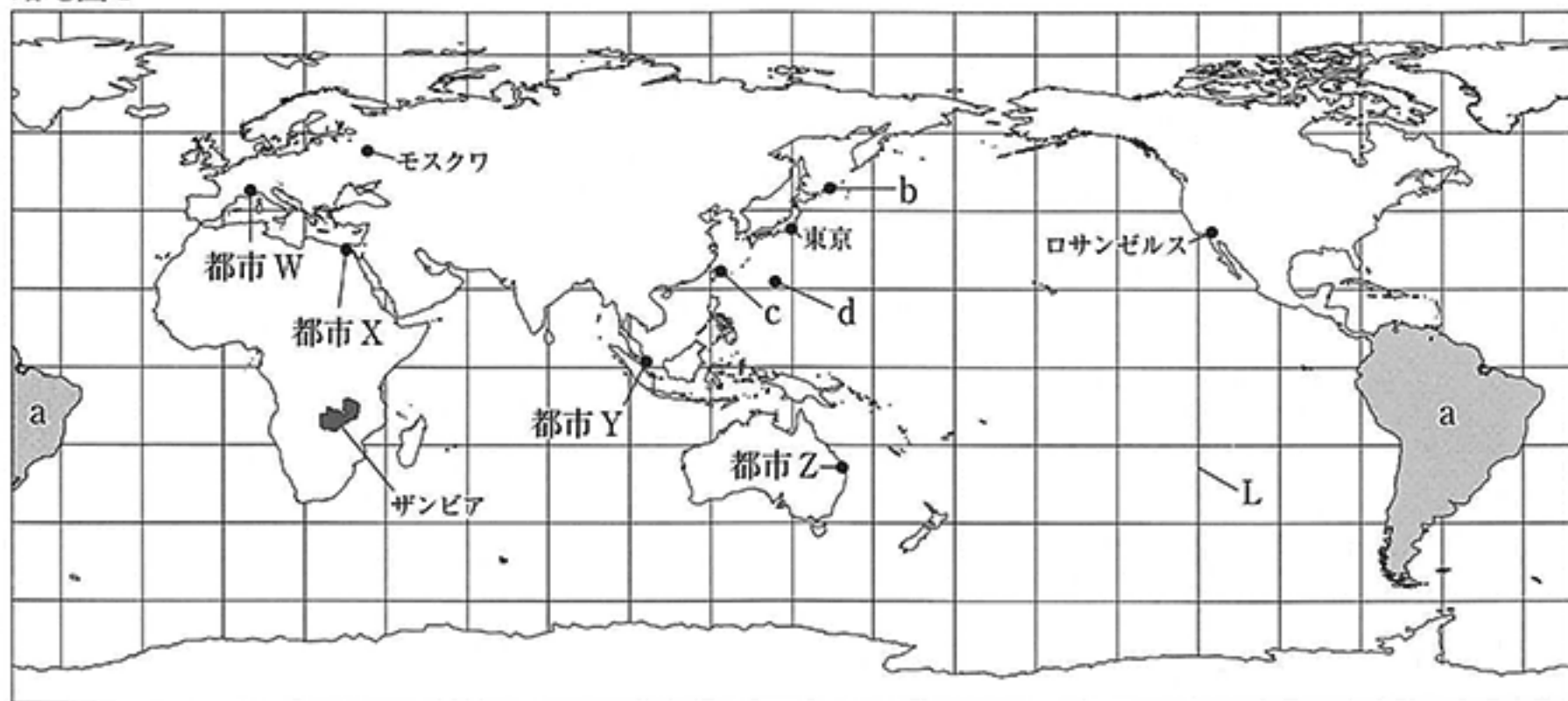
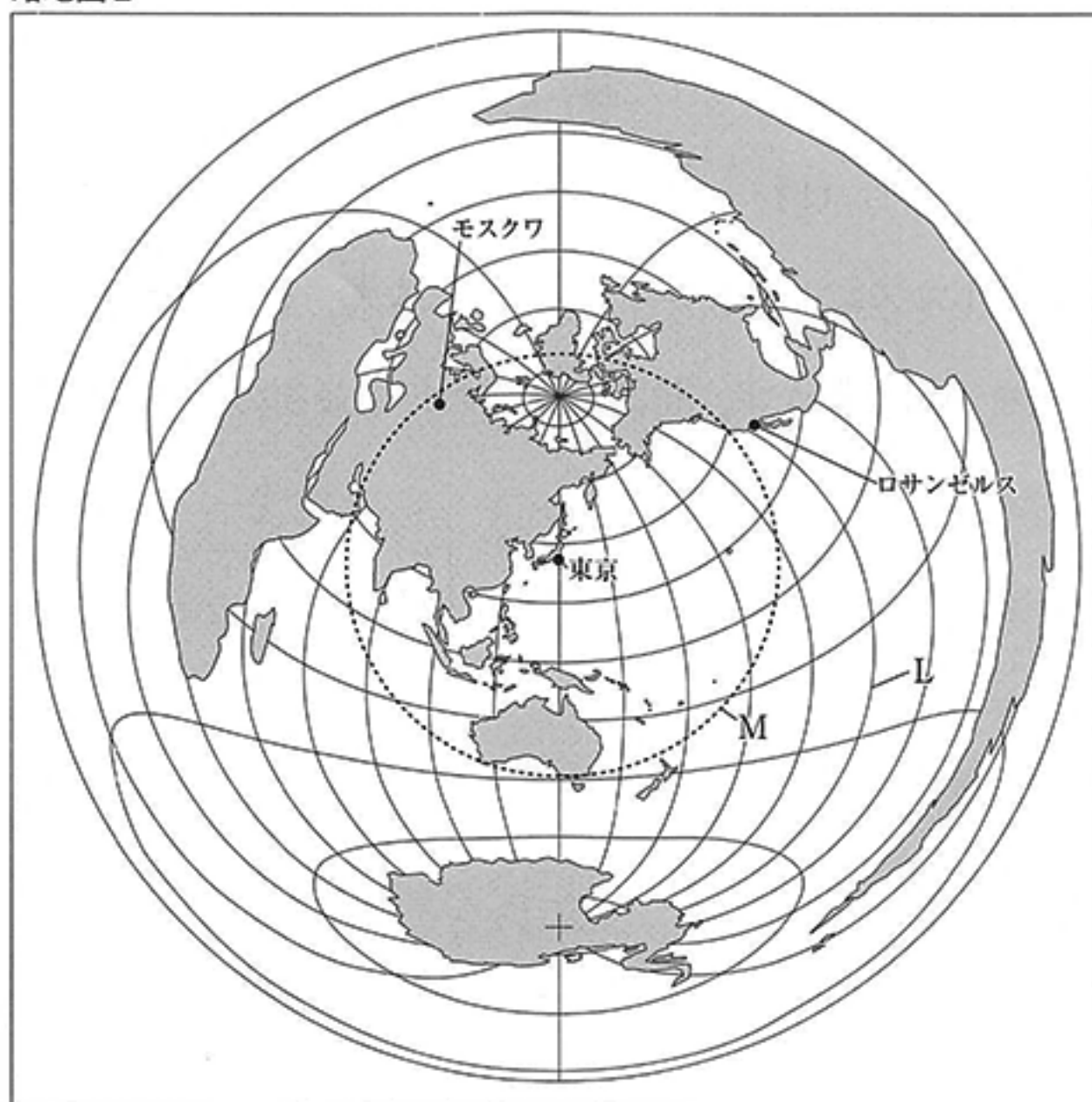


問1 次の略地図Ⅰは、経線と緯線が直角に交わった地図である。また略地図Ⅱは、地図の中心にある東京からの距離と方位が正しくあらわされた地図である。これらの地図について、あとの各問いに答えなさい。なお、略地図Ⅰ、略地図Ⅱともに経線は本初子午線から20度ごと、緯線は赤道から20度ごとに引いてある。

略地図Ⅰ



略地図Ⅱ



※ Mは東京を中心に等距離を結んだ線である。

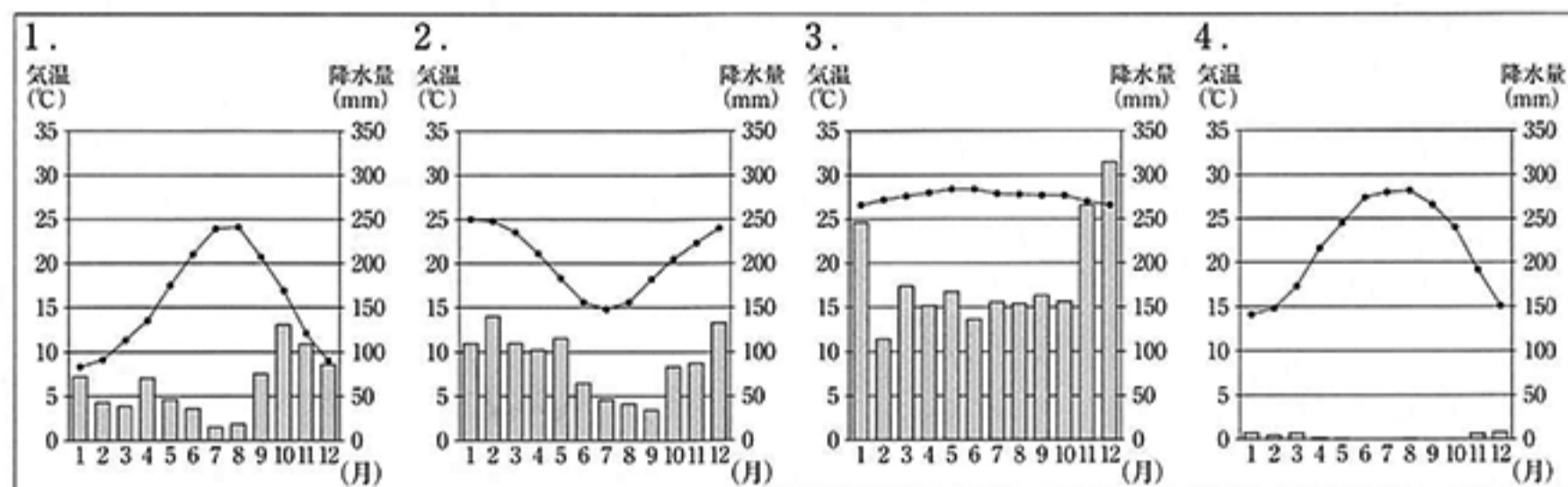
- (ア) 略地図 I の a で示した大陸に関して、次の [] 中の文の [A] , [B] にあてはまるものの組み合わせとして正しいものを、あとの 1～4 の中から一つ選び、その番号を書きなさい。

a で示した大陸では、スペインやポルトガルからやってきた人々が植民地をつくったという歴史があり、現在でもスペイン語やポルトガル語が話され、彼らが広めた [A] 教を信仰する人が多いという特徴がある。

この大陸の西側の [B] に沿った地域には、造山帯の一部となっているアンデス山脈があり、火山や地震が多くなっている。

1. A : イスラム B : 太平洋 2. A : イスラム B : 大西洋
3. A : キリスト B : 太平洋 4. A : キリスト B : 大西洋

- (イ) 略地図 I にある都市 W～都市 Z に関して、月ごとの平均気温と降水量をあらわした次の 1～4 の中から、都市 W～都市 Z にあてはまるものを、それぞれ一つずつ選び、その番号を書きなさい。



(「データブック オブ・ザ・ワールド 2015 年版」をもとに作成)

- (ウ) 略地図 I の b～d の島に関して、次の [] 中の文の [C] ～ [E] にあてはまるものを、あとの 1～5 の中からそれぞれ一つずつ選び、その番号を書きなさい。

略地図 I の b～d は、日本の領土の端にある島を示している。このうち b の島は [C] , c の島は [D] , d の島は [E] である。

1. 与那国島 2. 国後島 3. 択捉島 4. 沖ノ鳥島 5. 南鳥島

- (エ) 略地図 I , 略地図 II にある東京からロサンゼルスに行く航空機は、日本時間の 2 月 15 日午後 5 時に東京国際空港を出発し、10 時間かかってロサンゼルス国際空港に到着した。到着時のロサンゼルの日時を、午前もしくは午後という語を必ず用いて書きなさい。なお、ロサンゼルの標準時の基準となる経度は、略地図 I , 略地図 II の L の経線で示している。

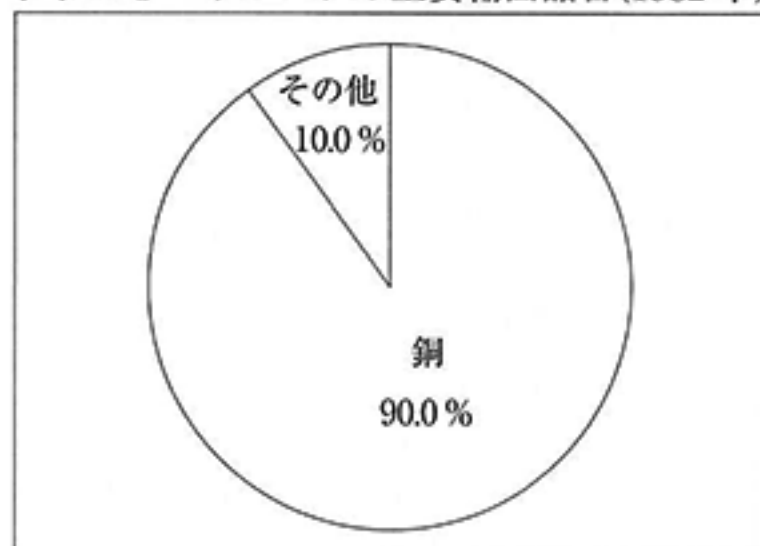
- (オ) 略地図Ⅰ，略地図Ⅱにある東京，ロサンゼルス，モスクワに関して，次の 中の文の F ， G にあてはまるものの組み合わせとして最も適するものを，あとの1～4の中から一つ選び，その番号を書きなさい。

ロサンゼルスは，東京から見てほぼ F の方位に位置している。また東京からロサンゼルスまでの最短距離よりも，東京からモスクワまでの最短距離の方が G ことがわかる。

1. F：北東 G：長い 2. F：北東 G：短い 3. F：東 G：長い 4. F：東 G：短い

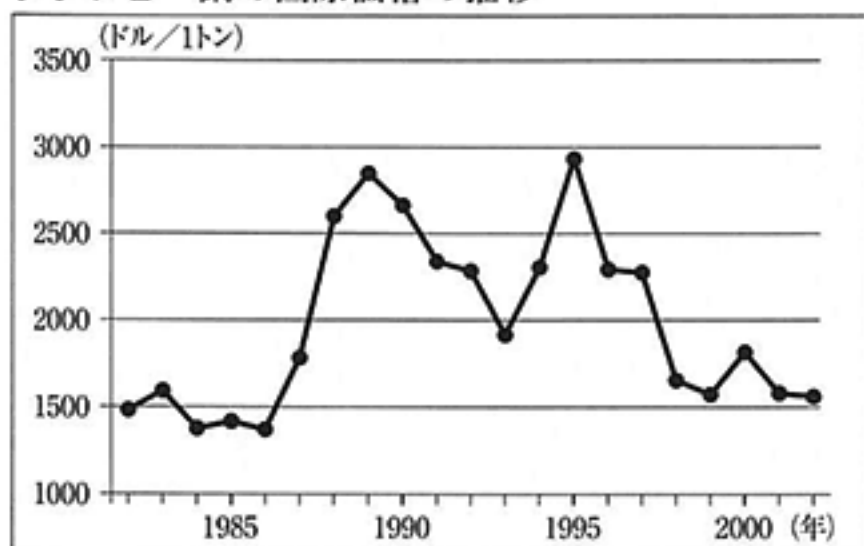
- (カ) 略地図Ⅰにあるザンビアに関して，次のグラフⅠ，グラフⅡと資料を使い，ザンビアの主要輸出品目の構成の特徴とザンビアが長年抱えてきた経済の課題，またその課題を解決するためのザンビア政府の政策を，75字以内で書きなさい。解答にあたっては，グラフⅠ，グラフⅡからは，ザンビアの主要輸出品目の構成の特徴と課題を読み取ったうえで，変動という語を必ず用いて書き，資料からは，ザンビア政府の政策を読み取って書きなさい。なお，文末は句点（。）で終わり，全体の字数に入れること。

グラフⅠ ザンビアの主要輸出品目(1982年)



(「国際連合 貿易統計年鑑1984」をもとに作成)

グラフⅡ 銅の国際価格の推移



(IMF eLibrary Dataをもとに作成)

資料

ザンビアは鉱業に依存した経済からの脱却を目指し，経済の多様化を掲げた開発政策を長年採ってきた。近年は，周辺国や自国の経済成長によって国内外の非鉱物製品の需要が拡大し，その貿易量が増加するなど，経済の多様化の兆候が見え始めている。

(外務省「対ザンビア共和国 国別援助方針 (平成26年6月改訂)」から)

問2 日本の産業や自然災害などについて調べる学習のなかで、Kさんは九州地方について、Lさんは東北地方について、それぞれ調べてメモを作成した。これらについて、あとの各問いに答えなさい。

Kさんのメモ

九州は、北部で産出する豊富な を利用して、日本の重工業の発展に大きな役割を果たしてきました。現在では、時代の変化に対応し、①火山やきれいな水などを利用して、②多様な産業を発展させています。

(ア) 中の文の にあてはまるものとして最も適するものを、次の1～4の中から一つ選び、その番号を書きなさい。

1. ポークサイト 2. 天然ガス 3. 石油 4. 石炭

(イ) 〃線①に関して、火山の近くの自治体で公表されているハザードマップ（防災マップ）について、Kさんがまとめた次の 中の文の にあてはまる内容を、予測という語を必ず用いて、5字以内で書き、文を完成させなさい。

ハザードマップ（防災マップ）は、噴火による し、避難経路や避難場所などの情報を示したものです。

(ウ) 〃線②に関して、右の表Iは1980年、1990年、2000年の九州の製造業の上位5位までの出荷額と出荷額全体に占める割合を示し、表IIは、国が製造業を3類型に分けた例を示している。表I、表IIから読み取れることをKさんがまとめた次の 中の文の 、 にあてはまるものの組み合わせとして正しいものを、あとの1～6の中から一つ選び、その番号を書きなさい。

表I (単位 10億円)

	1980年	1990年	2000年
1位	食料品 2,411 (18.8%)	食料品 3,817 (20.7%)	電気機械器具 4,047 (20.3%)
2位	鉄鋼 1,768 (13.7%)	電気機械器具 2,596 (14.1%)	食料品 4,045 (20.3%)
3位	化学 1,190 (9.3%)	輸送用機械器具 1,633 (8.9%)	輸送用機械器具 2,157 (10.8%)
4位	窯業・土石製品 1,020 (7.9%)	鉄鋼 1,481 (8.0%)	一般機械器具 1,795 (9.0%)
5位	一般機械器具 838 (6.5%)	化学 1,382 (7.5%)	化学 1,182 (5.9%)

(九州経済産業局ウェブサイト「九州経済・産業データ一覧」をもとに作成)

表II

基礎素材型産業	加工組立型産業	生活関連型産業
化学工業	電気機械器具製造業	食料品製造業
鉄鋼業	輸送用機械器具製造業	
窯業・土石製品製造業	一般機械器具製造業	

(経済産業省ウェブサイト「工業統計調査」から)

1980年から2000年までの九州の製造業の出荷額全体に占める、上位5位までの割合の推移を比較すると、 型産業が最も増加し、 型産業が最も減少していることがわかります。

1. C：基礎素材 D：加工組立 2. C：基礎素材 D：生活関連
 3. C：加工組立 D：基礎素材 4. C：加工組立 D：生活関連
 5. C：生活関連 D：基礎素材 6. C：生活関連 D：加工組立

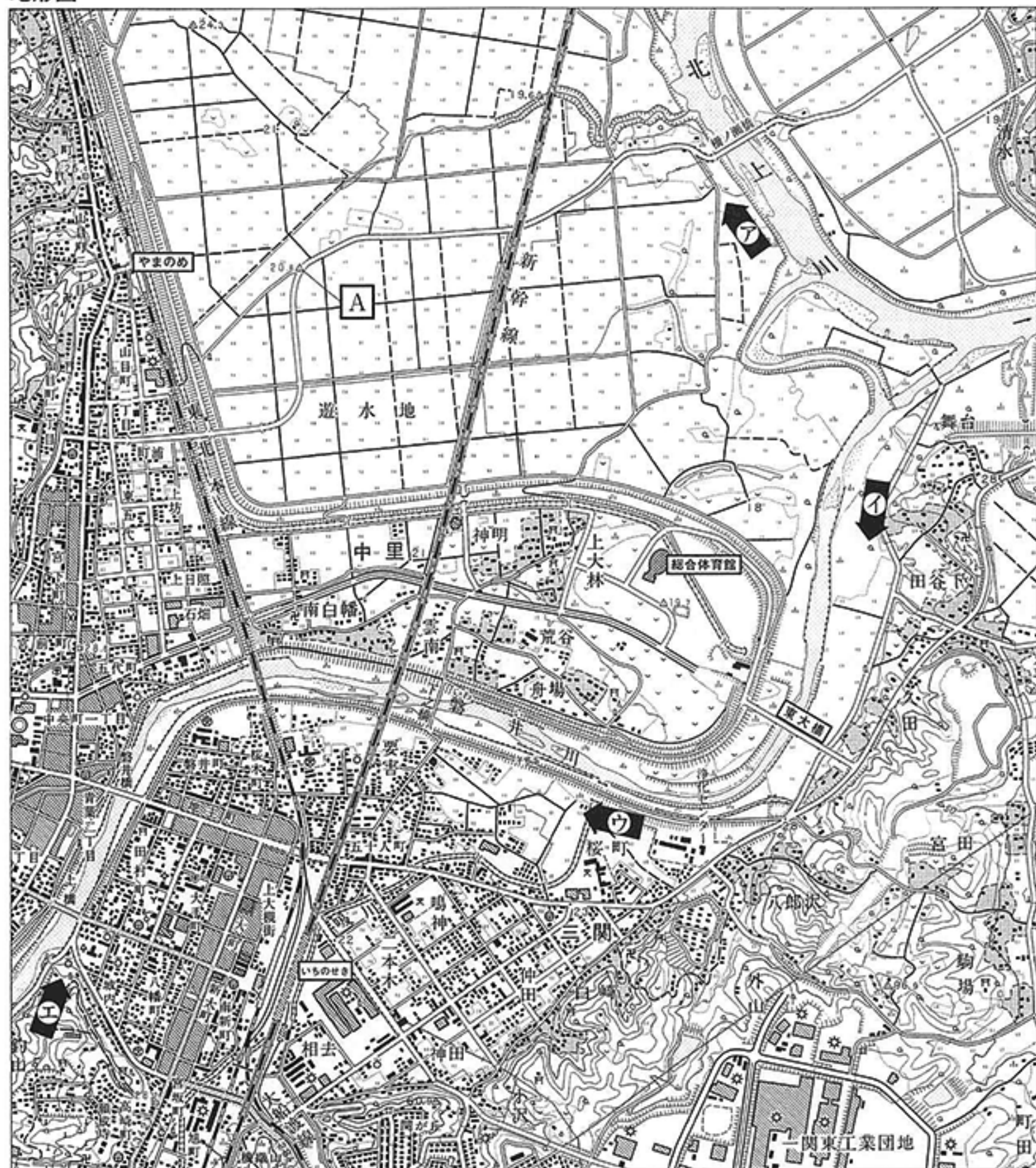
Lさんのメモ

「五月雨の^{さみだれ} 降の^{ふり}こしてや^{ひかりどう} 光堂」松尾芭蕉^{まつお ばしやう}は、現在の岩手県の平泉町にある、かつて奥州藤原^{おうしゅう}氏が建てた **E** 寺金色堂を訪れ、この句を残したとされています。また、このあたりでは、江戸時代にたびたび起きた飢饉^{ききん}に関する碑を見かけることがあります。人々は、③水害や農作物に影響を与える④天候不順などに立ち向かわなければならないこともありました。


(エ) **E** 中の文の **E** にあてはまる語を漢字2字で書きなさい。

(オ) 線③に関して、Lさんは、水害を防ぐ工夫などについて調べるため、岩手県一関市を訪れ、地形図をもとに市内を見て回った。この地形図に関して、あとの各問いに答えなさい。

地形図



(国土地理院発行2万5千分の1の地形図(平成13年6月現地調査)の一部改変)

(i) 山のふもとに遊水地の役割も果たす水田が広がっている右の写真は、Lさんが地形図で示された地域とその周辺を見て回った際に撮影したものである。この写真を撮影した地点と方向として最も適する地形図上の  を、次の1～4の中から一つ選び、その番号を書きなさい。

写真



1.  2. 
 3.  4. 

(ii) 地形図から読み取れるものとして正しいものを、次の1～5の中から二つ選び、その番号を書きなさい。

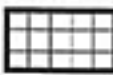



- 市役所は、「いちのせき」駅と磐井川の間にある。
- 一関東工業団地は、「やまのめ」駅から見て、南西の方角にある。
- 新幹線の線路は、遊水地の役割を果たしている水田の上を通っている。
- 「総合体育館」は、A で示した地点と比べ、10 m以上標高が高い場所に建てられている。
- 「東大橋」の長さが地形図の上で2 cmであるとすると、実際の距離は500 mである。

(カ) 線④に関して、Lさんは、やませの影響などにより、通常より少なかった1980年の東北地方各県の水稲（水田で栽培する稲）の収穫量と当初予想された収穫量を示す平年収量を比べた表Ⅲを作成した。表Ⅲについて、あとの各問いに答えなさい。

表Ⅲ 1980年の東北地方の水稲の収穫量(単位トン)

	1980年の収穫量	平年収量
青森県	195,600	419,200
秋田県	625,200	633,200
岩手県	237,000	398,000
福島県	354,300	481,700
宮城県	418,200	531,800
山形県	511,600	525,700

表記の方法

	90%以上
	70%以上90%未満
	50%以上70%未満
	50%未満

(農林水産省ウェブサイト「特定作物統計調査」をもとに作成)

(i) 表Ⅲから、東北地方各県の平年収量に対する1980年の収穫量の割合を、上の表記の方法にしたがい、解答用紙の白地図に書き入れなさい。なお、白地図の線④の範囲内に書き入れること。

(ii) Lさんが、やませについてまとめた次の 中の文の F , G にあてはまるものの組み合わせとして正しいものを、あとの1～4の中から一つ選び、その番号を書きなさい。

やませは、F の季節、東北地方の太平洋側に、北東から吹く冷涼な風のことで、G をもたらします。

1. F: 冬 G: 雨不足 2. F: 冬 G: 日照不足
 3. F: 夏 G: 雨不足 4. F: 夏 G: 日照不足

問3 Kさんは、現在の各地方や都市などの歴史に関して調べたことをメモにまとめ、略地図を作成した。これらについて、あとの各問いに答えなさい。

メモ

①近畿地方を中心に出現した勢力は、5世紀の後半までには、少なくとも②九州地方の中部から関東地方にかけて③支配地域を広げていたと考えられています。

略地図では、歴史上重要な役割を果たした都市や港などの位置を示しています。

略地図



(ア) —線①に関して、近畿地方でおきたできごとを説明した次の□中のⅠ～Ⅲについて、古いものから順に正しく並べたものを、あとの1～6の中から一つ選び、その番号を書きなさい。

- Ⅰ. 応仁の乱（おうにん 応仁・ぶんめい 文明の乱）によって町は焼かれ、荒れ果てた。
- Ⅱ. 計画的に区画された平城京がつくられた。
- Ⅲ. 幕府が六波羅探題（ろくはわたんだい）をおき、朝廷を監視した。

- 1. Ⅰ→Ⅱ→Ⅲ 2. Ⅰ→Ⅲ→Ⅱ
- 3. Ⅱ→Ⅰ→Ⅲ 4. Ⅱ→Ⅲ→Ⅰ
- 5. Ⅲ→Ⅰ→Ⅱ 6. Ⅲ→Ⅱ→Ⅰ

(イ) —線②に関して、九州地方でおきたできごとを説明した次の1～4について、古いものから順にその番号を書きなさい。

- 1. イエズス会の宣教師フランシスコ＝ザビエルが、九州に上陸した。
- 2. 豊臣秀吉（とよとみひでよし）が、九州から朝鮮半島に向けて大軍を送った。
- 3. 元（げん）の軍勢が、二度にわたり九州に押し寄せたが、暴風雨の影響もあり退却した。
- 4. 倭国（日本）の軍勢が、唐（とう）と新羅（しんら）に敗れたのち、防人（さきもり）が九州に配置された。

(ウ) —線③に関して、支配地域の広がりについて、Kさんが説明した次の□中の文の□Aにあてはまるものとして最も適するものを、あとの1～4の中から一つ選び、その番号を書きなさい。

この勢力の支配地域が広がっていく様子は、5世紀を中心に、近畿地方から離れた地域でも

□Aがつくられるようになったことからわかります。

- 1. 荘園（しょうえん） 2. 前方後円墳 3. 竪穴住居（たてあな） 4. 国分寺

(エ) 略地図の a で示した地方に関して、K さんが説明した次の [] 中の文の [B]，[C] にあてはまるものの組み合わせとして正しいものを、あとの 1～4 の中から一つ選び、その番号を書きなさい。

18 世紀の終わり頃から、[B] の使節ラクスマンなどが来航したことにより、北方への対応を迫られた幕府は、蝦夷地などの探検や測量を命じ、のちには、[C] が手がけた日本全国の測量と正確な日本地図を作成する事業を援助しました。

- | | | | |
|-----------|--------|-----------|---------|
| 1. B：アメリカ | C：伊能忠敬 | 2. B：アメリカ | C：大塩平八郎 |
| 3. B：ロシア | C：伊能忠敬 | 4. B：ロシア | C：大塩平八郎 |

(オ) 略地図の b で示した都市に関して説明したものとして最も適するものを、次の 1～4 の中から一つ選び、その番号を書きなさい。

1. この地は宗氏が治めていた場所であり、朝鮮人参や木綿などが輸入されていた。
2. この地は政府が開拓使という役所をおいた場所であり、士族を開拓にあたらせていた。
3. この地は政府が下関条約によって得た場所であり、植民地経営が行われていた。
4. この地は尚氏が建てた王国の都がおかれた場所であり、王国は中継貿易によって栄えていた。

(カ) 略地図の c，d で示した港に関して説明したものとして最も適するものを、次の 1～4 の中からそれぞれ一つずつ選び、その番号を書きなさい。

1. 攘夷を主張する藩に砲撃された欧米の艦隊が、報復のためにこの港に押し寄せ、砲台を占領した。
2. オランダは、ポルトガル船の来航が禁止されたのちにこの港に商館を移し、日本と貿易を行った。
3. 平清盛によって整備されたこの港を拠点に、宋との貿易が行われた。
4. 日米和親条約で決められた内容にしたがい、下田とともに新たにこの港が開かれた。

(キ) 略地図の X で示した都市に関して、K さんが説明した次の [] 中の文の [D]，[E] にあてはまるものの組み合わせとして最も適するものを、あとの 1～4 の中から一つ選び、その番号を書きなさい。

X は、[D] であるところから「天下の台所」と呼ばれました。東北地方や北陸地方などから日本海沿岸をまわってくる [E] 航路を使い、諸藩の年貢米や特産物などが X に運び込まれました。

- | | | | |
|----------------|-------|----------------|-------|
| 1. D：商業や金融の中心地 | E：西廻り | 2. D：商業や金融の中心地 | E：東廻り |
| 3. D：米の主産地 | E：西廻り | 4. D：米の主産地 | E：東廻り |

問4 Kさんは、明治時代以降の日本人と海外との関わりの歴史をメモにまとめ、調べた内容と社会のできごとを、おこった順に並べた表を作成した。これらについて、あとの各問いに答えなさい。

メモ

明治時代になり、日本人と海外との交流が本格的に始まりました。欧米の進んだ文化を視察するなどの目的で派遣された①岩倉使節団が乗っていた船には、多くの留学生も同乗していました。日清戦争が始まる頃からは、留学生の他に、多くの日本人が新しい暮らしを求めて海外に移住をするようになりました。やがて、日中戦争が始まる頃からは、②海外への移住者の数が大幅に増加しました。現在は、年間で1000万人を超える人々が海外に出かけるなど、観光目的の海外旅行が身近なものになっています。

表

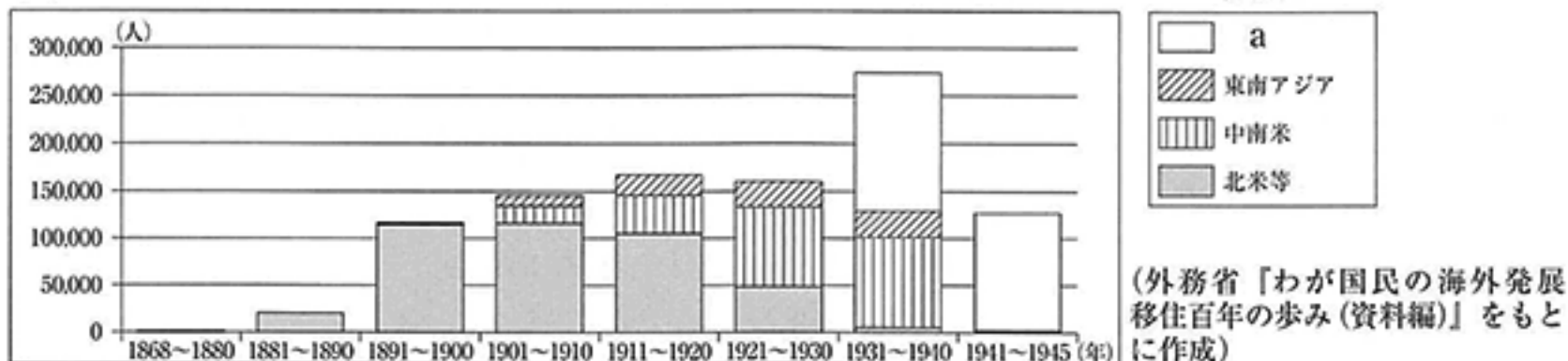
日本人と海外との関わり	社会のできごと
岩倉使節団が横浜を出発する。	ペリーが浦賀に初めて来航する。-----↑ [A] ↓-----
北米などへの移住者が増える。	日清戦争が始まる。-----
中南米や東南アジアへの移住者が増える。	日露戦争が始まる。-----↑ [B] ↓-----
日本人の移住者の数が大幅に増える。	日中戦争が始まる。-----× [C] ↓-----
観光目的の海外旅行が自由化される。	アジア初のオリンピックが東京で開催される。-----× [D] ↓-----
日本人の海外渡航者が年間1000万人を突破する。	サッカーワールドカップが日本と韓国で共催される。-----↓

(ア) 線①に関して、欧米の文化の視察とあわせ、岩倉使節団が目的としていたこととして最も適するものを、次の1～4の中から一つ選び、その番号を書きなさい。

- | | |
|-------------------|-------------------|
| 1. 講和条約の調印に向けた交渉 | 2. 軍事同盟の締結に向けた交渉 |
| 3. 国際連盟への加盟に向けた交渉 | 4. 不平等条約の改正に向けた交渉 |

(イ) 線②に関して、次のグラフは、外務省が把握している日本人の地域別の海外移住者数の変遷をまとめたものである。このグラフについて、あとの各問いに答えなさい。なお、凡例に示してあるaは、日本の軍事行動にあわせて立案された開拓計画による農業移住者の移住先をあらわしている。

グラフ



(i) グラフ中の、日本人の海外移住者数が最も多い期間のできごとを、次の1～5の中から三つ選び、古いものから順にその番号を書きなさい。

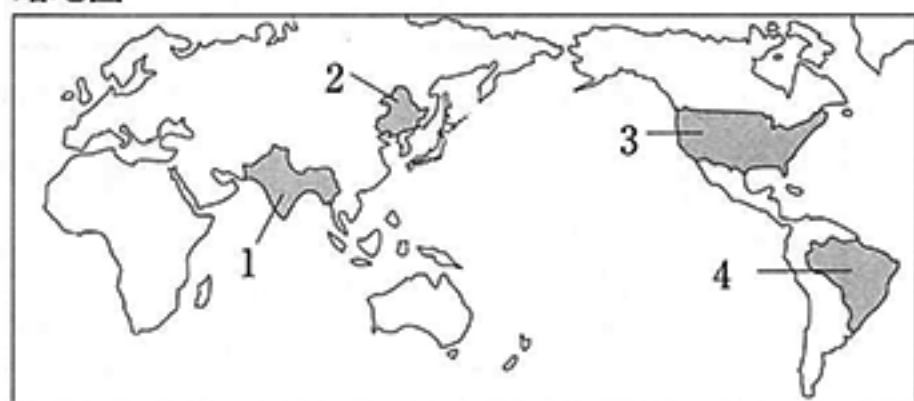
1. 日本が国際連盟を脱退した。
2. 日本政府は、ドイツやイタリアと日独伊三国(軍事)同盟を結成して結束の強化をはかった。
3. 富山県で、米価の急激な上昇を原因とする米騒動がおきた。

4. 連合軍総司令部（GHQ）によって財閥が解体された。

5. イギリスやフランスがドイツに宣戦布告し、第二次世界大戦が始まった。

(ii) 凡例で示してある a の地域を、略地図の 略地図

1～4の中から一つ選び、その番号を書きなさい。



(ウ) 表中の [A] の期間のできごととしてあてはまらないものを、次の1～5の中から二つ選び、その番号を書きなさい。

1. 藩が廃止されて県が置かれ、新たに県令が任命された。
2. ポーツマス条約の内容に不満をもった人々が、日比谷公園で暴動をおこした。
3. 幕府の政策に反対した者を厳しく処罰した大老の井伊直弼が、江戸城の桜田門外で暗殺された。
4. アヘン戦争で、清が負けたことを知った幕府は、外国船を打ち払うという方針を変更した。
5. 征韓論をめぐる政権内部の争いに敗れた西郷隆盛は、鹿児島で不平士族らとともに兵を挙げた。

(エ) 表中の [B] の期間のできごとを、次の1～4の中から一つ選び、その番号を書きなさい。

1. ロシア革命に干渉するために、日本はシベリアに軍隊を送った。
2. 真珠湾のアメリカ軍基地を攻撃するために、日本はハワイに軍隊を送った。
3. 義和団を中心とする人々の排外運動を鎮圧するために、日本は北京に軍隊を送った。
4. 東学を信仰する農民たちの反乱に対して出兵した清に対抗するために、日本は朝鮮に軍隊を送った。

(オ) 表中の [C] の期間のできごとを、次の1～5の中から三つ選び、古いものから順にその番号を書きなさい。

1. 日本はアメリカとの交渉を進め、沖縄の本土復帰が実現した。
2. 日本はサンフランシスコで開かれた会議において平和条約に調印し、独立を回復した。
3. 日本はワシントンで開かれた会議に参加し、海軍の軍備を制限することを決めた。
4. 日本は日ソ共同宣言に調印し、ソ連との国交が回復した。
5. 日本はポツダム宣言を受け入れ、連合国に降伏することを決めた。

(カ) 表中の [D] の期間のできごとについて説明した次の [] 中の文の [E]、[F] にあてはまるものの組み合わせとして正しいものを、あとの1～4の中から一つ選び、その番号を書きなさい。

日本は石油危機（オイル・ショック）ののち、[E] を拡大させた結果、[F] こととなった。

- | | |
|---------------|-------------------------|
| 1. E：自動車などの輸出 | F：アメリカとの間に貿易（経済）摩擦が発生する |
| 2. E：自動車などの輸出 | F：高度経済成長と呼ばれる好景気が続く |
| 3. E：農産物の輸入 | F：アメリカとの間に貿易（経済）摩擦が発生する |
| 4. E：農産物の輸入 | F：高度経済成長と呼ばれる好景気が続く |

問5 Kさんは、日本の選挙のしくみや歴史などについて調べ、メモとカードⅠ～カードⅣを作成した。これらについて、あとの各問いに答えなさい。

メモ

①国会に提出されていた、選挙権年齢を「20歳以上」から「18歳以上」に引き下げる法案が、平成27年に成立しました。また、地方公共団体の首長や地方議員の選挙など、国民が②地方自治に参加する際にも、改正された法律が適用されることになりました。これらは、「③日本国憲法の改正手続きに関する法律」が一部改正されたことを受けた措置だということです。

カードⅠ

第1回衆議院議員総選挙

大日本帝国憲法が公布された後に初めて実施されました。AやBによる制限があったため、選挙権が与えられたのは総人口の1%程度にあたる約45万人でした。

カードⅡ

第16回衆議院議員総選挙

1928年に実施されました。治安維持法が成立したのとほぼ同時期にAによる制限が撤廃され、選挙権を持つ人の割合は総人口の約20%に拡大しました。

カードⅢ

第22回衆議院議員総選挙

第二次世界大戦が終了した後に実施されました。選挙権年齢が20歳以上に引き下げられ、Bによる制限が撤廃されて選挙権を持つ人は、総人口の50%近くにあたる約3700万人となりました。

カードⅣ

第47回衆議院議員総選挙

2014年に実施されました。④選挙権を持つ人は、総人口の80%以上にあたる約1億400万人となりました。最近では、投票率が低下していることなどが指摘されています。

(ア) 一線①に関して、次の各問いに答えなさい。

(i) 次の□中のa～dのうち、国会の権限を説明したものの組み合わせとして最も適するものを、あとの1～6の中から一つ選び、その番号を書きなさい。

- a 最高裁判所の長官を指名する。
- b 国会議員の中から内閣総理大臣を指名する。
- c 罷免の訴追を受けた裁判官を裁判するため、弾劾裁判所を設ける。
- d 衆議院を解散する。

1. aとb 2. aとc 3. aとd 4. bとc 5. bとd 6. cとd

(ii) Kさんがまとめた、次の□中の文のXにあてはまる語を、漢字2字で書きなさい。

財務省が発表した平成21年度から平成26年度の一般会計予算の資料のうち、国の歳入の内訳をみると、租税や印紙収入だけでは財政支出全体の4割～5割程度しかまかなえていない状況が続いていたことがわかりました。政府はこれまで不足分を借金で埋め合わせてきました。その結果、歳出の内訳において国の借金返済にあたるX費の割合が大きくなっています。

- (イ) ー線②に関して、地方自治の特徴についてKさんがまとめた次の [] 中の文の [Y] にあてはまる語を、漢字4字で書きなさい。

地方自治では、国政と違い、 [Y] 権が認められています。具体的には、住民が条例の制定や改廃、地方公共団体の首長や議員の解職を求めたりする権利などがあります。

- (ウ) ー線③に関して、次の1～4の文は、いずれも歴史的に重要な役割を担ったといわれる法律や宣言文などを日本語訳したものの一部である。このうち、日本国憲法に定められている社会権の考え方と共通しているものとして最も適するものを、次の1～4の中から一つ選び、その番号を書きなさい。

1. 自由人は、法にかなった裁判によるか、または国法によるのでなければ、逮捕もしくは追放をうけまたはその他の方法によって侵害されることはない。
2. 労働条件及び経済条件を維持し、かつ、改善するための団結の自由は、各人及びすべての職業について、保障される。
3. 思想及び意見の自由な伝達は、人の最も貴重な権利の一つである。したがってすべての市民は、自由に発言し、記述し、印刷することができる。
4. いかなる人も、直接に、又は自由に選出される代表者を通じて、自国の統治に参加する権利を有する。

- (エ) カードⅠ、カードⅡ中の文の [A]、カードⅠ、カードⅢ中の文の [B] にあてはまるものとして最も適するものを、次の1～4の中からそれぞれ一つずつ選び、その番号を書きなさい。

1. 性別
2. 職業
3. 思想
4. 納税額

- (オ) カードⅣ中の文の ー線④に関して、第47回衆議院議員総選挙における選挙権をもつ人の割合が、カードⅢ中の第22回衆議院議員総選挙における割合と比べて増えた理由を調べるための資料として最も適するものを、次の1～4の中から一つ選び、その番号を書きなさい。

1. 年齢別に見た人口割合の変化を示した資料
2. 期日前投票を利用した人の数を示した資料
3. 都市部への人口集中が進む様子を示した資料
4. 投票率の変化を示した資料

問6 KさんとLさんは、夏休みに地域にある施設について調べてそれぞれメモにまとめた。KさんのメモとLさんのメモについて、あとの各問いに答えなさい。

Kさんのメモ

私は、手頃な①価格で人気のある衣料品店に行って話を聞きました。この場所には、かつて機械の部品を製造する工場がありましたが、②その工場は海外へ移転したということです。

Lさんのメモ

私は、地域にある福祉施設に行って話を聞きました。ここでは、施設を利用されている方の③健康を守るために多くのスタッフが働いていて、利用されている④高齢者の方の要望に沿って、きめ細やかな配慮がされていました。

(ア) 一線①に関して、価格などを決定する需要と供給の関係を説明した次の□中のa, bについて、正しいか誤っているかの組み合わせとして最も適するものを、あとの1～4の中から一つ選び、その番号を書きなさい。

- a ある会社の株式に関して、購入を希望する量が売却を希望する量を下回ったため、その会社の株価は上昇した。
- b 産油国が結束して原油の輸出量を減らし、市場に出回る原油の量が各国が購入を希望する量を下回ったため、原油の価格は上昇した。

1. a: 正しい b: 正しい 2. a: 正しい b: 誤っている
3. a: 誤っている b: 正しい 4. a: 誤っている b: 誤っている

(イ) 一線②に関して、次の表を見て、□中の文の□Aにあてはまるものとして最も適するものを、あとの1～4の中から一つ選び、その番号を書きなさい。

表 ドルと円の為替相場の推移

1985年の平均	1ドル = 239円
1990年の平均	1ドル = 145円
1995年の平均	1ドル = 94円

〔国際連合 世界統計年鑑1993〕

〔国際連合 世界統計年鑑2002 - 2004〕をもとに作成

1980年代の後半から、日本企業が、国内の生産拠点を海外に移転させてきた背景としては、安い労働力や土地を求めたという理由のほかに□Aなど、為替相場の変動による要因も指摘されている。

1. ドルに対して円の価値が上がり、日本への輸入が不利となったこと
2. ドルに対して円の価値が下がり、日本への輸入が有利となったこと
3. ドルに対して円の価値が上がり、日本からの輸出が不利となったこと
4. ドルに対して円の価値が下がり、日本からの輸出が有利となったこと

(ウ) ー線③に関して、右の資料は、国際連合の資料

専門機関が、一般の人々に向けて情報を発信しているファクトシートを、日本語訳したものの一部である。この情報を発信している国際連合の専門機関の略称として最も適するものを、次の1～4の中から一つ選び、その番号を書きなさい。

1. WHO
2. IMF
3. UNESCO
4. ILO

ファクトシート No. 103
これまではエボラ出血熱として知られていたエボラウイルス症 (EVD) は、ヒトでは重症化し、しばしば致命的な疾病となる。

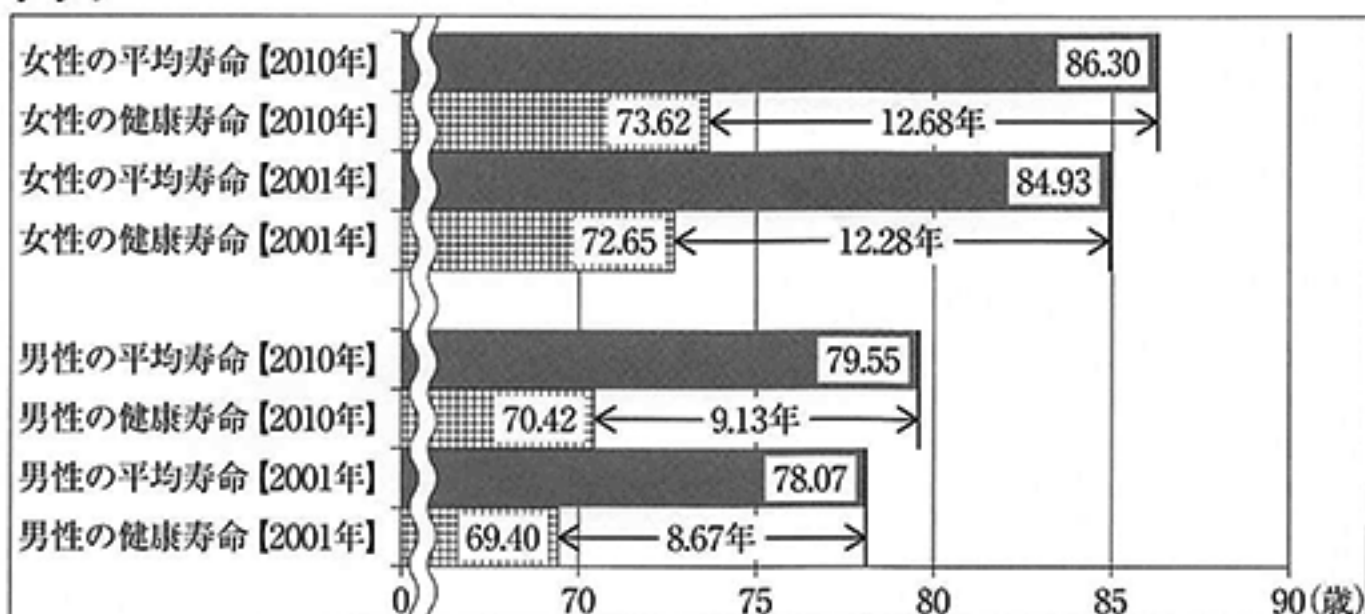
ファクトシート No. 211
季節性インフルエンザは急性のウイルス感染症で人から人へ容易に広がる。

ファクトシート No. 339
たばこが原因で毎年 600 万人近くが死亡している。その内 500 万人以上は直接の喫煙によるものであり、60 万人以上は非喫煙者で受動喫煙によるものである。

(国際連合の専門機関に関わる団体のウェブサイトをもとに作成)

(エ) ー線④に関して、次のグラフは、政府の資料をもとに 2001 年と 2010 年の日本人の平均寿命と、健康上の問題で日常生活が制限されることなく生活できる期間を示す健康寿命との差を、男女別にあらわしたものである。また L さんのレポートは、L さんが日本人の寿命に関する課題と対策について、政府の考えを調べてまとめたものの一部である。グラフ及び L さんのレポートから、政府は平均寿命と健康寿命の推移にどのような傾向があり、これを改善することでどのような財政面での効果が生まれると考えているかを 65 字以内で書きなさい。解答にあたっては、グラフ及び L さんのレポートからは、平均寿命と健康寿命の推移の傾向を平均寿命、健康寿命という語を必ず用いて書き、L さんのレポートからは、財政面から見た効果を書きなさい。なお、文末は句点 (。) で終わり、全体の字数に入れること。

グラフ



(「健康日本 21 (第 2 次) の推進に関する参考資料」をもとに作成)

L さんのレポート

グラフにあるように、平均寿命と健康寿命の推移の傾向がこのまま続けば、医療費や介護給付費を消費する期間が増大することになります。しかし疾病予防と健康増進、介護予防などによって、この傾向に歯止めをかけ、さらに改善することができれば、個人の生活の質の低下を防ぐとともに、社会保障負担の軽減も期待できるということです。

(問題は、これで終わりです。)

V 社会 正答表並びに採点上の注意 (平成28年度)

問1

(ア)	(イ)				(ウ)			(エ)	(オ)
	都市W	都市X	都市Y	都市Z	C	D	E		
3	1	4	3	2	3	1	4	2月15日 午前10時	2

(カ)

銅に頼った輸出品目の構成となっており、銅の価格の変動が、ザンビアの経済に大きな影響を与えてしまうため、政府は経済の多様化を掲げた政策を採ってきた。

75

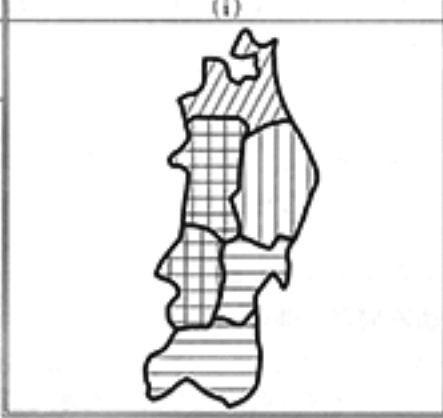
(カ)は正答例。

問2

(ア)	(イ)	(ウ)	(エ)
4	被害を予測	3	中尊寺

(i)	(ii)	(i)	(ii)
4	3	5	4

順不同可。



(イ)は正答例。

問3

(ア)	(イ)	(ウ)	(エ)	(オ)	(カ)		(キ)
4	4	3	1	2	2	3	4
					c	d	
					4	2	1

問4

(ア)	(イ)		
	(i)	(ii)	
4	1	5	2
	2		

(ウ)	(エ)	(オ)	(カ)
2	4	1	5
			2
			4
			1

順不同可。

問5

(ア)	(イ)
(i)	(ii)
4	国債 費 直接請求 概

(ウ)	(エ)	(オ)
	A	B
2	4	1
		1

問6

(ア)	(イ)	(ウ)
3	3	1

(エ)

平均寿命と健康寿命の差が拡大しているという傾向があり、これを改善することで国の社会保障負担の軽減という効果が生まれる。

65

(エ)は正答例。

問	配点
1	(エ)は4点 (カ)は8点 他は各2点 計20点
2	(ウ)、(カ)の(i) は各4点 他は各2点 計20点
3	(イ)は4点 他は各2点 計16点
4	各2点 計14点
5	(ア)の(ii)、(イ) は各4点 他は各2点 計16点
6	(エ)は8点 他は各2点 計14点
計	100点