

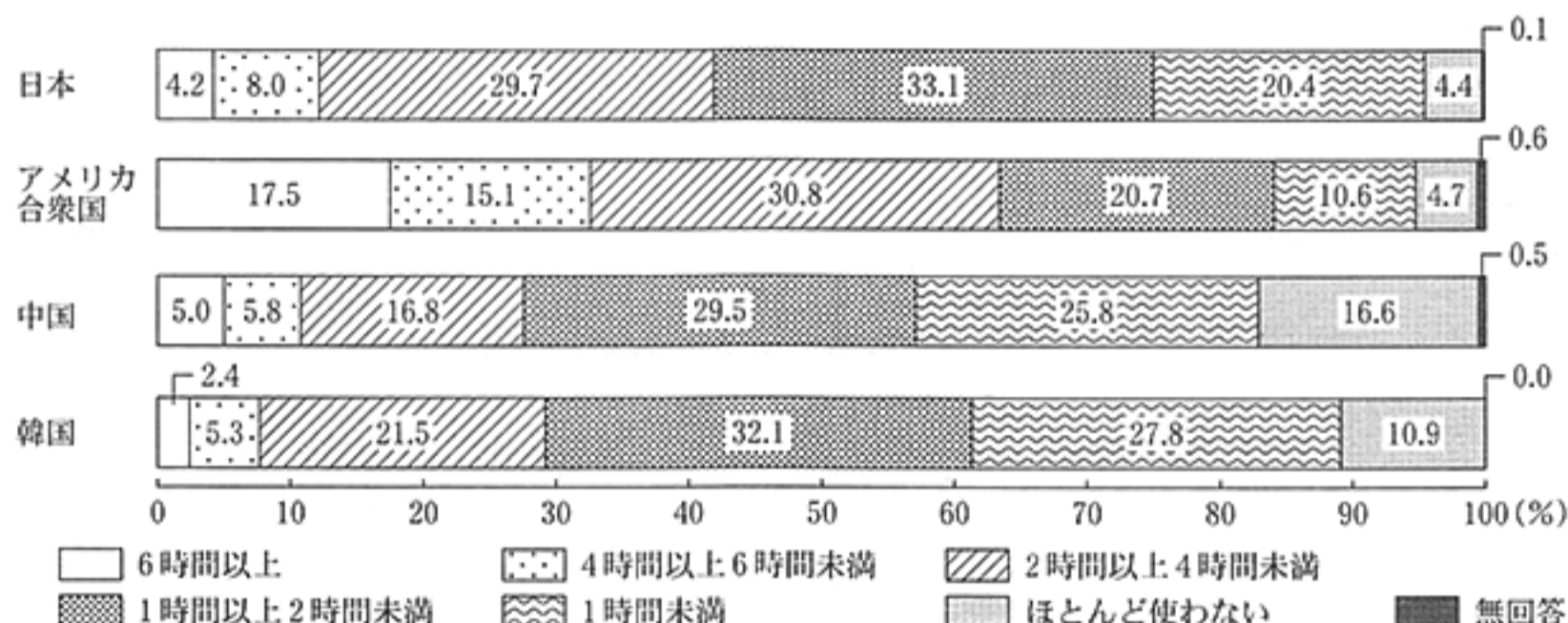
1 次の文章を読み、あとの(1)~(4)の問いに答えなさい。

千葉県は、国際的コミュニケーション能力を高め、異文化理解を深めるための国際理解教育を推進しており、夏休みには、県内の[高校生](#)を[マレーシア](#)へ派遣しています。また、千葉県と姉妹県州である[アメリカ合衆国](#)の[ウィスコンシン州](#)などとの[国際交流](#)の充実も図っています。

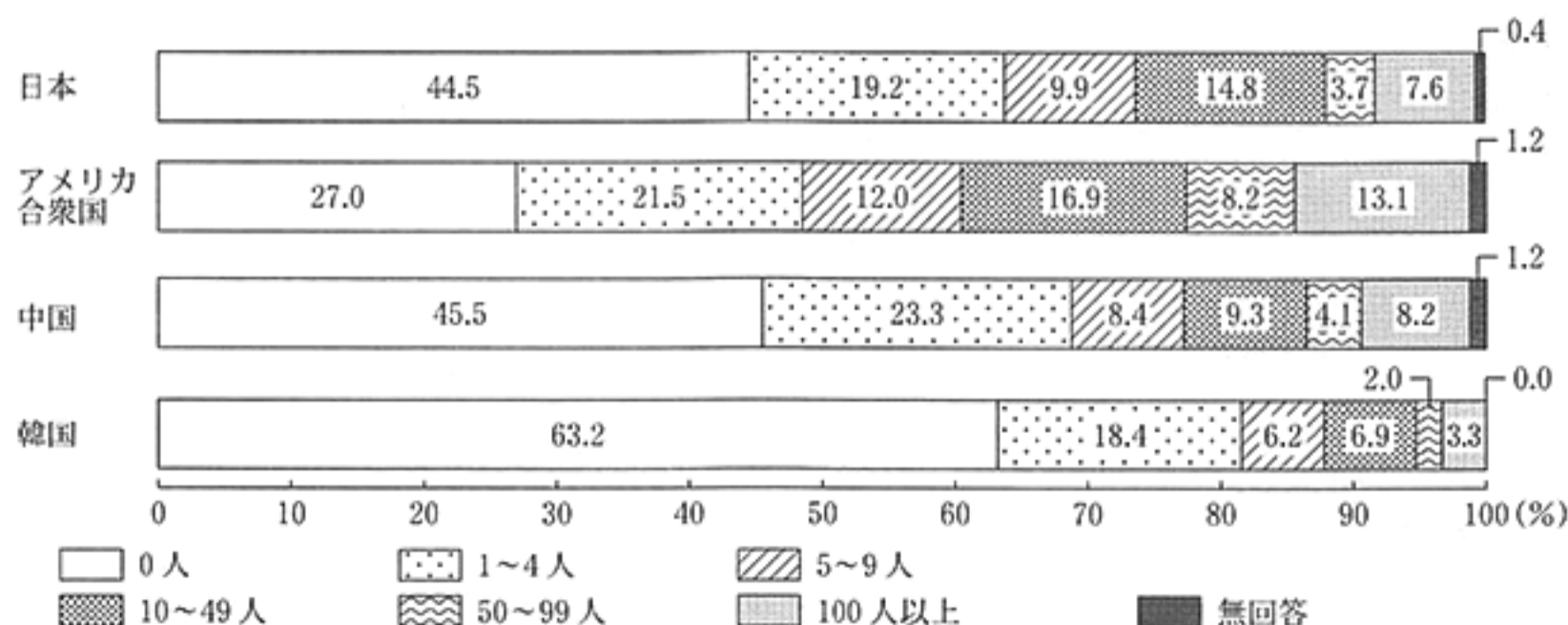
(1) 下線部 a に関連して、次の文章は、社会科の授業で、ゆきおさんが、日本、アメリカ合衆国、中国及び韓国の高校生のインターネット利用状況に関する二つの資料を見て、4か国の高校生の生活と意識の違いについてまとめたレポートの一部である。文章中の  にあてはまることばとして最も適当なものを、あとのア~エのうちから一つ選び、その符号を書きなさい。

同じ高校生でも国によってインターネット利用状況は異なります。下の資料1と資料2を見て、4か国の調査結果を比較すると、 ことがわかります。

資料1 一日にインターネットを利用する時間



資料2 インターネット上だけのつきあいで、実際に会ったことのない友達の数



(注)・資料1では、平日一日の、学校の授業での使用を除く時間を調査している。

・資料1、資料2とも、四捨五入の関係で、合計しても100%にならない場合がある。

(資料1、資料2とも、国立青少年教育振興機構「高校生の生活と意識に関する調査報告書-日本・米国・中国・韓国の比較-(平成27年8月)」より作成)

- ア 一日にインターネットを6時間以上利用しているという高校生の割合は、日本はアメリカ合衆国の3分の1以下で中国よりも少なく、インターネット上だけのつきあいで、実際に会ったことのない友達の数が100人以上という高校生の割合も、日本は中国の割合の半分以下である
- イ 一日にインターネットを4時間以上利用しているという高校生の割合は、アメリカ合衆国が30%以上で最も多く、インターネット上だけのつきあいで、実際に会ったことのない友達の数が50人以上という高校生の割合も、アメリカ合衆国が最も多く20%を超えている
- ウ 一日にインターネットをほとんど使わないという高校生の割合は、中国が最も多く、日本やアメリカ合衆国の3倍以上であり、インターネット上だけのつきあいで、実際に会ったことのない友達の数が50人以上という高校生の割合は、中国が最も少なく10%未満である
- エ 一日にインターネットを4時間以上利用しているという高校生の割合は、韓国が10%以下で最も少なく、インターネット上だけのつきあいで、実際に会ったことのない友達の数が100人以上という高校生の割合も、韓国が最も少なく日本の割合の3分の1以下である

- (2) 下線部 b に関連して、次の文章は、この国が含まれる地域における、国家間の協力関係を推進する動きについて述べたものである。文章中の  に共通してあてはまる適切な語を5字で書きなさい。

では、1967年に地域内での発展や協力を目指した組織である  諸国連合が設立され、経済、政治、安全保障などの分野で協力が進められている。また、日本、中国、韓国などを加えた会議も開催されている。

- (3) 下線部 c に関連して、次の文章は、この国に移り住んできた、ある移民について述べたものである。文章中の  に共通してあてはまる適切な語をカタカナ6字で書きなさい。

メキシコなどの国々からアメリカ合衆国に移り住んできた、スペイン語を話す移民及びその子孫は  とよばれる。 は、主にメキシコに隣接するアメリカ合衆国の南西部の州に居住している。

- (4) 下線部 d に関連して、次のア～ウの文は、それぞれ日本と外国との交流に関する歴史上のできごとについて述べたものである。これらのできごとを年代の古いものから順に並べ、その符号を書きなさい。

- ア <sup>いわくらともみ</sup>岩倉具視を大使とする使節団とともに、津田梅子ら5人の少女が欧米諸国に派遣された。
- イ 中国の進んだ制度を取り入れることなどを目的に、遣隋使として小野妹子らが派遣された。
- ウ キリシタン大名の大友氏らにより、4人の少年がローマ教皇のもとに派遣された。

2 次の図を見て、あとの(1)~(3)の問いに答えなさい。



(1) 図中の——は、ふみえさんが、東京駅から新函館北斗駅まで新幹線で通ったルートを示している。また、次のア~エの文は、ふみえさんがこのルート上にある東北地方の四つの県について調べ、それぞれの県の特徴をまとめたものである。ア~エの文がそれぞれ示している県を、ふみえさんが新幹線で通過した順に並べ、その符号を書きなさい。

- ア この県で生産される南部鉄器は、東北地方の伝統的工芸品の一つである。
- イ この県の県庁所在地は、現在人口が100万人を超えており、東北地方の地方中枢都市である。
- ウ この県は、東北地方を代表する果樹であるりんごの生産量が全国第1位(2014年)である。
- エ この県は、東北地方の最も南に位置し、高速道路沿いなどに工業団地がつけられている。

(2) 図中のあ~えの県について、次の①、②の問いに答えなさい。

① あ~えの県のうち、かつて加賀国かがのくににつくられた城下町から発展した都市が、現在の県庁所在地となっている県はどれか。最も適当なものを一つ選び、その符号を書きなさい。また、その県名を書きなさい。

② 次の資料は、あ~えの県と全国の、面積、人口、耕地面積、田の耕地面積及び漆器(食器)出荷金額を示したものである。この資料から読み取れることとして最も適当なものを、あとのア~エのうちから一つ選び、その符号を書きなさい。なお、田の耕地面積は、耕地面積に含まれる。

資料 あ~えの県と全国の、面積、人口、耕地面積、田の耕地面積及び漆器(食器)出荷金額


	面積 (2014年) (km <sup>2</sup> )	人口 (2014年) (千人)	耕地面積 (2014年) (百ヘクタール)	田の耕地面積 (2014年) (百ヘクタール)	漆器(食器)出荷金額 (2012年) (百万円)
あ	12,584	2,313	1,725	1,529	—
い	4,248	1,070	590	565	285
う	4,186	1,156	424	354	3,422
え	4,190	790	406	369	3,993
全国	377,972	127,083	45,180	24,580	10,441

(注) 資料中の「—」は、集計対象となる企業が少いため、金額を示していない。

(「データでみる県勢2016」, 総務省・経済産業省「平成24年経済センサス-活動調査」などより作成)

- ア 耕地面積に占める田の耕地面積の割合は、四つの県すべてが80%以上である。
- イ あの県の耕地面積は、他の三つの県の耕地面積の合計よりも小さい。
- ウ 人口密度は、四つの県の中でいの県が最も高い。
- エ うとえの県の漆器(食器)出荷金額の合計は、全国の出荷金額の4分の3以上である。

- (3) 次の地形図は、前のページの図に示した山梨県のある地域を示したものである。これを見て、あとの①、②の問いに答えなさい。



(国土地理院 平成18年発行1:25,000「石和」原図より作成)

- ① 次の文章は、上の地形図中に見られる地形の特徴を生かした土地利用について述べたものである。文章中の  にあてはまる適当なことばを、「水はけ」及び上の地形図中から読み取った土地利用を示す語の二つの語を用いて15字以内(読点を含む。)で書きなさい。

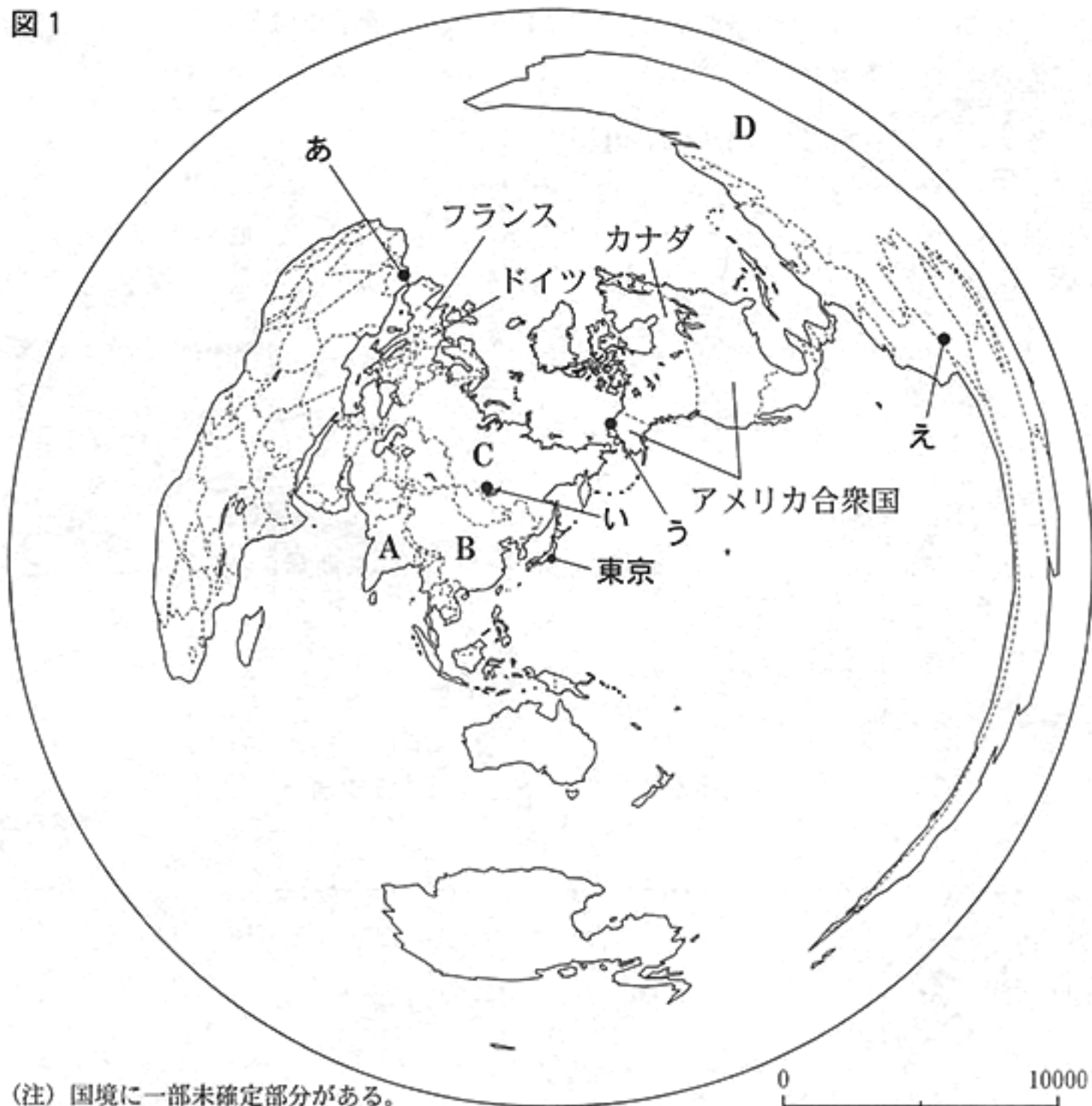
川が山地から平地に流れ出たところには、川にけずられた土砂がたまってつくられた扇状地が見られる。扇状地は、 として主に利用されている。

- ② 地形図中に示したA～Dの四つの地点において、それぞれ二つの地点間の標高差を比較したとき、次のア～エのうち、その標高差が最大となるものはどれか。最も適当なものを一つ選び、その符号を書きなさい。

ア AとB                      イ BとC                      ウ CとD                      エ AとD

3 次の図1は、東京を中心とし、東京からの距離と方位が正しく表されているものである。この図1を見て、あとの(1)~(5)の問いに答えなさい。

図1



(注) 国境に一部未確定部分がある。

(1) 東京からある方位に向かって直進し、地球を一周して最短コースで戻ってくると、いくつかの大陸を通過する。次のア~エのうちから、南アメリカ大陸を最後に通過する場合、東京から直進する方位として最も適当なものを一つ選び、その符号を書きなさい。

ア 東                      イ 西                      ウ 南                      エ 北

(2) 右の図2中のア~エは、それぞれイギリス、オーストラリア、ケニア及びタイのいずれかの首都を示している。ア~エの首都のうち、東京からの距離が3番目に近い都市はどれか。図1を参考に、最も適当なものを一つ選び、その符号を書きなさい。


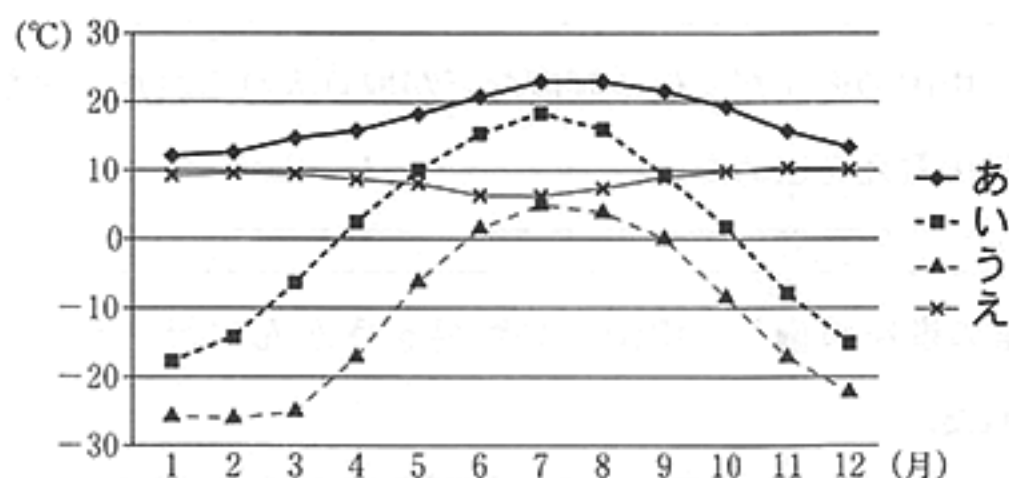
図2



(注) 国境に一部未確定部分がある。

- (3) 次の資料1は、前のページの図1中のあ～えの都市における月平均気温を示したものであり、右下の写真は、針葉樹の森林が広がっている地域の景観を示したものである。あ～えのうち、写真に見られるような針葉樹の森林が分布する気候帯に属する都市はどれか。最も適当なものの一つを選び、その符号を書きなさい。

資料1 あ～えの都市における月平均気温



(注) グラフ中のデータは1981年から2010年までの平均値を示す。  
〔理科年表平成28年〕より作成

- (4) 次の文章は、前のページの図1中のA～Dの国のうち、いずれかの国について述べたものである。この文章はどの国について述べたものか。最も適当なものの一つを選び、その符号を書きなさい。

1990年代から経済の自由化が進められ、外国の企業が次々と進出した。英語や数学の高度な教育を受けた人が多く、これらの人々は、南部の都市バンガロールなどで、情報通信技術関連の仕事などに従事している。

- (5) 次の資料2は、前のページの図1中のアメリカ合衆国、カナダ、ドイツ及びフランスの人口密度、1人あたりGDP、輸出上位3品目及び輸出総額を示したものである。資料2中のXとYにあてはまる国はそれぞれどれか。あとのア～エのうちから最も適当なもの一つずつを選び、その符号を書きなさい。

資料2 アメリカ合衆国、カナダ、ドイツ及びフランスの人口密度、1人あたりGDP、輸出上位3品目及び輸出総額(2014年)

	人口密度 (人/km <sup>2</sup> )	1人あたりGDP (ドル)	輸出上位3品目			輸出総額 (百万ドル)
			1位	2位	3位	
W	4	50,169	原油	自動車	機械類	473,557
X	226	47,966	機械類	自動車	医薬品	1,498,158
Y	32	54,306	機械類	自動車	石油製品	1,619,743
Z	116	42,651	機械類	航空機	自動車	566,656

(〔世界国勢図会2016/17〕などより作成)

ア アメリカ合衆国                      イ カナダ                      ウ ドイツ                      エ フランス

4 次のA～Eのカードは、社会科の授業で、そうたさんたちの班が、「日本と中国との交流の歴史」について調べ、まとめたものである。これを読み、あとの(1)～(5)の問いに答えなさい。

A 中国の歴史書に、1世紀の中ごろ、倭の<sup>わ</sup>奴<sup>な</sup>国<sup>こく</sup>の王が中国に使者を送り、中国の皇帝から金印を授けられたことが記されている。

B たびたび使節が中国に派遣され、中国の進んだ文化や制度などが取り入れられた。また、中国から<sup>がんじん</sup>鑑真が来日し、日本に仏教の教えを広めた。

C 平清盛は瀬戸内海の航路や兵庫の港を整備し、中国との貿易をさかんに行った。その結果、中国の貨幣が大量に輸入された。

D 中国から<sup>わこ</sup>倭寇の取り締まりを求められたため、足利義満は倭寇を禁止するとともに、正式な貿易船に中国で発行された許可証を持たせ、朝貢の形式の貿易を始めた。

E 徳川家光は日本人の海外<sup>とこ</sup>渡航や帰国を禁止した。その後、中国とオランダだけが貿易を許される、後に「鎖国」とよばれる状態となった。

(1) カードA中の下線部 a に関連して、次のア～エの文のうち、弥生時代の日本の様子を述べたものはどれか。最も適当なものを一つ選び、その符号を書きなさい。

- ア 表面に縄目のような文様のついた土器がつくられ始めた。
- イ ナウマンゾウなどの大型の動物を主な食料としていた。
- ウ 稲の穂の収穫の際に石包丁が使われるようになった。
- エ 朝鮮半島から日本列島に移り住んだ渡来人により仏教が伝えられた。

(2) カードB中の下線部 b に関連して、次の文は、このころの日本でつくられた書物について述べたものである。文中の  にあてはまる適当な語を漢字3字で書きなさい。

日本の成り立ちや神話などをまとめた歴史書や、地方の国ごとに郷土の地理・言い伝えなどを記した「」という書物がつくられた。

- (3) カードC中の下線部cに関連して、次の文章は、この人物により成立した政権について述べたものである。文章中の 、 にあてはまる語の組み合わせとして最も適当なものを、あとのア～エのうちから一つ選び、その符号を書きなさい。

武士として初めて政治の実権を握った平清盛は、朝廷の最高の役職(官職)である  となり、平氏政権を確立した。<sup>えいが</sup> 栄華をほこった平氏だったが、朝廷の政治を思うままに動かし始めたため、平氏政権に不満をもった勢力の反発が強まって、源平の争いが起こり、 で滅ぼされた。

- ア I : <sup>だいじょうだいじん</sup> 太政大臣      II : <sup>だんのうら</sup> 壇ノ浦      イ I : <sup>せいいたいしょうぐん</sup> 征夷大將軍      II : 壇ノ浦  
 ウ I : 太政大臣      II : 鎌倉      エ I : 征夷大將軍      II : 鎌倉

- (4) カードD中の下線部dに関連して、次の文章は、ある王国について述べたものであり、右下の写真の建築物は、この王国の都に築かれていた城の正殿<sup>せいでん</sup>を復元したものである。文章中の  にあてはまる最も適当な語を、あとのア～エのうちから一つ選び、その符号を書きなさい。

15世紀はじめに、<sup>ちゅうざん</sup> 中山の王である<sup>しょう</sup> 尚氏が <sup>ほくざん</sup> 北山・<sup>なんざん</sup> 中山・南山の三つの王国を統一し、ある王国を建国した。この王国は、東アジアなどの国々と産物のやりとりを行う  貿易で栄えた。



- ア <sup>なんばん</sup> 南蛮      イ <sup>かんごう</sup> 勘合  
 ウ <sup>しゅいんせん</sup> 朱印船      エ <sup>なかつぎ</sup> 中継

- (5) カードE中の下線部eに関連して、次の文章は、このころに起こった島原・天草一揆について述べたものである。文章中の  にあてはまる適当なことばを、「キリシタン」「取り立て」の二つの語を用いて、20字以内(読点を含む。)で書きなさい。

島原や天草では、領主による  に苦しんだ人々が、天草四郎という少年を大将にして一揆を起こした。一揆軍は4か月にわたり12万人余りの幕府軍と戦ったが、<sup>ちんあつ</sup> 鎮圧された。



5 次の略年表は、社会科の授業で、ななこさんが、千葉県出身の石井菊次郎<sup>いしいきくじろう</sup>という人物について調べ、まとめたものである。これを見て、あとの(1)~(5)の問いに答えなさい。

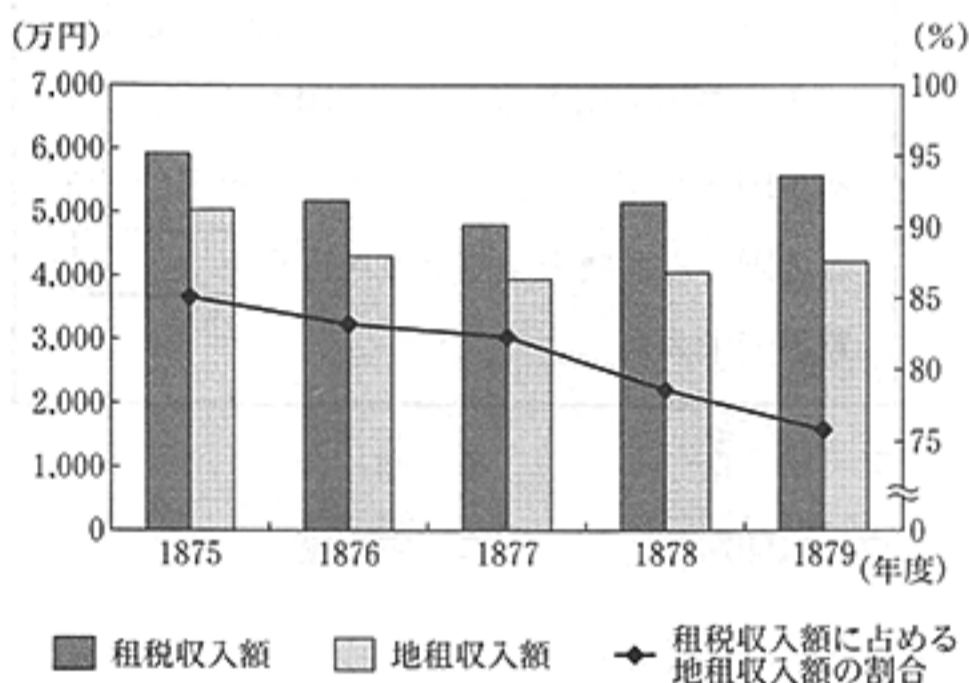
年代	主なできごと
1866 a	<sup>かずさのくにながらぐんまんなむら</sup> 上総国長柄郡真名村に生まれる
1890 b	外務省に入省する
1915 c	<u>外務大臣となり、ロシアなどとの外交を担当する</u>
1920 d	<u>国際連盟</u> の日本代表となる
1945	空襲にあい、行方不明となる
1971 e	石井の訴えた外交における書類整備の重要性を受け、外交史料館が開館する

(1) 次の文章は、略年表中の下線部 a ~ 下線部 b の時期に行われた「地租改正」について述べたものである。文章中の  にあてはまることばとして最も適当なものを、あとのア~エのうちから一つ選び、その符号を書きなさい。

右のグラフからは、租税収入額に占める地租収入額の割合が減少していったことがわかる。

地租改正の政策は、国民にとって大きな負担であったため、各地で反対一揆が起こった。これに対応するため政府は、。

租税収入額、地租収入額及び租税収入額に占める地租収入額の割合の推移



(「本邦主要経済統計」より作成)

- ア 課税の基準を収穫高から地価に変更した  
 ウ 年貢の率を四公六民に定めた  
 イ 旗本や御家人の借金を帳消しにした  
 エ 地租を地価の2.5%に引き下げた

(2) 略年表中の下線部 c に関連して、次のア~エのできごとのうちから、このできごとよりも前に起こったものを三つ選び、年代の古いものから順に並べ、その符号を書きなさい。

- ア <sup>からふと</sup>樺太をロシア領と認め、<sup>ウルフ</sup>千島列島の得撫島以北を日本領とすることを定めた。  
 イ 列強が大戦中に起こったロシア革命の干渉に乗り出すと、日本もシベリア出兵を行った。  
 ウ <sup>リアオトン</sup>遼東半島の旅順、<sup>リュイシュン</sup>大連の租借権や<sup>ターリエン</sup>樺太の南半分の領有が日本に認められた。  
 エ <sup>えとろふ</sup>択捉島以南を日本領、得撫島以北をロシア領とし、樺太については国境を設けなかった。

- (3) 略年表中の下線部 d に関連して、次の文章は、国際連盟が、あるできごとに対する調査団の派遣を決定した過程について述べたものである。文章中の  にあてはまることばとして最も適当なものを、あとのア～エのうちから一つ選び、その符号を書きなさい。

1931年9月、<sup>フオンテイエン</sup>奉天郊外の<sup>リウティアオフー</sup>柳条湖で南満州鉄道の線路が爆破される事件が起こった。これを機に軍事行動を開始した日本軍は、。中国がこうした動きを侵略行為として国際連盟に訴えたため、国際連盟は調査団の派遣を決定した。

- ア 青年将校らが中心となり警視庁などを襲撃する二・二六事件を起こした  
イ 朝鮮に総督府を設置し、武力を背景とした支配を行った  
ウ 清の最後の皇帝溥儀<sup>フイ</sup>を元首とする満州国の建国を宣言させた  
エ 二十一か条の要求を提出し、大部分の内容を中国に認めさせた

- (4) 略年表中の下線部 e に関連して、次の文は、この翌年に実現した沖縄の日本復帰について述べたものである。文中の  にあてはまる人物名として最も適当なものを、あとのア～エのうちから一つ選び、その符号を書きなさい。

サンフランシスコ平和条約が結ばれた後も、アメリカによる統治が続いた沖縄は、 内閣のときに日本復帰を果たした。

- ア 佐藤栄作                      イ 岸信介                      ウ 吉田茂                      エ 田中角栄

- (5) 次の資料は、石井菊次郎があるできごとについて記したものであり、あとの文は、この資料を読んで、ななこさんがこのできごとについてまとめたレポートの一部である。文中の  にあてはまる適当な語をカタカナ4字で書きなさい。

#### 資料

…サラエボの一悲劇は端なくも欧州の乾ける火薬に点火した。未曾有の大戦乱は二か月を待たずして開幕となった。…七月三十日付を以て「欧州の戦乱遂に避け難し」と本省に打電したが、本省では半信半疑でその電報を読んだということである。…

(「外交余録」より一部要約)

#### ななこさんがまとめたレポートの一部

半島は、列強の利害と民族、宗教などの対立により、戦争が相次いだことから、当時、「ヨーロッパの火薬庫」とよばれた。

6 次の文章を読み、あとの(1)~(3)の問いに答えなさい。

企業は、資本金や従業員の数によって大企業と中小企業に分けられます。企業の種類のうち、株式の発行によって資金を人々から広く集め、大規模な経営ができるのが株式会社です。

また、企業は労働者と雇用契約を結び、労働力を確保します。

(1) 下線部 a に関連して、次の文は、中小企業に関連することがらについて述べたものである。

文中の  にあてはまる適当な語をカタカナで書きなさい。

新しい技術や独自の経営戦略をもとに新たに起業し、革新的な事業を展開する中小企業を  企業という。

(2) 下線部 b に関連して、次の文章は、株式会社のしくみの一部について述べたものである。文章

中の  にあてはまる適当なことばを、「株主」「出資金」「責任」の三つの語を用いて 25 字以内(読点を含む。)で書きなさい。

株主は、株式を保有している株式会社において利潤(利益)が得られた場合、その利潤の一部を配当として受け取ることができる。一方、その株式会社が事業に失敗し、倒産した場合であっても、 ことはない。

(3) 下線部 c に関連して、次の文章は、社会科の授業で、ひろしさんたちの班が、右のページの

資料を見ながら「これからの働き方」について話し合っている場面の一部である。文章中の  X ,  Y にあてはまる最も適当なものを、それぞれあとの選択肢ア~エのうちから一つずつ選び、その符号を書きなさい。

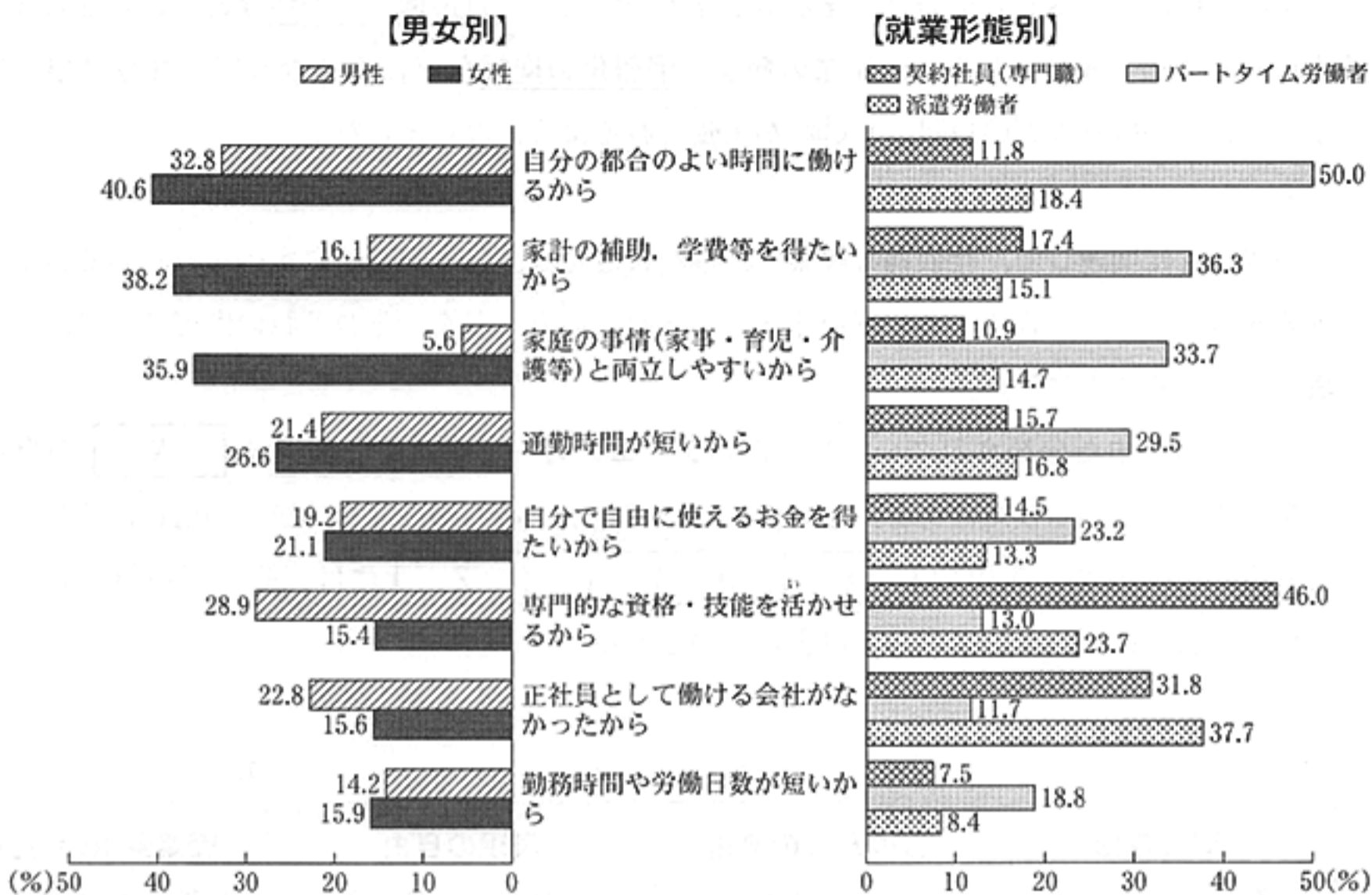
ひろしさん：かつての日本の社会では、正社員として就職して定年まで同じ企業に勤め続ける終身雇用が一般的だったけれども、現在は、契約社員など、正社員以外の就業形態が増えているみたいだね。

さくらさん：正社員以外の労働者が、現在の就業形態を選んでいる主な理由がわかる資料があるわよ。それぞれの理由について、男女別や就業形態別で何か違いはあるのかしら。

よしおさん：この資料からは、 X ことがわかるね。

たかこさん：正社員以外の就業形態の場合、失業した場合に一定期間、手当が給付される  Y 保険に加入していない場合もあるのよね。働き方が大きく変化する中、もっと社会全体でセーフティネットを整備していかなきゃね。

資料 正社員以外の労働者(出向社員を除く)が現在の就業形態を選んだ主な理由



(注)・この調査では、労働者を、「正社員」、「出向社員」、「契約社員(専門職)」、「嘱託社員(再雇用者)」、「パートタイム労働者」、「臨時労働者」、「派遣労働者(受け入れ)」、「その他」の八つの就業形態に区分し、「正社員」以外の七つの就業形態を合わせて「正社員以外の労働者」という。

・現在の就業形態を選んだ理由については、三つまでの複数回答であり、「正社員以外の労働者(出向社員を除く)」の回答合計の上位八つまでを示している。また、就業形態別の割合は、主な正社員以外の就業形態について示しており、各就業形態の労働者のうち、回答があった労働者を100としている。

(厚生労働省「平成26年就業形態の多様化に関する総合実態調査の概況」より作成)

**X** の選択肢

ア 「自分の都合のよい時間に働けるから」という理由については、男女どちらも、その割合は30%を超えていて、契約社員(専門職)と派遣労働者のどちらも、その割合はパートタイム労働者の割合の3分の1以下である

イ 「家計の補助、学費等を得たいから」と「家庭の事情(家事・育児・介護等)と両立しやすいから」の二つの理由については、どちらの理由も、男性の割合は女性の割合の半分以下で、パートタイム労働者の割合は、それぞれ契約社員(専門職)と派遣労働者の割合の合計よりも多い

ウ 「専門的な資格・技能を活かせるから」と「正社員として働ける会社がなかったから」の二つの理由については、どちらの理由も、女性の割合は男性の割合の3分の2以下で、契約社員(専門職)と派遣労働者の割合は、それぞれパートタイム労働者の割合の2倍以上である

エ 「通勤時間が短いから」、「自分で自由に使えるお金を得たいから」、「勤務時間や労働日数が短いから」の三つの理由は、いずれの理由も、その割合の男女差は10%以内で、パートタイム労働者の割合は、それぞれ契約社員(専門職)と派遣労働者の割合の合計よりも多い

**Y** の選択肢

ア 雇用                      イ 年金                      ウ 介護                      エ 労災

7 次の文章を読み、あとの(1)~(3)の問いに答えなさい。

日本国憲法は、基本的人権の尊重を基本原理の一つとし、自由権や平等権など、さまざまな基本的人権を定めています。しかし、産業の発達や情報化の進展などにもなって、さらに環境権やプライバシーの権利などの「新しい人権」が主張されるようになりました。

(1) 下線部 a に関連して、社会科の授業で、みわこさんは、日本国憲法に定められている自由権の内容を考えながら1枚ずつカードを作成し、それらのカードを、それぞれの内容ごとに、あとの表に分類することにした。

このとき、まだ分類されていない、次のア~エのカードのうち、表中の  の自由に分類できるものが1枚だけある。そのカードはどれか。最も適当なものを一つ選び、その符号を書きなさい。なお、表中の 、、 には、それぞれ「身体」「精神」「経済活動」のいずれかの語があてはまるものとする。

ア	イ	ウ	エ
<b>学問の自由</b> 自分の興味があることがらについて研究を行うことなどができる。	<sup>くえき</sup> <b>苦役からの自由</b> 犯罪による処罰の場合以外には、苦しい労働を課せられない。	<b>表現の自由</b> 自分の意見を、新聞などを通じて、人々に伝えることなどができる。	<b>職業選択の自由</b> 適性や能力などを見つめ、自分に合った職業を選ぶことなどができる。

表 「日本国憲法に定められている自由権」の三つの分類

<input type="text" value="X"/> の自由	<input type="text" value="Y"/> の自由	<input type="text" value="Z"/> の自由
<div style="border: 1px dashed black; width: 150px; height: 100px; margin: 0 auto;"></div>	<b>法定手続きの保障</b> 正当な理由もなく逮捕され、身体を拘束されることなどはない。	<b>思想・良心の自由</b> 自分の心の中で自由に物事を考え、判断することなどができる。

(2) 下線部 b に関連して、次の文章は、日本における、ある民族の権利の保障に関する国会の動きについて述べたものである。文章中の  に共通してあてはまる適当な語を書きなさい。

1997年、国会で  文化振興法が制定された。また、2007年に、国際連合(国連)の総会で「先住民族の権利に関する国連宣言」が採択されたことを受けて、2008年、政府に対して「 民族を先住民族とすることを求める決議」が国会で行われた。

- (3) 下線部 c に関連して、次の文章は、情報化の進展した社会において求められる力について述べたものである。文章中の  に共通してあてはまる適当な語をカタカナで書きなさい。

私たちが、情報化の進展した社会で生活していく上では、情報を正しく判断して活用する力である、情報  を身につけることが大切である。特に、新聞やテレビなどが提供する情報を様々な角度から批判的に読み取る力を、メディア  とよぶ。

- 8 次の文章は、2016年7月29日に発表された、国際連合の事務総長からのメッセージの一部である。これを読み、あとの(1)、(2)の問いに答えなさい。

私はリオデジャネイロで開催される2016年オリンピック・パラリンピック大会期間中、「オリンピック停戦」として、全世界での戦闘行為の停止を求めます。

このような野心的ビジョンの実現は不可能なように見えるかもしれませんが、オリンピックの精神は、私たちにこの挑戦を受けて立つよう促しています。

(〔国際連合広報センターホームページ〕より一部引用)

- (1) リオデジャネイロで開催された2016年オリンピック・パラリンピック大会では、自らの国・地域から出場できない選手で編成されたチームの出場が初めて認められた。この背景にある国際的な課題について述べた、次の文章中の  に共通してあてはまる適当な語を漢字2字で書きなさい。

人種・宗教・政治的意見などの理由による迫害などのため、国外に逃れた人々を  という。逃れた国でも貧困に苦しんでいるこれらの人々を支援するため、国連  高等弁務官事務所 (UNHCR) などが活動している。

- (2) 次のア～エの文のうち、国際連合に関連することがらについて正しく述べているものはどれか。最も適当なものを一つ選び、その符号を書きなさい。

ア 国際連合の加盟国数は、1945年の国際連合発足当初は51か国であったが、その後、独立を果たしたアジア・アフリカなどの国々が次々と加盟し、1992年には200か国を超えた。

イ 国際連合の中心的な審議機関であり、すべての加盟国が参加する総会では、加盟各国が国連分担金の金額に比例した票数を持っている。

ウ 核兵器不拡散(核拡散防止)条約は、核兵器の保有を、安全保障理事会の常任理事国でもある5か国に限定し、この5か国以外が新たに核兵器を保有することを禁止している。

エ 国際連合の専門機関の一つであるWHOは、経済社会理事会の決定に基づき、停戦や選挙の監視などの国連平和維持活動(PKO)を行っている。

問題番号		正 解	配 点	及 び 注 意	計																		
1	(1)	イ	3		12																		
	(2)	東南アジア	3	・5字指定																			
	(3)	ヒスパニック	3	・カタカナ6字指定																			
	(4)	<table border="1" style="width: 100%; border-collapse: collapse;"> <tr> <td style="width: 20%;">年代の古い順</td> <td style="width: 10%; text-align: center;">1</td> <td style="width: 10%; text-align: center;">2</td> <td style="width: 10%; text-align: center;">3</td> </tr> <tr> <td style="text-align: center;">符 号</td> <td style="text-align: center;">イ</td> <td style="text-align: center;">ウ</td> <td style="text-align: center;">ア</td> </tr> </table>	年代の古い順	1		2	3	符 号	イ	ウ	ア	3	・全部できた場合、点を与える。										
年代の古い順	1	2	3																				
符 号	イ	ウ	ア																				
2	(1)	<table border="1" style="width: 100%; border-collapse: collapse;"> <tr> <td style="width: 20%;">通過した順</td> <td style="width: 10%; text-align: center;">1</td> <td style="width: 10%; text-align: center;">2</td> <td style="width: 10%; text-align: center;">3</td> <td style="width: 10%; text-align: center;">4</td> </tr> <tr> <td style="text-align: center;">符 号</td> <td style="text-align: center;">エ</td> <td style="text-align: center;">イ</td> <td style="text-align: center;">ア</td> <td style="text-align: center;">ウ</td> </tr> </table>	通過した順	1	2	3	4	符 号	エ	イ	ア	ウ	3	・全部できた場合、点を与える。	16								
	通過した順	1	2	3	4																		
	符 号	エ	イ	ア	ウ																		
	(2)	<table border="1" style="width: 100%; border-collapse: collapse;"> <tr> <td style="width: 10%; text-align: center;">①</td> <td style="width: 15%;">符 号</td> <td style="width: 15%; text-align: center;">う</td> <td style="width: 15%;">県 名</td> <td style="width: 45%; text-align: center;">石川(県)</td> </tr> </table>	①	符 号	う	県 名	石川(県)	3	<ul style="list-style-type: none"> <li>・両方できた場合、点を与える。</li> <li>・県名はひらがなでもよい。</li> </ul>														
	①	符 号	う	県 名	石川(県)																		
(3)	<table border="1" style="width: 100%; border-collapse: collapse;"> <tr> <td style="width: 10%; text-align: center;">①</td> <td style="width: 15%;">水</td> <td style="width: 15%;">は</td> <td style="width: 15%;">け</td> <td style="width: 15%;">が</td> <td style="width: 15%;">よ</td> <td style="width: 15%;">い</td> <td style="width: 15%;">た</td> <td style="width: 15%;">め</td> <td style="width: 15%;">果</td> </tr> <tr> <td></td> <td style="border: 1px dashed black;">樹</td> <td style="border: 1px dashed black;">園</td> <td></td> <td></td> <td></td> <td></td> <td></td> <td></td> <td></td> </tr> </table>	①	水	は	け	が	よ	い	た	め	果		樹	園								4	<ul style="list-style-type: none"> <li>・正解文の趣旨にそっていればよい。</li> <li>・部分点を与えてもよい。</li> </ul>
①	水	は	け	が	よ	い	た	め	果														
	樹	園																					
(2)	<table border="1" style="width: 100%; border-collapse: collapse;"> <tr> <td style="width: 10%; text-align: center;">②</td> <td style="width: 85%; text-align: center;">ア</td> </tr> </table>	②	ア	3																			
②	ア																						
(3)	<table border="1" style="width: 100%; border-collapse: collapse;"> <tr> <td style="width: 10%; text-align: center;">②</td> <td style="width: 85%; text-align: center;">エ</td> </tr> </table>	②	エ	3																			
②	エ																						
3	(1)	イ	3		15																		
	(2)	ア	3																				
	(3)	い	3																				
	(4)	A	3																				
	(5)	<table border="1" style="width: 100%; border-collapse: collapse;"> <tr> <td style="width: 10%; text-align: center;">X</td> <td style="width: 20%; text-align: center;">ウ</td> <td style="width: 10%; text-align: center;">Y</td> <td style="width: 10%; text-align: center;">ア</td> </tr> </table>	X	ウ		Y	ア	3	・両方できた場合、点を与える。														
X	ウ	Y	ア																				

問題番号	正解	配点及び注意	計				
4	(1) ウ	3	16				
	(2) 風土記	3		・漢字3字指定			
	(3) ア	3					
	(4) エ	3					
	(5) キリシタンの弾圧や重い年貢の取り立て	4		・正解文の趣旨にそってればよい。 ・部分点を与えてもよい。			
5	(1) エ	3	15				
	(2) 年代の古い順 符号	1 エ		2 ア	3 ウ	3	・全部できた場合、点を与える。
	(3) ウ	3					
	(4) ア	3					
	(5) バルカン	3		・カタカナ4字指定			
6	(1) ベンチャー	3	・カタカナ指定	11			
	(2) 株主は出資金を失うだけ で、それ以上の責任を負う	4	・正解文の趣旨にそってればよい。 ・部分点を与えてもよい。				
	(3) X イ Y ア	各2					
7	(1) エ	3	9				
	(2) アイヌ	3					
	(3) リテラシー	3		・カタカナ指定			
8	(1) 難民	3	・漢字2字指定	6			
	(2) ウ	3					
合計			100				