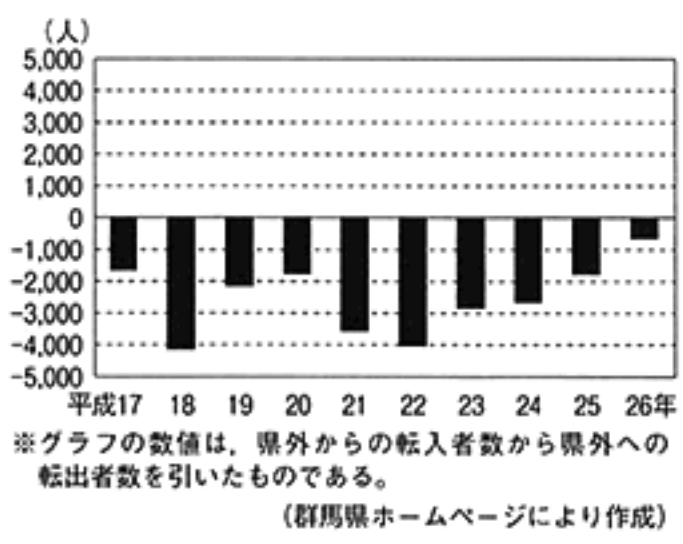


1 真緒さんは、群馬県の課題について調べたことを発表し、課題の解決に向けてクラスの人たちと話し合った。次の資料は、そのときに使用したものの一部である。後の(1)~(5)の問いに答えなさい。

群馬県の重要な課題の1つは、人口減少です。この原因としては、出生数より死亡数が多いことだけでなく、A ことなどが挙げられます。人口減少により、労働力不足や社会保障への影響などが心配されています。また、河川や火山が多い群馬県としては、自然災害への対応なども課題です。  
上毛かるたには、「力あわせる二百万」という読み札があります。私たちが先人から受け継いできた豊かな自然や文化遺産などを大切にしながら、力をあわせて課題の解決に取り組むことが必要です。

資料Ⅰ 群馬県の人口移動の推移



資料Ⅱ 自然災害に備えて作られた地図



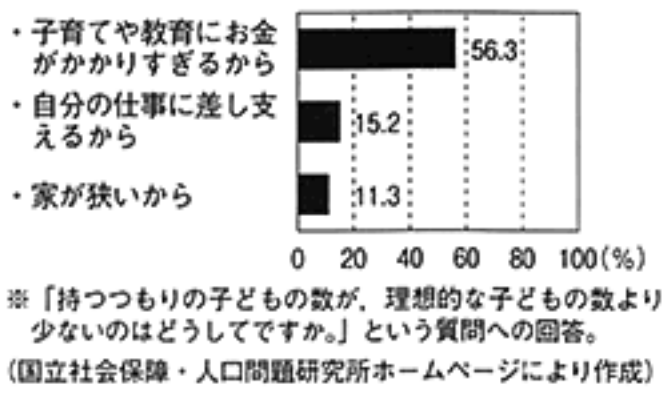
資料Ⅲ 上毛かるた



資料Ⅳ 岩宿遺跡から発見された道具



資料Ⅴ 理想の子ども数を持たない理由



資料Ⅵ 考えたことを書いたふせんを貼った紙

テーマ：子育て支援のための政策

(真緒さんの考え)

小学校や中学校の給食を無料にする。

(太郎さんの考え)

家族が住みやすい住宅を作り、住み替えをすすめる。

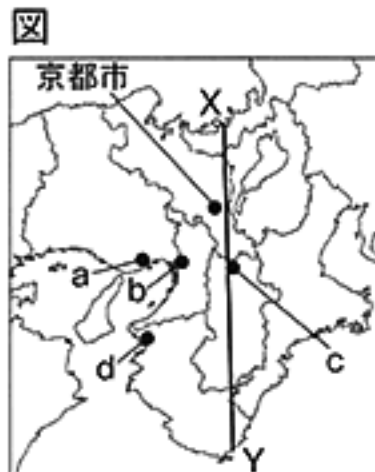
(あなたの考え)

- 文中のA に当てはまる文を、資料Ⅰに着目して、書きなさい。
- 下線部(a)について、資料Ⅱのような、自治体などが自然災害の発生に備えて作成する地図を何というか、書きなさい。
- 下線部(b)について、資料Ⅲに描かれた浅間山は、天明3年に大規模な噴火を起こした。この噴火のころのできごととして適切なものを、次のア~エから選びなさい。  
 ア 水野忠邦が株仲間を解散させた。      イ 徳川家光が参勤交代を制度化した。  
 ウ 田沼意次が老中を辞任させられた。      エ 徳川家康が征夷大將軍に任命された。
- 下線部(c)について、真緒さんは県内の文化遺産について調べたことを発表した。次の文はその一部である。(      ) に当てはまる語を書きなさい。

岩宿遺跡から資料Ⅳのような道具が発見されました。この発見によって、日本列島でも(      )時代に人類が生活していたことが、初めて証明されました。

- 真緒さんたちは、資料Ⅴをもとに、子育て支援のための政策について話し合った。資料Ⅵは、その際に用いたものである。資料Ⅴにある3つの理由のうち、真緒さんや太郎さんが取り上げていない理由に着目し、その問題点を解決するための政策を考えて書きなさい。

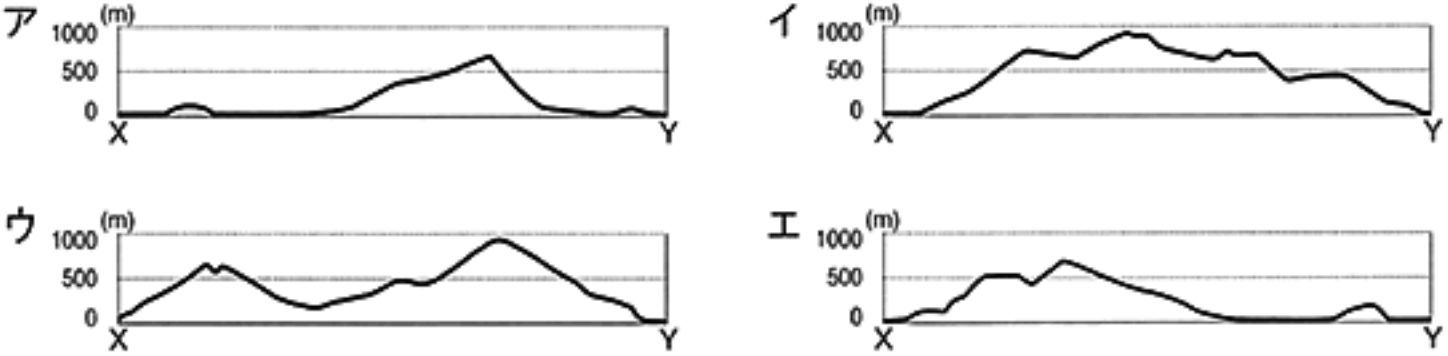
2 健太さんは、近畿地方について調べたことをまとめ、発表した。次の図と資料は、そのときに使用したものの一部である。後の(1)~(4)の問いに答えなさい。



資料I

都市	特徴
京都市	「古都」と呼ばれ、歴史的な寺院・神社をはじめとする多くの文化財が残っている。そのため、国内外から多くの観光客が訪れる。
①	江戸時代には全国の物産が集まる商業の中心地として発展した。現在も近畿地方の経済・文化の中心地として多くの人やものが集まっている。
②	外国との貿易の玄関口として発展してきた。平地が少ないため丘陵を削ってニュータウンを建設し、削られた土を使って沿岸の埋め立てを行った。

(1) 図中のX-Yの断面の模式図として適切なものを、次のア~エから選びなさい。



(2) 資料Iは、近畿地方の都市の特徴をまとめたものである。資料II

資料II

資料I中の①, ②で説明している都市を、図中のa~dからそれぞれ選びなさい。



※「みずな」は京都の伝統野菜の1つである。  
(農林水産省「野菜生産出荷統計」により作成)

(3) 近畿地方でみられる農業に関して、次の①, ②に答えなさい。

① 資料IIの■で示された府県のように、大都市の近くで「みずな」などの野菜栽培を行う利点を、簡潔に書きなさい。

② 次の文は、資料IIIにみられる取組を説明したものである。□に当てはまる語句を書きなさい。

資料III


京都産の農林水産物の中で、産地や栽培方法など一定の基準を満たしたものを「京のブランド産品」として認証し、右のマークを貼って売り出す。

(京都府ホームページにより作成)

商品のブランド化を行い、他の産地との差別化を図るとともに、□をアピールすることで、消費者の信頼を得ることを目的としている。

(4) 資料IVの2枚の写真は2007年、2015年のいずれかの時期に撮影されたものである。2015年に撮影されたものを、ア, イから選びなさい。また、そのように判断した理由を、京都市の政策に着目して、簡潔に書きなさい。

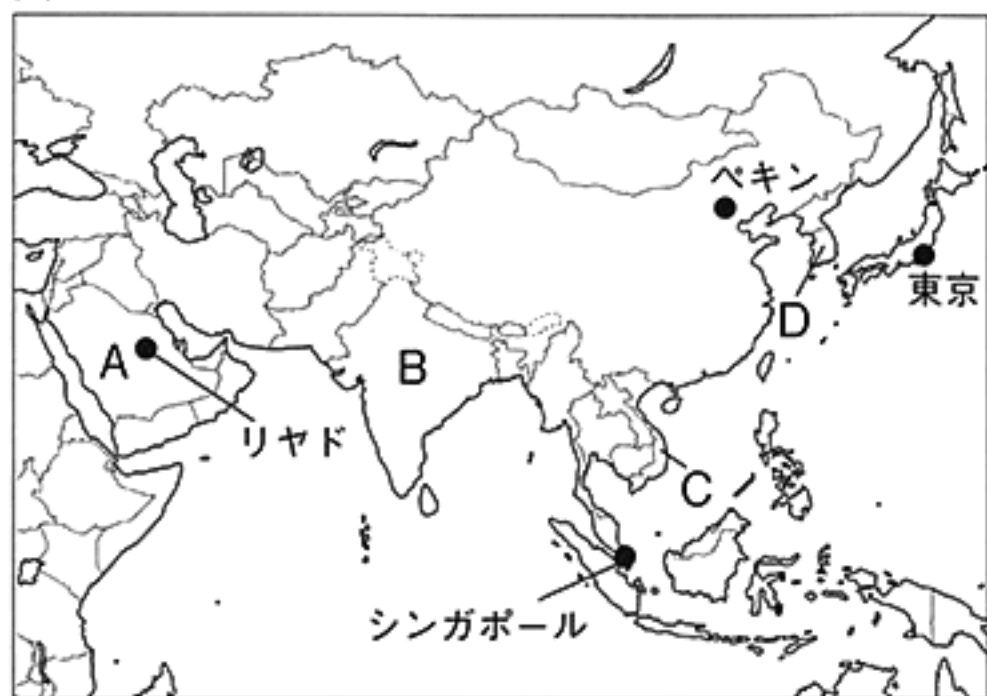
資料IV



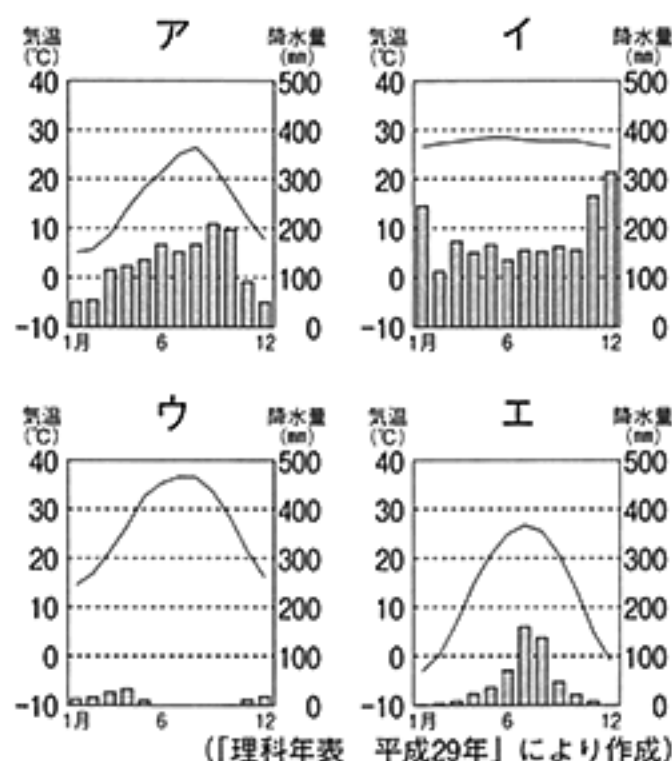
※ア, イの写真は京都市内の同じ場所を撮影したものである。  
(「京のサイン増補版」により作成)

3 まどかさんは、アジアについて調べたことをまとめ、発表した。次の図と資料は、そのときに使用したものの一部である。後の(1)~(4)の問いに答えなさい。

図



資料Ⅰ 4都市の気温と降水量



(1) 資料Ⅰのア~エは、図中のシンガポール、東京、ペキン、リヤドのいずれかの気温と降水量のグラフである。ペキンに当たるものを、資料Ⅰのア~エから選びなさい。

(2) 資料Ⅱは、インドと中国における人口の推移を示している。ア、イから中国のグラフを選び、そのように判断した理由を、中国の取組に着目し、簡潔に書きなさい。

(3) 次のア~エの文は、まどかさんが図中のA~Dの国のおもな食文化について調べたものである。Dの国について説明した文を、次のア~エから選びなさい。

ア 国の大部分の人が信仰している宗教により、豚肉を食べない。

イ 稲作を中心とした農業が行われており、米をめん加工したものが食べられている。

ウ 冬が寒く、野菜の収穫量が少ないため、とうがらしを用いた保存食が食べられている。

エ 小麦の生産が世界2位であり、小麦粉で作られた生地を焼いたものが食べられている。

(4) まどかさんは、アジアの中で日本との貿易がさかんな国について調べた。次の①、②の問いに答えなさい。

① 次の文の□に当てはまる語を書きなさい。

中国では、外国企業を受け入れる目的で、沿海部に□と呼ばれる開発地区を設定し、工業化を進め、経済成長を遂げた。

② 次の資料Ⅲは、韓国、サウジアラビア、タイ、中国の貿易に関する統計である。タイに当たるものを、資料Ⅲのア~エから選びなさい。

資料Ⅲ

国	日本の貿易収支 (億円)	日本が輸入するおもな品目と各国からの輸入総額に占める割合 (%)							
		電気機器	石油製品	機械類	鉄鋼	電気機器	機械類	肉類	魚介類
ア	19,246	20.3	19.7	9.8	9.5	19.7	14.9	5.7	4.9
イ	10,203	19.7	14.9	5.7	4.9	19.7	6.1	1.0	0.5
ウ	-42,104	91.7	6.1	1.0	0.5	91.7	17.0	12.0	5.4
エ	-57,950	29.2	17.0	12.0	5.4	29.2			

※貿易収支は輸出額から輸入額を引いた額を示している。

(「地理統計要覧 2016年版」により作成)

4 由美さんのクラスでは、歴史学習のまとめとして、「世界とのかかわりによる日本の各時代の変化」を班ごとにプレゼンテーションソフトでまとめ、発表した。次のスライドとメモは、由美さんの班がそのときに使用したものである。後の(1)～(4)の問いに答えなさい。

発表スライドⅠ(古代)

【中国の影響と日本の文化】

資料Ⅰ  資料Ⅱ 

発表メモⅠ(古代)

遣唐使がたびたび派遣され、中国の影響を受けた国づくりが進められました。資料Ⅰは当時の都につくられた大仏です。その後、中国から取り入れた文化を踏まえながら、資料Ⅱの文字のように日本独自の文化が発展を遂げました。

発表スライドⅡ(中世)

【御家人の不満が高まる】

資料Ⅲ  資料Ⅳ 



相続前	相続後	
もとの領地	長男	二男
		長女
	四男	三男
	五男	二女

発表メモⅡ(中世)

領地の支配を認められた御家人は、将軍に忠誠を誓いました。しかし、資料Ⅲに描かれたような2度の A といわれるできごとや、資料Ⅳにみられる相続などにより、生活が苦しくなったため、幕府への不満が高まり、御家人の心は幕府から離れていきました。

発表スライドⅢ(近世)

【諸藩、改革に着手】

資料Ⅴ  資料Ⅵ 

発表メモⅢ(近世)

資料Ⅴは黒砂糖づくりの様子です。諸藩では、このような特産物の専売制や、商人からの借金の棚上げ、密貿易などを行いました。また、なかにはその利益をもとに、資料Ⅵと同様の施設を建設し、外国船に対抗するために、大砲を製造する藩も現れました。

- (1) 発表スライドⅠと発表メモⅠに関して、次の①、②の問いに答えなさい。
- ① 下線部(a)の都を何というか、書きなさい。
- ② 資料Ⅱの文字に代表されるような、下線部(b)の文化を何というか、書きなさい。
- (2) 発表スライドⅡと発表メモⅡに関して、次の①、②の問いに答えなさい。
- ① A に当てはまる語を書きなさい。
- ② 下線部(c)について、御家人の生活が苦しくなった理由を、当時の領地の相続の様子を模式的に表した資料Ⅳに着目して、簡潔に書きなさい。
- (3) 下線部(d)について、諸藩がこのような取組を行った目的を、簡潔に書きなさい。
- (4) 他の班では、次のア～ウのできごとに関する資料を用い、それぞれの発表スライドを作成した。次のア～ウを時代の古い順に並べなさい。
- ア 日明貿易が始まる。      イ 鑑真が日本に招かれる。      ウ 異国船打払令が出される。

5 尚子さんのクラスでは、「世界の中の日本」というテーマで調べたことをまとめ、発表した。次の資料は、そのときに使用したものの一部である。後の(1)～(5)の問いに答えなさい。

資料Ⅰ 欧米の近代思想を紹介した書物の一部

「天は人の上に人をつくらず、人の下に人をつくらず」と言われている。つまり、天が人を生み出すに当たっては、すべての人は平等であって、生まれによる身分の上下はなく…。

(部分要約)

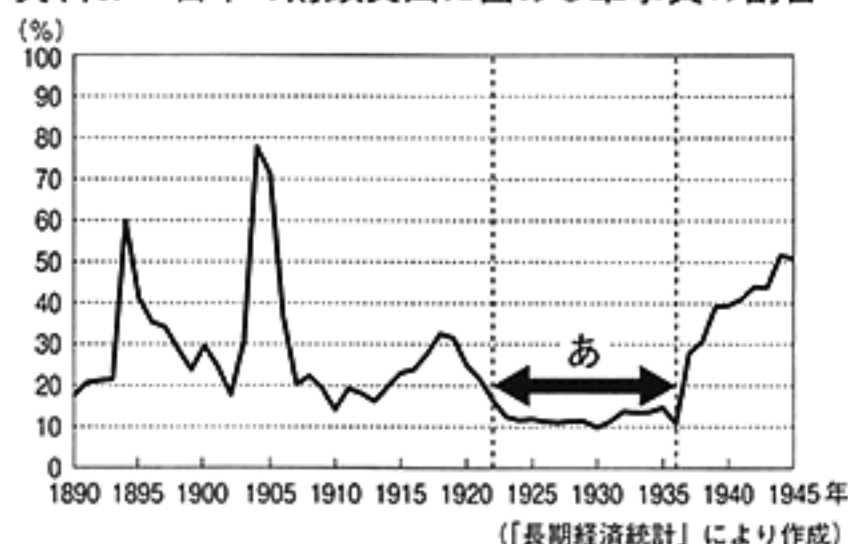
資料Ⅱ 欧米諸国に派遣された使節団



資料Ⅲ シカゴ万国博覧会に出品された作品



資料Ⅳ 日本の財政支出に占める軍事費の割合



資料Ⅴ ワシントン会議で結ばれた条約

第五条 基準排水量三万五千トンを超える主力艦は、いずれの締約国も取得または建造してはならない。

(部分要約)

※排水量とは、船の重さを表すのに用いられる単位である。

資料Ⅵ 歴史新聞の一部

20××年×月×日(×曜日) 歴史新聞

C を宣言



歴史新聞

発行者 ○年○組○番 佐藤 尚子

一九八九年十二月、アメリカのブッシュ大統領とソ連のゴルバチョフ書記長が、地中海のマルタ島で会談しました。

会談後の記者会見で、ゴルバチョフ書記長は「私はアメリカ合衆国に対して決して戦争をしないことを保証する。」と述べました。また、ブッシュ大統領は

「私たちは、平和を実現し東西関係をずっと続く協力関係に変えることができると、これが理想的な将来像であり、私たちはその第一歩を踏み出した。」と述べました。

【日本とのつながり】この会談の後、国際協調の動きが強まる中で、国際社会における日本の役割はさらに重要になりました。

(1) 資料Ⅰの書物を書いた人物を、次のア～エから選びなさい。

- ア 板垣退助      イ 吉田松陰  
ウ 中江兆民      エ 福沢諭吉

(2) 資料Ⅱの使節団が派遣された目的の1つを、欧米諸国との外交上の課題に着目して、簡潔に書きなさい。

(3) 次の文は、尚子さんが資料Ⅲの作品について説明したものである。文中のAに当てはまる語句を書きなさい。

この作品は、高村光雲の「老猿」です。この作品の特徴は、伝統的な彫刻の技法に、Aを取り入れたところにあります。

(4) 次の文は、尚子さんが資料Ⅳについて説明したものである。文中のBに当てはまる語句を、資料Ⅴに着目して、簡潔に書きなさい。

私は、「あ」の時期の軍事費の割合が、他の時期より小さいことに注目しました。これは、ワシントン会議でBが取り決められたことが影響しています。

(5) 資料Ⅵは、尚子さんが作成した歴史新聞の一部である。尚子さんは、記事にまとめた会談の内容の歴史的意義に着目して、見出しを考えた。Cに当てはまる語句を書きなさい。

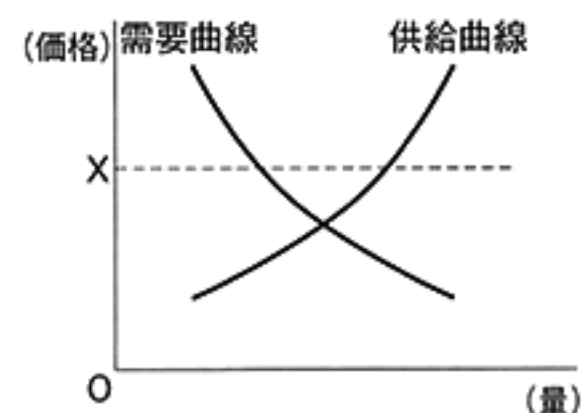
6 なつのさんの班では、「企業を通して経済を考える」というテーマで学習したことをまとめ、発表した。次の資料は、そのときに使用したものの一部である。後の(1)~(5)の問いに答えなさい。

資料Ⅰ

学習したこと	学習のポイント
企業の目的について	<ul style="list-style-type: none"> <li>・企業のおもな目的は、売り上げから原材料費などのコスト(費用)を引いた <b>A</b> を得ることです。</li> <li>・企業は、<u>消費者の安全の確保</u>など、多様な責任を担います。 (a)</li> </ul>
価格について	<ul style="list-style-type: none"> <li>・一般的に、<u>市場価格は需要量と供給量の関係</u>で決まります。 (b)</li> </ul>
企業形態について	<ul style="list-style-type: none"> <li>・企業には公企業と私企業があります。私企業には、商店などの個人企業と株式会社などの法人企業があります。 (c)</li> </ul>
技術革新について	<ul style="list-style-type: none"> <li>・<u>企業は、他の機関と協力して画期的な技術や商品</u>を作り出します。 (d)</li> </ul>

- (1) **A** に当てはまる語を書きなさい。
- (2) 下線部(a)に関して、商品の安全性を保証するために企業が果たすべき責任を、「情報」という語を用いて、簡潔に書きなさい。
- (3) 下線部(b)について、なつのさんは、資料Ⅱを用いて、市場価格の動きについて次のように発表した。**B**~**D** に当てはまる語句の組み合わせとして適切なものを、後のア~エから選びなさい。

資料Ⅱ 需要量・供給量と価格の関係



企業の経営を考えた場合、市場価格の動きを理解しておくことが大切です。授業では資料Ⅱを使って勉強しました。資料Ⅱでは、価格をXにした場合、**B**が上回り、商品が**C**という状況になります。そのため、一般的に、このような場合では、需要量と供給量が一致するように市場価格が**D**します。

- ア B：需要量 C：不足する D：上昇      イ B：供給量 C：売れ残る D：下落  
ウ B：供給量 C：売れ残る D：上昇      エ B：需要量 C：不足する D：下落

- (4) 下線部(c)について、なつのさんは、株式会社の利点を次のように説明した。**E**には当てはまる語を、**F**には当てはまる文を、それぞれ書きなさい。

株式会社は、株式の発行によって多くの人から必要な**E**を集めやすいという利点があります。また、株主にとっては、倒産した場合などでも出資した金額以上の**F**という点から、出資しやすいという利点があります。

- (5) 下線部(d)について、なつのさんは、資料Ⅲ、資料Ⅳを用いて発表した。資料Ⅲは、企業と様々な機関が連携して開発している技術である。

資料Ⅲ、資料Ⅳからわかる、この技術の利点を、日本の農業が抱える課題に着目して、簡潔に書きなさい。

資料Ⅲ 開発している技術



資料Ⅳ 活用事例



(資料Ⅲ、Ⅳともに農林水産省ホームページにより作成)

7 次の文は、裕一さんの班で、政治分野の学習のふりかえりを行ったときの会話の一部である。後の

(1)～(5)の問いに答えなさい。

裕一：政治分野の最初はどんな勉強をしたのか…ちょっと教科書を見てみよう。

美香：最初は、人権がどうやって保障されるようになったのか勉強したよね。権利章典とかフランス人権宣言とか出てきたね。

広美：市民革命（近代革命）を通して、考えを表現したり、好きな職業に就いたりする権利などの  
 権が保障されるようになったね。保障された権利を守るためには、権力分立の考え方  
 が大切だということも勉強したよね。

裕一：でも、 権だけが守られても不十分だって先生が言っていたよね。

広美：たしか、経済活動がさかんになったけれど、長い時間働かされた人も出てきたよね。

裕一：子どもが働かされている資料を見たのも覚えているよ。

広美：そんな状況の中で、新しい権利が認められるようになったよね。

美香：そうそう、社会権ね。社会権が広く認められ、国が人々の生活を積極的に守ろうとすると、行政の役割が重要になるって勉強したね。

裕一：でも、行政の役割が増えて、日本では国や市町村などの財政が厳しいって話も出てきたね。

美香：そうした問題の解決のために、最近では、行政改革が行われているということだったよ。

広美：行政改革には、行政の組織や業務の無駄を省いたり、許可・認可権を見直したりする取組などがあったね。

(1)  に当てはまる語を書きなさい。

(2) 下線部(a)に関して、人権の保障のために「法の支配」が必要だと考えられるようになった。資料Ⅰを参考にして、「法の支配」における法の役割を、「人の支配」と比較して、簡潔に書きなさい。

(3) 下線部(b)について、三権分立を唱えたフランスの思想家を、次のア～エから選びなさい。

ア ルソー      イ ロック      ウ リンカン      エ モンテスキュー

(4) 下線部(c)に関して、 ～ に当てはまる語句の組み合わせとして適切なものを、後のア～エから選びなさい。

メモ

- ・資料Ⅱを見ると、 法案の成立した割合が高い。その理由として、法律案の作成において、 のもつ専門性が生かされていることが挙げられる。
- ・国民主権の視点で見ると、国民の意思を反映した法律を制定するためには による立法が求められている。

ア B:内閣提出 C:国会議員 D:行政機関

イ B:内閣提出 C:行政機関 D:国会議員

ウ B:議員提出 C:国会議員 D:行政機関

エ B:議員提出 C:行政機関 D:国会議員

(5) 下線部(d)について、資料Ⅲは近年の許可・認可権の見直しの例を表している。政府のこのような取組の目的として適切なものを、次のア～エから選びなさい。

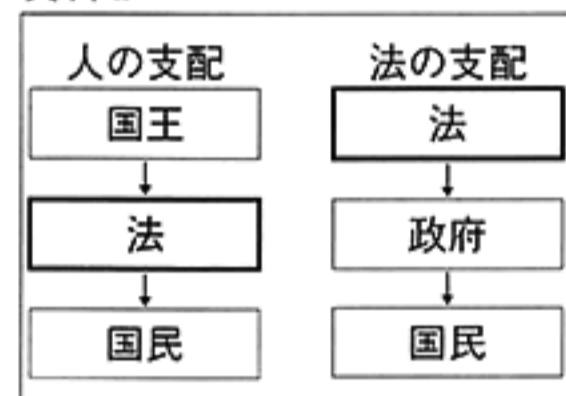
ア 民間企業の過度な競争を防ぐため。

イ 民間企業に対する規制を強化するため。

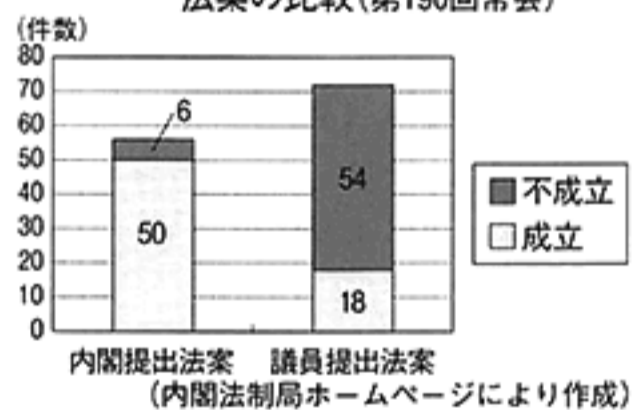
ウ 民間企業の自由な競争をうながすため。

エ 民間企業の担っていた分野に進出するため。

資料Ⅰ



資料Ⅱ 内閣提出法案と議員提出法案の比較(第190回常会)



資料Ⅲ

以前は薬局での対面販売のみだった医薬品の一部が、コンビニエンスストアやインターネットで購入できるようになった。

大問 (配点)	正 答					
1	(1)	(例) 転入者数より転出者数が多い				
	(2)	ハザードマップ (防災マップ)	(3)	ウ		
	(4)	旧石器				
	(13)	(5)	(例) 遅い時間まで子どもを預けることができる保育所などを整備する。			
2	(1)	ウ	(2)	① b ② a		
	(3)	①	(例) 野菜を新鮮なうちに市場へ出荷できること。			
		②	(例) 品質の高さ			
	(17)	(4)	記号 ア	理由 (例) 景観を保全するための規制が設けられ、広告物が減っているため。		
3	(1)	エ	(2)	記号 イ	理由 (例) 一人っ子政策によって、人口増加が抑えられたため。	
	(13)	(3)	ウ	(4)	① 経済特区 ② イ	
4	(1)	①	平城京	②	国風文化	
	(2)	①	元寇 (蒙古襲来)	②	(例) 分割相続で、領地が小さくなったため。	
	(3)	(例) 財政を立て直すこと。				
	(15)	(4)	イ → ア → ウ			
5	(1)	エ	(2)	(例) 不平等条約を改正すること。		
	(3)	(例) 西洋の技法		(4)	(例) 海軍の軍備の制限	
	(16)	(5)	(例) 冷戦の終結			
6	(1)	利潤		(2)	(例) 消費者に商品の情報を適切に伝えること。	
	(3)	イ	(4)	資金	(例) 責任 (負担) を負わない	
	(14)	(5)	(例) 少ない人手でも効率よく生産を行うことができること。			
7	(1)	自由				
	(2)	(例) 法は、人の支配では、国王が国民を支配するためのものであるが、法の支配では、政府の権力を制限する役割がある。				
	(12)	(3)	エ	(4)	イ	(5)