

1 次の文章を読み、あとの(1)~(4)の問いに答えなさい。

千葉県北総地域では、江戸の文化を取り入れることにより、城下町の佐倉、門前町の成田、商業の町の佐原、港町の銚子という四つの特色ある都市が発展しました。江戸時代の4種の町並みや風景が残り、現在も江戸情緒を体感できる、これら四つの都市の文化財をつなぐストーリーが、2016年4月、日本遺産に認定されました。

(注) 日本遺産は、地域の歴史的魅力や特色を通じて、日本の文化・伝統等を語るストーリーを文化庁が認定するものである。

(1) 下線部 a に関連して、次のア~ウのカードは、社会科の授業で、ひろとさんが、日本の文化についてまとめたものの一部である。これらのうち、化政文化の作品について書かれているカードが1枚だけある。そのカードはどれか。最も適当なものを一つ選び、その符号を書きなさい。

ア



イ



ウ



(2) 下線部 b に関連して、次の文は、東日本の太平洋沖の海域について述べたものである。文中の I , II にあてはまる適当な語を、それぞれ漢字2字で書きなさい。

暖流の I (日本海流) と寒流の II (千島海流) とが出合うことで、魚の餌となるプランクトンが発生しやすく、東日本の太平洋沖は豊かな漁場となっている。

(3) 下線部 c に関連して、これら四つの都市が位置する現在の佐倉市、成田市、香取市及び銚子市は、いずれも景観に関する条例を定めている。条例について述べた、次の文章中の X , Y にあてはまる語の組み合わせとして最も適当なものを、あとのア~エのうちから一つ選び、その符号を書きなさい。

条例は、地方公共団体が法律の範囲内で独自に定める決まりである。条例の制定・改廃については、住民の直接請求権が認められており、住民は、有権者の X 以上の署名を集めて Y に請求することができる。

- ア X : 50 分の 1 Y : 首 長 イ X : 3 分の 1 Y : 監査委員
ウ X : 3 分の 1 Y : 首 長 エ X : 50 分の 1 Y : 監査委員

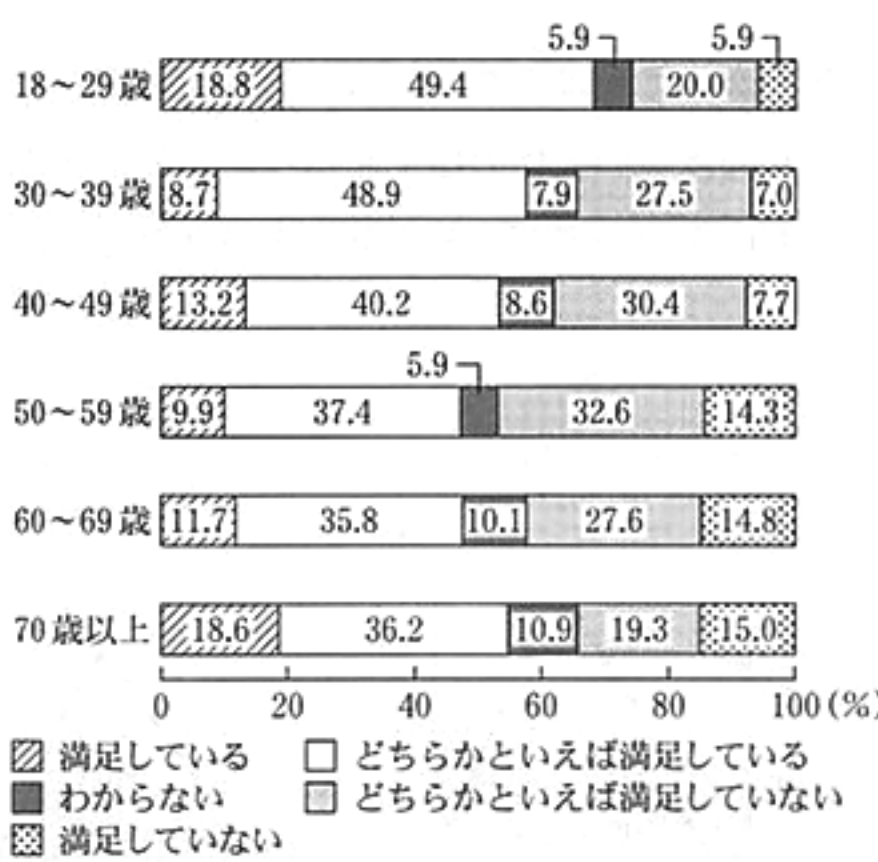
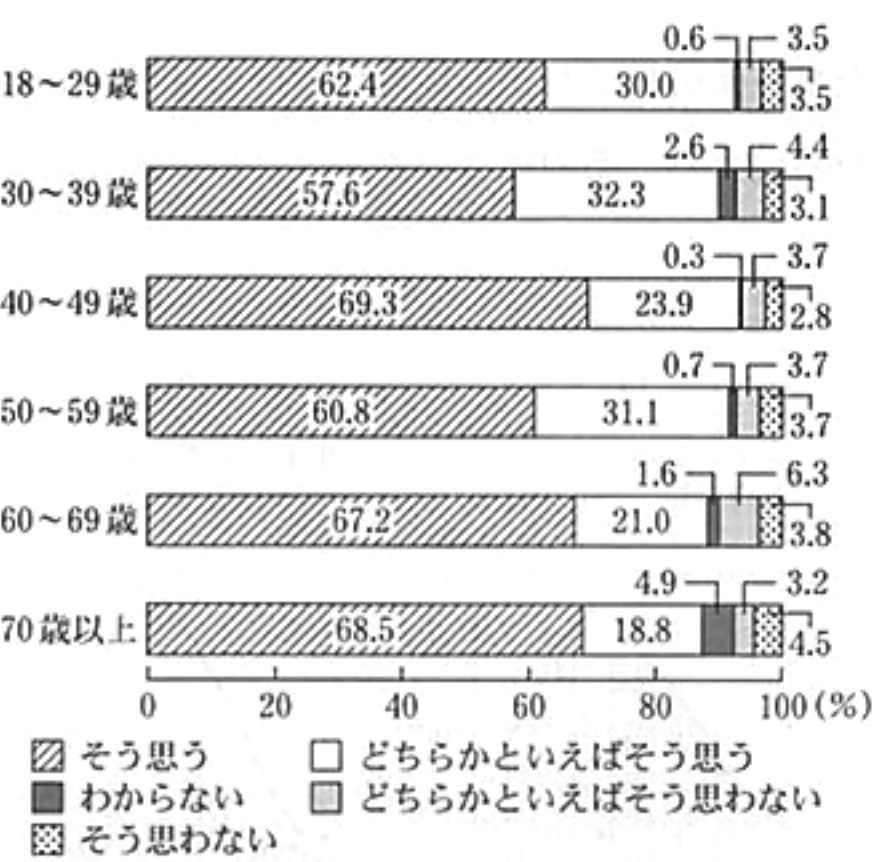
(4) 下線部 d に関連して、次の文章は、社会科の授業で、ゆみさんが、資料を見ながら、「文化財と地域の活性化」についてまとめたレポートの一部である。文章中の にあてはまることばとして最も適当なものを、あとのア～エのうちから一つ選び、その符号を書きなさい。

私たちの暮らしている地域の文化財や伝統文化を通じて地域の活性化を図ることが求められています。下の資料を見ると、アンケート調査の結果から ことがわかります。

資料 地域の文化的環境に関するアンケート調査の結果

質問1 「伝統的な祭りや歴史的な建物などの存在が、その地域の人々にとって地域への愛着や誇りとなる」との考え方について、あなたはどのように思いますか。

質問2 あなたは、文化芸術を鑑賞したり習い事をしたりする機会や文化財・伝統的町並みの保存・整備など、お住まいの地域での文化的な環境に満足していますか。



(注) 四捨五入の関係で、合計しても100%にならない場合がある。

(内閣府政府広報室「文化に関する世論調査(平成28年9月調査)」より作成)

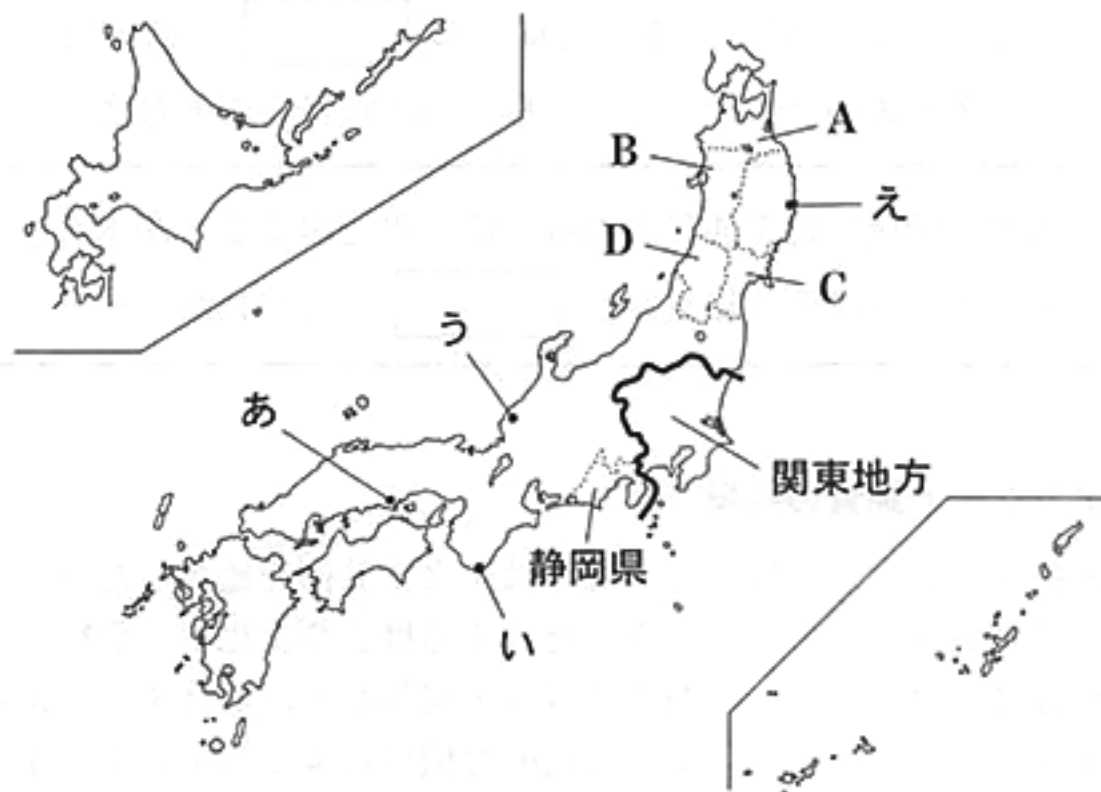
ア 質問1について「そう思う」と「どちらかといえばそう思う」の割合の合計が最も高いのは、40～49歳であり90%以上である。また、質問2について「満足している」と「どちらかといえば満足している」の割合の合計が最も高いのは、18～29歳であり70%以上である

イ 質問1について「そう思う」と「どちらかといえばそう思う」の割合の合計が最も低いのは、70歳以上であり90%未満である。また、質問2について「満足している」と「どちらかといえば満足している」の割合の合計が最も低いのは、60～69歳であり50%未満である

ウ 質問1について「そう思わない」と「どちらかといえばそう思わない」の割合の合計が最も高いのは、60～69歳であり10%以上である。また、質問2について「満足していない」と「どちらかといえば満足していない」の割合の合計が最も高いのは、50～59歳であり45%以上である

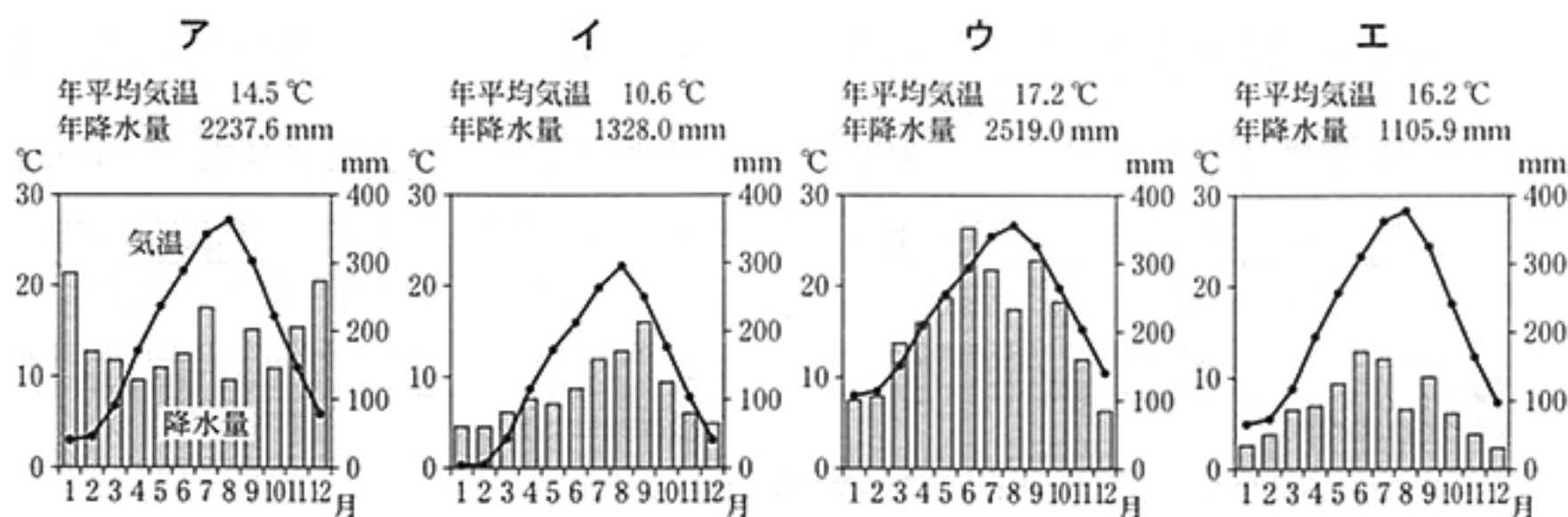
エ 質問1について「そう思わない」と「どちらかといえばそう思わない」の割合の合計が最も低いのは、40～49歳であり7%以下である。また、質問2について「満足していない」と「どちらかといえば満足していない」の割合の合計が最も低いのは、30～39歳であり35%以下である

2 次の図を見て、あとの(1)~(4)の問いに答えなさい。



(1) 日本を七つの地方に区分したとき、図中の関東地方に属する都県のうち、新潟県に隣接している県が一つだけある。その県の県庁所在地名を漢字で書きなさい。

(2) 次のア~エのグラフは、それぞれ図中に示したあ~えのいずれかの地点における月平均気温と月降水量の変化の様子を示したものである。これらのうち、あの地点のグラフとして最も適当なものを一つ選び、その符号を書きなさい。



(注) グラフ中のデータは1981年から2010年までの平均値を示す。

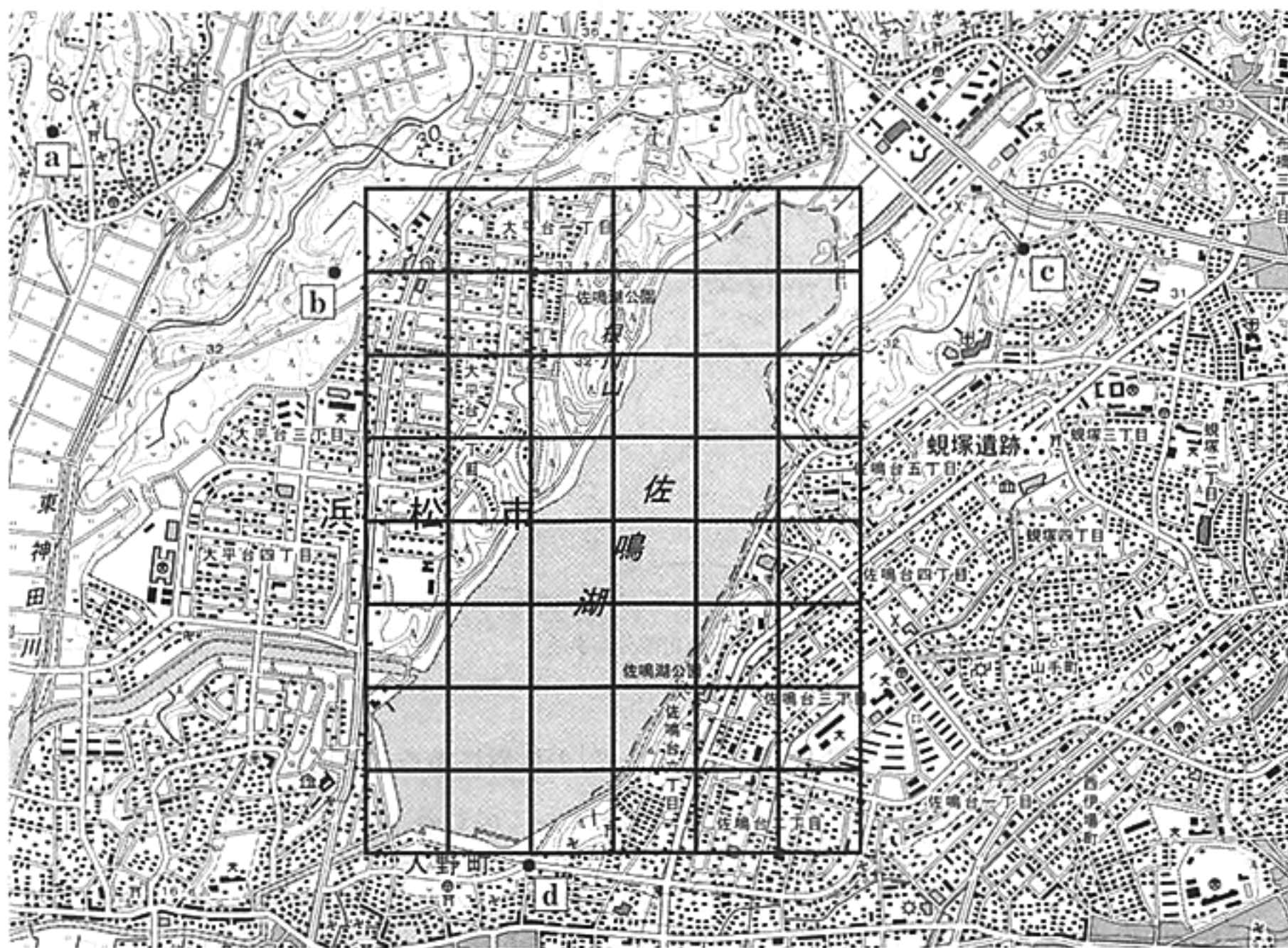
(「理科年表平成29年」より作成)

(3) 次の文章は、社会科の授業で、たくまさんが、日本の夏祭りについて調べ、まとめたレポートの一部である。文章中の にあてはまる適当な語を漢字2字で書きなさい。また、その語と同じ県名の県として最も適当なものを図中のA~Dのうちから一つ選び、その符号を書きなさい。

右の写真は、 かんとう 竿燈まつりの様子を撮影したものです。この祭りは、稲穂が描かれた提灯ちようちんを米俵に見立てて、米の豊作などを祈るものです。



(4) 次の地形図は、前のページの図に示した静岡県のある地域を示したものである。これを見て、あとの①、②の問いに答えなさい。



めもり 0 5 cm

(国土地理院 平成19年発行 1:25,000「浜松」原図より作成)

① 地形図中の^{さなる}佐鳴湖の面積は約何 km^2 か。地形図に描かれている、1辺が1 cm の方眼を参考に、次のア～エのうちから最も適当なものを一つ選び、その符号を書きなさい。

ア 約 1 km^2 イ 約 3 km^2 ウ 約 10 km^2 エ 約 30 km^2

② 上の地形図を正しく読み取ったことがらとして最も適当なものを、次のア～エのうちから一つ選び、その符号を書きなさい。

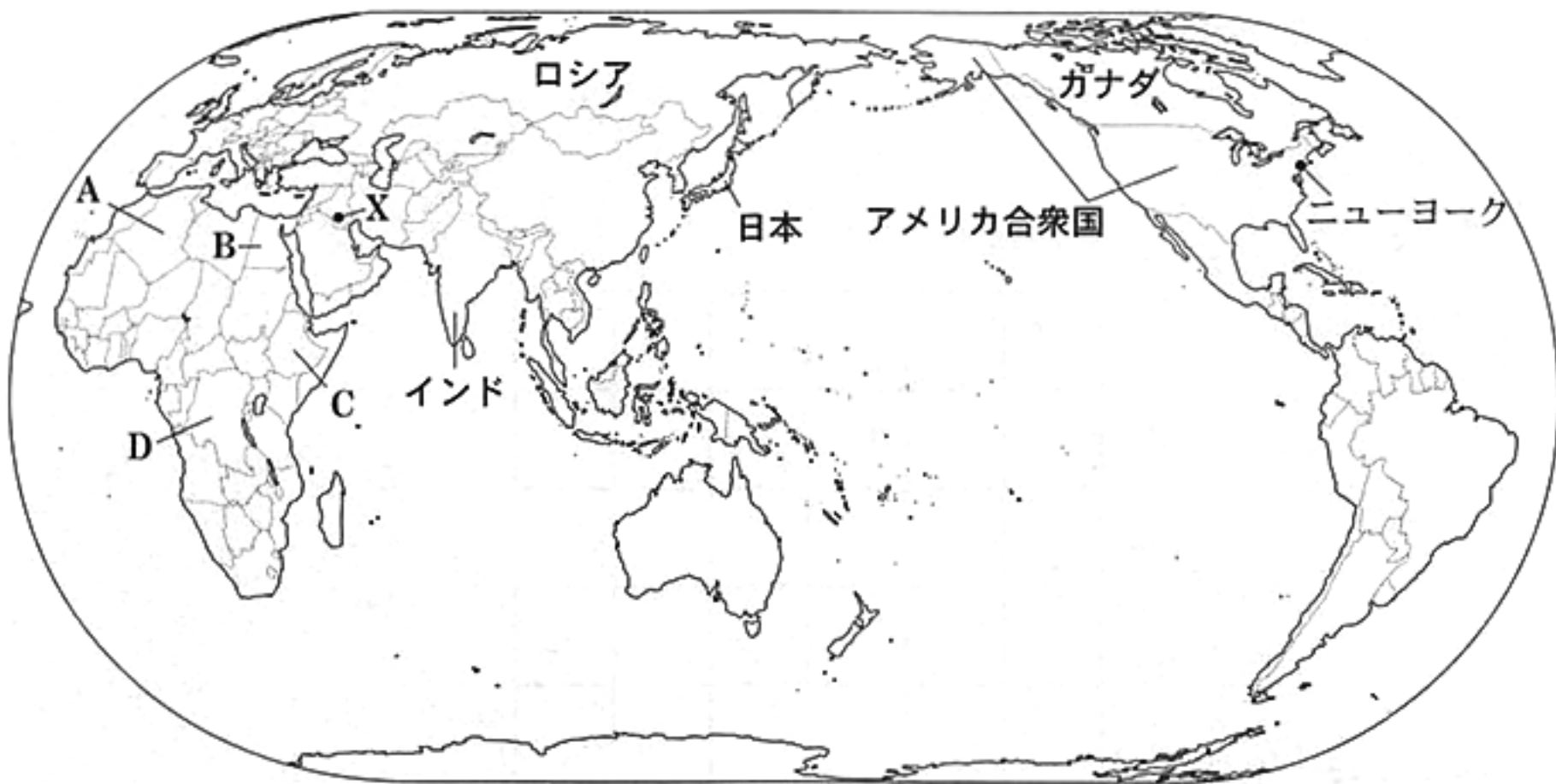
ア 東神田川の西側一帯には荒地が広がっている。

イ a 地点と b 地点の標高差は 30 m 以上である。

ウ c 地点から最も近い病院は、c 地点から直線距離で 500 m 以内にある。

エ d 地点から見て^{しじみづか}蛸塚遺跡は、ほぼ北西の方向にある。

3 次の図を見て、あとの(1)~(5)の問いに答えなさい。



(注) 島等は省略したのものもある。また、国境に一部未確定部分がある。

(1) 図中に示したX地点は「北緯30度、東経45度」の位置にある。X地点の、地球上の正反対にある地点の位置を緯度、経度を用いて表したのものとして最も適当なものを、次のア~エのうちから一つ選び、その符号を書きなさい。

ア 南緯30度、西経45度

イ 南緯30度、西経135度

ウ 南緯60度、西経135度

エ 南緯60度、西経45度

(2) 右の写真は、図中のアメリカ合衆国で行われている農業のうち、カンザス州などで見られるセンターピボット方式の農業の様子を示したものである。この農業の説明として最も適当なものを、次のア~エのうちから一つ選び、その符号を書きなさい。



ア スプリンクラーが自走しながらかんがいし、小麦やとうもろこしなどを栽培している。

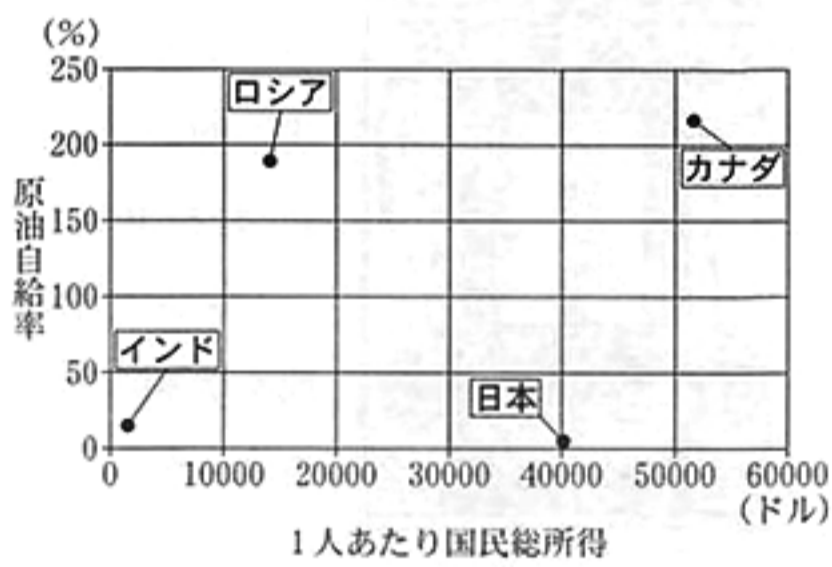
イ 乳牛ややぎなどを飼育し、生乳やバター・チーズなどの乳製品を生産している。

ウ 山林や草原を焼いて、その灰を肥料として活用し、いも類などを栽培している。

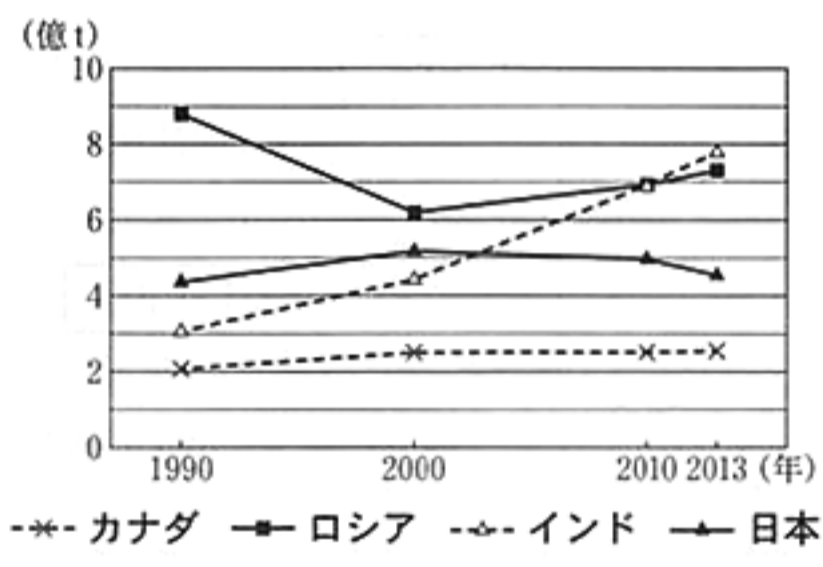
エ 季節風の影響で降水量が多いことを生かし、茶の栽培や米の二期作を行っている。

- (3) 前のページの図中のA～Dの国のうち、第一次世界大戦の開戦時にヨーロッパ諸国の植民地とならず、独立国であった国が一つだけある。その国はどれか。最も適当なものを一つ選び、その符号を書きなさい。
- (4) 前のページの図中のニューヨークでは、西経75度の経線で標準時を定めている。ニューヨークが2月20日午後7時のとき、日本では2月何日の何時かを書きなさい。なお、午前、午後については、解答用紙の「午前」、「午後」のいずれかを○で囲むこと。
- (5) 次の資料1は、前のページの図中のカナダ、ロシア、インド及び日本の2013年の原油自給率及び1人あたり国民総所得を、資料2は、これら4か国の一次エネルギーの国内供給の推移を示したものである。資料1と資料2から読み取れることとして最も適当なものを、あとのア～エのうちから一つ選び、その符号を書きなさい。

資料1 カナダ、ロシア、インド及び日本の2013年の原油自給率及び1人あたり国民総所得



資料2 カナダ、ロシア、インド及び日本の一次エネルギーの国内供給の推移



- (注) ・1人あたり国民総所得とは、国民総所得を人口で割ったものである。
 ・一次エネルギーとは、石炭、石油、天然ガス、原子力、水力、地熱、風力などである。
 ・国内供給は石油換算しており、国内生産に輸出入と在庫の増減を加味したものである。

(資料1、資料2とも、「世界国勢図会 2016/17」より作成)

- ア 2013年の原油自給率及び1人あたり国民総所得は、ともにカナダが4か国中最も高く、カナダの一次エネルギーの国内供給は、1990年と比べ2013年は2億t以上高い。
- イ 2013年の1人あたり国民総所得は、ロシアが日本の半分以下であり、ロシアの一次エネルギーの国内供給は、1990年と比べ2013年は1億t以上高い。
- ウ 2013年の原油自給率及び1人あたり国民総所得は、ともにインドがカナダよりも低く、インドの一次エネルギーの国内供給は、1990年と比べ2013年は3億t以上高い。
- エ 2013年の原油自給率及び1人あたり国民総所得は、ともに日本が4か国中最も低く、日本の一次エネルギーの国内供給は、1990年と比べ2013年は2億t以上高い。

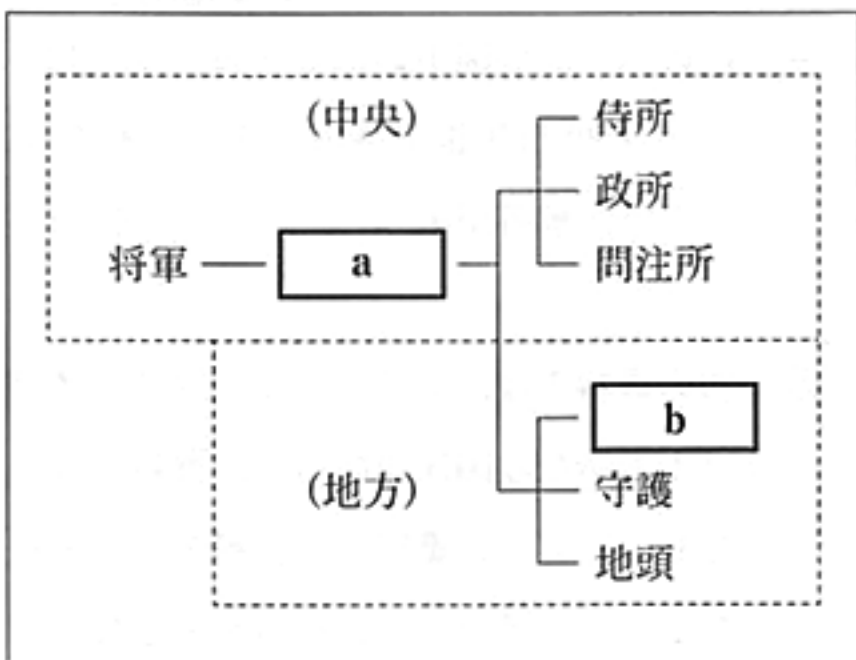
4 次のA～Dのカードは、社会科の授業で、さえこさんたちの班が、「日本の歴史」について調べ、まとめたものの一部である。これらを見て、あとの(1)～(5)の問いに答えなさい。

A：律令国家の成立

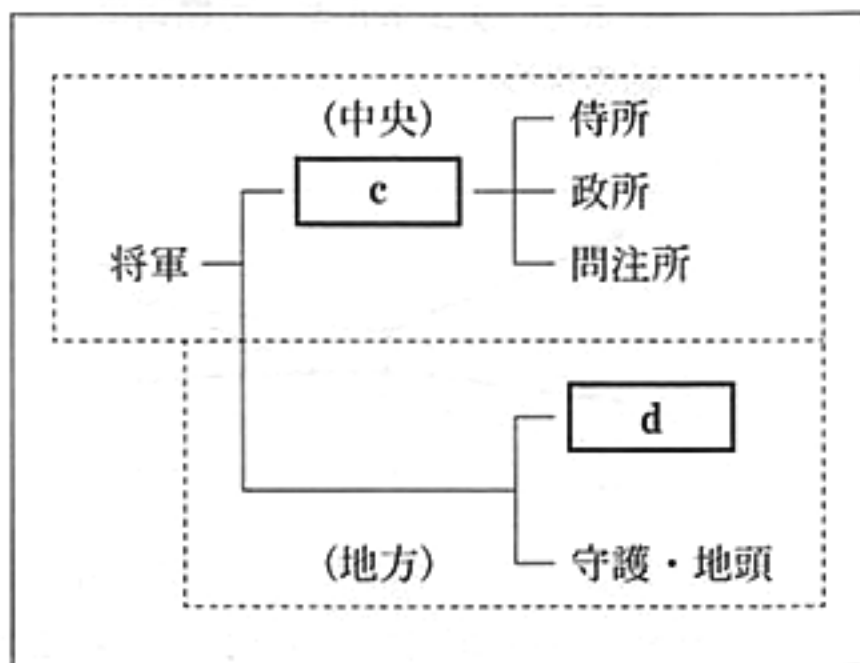


律令国家の新しい都として、唐の都にならった平城京がつけられ、平城京内の東西におかれた市では、和同開珎などの貨幣が使われた。

B：鎌倉幕府のしくみ



C：室町幕府のしくみ



D：江戸時代の学問



杉田玄白らは、オランダ語の人体解剖書^{かいぼう}を翻訳した「解体新書^{ほんやく}」を出版し、オランダ語で西洋の学問を学ぶ蘭学の基礎を築いた。

(1) 次の文は、Aのカード中の下線部の貨幣より前につくられた貨幣について述べたものである。

文中の にあてはまる適当な語を漢字3字で書きなさい。

は、日本で最初につくられたとされる銅銭である。

(2) B、Cのカード中の a ~ d には、「執権」「管領」「鎌倉府」「六波羅探題」のいずれかの語があてはまる。これらのうち、 d にあてはまる語の説明として最も適当なものを、次のア～エのうちから一つ選び、その符号を書きなさい。

ア 将軍の補佐役として、各地の有力な守護(守護大名)が任命された。

イ 承久の乱の後に置かれて、京都の警備や朝廷の監視などを行った。

ウ 長官を足利氏の一族が受け継いで、関東などを支配した。

エ 北条氏が代々この地位を独占して御家人をまとめ、幕府の政治を動かした。

(3) Bのカードに関連して、鎌倉時代につくられたものとして最も適当なものを、次のア～エのうちから一つ選び、その符号を書きなさい。

ア 東大寺南大門の金剛力士像 こんごうりきし



イ 平等院鳳凰堂の阿弥陀如来像 ほうおう あみだにょらい



ウ 正倉院の鳥毛立女屏風 とりげりつじょのびょうぶ



エ 広隆寺の弥勒菩薩像 みろくぼさつ



(4) Cのカードに関連して、次の文章は、室町時代の社会の様子について述べたものである。

I, II にあてはまる語の組み合わせとして最も適当なものを、あとのア～エのうちから一つ選び、その符号を書きなさい。

農村では、有力な農民を中心に I とよばれる自治組織がつけられた。また、交通のさかんなところでは、物資の陸上輸送をあつかう II とよばれる運送業者が活躍した。

ア I:惣 II:土倉

イ I:座 II:馬借

ウ I:座 II:土倉

エ I:惣 II:馬借

(5) Dのカードに関連して、次の文は、江戸時代の教育について述べたものである。文中の にあてはまる適当なことばを、「寺子屋」「諸藩」「藩校」の三つの語を用いて、20字以内(読点を含む。)で書きなさい。

庶民は、読み・書き・そろばんなどを に学問や武道を教えて人材の育成を図った。

5 次のA～Dのパネルは、社会科の授業で、よしひこさんが、「20世紀のできごと」について調べ、まとめたものの一部である。これらを見て、あとの(1)～(5)の問いに答えなさい。

A：パリ講和会議



ドイツが降伏して第一次世界大戦が終わると、その翌年に連合国はパリで講和会議を開き、ドイツと **I** 条約を結びました。この条約では、戦勝国の利益が優先されました。

B：世界恐慌



アメリカでは、ルーズベルト大統領がニューディール政策を進めました。また、^Xイギリスやフランスは、^Yブロック経済とよばれる政策によって恐慌を乗り切ろうとしました。

C：第二次世界大戦



ドイツが **II** に侵攻すると、イギリス・フランスがドイツに宣戦布告しました。その後、日本はハワイの真珠湾を攻撃するとともにイギリス領の **III** に上陸しました。

D：石油危機



第四次中東戦争のときのアラブ諸国の対応^Zから石油の価格が高騰^{こうとう}し、その影響で物価も急上昇しました。先進工業国の経済は不況になり、日本でも高度経済成長が終わりました。

(1) Aのパネルに関連して、次の文は、この会議で結ばれた条約について述べたものである。文中とAのパネル中の **I** に共通してあてはまる適当な語をカタカナで書きなさい。

I 条約により、ドイツは植民地を失い、領土を縮小され、軍備の制限や巨額の賠償金の支払いなどを命じられた。

(2) Bのパネル中の下線部Xと下線部Yについて、それぞれの内容として最も適当なものを、次のア～オのうちから一つずつ選び、その符号を書きなさい。

ア 本国と植民地との関係を密接にし、関税を高くして他国の商品をしめ出した。

イ 国際世論を無視して軍備を増強し、領土の拡大によって景気を回復させた。

ウ 積極的に公共事業をおこして失業者を助け、労働者の権利を保護した。

エ 国民政府軍が各地の軍閥を倒し、国内の統一を進めた。

オ 五か年計画とよばれる計画経済によって、工業化と農業の集団化を進めた。

(3) Cのパネル中の **Ⅱ** , **Ⅲ** にあてはまる語の組み合わせとして最も適当なものを、次のア～エのうちから一つ選び、その符号を書きなさい。

ア Ⅱ：ポーランド Ⅲ：サイパン島 イ Ⅱ：ソ 連 Ⅲ：サイパン島

ウ Ⅱ：ポーランド Ⅲ：マレー半島 エ Ⅱ：ソ 連 Ⅲ：マレー半島

(4) Cのパネルに関連して、次の絵画は、反戦の意図をこめて描かれたといわれるものである。この絵画を描いた人物名として最も適当なものを、あとのア～エのうちから一つ選び、その符号を書きなさい。



ア レオナルド・ダ・ビンチ

イ ピカソ

ウ フェノロサ

エ ミケランジェロ

(5) Dのパネル中の下線部Zのできごとより前に起こったことがらを、次のア～エのうちから三つ選び、年代の古いものから順に並べ、その符号を書きなさい。

ア 日本はポツダム宣言を受け入れて降伏することを決めた。

イ 東京でオリンピックが開かれた。

ウ 自衛隊がイラクへ復興支援を目的として派遣された。

エ 第1回原水爆禁止世界大会が広島で開かれた。

6 次の文章を読み、あとの(1)~(3)の問いに答えなさい。

国や地方公共団体の経済活動を財政といいます。国や地方公共団体は、税金^aなどによって収入を得て、少子高齢社会への対応など、様々な社会に必要な支出にあてています。税金だけでは必要な収入^bをまかなえない場合、国は国債、地方公共団体は地方債を発行して資金を借り入れます。

- (1) 下線部 a に関連して、次の文章は、日本の税金の種類について述べたものである。文章中の 、 にあてはまる語の組み合わせとして最も適当なものを、あとのア~エのうちから一つ選び、その符号を書きなさい。

税金には、国税と地方税とがあり、それぞれに直接税と間接税とがある。国税のうち、直接税には所得税や 税などがあり、間接税には 税などがある。一方、地方税のうち、直接税には道府県民税や市町村民税などがあり、間接税には地方 税などがある。

- ア I : 固定資産 II : 消費 イ I : 法人 II : 消費
ウ I : 法人 II : 事業 エ I : 固定資産 II : 事業

- (2) 下線部 b に関連して、次の文は、日本の介護保険制度について述べたものである。文中の にあてはまる適当なことばを、「40歳」「保険料」「介護」の三つの語を用いて30字以内(読点を含む。)で書きなさい。

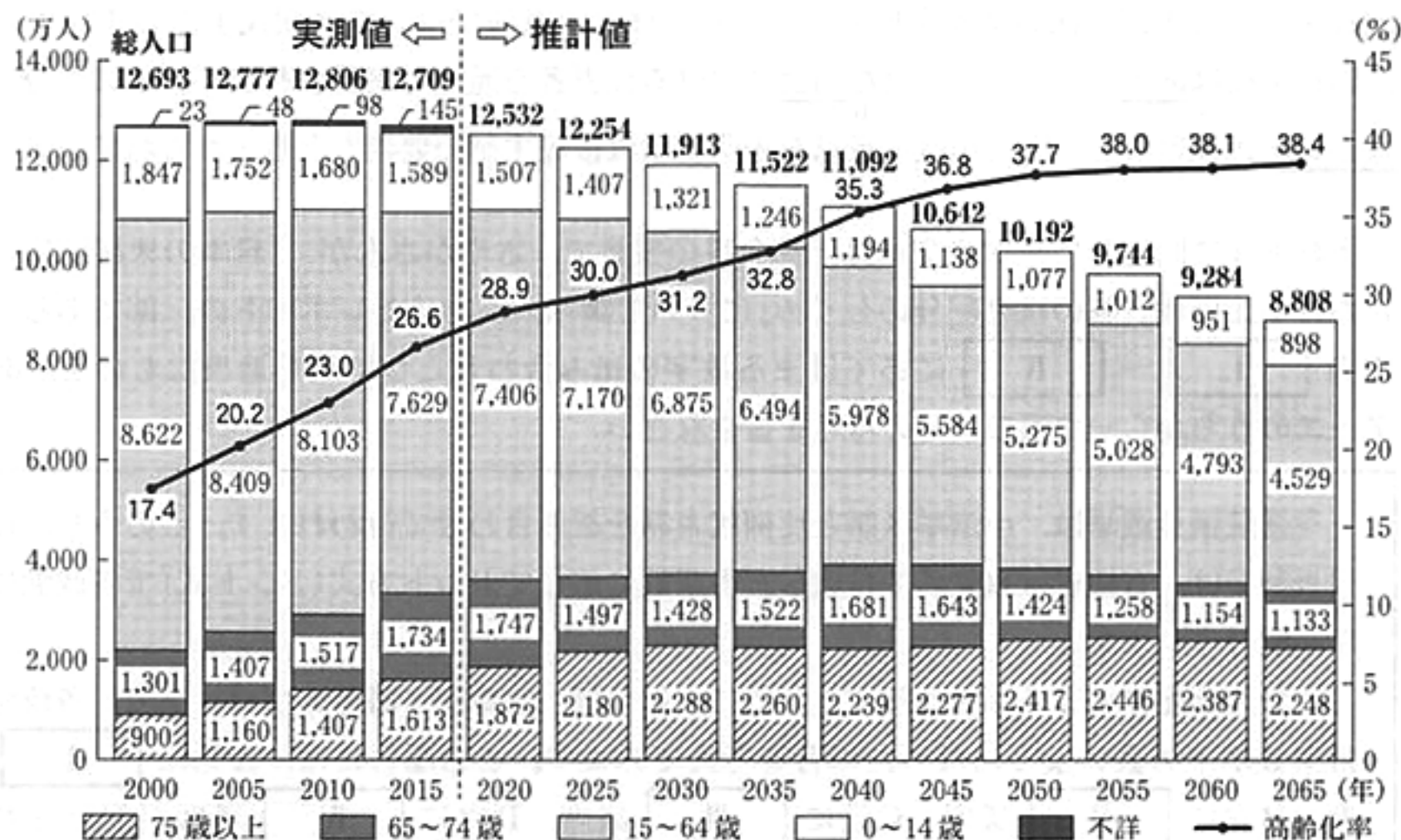
高齢者の介護を社会全体で支えることを目指して、2000年から、 ときに、介護サービスを受けることができる介護保険制度が始まった。

- (3) 下線部 c に関連して、次の文章は、社会科の授業で、としおさんたちの班が、右のページの資料1と資料2を見ながら、「日本の財政の課題」について話し合っている場面の一部である。文章中の 、 にあてはまるものとして最も適当なものを、それぞれあとの選択肢ア~エのうちから一つずつ選び、その符号を書きなさい。

なお、資料2中の ~ には、 の選択肢ア~エのいずれかの語があてはまり、文章中と資料2中の には同じものがあてはまる。

としおさん：資料1を見ると ことがわかるね。
よしみさん：少子高齢社会を迎えて、私たちの健康や生活を守るために使われる 費がより多く必要になるのよね。資料2を見ても、国の2017年度の一般会計予算における歳出全体に占める 費の割合が最も高いわ。
かずきさん：国債費の割合も 費の次に高いよ。将来の世代に負担を先送りにしないよう、財政の健全化に向けての取り組みを真剣に考えなければいけないね。

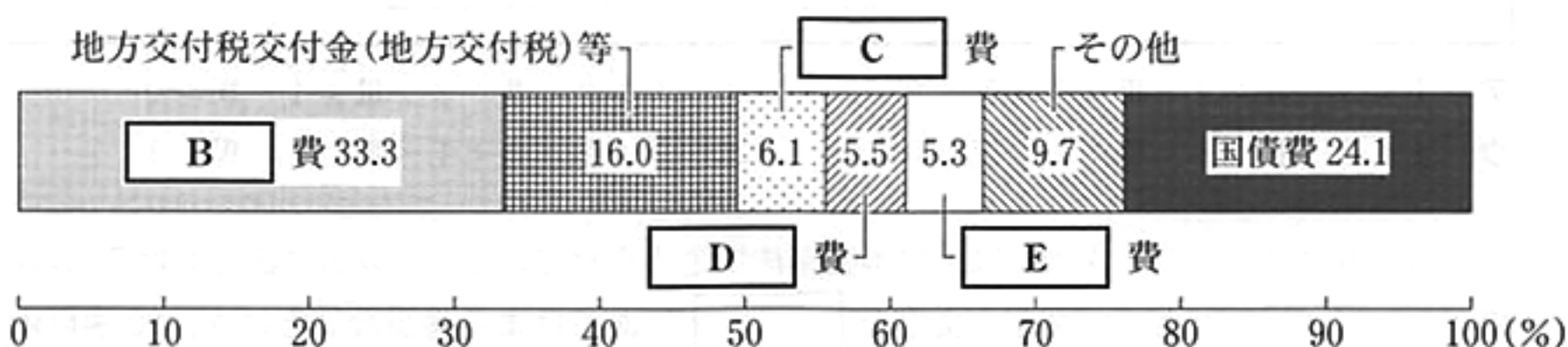
資料1 高齢化の推移と将来推計



(注) 高齢化率とは、総人口に占める65歳以上人口の割合である。なお、2000～2015年の高齢化率の算出の際は、分母から年齢不詳を除いている。

(内閣府「高齢社会白書(平成29年度版)」より作成)

資料2 国の2017年度の一般会計予算における歳出内訳



(財務省「日本の財政関係資料(平成29年4月)」などより作成)

A の選択肢

ア 2020年以降、高齢化率の推計値は一度も下がることなく上がり続け、2065年の高齢化率は、2000年の高齢化率の3倍以上になると推計されている

イ 2020年以降、15～64歳の人口の推計値は一度も増加することなく減少し続け、2065年の総人口に占める15～64歳の人口の割合は50%以下になると推計されている

ウ 65歳以上の人口は、2015年には総人口の3分の1以下だったけれども、2065年には総人口の3分の1以上になると推計されている

エ 75歳以上の人口は、2015年には総人口の10分の1以下だったけれども、2065年には総人口の4分の1以上になると推計されている

B の選択肢

ア 社会保障関係 イ 文教及び科学振興 ウ 防衛関係 エ 公共事業関係

7 次の文章を読み、あとの(1)~(3)の問いに答えなさい。

国民主権は日本国憲法の基本原理の一つです。日本国憲法では、議会制民主主義を採用しており、国民主権は選挙で正当に選ばれた国会における代表者を通じて実現されます。その一方で、憲法改正の国民投票など、国民が直接意思を表明する直接民主制の要素もとり入れられています。

(1) 下線部 a に関連して、次の文章は、社会科の授業で、さやかさんが、「日本の衆議院議員選挙における比例代表制の議席配分のしくみ」について調べ、まとめたレポートの一部である。文章中の ~ にあてはまる数字の組み合わせとして最も適当なものを、あとのア~エのうちから一つ選び、その符号を書きなさい。

衆議院議員選挙は、小選挙区制と比例代表制を組み合わせで行われます。このうち、比例代表制では、有権者は政党名で投票し、得票数に応じてドント方式(ドント式)で各政党に議席が配分されます。

この議席配分のしくみを理解するために、例えば、定数が5議席のブロックで、各政党の得票数が下の表のようになった場合を考えてみます。この場合には、A党に 議席、B党に 議席、C党に 議席、D党に 議席が配分されます。

表 定数が5議席のブロックにおける各政党の得票数

政党	A党	B党	C党	D党
得票数	15,000	12,000	6,000	3,000

- ア I : 3 II : 2 III : 0 IV : 0 イ I : 2 II : 2 III : 1 IV : 0
 ウ I : 3 II : 1 III : 1 IV : 0 エ I : 2 II : 1 III : 1 IV : 1

(2) 下線部 b に関連して、次の文は、日本国憲法に定められている、予算の議決における衆議院の優越について述べたものである。文中の にあてはまる適当なことばを、20字以内(読点を含む。)で書きなさい。

予算について、参議院で衆議院と異なった議決をした場合に、 とき、または、参議院が、衆議院の可決した予算を受け取った後、30日以内に、議決しないときは、衆議院の議決が国会の議決となる。

(3) 下線部 c に関連して、次の文章は、日本国憲法の改正手続きについて説明したものである。文章中の , にあてはまる語の組み合わせとして最も適当なものを、あとのア~エのうちから一つ選び、その符号を書きなさい。

憲法改正には、衆議院と参議院それぞれの の3分の2以上の賛成で国会が発議し、国民投票において、その過半数の賛成を得ることが必要である。憲法改正について国民の承認が得られたときは、 が国民の名で公布する。

- ア X : 総議員 Y : 内閣総理大臣 イ X : 出席議員 Y : 内閣総理大臣
 ウ X : 出席議員 Y : 天皇 エ X : 総議員 Y : 天皇

8 次の文章を読み、あとの(1)、(2)の問いに答えなさい。

貿易の自由化が進んだことなどによって経済のグローバル化が進展し、人、もの、資金、情報などが国境を越えて活発に行き交うようになりました。国家間の相互依存の関係が進み、災害、貧困、飢餓など、様々な問題に国際社会が協力して取り組む必要が増えてきています。

(1) 下線部 a に関連して、次の文は、日本における自由貿易の推進について述べたものである。

文中の にあてはまる経済連携協定の略称として適当なものを、アルファベット 3 字で書きなさい。

日本は、自由貿易協定(FTA)をさらに拡大し、投資や人の移動なども含めて幅広い経済関係の強化を目指した協定である。経済連携協定()を推進している。

(2) 下線部 b に関連して、次のア～エの文のうち、フェアトレードについて説明しているものはどれか。最も適当なものを一つ選び、その符号を書きなさい。

ア 発展途上国を中心として、世界各国の社会・経済発展に貢献するために、様々な技術指導や教育に従事する隊員を派遣する制度のことをいう。

イ 一人一人の人間に着目し、人権侵害、貧困などの様々な問題から人々を守り、全ての人々が人間らしく安心して生きることができる社会を目指す考え方のことをいう。

ウ 発展途上国でつくられた農作物や製品を適正な価格で取り引きし、先進国の人々が継続して購入することで、発展途上国の生産者の生活を支えようとするしくみのことをいう。

エ 国際的な人権保障の実現など、様々な課題について、国境を越えて活動する非営利の民間組織のことをいう。

問題番号	正解				配点及び注意	計		
1	(1)	イ				3	12	
	(2)	I	黒潮	II	親潮	3		・ I, IIとも漢字2字指定 ・ 両方できた場合, 点を与える。
	(3)	ア				3		
	(4)	ウ				3		
2	(1)	前橋(市)				3	・ 漢字指定	
	(2)	エ				3		
	(3)	語	秋田	県	B	3	・ 語は漢字2字指定 ・ 両方できた場合, 点を与える。	
	(4)	①	ア	②	ウ	各3		
3	(1)	イ				3	15	
	(2)	ア				3		
	(3)	C				3		
	(4)	2月21日(午前)午後9時				3		
	(5)	ウ				3		
4	(1)	富本銭				3	・ 漢字3字指定	
	(2)	ウ				3		
	(3)	ア				3		
	(4)	エ				3		
	(5)	寺子屋で学び、諸藩は藩校を設立し、武士				4	・ 正解文の趣旨にそってればよい。 ・ 部分点を与えてもよい。	

問題番号	正 解				配 点 及 び 注 意	計								
5	(1)	ベルサイユ				3	15	・カタカナ指定 ・「ヴェルサイユ」でもよい。						
	(2)	X	ウ	Y	ア	3		・両方できた場合、点を与える。						
	(3)	ウ				3								
	(4)	イ				3								
	(5)	年代の古い順	1	2	3	3		・全部できた場合、点を与える。						
	符 号	ア	エ	イ										
6	(1)	イ				3	11	・正解文の趣旨にそっていればよい。 ・部分点を与えてもよい。						
	(2)	4	0	歳	以	上			の	人	が	加	入	/
		し	て	保	険	料			を	支	払	い	,	
	介	護	の	必	要	が	あ	る						
(3)	A	ウ	B	ア	各2									
7	(1)	イ				3	10	・正解文の趣旨にそっていればよい。 ・部分点を与えてもよい。						
	(2)	両	院	協	議	会			を	開	い	て	も	/
		意	見	が	一	致			し	な	い			
(3)	エ				3									
8	(1)	E P A				3	6	・アルファベット3字指定						
	(2)	ウ				3								
合					計	100								