


1 次の文章を読み、あとの(1)~(3)の問いに答えなさい。

1950年代から千葉県の東京湾岸の埋め立てが本格化しました。浦安市から富津市までの東京湾岸には京葉工業地域が形成されており、多くの企業の工場などが集まっています。また、交通網の整備にともなう県内各地に工業団地などがつくられ、内陸部の工業も発展しています。

(1) 下線部 a に関連して、次の資料は、東京都、神奈川県、埼玉県及び千葉県の製造品出荷額等割合と合計額を示したものである。A~Dのグラフは、それぞれどの都県のものか。その組み合わせとして最も適当なものを、あとのア~エのうちから一つ選び、その符号を書きなさい。

資料 東京都、神奈川県、埼玉県及び千葉県の製造品出荷額等割合と合計額(2014年)



- |   |        |        |       |       |
|---|--------|--------|-------|-------|
| ア | A：東京都  | B：神奈川県 | C：埼玉県 | D：千葉県 |
| イ | A：東京都  | B：神奈川県 | C：千葉県 | D：埼玉県 |
| ウ | A：神奈川県 | B：東京都  | C：千葉県 | D：埼玉県 |
| エ | A：神奈川県 | B：東京都  | C：埼玉県 | D：千葉県 |

- (2) 下線部 b に関連して、次の文章は、企業の主な役割について述べたものである。文章中の  に共通してあてはまる適当な語を漢字 1 字で書きなさい。

企業は、経済活動のうち、土地・設備・労働力などの生産要素を使って、私たちの生活に必要な  やサービスを生産する役割を主に担っている。 は形のある商品のことをいい、サービスは形のない商品のことをいう。

- (3) 下線部 c に関連して、次のア～ウのカードは、社会科の授業で、やすこさんが、第二次世界大戦後の千葉県の交通網の整備について調べ、作成したものの一部である。ア～ウのカードを、それぞれのカード中に書かれていることがらの年代の古いものから順に並べ、その符号を書きなさい。

ア

所得倍増をスローガンにかかげた池田内閣が成立したのと同じ年に、京葉道路の東京都の一之江と千葉県の船橋(海神)との間が開通しました。

イ

地球温暖化防止京都会議が開催されたのと同じ年に、神奈川県の川崎と千葉県の木更津とを結ぶ東京湾アクアラインが開通しました。

ウ

環境庁(現在の環境省)が発足したのと同じ年に、新空港自動車道(現在の東関東自動車道)の千葉(宮野木)と富里との間が開通しました。

2 次の図を見て、あとの(1)~(4)の問いに答えなさい。



(1) 図中のA~Dの四つの道府県のうち、自然遺産に分類される世界遺産があり、かつ、道府県名と道府県庁所在地名が異なる道府県が一つある。その道府県の道府県庁所在地名を書きなさい。

(2) 次のア~エの文のうち、日本を七つの地方に区分したとき、図中の九州地方に関連することからを正しく述べているものはどれか。最も適当なものを一つ選び、その符号を書きなさい。

ア 1960年代以降、エネルギー革命が進むと、<sup>ちくほう</sup>筑豊などの鉄鉱地域では鉱山が閉山されて鉄鋼の生産が大幅に減ったため、<sup>せんい</sup>繊維や食料品などの軽工業への転換が図られた。

イ シラスが広がる九州南部は、<sup>ひよく</sup>肥沃な土壌の三角州がつくられて豊富な水の供給があるため、稲作がさかんに行われている。

ウ 20世紀初めに官営八幡製鉄所が建設された福岡県福岡市は、<sup>どうかい</sup>洞海湾の環境改善などの公害対策に取り組み、ペットボトルなどをリサイクルする工場が集まるエコタウンとなった。

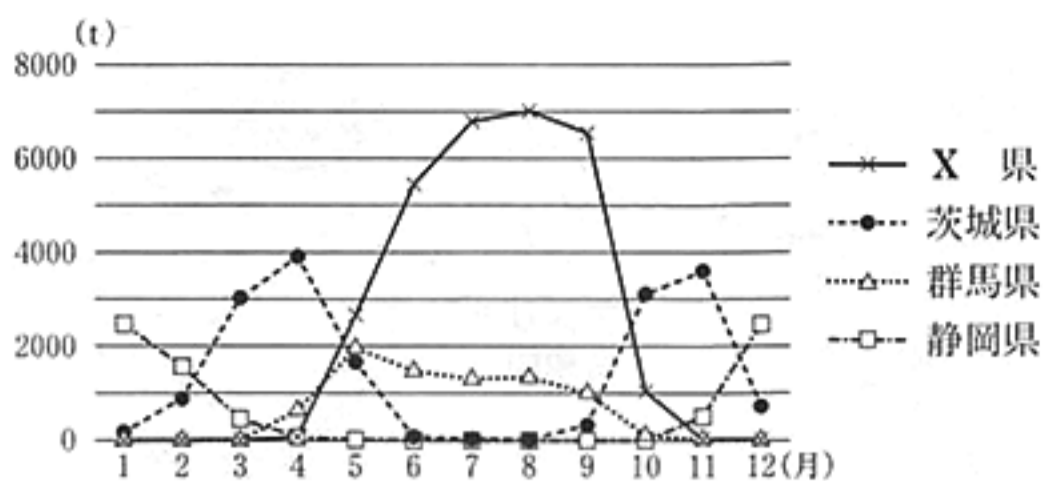
エ 九州には、<sup>あそ</sup>阿蘇山、<sup>うんぜん</sup>桜島、雲仙岳、くじゅう連山などの活動している火山があり、温泉などの観光資源に恵まれ、地熱は大分県などで発電に利用されている。

(3) 次の文章は、社会科の授業で、あきこさんが、高原(高冷地)野菜の出荷について、次のページの資料を見ながらまとめたレポートの一部である。文章中と資料中に共通するX県として最も適当なものを、図中のあ~えのうちから一つ選び、その符号を書きなさい。

X県や群馬県では、レタスなどの高原(高冷地)野菜の栽培がさかんです。レタスの出荷量に関する資料を見ると、茨城県や静岡県の出荷量の減る夏の期間に、X県と群馬県の出荷量が茨城県や静岡県の出荷量よりも多くなっていることがわかります。

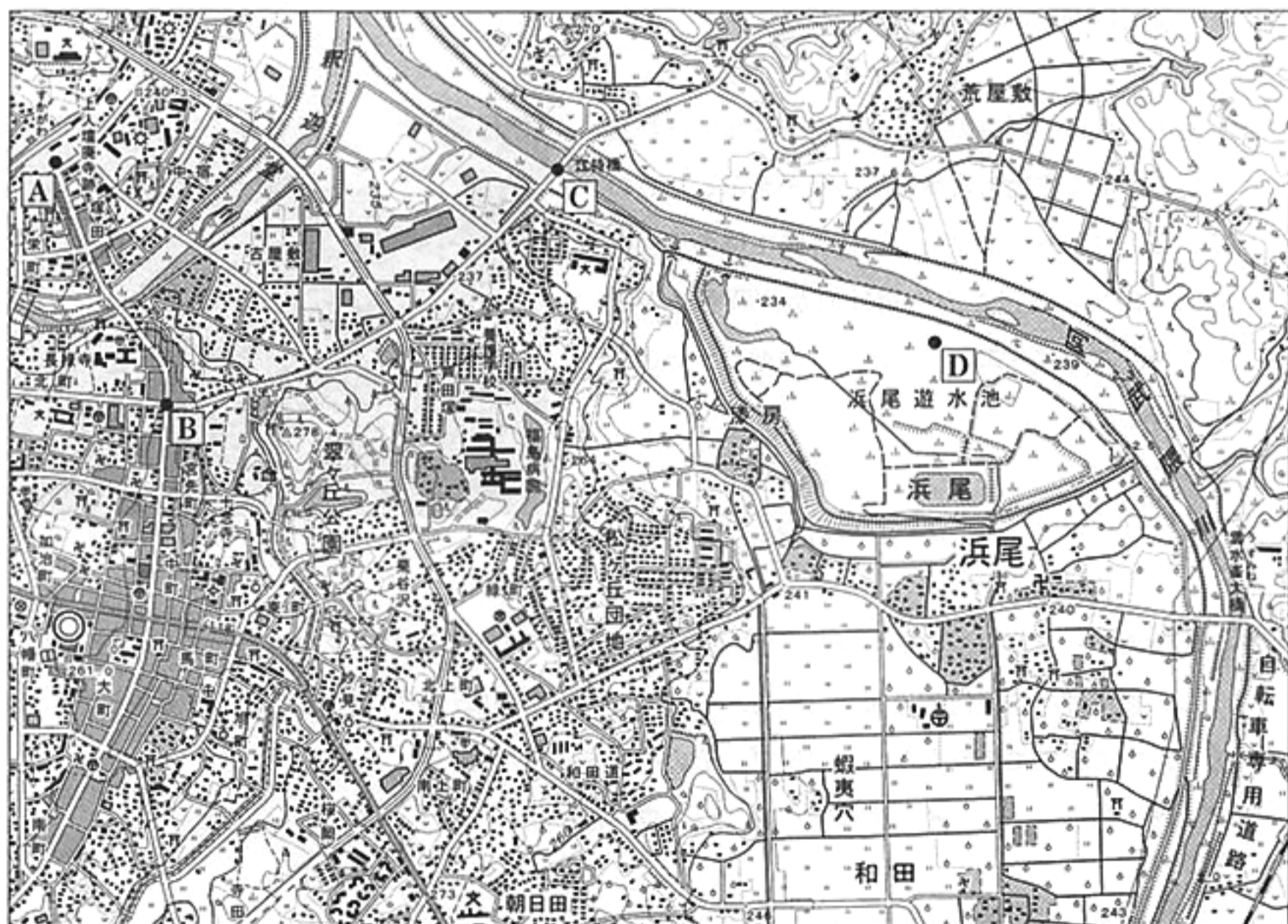
資料 東京都中央卸売市場へのレタスの出荷量上位4県の

月別出荷量(2016年)



(東京都中央卸売市場「市場統計情報」より作成)

(4) 次の地形図は、前のページの図中の福島県のある地域を示したものである。この地形図を正しく読み取ったことがらとして最も適当なものを、あとのア～エのうちから一つ選び、その符号を書きなさい。



(国土地理院 平成20年発行 1:25,000「須賀川東部」原図より作成)

めもり 0 5 cm

- ア A 地点から B 地点までの直線距離は、約 1.5 km である。
- イ 市役所は、C 地点から見てほぼ南東の方向にある。
- ウ 浜尾の寺院を中心とした半径 750 m の範囲内には、郵便局が一つある。
- エ 朝日田の学校と D 地点の標高差は、80 m 以上である。

3 次の図を見て、あとの(1)~(4)の問いに答えなさい。



(注) 島等は省略したものもある。

(1) 右の写真は、図中のコートジボワールで行われている、ある作物の収穫作業の様子を示したものである。コートジボワールが世界第1位の生産量(2013年)である、この作物は何か。最も適当なものを、次のア~エのうちから一つ選び、その符号を書きなさい。



- ア カカオ                      イ コーヒー  
ウ オリーブ                    エ なつめやし

(2) 図中のケープタウン、テヘラン、ホーチミン、ウェリントン及びオタワの五つの都市のうち、二つの都市は同じ気候帯に属している。その二つの都市が属している気候帯として最も適当なものを、次のア~エのうちから一つ選び、その符号を書きなさい。

- ア 熱帯                      イ 乾燥帯                      ウ 温帯                      エ 冷帯(亜寒帯)

(3) 次の文章は、社会科の授業で、たろうさんが、図中のイギリスについてまとめたレポートの一部である。文章中の  にあてはまる適当な語をカタカナ7字で書きなさい。

イギリスは、四つの地域が連合して成り立っている国です。イギリスの国旗は、ユニオンジャックとよばれ、イングランド、、アイルランドの旗を組み合わせたものです。

(4) 次の資料1は、前のページの図中のナイジェリア、フランス、アメリカ合衆国及びブラジルの森林面積と農地面積を、資料2は、これら4か国の木材伐採高における薪炭材と用材の割合を示したものである。資料1と資料2から読み取れることとして最も適当なものを、あとのア～エのうちから一つ選び、その符号を書きなさい。

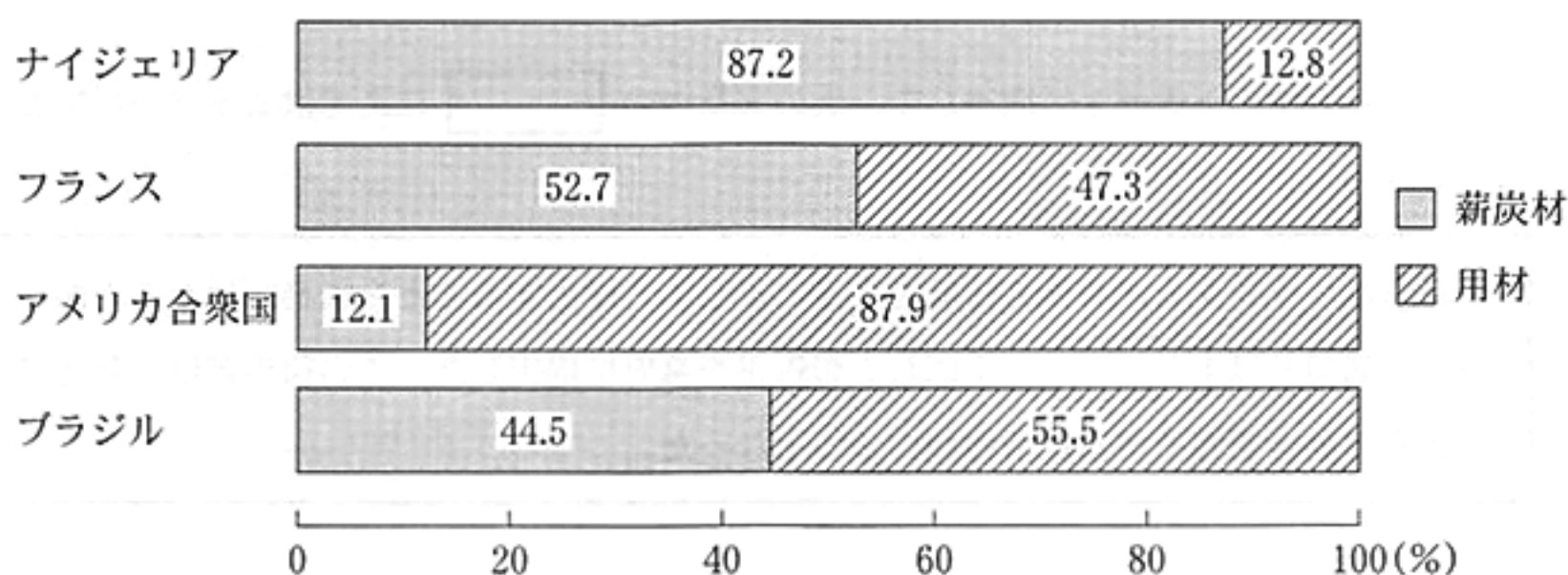
(注) 薪炭材とは薪や木炭など燃料に用いる木材であり、用材とは建築・土木工事・紙など産業に用いる木材である。

資料1 ナイジェリア、フランス、アメリカ合衆国及びブラジルの森林面積と農地面積

	森林面積(万 ha)		農地面積(万 ha)	
	2009年	2013年	2009年	2013年
ナイジェリア	945	781	7,450	7,080
フランス	1,591	1,676	2,927	2,877
アメリカ合衆国	30,364	30,955	40,345	40,544
ブラジル	52,172	49,551	26,450	27,881

(「世界国勢図会 2016/17」などより作成)

資料2 ナイジェリア、フランス、アメリカ合衆国及びブラジルの木材伐採高における薪炭材と用材の割合(2013年)



(「世界国勢図会 2015/16」より作成)

ア 森林面積と農地面積がともに、2009年と比べて2013年は減少したナイジェリアは、2013年の木材伐採高における用材の割合が85%以上である。

イ 森林面積が2009年と比べて2013年は増加し、農地面積が2009年と比べて2013年は減少したフランスは、2013年の木材伐採高における薪炭材の割合が50%以下である。

ウ 森林面積と農地面積がともに、2009年と比べて2013年は増加したアメリカ合衆国は、2013年の木材伐採高における薪炭材の割合が10%以下である。

エ 森林面積が2009年と比べて2013年は減少し、農地面積が2009年と比べて2013年は増加したブラジルは、2013年の木材伐採高における用材の割合が50%以上である。

4 次のA～Dのカードは、社会科の授業で、まきこさんが、「鎖国下の四つの窓口」について調べ、まとめたものの一部である。これらを見て、あとの(1)～(5)の問いに答えなさい。

A：中国とオランダ

中国人と、ヨーロッパの国々の中ではオランダ人だけが長崎での貿易を許Xされました。中国やオランダとの貿易では、生糸や絹織物などが輸入されました。Y

B：朝鮮

朝鮮との国交は  藩の仲立ちで回復し、将軍の代わりごとなどに朝鮮から通信使が派遣されました。  
 藩は、木綿や朝鮮人参などを朝鮮から輸入しました。

C：琉球王国

15世紀初めに建国され、独立国であった琉球王国は、江戸時代の初期に  藩に武力で征服され服属しましたが、中国にも朝貢し交易を続けました。

D：アイヌの人々

アイヌの人々との交易は、蝦夷地の南部を領地とした  藩が独占しました。アイヌの人々は、和人とだけではなく、千島列島や樺太、中国の人々とも交易を行っていました。

(1) Aのカード中の下線部Xに関連して、次の文章中の  にあてはまる適当な語を7字で書きなさい。

幕府がオランダ人に海外の情勢を文書にまとめて提出することを義務づけたことから、オランダ商館長は  とよばれる報告書を幕府に提出した。この報告書は、幕府にとって世界の動きを知る貴重な情報源の一つとなった。

(2) Aのカード中の下線部Yに関連して、第1回遣唐使の派遣から遣唐使の停止までの間に起こったことがらとして最も適当なものを、次のア～エのうちから一つ選び、その符号を書きなさい。

- ア 30ほどの国々を従えていたとされる邪馬台国の女王卑弥呼が、中国に使いを送った。
- イ 朝廷は、坂上田村麻呂を征夷大將軍に任命して東北地方に大軍を送った。
- ウ 藤原氏は、藤原道長と、その子頼通のときに、朝廷の主な役職を一族で占めた。
- エ 瀬戸内海地方で藤原純友が、周辺の武士らを率いて反乱を起こした。

- (3) Aのカードに関連して、オランダ商館が平戸から長崎の出島に移される前に起こったことがらを、次のア～エのうちから三つ選び、年代の古いものから順に並べ、その符号を書きなさい。
- ア フランシスコ・ザビエルが来日し、鹿児島や山口などでキリスト教の布教活動を行った。
- イ 宋に渡った栄西や道元が、座禅によって自らさとりを開こうとする禅宗を日本に伝えた。
- ウ 間宮林蔵が樺太を探検し、樺太が島であることを確認した。
- エ 山田長政がシャムに渡り、アユタヤの日本町の指導者となった。

- (4) Bのカード中の 、Cのカード中の  及びDのカード中の  に、それぞれあてはまる語の組み合わせとして最も適当なものを、次のア～エのうちから一つ選び、その符号を書きなさい。

- ア I：長州 II：薩摩 III：対馬      イ I：対馬 II：土佐 III：松前
- ウ I：対馬 II：薩摩 III：松前      エ I：長州 II：土佐 III：対馬

- (5) 次のア～エのカードは、まきこさんが、さらに「世界の歴史」について調べ、まとめたものの一環である。これらのうち、17世紀から19世紀までの間に起こったことがらについて書かれているものはどれか。最も適当なものを一つ選び、その符号を書きなさい。

ア



ルターが、教会の資金集めのために免罪符の販売を認めたローマ教皇を批判した。

イ



コロンブスが、大西洋を西に進み、アメリカ大陸付近の島に達した。

ウ



キリスト教の聖地をイスラム教徒から奪い返すため、十字軍の遠征がくり返された。

エ



圧政の象徴とされたバスティーユ(バスチーユ)牢獄をパリの民衆が襲撃した。



- 5 次の略年表は、社会科の授業で、まさひろさんが、千葉県ゆかりの人物である柳宗悦<sup>やなぎむねよし</sup>について調べ、まとめたものである。これを見て、あとの(1)~(4)の問いに答えなさい。

年代	主なできごと
1889	東京で生まれる
	↑↓ A
1914	結婚して我孫子 <sup>あびこ</sup> に住む
	↑↓ B
1924	朝鮮民族美術館を設立する
1936	日本民藝 <sup>みんげい</sup> (芸)館の初代館長となる
	↑↓ C
1957	文化功労者に選ばれる
1961	72歳で亡くなる

- (1) 次の文章は、略年表中のAの時期に起こったことについて述べたものである。文章中の 、 にあてはまる語の組み合わせとして最も適当なものを、あとのア~エのうちから一つ選び、その符号を書きなさい。

1912年に  が3度目の組閣をすると、議会を無視する態度が立憲政治に反したやり方だとして、憲法にもとづく政治を守ろうとする  運動が起こった。それを支持する民衆運動も各地で起こり、 内閣は退陣に追い込まれた。

- ア I：桂太郎      II：第一次護憲      イ I：桂太郎      II：自由民権  
 ウ I：原 敬      II：第一次護憲      エ I：原 敬      II：自由民権

- (2) 略年表中のBの時期に朝鮮で起こった三・一独立運動に、柳宗悦は理解を示した。これに関連して、資本主義の発展にともなう列強の動きについて述べた、次の文章中の  にあてはまる適当なことばを、「資源」「市場」「軍事力」の三つの語を用いて25字以内(読点を含む。)で書きなさい。

19世紀後半からの資本主義の発展とともに、列強は、アジアやアフリカなどへ  を広げていった。こうした動きは帝国主義とよばれる。

(3) 次のア～エの文は、略年表中のCの時期に起こったことがらを述べたものである。これらを年代の古いものから順に並べ、その符号を書きなさい。

ア サンフランシスコ平和条約とともに、日米安全保障条約が結ばれた。

イ 日本は日ソ共同宣言に調印して、ソ連との国交を回復した。

ウ 北京郊外で起こった盧溝橋<sup>ルーコウチアオ</sup>事件をきっかけとして、日中戦争が始まった。

エ 日本は北方の安全を確保しながら南進を続けるため、日ソ中立条約を結んだ。

(4) 略年表に関連して、柳宗悦が一時期住んでいた我孫子には、白樺派<sup>しらかほ</sup>の人々が集まっていた。大正時代の文学について述べた、次の文章中の□にあてはまる人物名として最も適当なものを、あとのア～エのうちから一つ選び、その符号を書きなさい。

人道主義の理想をかかげた□らの白樺派をはじめ、谷崎潤一郎や芥川龍之介などが優れた作品を発表して人々に親しまれた。また小林多喜二らのプロレタリア文学も生まれた。

ア 樋口一葉

イ 志賀直哉

ウ 西田幾多郎

エ 平塚らいてう

6 次の文章を読み、あとの(1)~(3)の問いに答えなさい。

家計は所得を得て、消費に支出しています。消費者は、自分の意思で適切な商品を選び、購入することができる権利を持っています。消費者の安全と権利を守るため、様々な法律や制度が定められており、消費者問題の解決に向けた取り組みが進められています。

- (1) 下線部 a に関連して、次の文は、商品の流通の効率化について述べたものである。文中の  にあてはまる、販売時点の情報を管理するシステムの略称として適当なものを、アルファベット 3 字で書きなさい。

スーパーマーケットやコンビニエンスストアなどでは、商品のバーコードをレジで読み取って、どの商品がいつ、どこで販売されたかなど、販売された商品のデータを集計する  システムとよばれるしくみを使って商品の流通の効率化を図っている。

- (2) 下線部 b に関連して、次のア~エの文のうち、日本における消費者保護に関連することがらについて正しく述べているものはどれか。最も適当なものを一つ選び、その符号を書きなさい。

ア 1962 年に国際連合の機関の一つであるユニセフが提唱した、意見を反映させる権利などの「消費者の四つの権利」は、日本の消費者基本法にもつながる考え方である。

イ 契約上のトラブルを防止するため、消費者契約法により、商品を売買するときには契約書を作成することが販売者に義務づけられている。

ウ 訪問販売などで商品を購入した場合、契約時点からある一定期間内であれば、消費者が理由にかかわらず契約を取り消すことができるというクーリング・オフ制度が定められている。

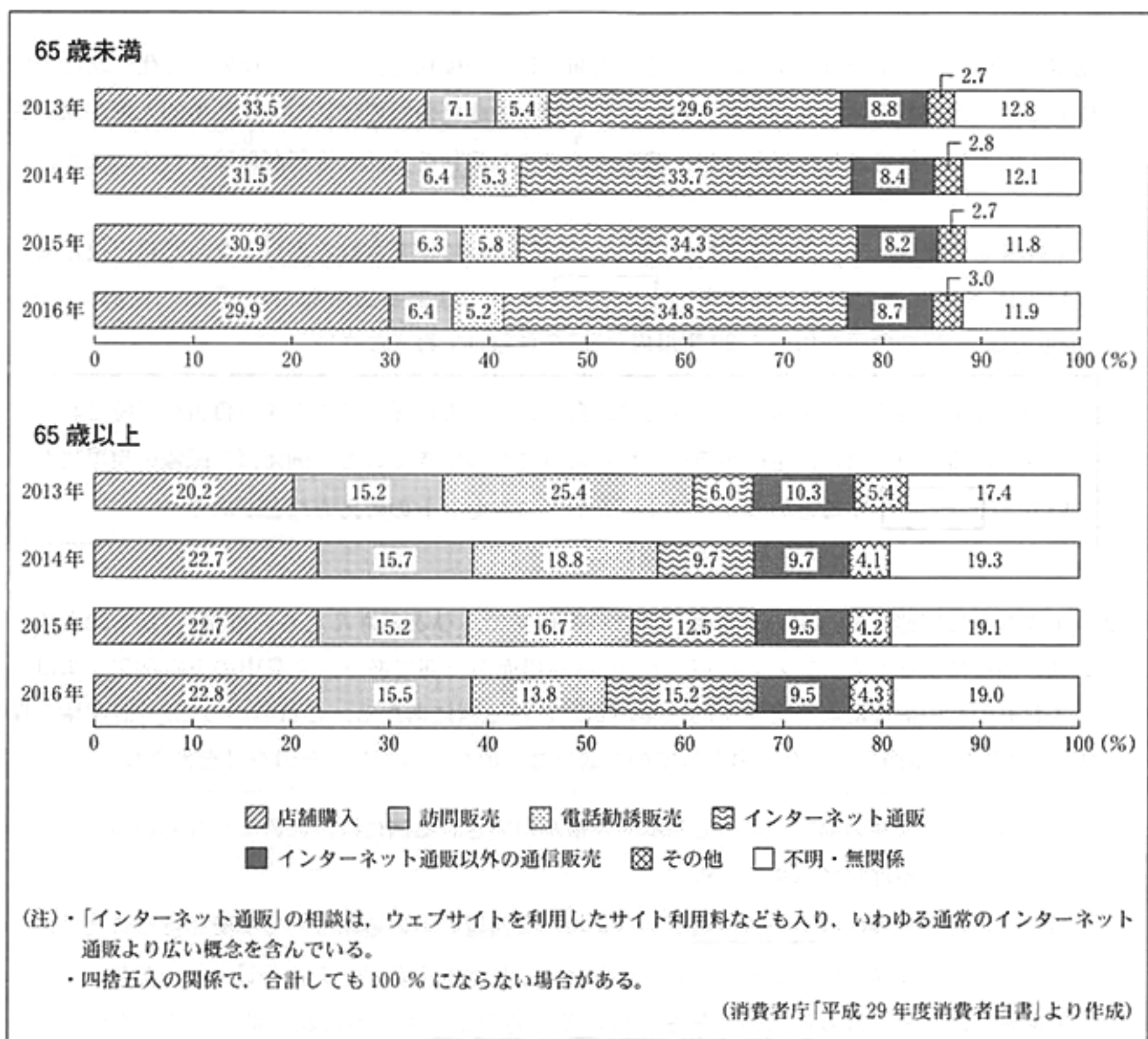
エ 製造物責任法の施行によって、欠陥商品により損害を受けた消費者が企業側の過失であることを証明できた場合に限り、企業側に損害賠償を求めることができるようになった。

- (3) 下線部 c に関連して、次の文章は、社会科の授業で、つばささんたちの班が、右のページの資料を見ながら、「高齢者をめぐる消費者問題の解決に向けた方策」について話し合っている場面の一部である。文章中の  にあてはまる最も適当なことばを、あとの選択肢ア~エのうちから一つ選び、その符号を書きなさい。

つばささん：「消費者白書」に、65 歳以上の高齢者に関する消費生活相談が依然として高い水準にあることが書いてあったよ。こうした問題にどう取り組めばいいのかな。

さわこさん：まずは、この資料から、65 歳未満と 65 歳以上では、販売購入形態別相談割合に、どのような違いがあるのかを見てみましょうよ。

ゆきなさん：そうね。例えば、この資料を見ると、 ということがわかるわね。



ア 2013年から2016年までの全ての年で、65歳以上と65歳未満のどちらも最も相談割合が高いのは「店舗購入」だけれども、「インターネット通販」の相談割合は65歳以上と65歳未満のどちらも2013年から2016年にかけて増加し続けている

イ 2013年から2016年までの全ての年で、「訪問販売」と「電話勧誘販売」の相談割合の合計は、65歳未満では「店舗購入」と「インターネット通販」のどちらの相談割合よりも低い一方で、65歳以上では「店舗購入」の相談割合より高く「インターネット通販」の相談割合より低い

ウ 65歳未満では、「店舗購入」の相談割合が2013年から2016年にかけて減少し続けている一方で、「インターネット通販」の相談割合は2013年から2016年にかけて増加し続けていて、2016年には同じ年の65歳以上の「インターネット通販」の相談割合の3倍以上である

エ 65歳以上では、「電話勧誘販売」の相談割合が2013年から2016年にかけて減少し続けている一方で、「インターネット通販」の相談割合は2013年から2016年にかけて増加し続けていて、2016年には2013年の相談割合の2倍以上になっている

7 次の文章を読み、あとの(1)~(3)の問いに答えなさい。

基本的人権とは、生まれながらにして持つ人間としての権利であり、その保障は近代憲法において確立されてきました。日本国憲法においても、個人の尊重の原理に基づいて基本的人権が保障され、基本的人権が侵害された場合には、裁判所で公正な<sup>a</sup>裁判<sup>b</sup>を受ける権利が保障されています。<sup>c</sup>

- (1) 下線部 a に関連して、次の文章は、「新しい人権」として主張されるようになった自己決定権について述べたものである。文章中の  にあてはまる適当なことばを、「医師」「患者」「治療方法」の三つの語を用いて 30 字以内(読点を含む。)で書きなさい。

個人の生き方や生活のスタイルなどは、自分の考え方によって決定する自由が保障されるべきであるという自己決定権が尊重されるようになってきている。例えば、医療の現場において、 するというインフォームド・コンセントの考え方などがある。

- (2) 下線部 b に関連して、次の文章は、社会科の授業で、ひとみさんたちの班が、「基本的人権の公共の福祉による制限」について話し合っている場面の一部であり、文章中の下線部ア~エは、いずれも公共の福祉によって基本的人権が制限される例にあたる。これらのうち、「財産権の保障」が制限される例を示したものとして最も適当なものを一つ選び、その符号を書きなさい。

ひとみさん：公共の福祉によって基本的人権が制限される例には、どのようなものがあるか整理してみましょう。

はやとさん：一つにはデモの規制があるよね。交通量の多い道路などでデモを行うことは、<sup>ア</sup>交通渋滞の原因にもなりそうだし、制限する必要があるんじゃないかな。

ちあきさん：やっぱり他人の名誉を傷つける行為の禁止も大事よね。思ったことを何でも<sup>イ</sup>言って良いわけないわ。

かずとさん：資格のない人の営業の禁止もあるね。例えば、無免許で医師として働くな<sup>ウ</sup>って、当然認められないよね。なりたければ免許を取るべきだよ。

さおりさん：私は、不備な建築の禁止も重要だと思うわ。やはり定められた基準に基づいて<sup>エ</sup>建築する必要があるわよね。

ひとみさん：いろいろな意見が出たわね。でも、基本的人権を制限する場合には、具体的にどのような公共の利益のためであるのか慎重に検討する必要があるわよね。

- (3) 下線部 c に関連して、次の文章は、民事裁判について述べたものである。文章中の  I  II にあてはまる適当な語を、それぞれ漢字 2 字で書きなさい。

民事裁判とは、一般に、個人と個人の間などで意見が違って争いになった場合に、どちらか一方が相手方を訴えることによって始まる裁判である。この裁判において、訴えた側を  I  II とよぶ。

問題番号	正 解					配点及び注意	計		
1	(1)	イ					4	10	
	(2)	財					3		・漢字1字指定
	(3)	年代の古い順	1	2	3	3	・全部できた場合、点を与える。		
符 号		ア	ウ	イ					
2	(1)	札幌(市)					4	・ひらがなでもよい。	
	(2)	エ					4		
	(3)	い					4		
	(4)	ウ					4		
3	(1)	ア					3		
	(2)	ウ					4		
	(3)	スコットランド					4	・カタカナ7字指定	
	(4)	エ					4		
4	(1)	オランダ風説書					4	・7字指定	
	(2)	イ					4		
	(3)	年代の古い順	1	2	3	4	・全部できた場合、点を与える。		
		符 号	イ	ア	エ				
	(4)	ウ					4		
(5)	エ					3			

問題番号	正解	配点及び注意	計
5	(1) ア	4	16
	(2) 資源や市場を求めて進出し、軍事力によって植民地	4	
	(3) 年代の古い順 1 2 3 4 符号 ウ エ ア イ	4	
	(4) イ	4	
6	(1) POS(システム)	4	12
	(2) ウ	4	
	(3) エ	4	
7	(1) 医師から十分な説明を受け、患者が自分自身で治療方法を選択	4	12
	(2) エ	4	
	(3) I 原告 II 被告	4	
合計		計	100

・正解文の趣旨にそって  
いればよい。  
・部分点を与えてもよい。

・全部できた場合、点を与える。

・アルファベット3字指定

・正解文の趣旨にそって  
いればよい。  
・部分点を与えてもよい。

・I、IIとも漢字2字指定  
・両方できた場合、点を与える。