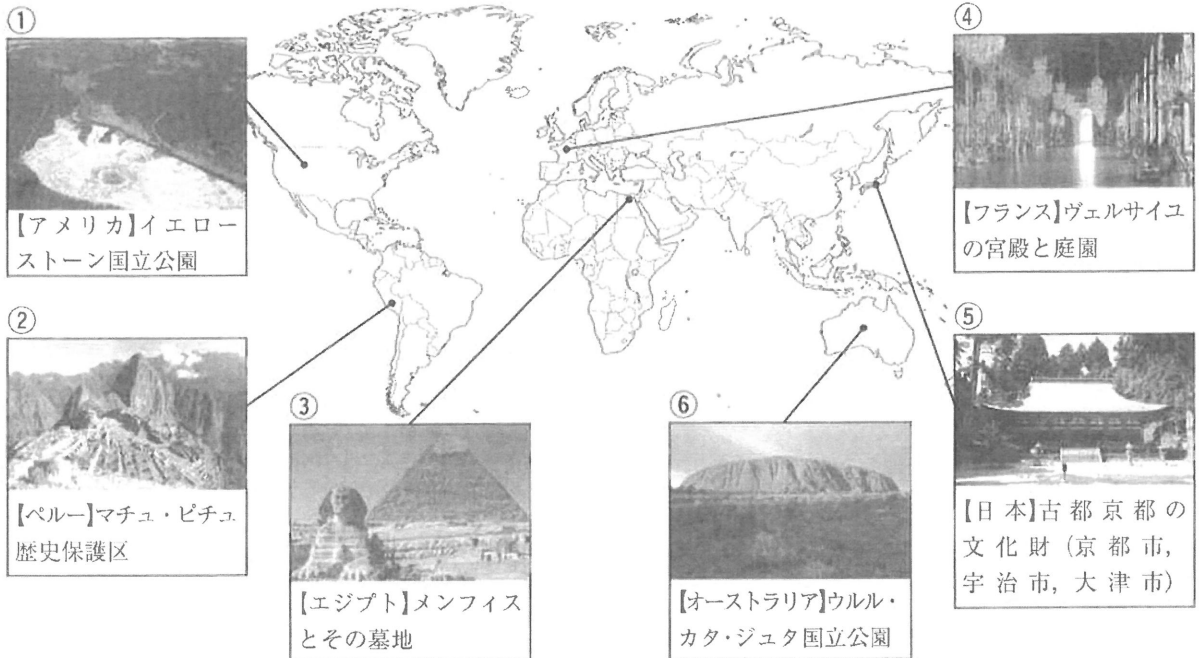


平30

社 会  
問 題 用 紙

1 次に示すのは、ある中学生が興味をもった国の代表的な世界遺産について、地図上にまとめたものである。これらに関連した(1)~(7)の問いに答えなさい。



(1) ①の国アメリカではドルが、⑤の国日本では円が通貨として使われている。図1は、1ドルに対する円の為替相場(為替レート)の変動を示している。図1中のBの時期について、次の  の文中の  a  ,  b  に当てはまる語の組み合わせを、下のア~エの中から一つ選んで、その記号を書きなさい。また、日本では企業による工場の海外移転などから、国内の雇用の減少や産業の衰退などの影響がみられる。これを何というか、解答用紙の書き出しに続いて、書きなさい。

図1の為替相場の変動を見ると、Bの時期はAの時期に比べて、円の価値が下がり  a  であった。そのため、貿易に関しては、日本が  b  するのにも有利であった。

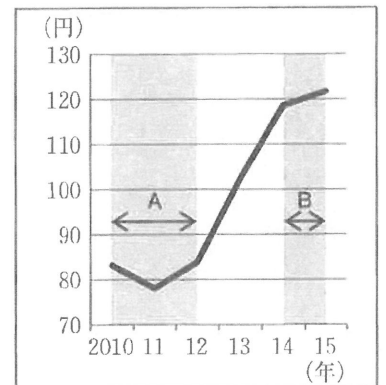


図1 為替相場(為替レート)の変動  
[総務省統計局「日本の統計2017」より作成]

- ア [ a 円安    b 輸出 ]    イ [ a 円高    b 輸出 ]  
ウ [ a 円安    b 輸入 ]    エ [ a 円高    b 輸入 ]

(2) ②の国ペルーに関して、アンデス山脈の標高 4000 m以上の高地における土地利用として最も適切なものを、次のア~エの中から一つ選んで、その記号を書きなさい。

- ア 小麦や大豆を大規模に栽培したり、牛の放牧をしたりしている。  
イ リャマやアルパカを放牧している。  
ウ タロイもやヤムいもなどを栽培している。  
エ バイオ燃料の原料となるサトウキビ栽培がさかんである。

板書による補足  
 図2は、主な国を、塗りつぶして  
 あります。

- (3) 図2の、③の国エジプトを含む [ ] の色で示したアフリカの国々では、人口の6割以上の人々がある宗教を信仰している。この宗教を、次のア～エの中から一つ選んで、その記号を書きなさい。



図2  
 [「データブック オブ・ザ・ワールド 2017」より作成]

- ア イスラム教      イ ヒンドゥー教  
 ウ キリシト教      エ 仏教

- (4) ④の国フランスに関する、次のア～エのできごとを、年代の古い順に左から並べて、その記号を書きなさい。

- ア パリで講和会議が開かれ、ベルサイユ条約が結ばれた。  
 イ フランス革命がおこり、人権宣言が発表された。  
 ウ ナポレオンが政権を握った。  
 エ ルイ14世の時代、国王の権力が強くなった。

- (5) ⑤の国日本の平安時代のできごとに関して、次の [ ] の文中の [ a ] , [ b ] に当てはまる語の組み合わせを、下のア～エの中から一つ選んで、その記号を書きなさい。また、12世紀、平清盛が貿易をおこなっていた中国の王朝名を書きなさい。

9世紀のはじめ、 [ a ] は遣唐使とともに唐に渡り仏教を学んだ。帰国後 [ a ] は、比叡山に延暦寺を開き、新しい宗派である [ b ] を広めた。

- ア [ a 最澄    b 真言宗 ]      イ [ a 空海    b 真言宗 ]  
 ウ [ a 最澄    b 天台宗 ]      エ [ a 空海    b 天台宗 ]

表1 オーストラリアの民族構成

民族	割合(%)
ヨーロッパ系	90.2
アジア系	7.3
a	2.5

[「データブック オブ・ザ・ワールド 2017」より作成]

- (6) ⑥の国オーストラリアでは、先住民を含む多様な民族が共存し、それぞれの文化をたがいに尊重しあう多文化社会を築こうとしている。表1は、オーストラリアの民族構成を示しているが、表1中のaに当てはまる先住民を何というか、書きなさい。

- (7) ①～⑥の世界遺産の決定にかかわっているユネスコは、国際連合(国連)の組織の一つである。国際連合の本部がおかれている都市名を書きなさい。

2 次の(1)~(7)の問いに答えなさい。

- (1) 次の [ ] の文中の [ a ] , [ b ] に当てはまる語の組み合わせを、下のア~エの中から一つ選んで、その記号を書きなさい。

社会では、人々の対立を合意によって解消し、よりよい社会のルールをつくるために図1のような考え方をふまえる必要がある。 [ a ] は、時間や費用などの面で無駄を省く考え方で、 [ b ] は、手続き、機会や結果で不当なものになっていないかなど、たがいに各個人の意見を尊重し、一人ひとりに最大限配慮したものになっているかどうかを問う考え方である。

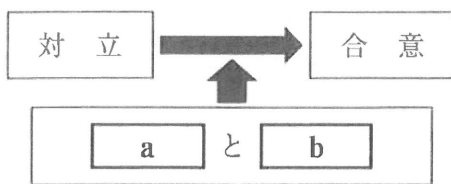


図1

- ア [ a 権利 b 責任 ]  
 イ [ a 責任 b 権利 ]  
 ウ [ a 公正 b 効率 ]  
 エ [ a 効率 b 公正 ]

- (2) 次の [ ] の文中の [ a ] ~ [ c ] に当てはまる数字の組み合わせを、下のア~カの中から一つ選んで、その記号を書きなさい。

労働基準法では、労働時間は週 [ a ] 時間以内、1日 [ b ] 時間以内、毎週少なくとも [ c ] 日の休日などが定められている。

- ア [ a 30 b 8 c 1 ]      イ [ a 40 b 8 c 1 ]  
 ウ [ a 30 b 8 c 2 ]      エ [ a 40 b 8 c 2 ]  
 オ [ a 30 b 10 c 2 ]      カ [ a 40 b 10 c 2 ]

- (3) 次の [ ] の文は、裁判についての説明である。文中の [ a ] ~ [ c ] に当てはまる語の組み合わせを、下のア~エの中から一つ選んで、その記号を書きなさい。

一般的には、個人と個人の間の争いが起こったとき、どちらか一方が相手を訴えることによって始まる裁判を [ a ] 裁判という。この裁判では、訴えた側が [ b ] , 訴えられた側が [ c ] となって、自分の意見を主張する。裁判官は、両者の言い分を聞き、証拠などを提出させたうえで、法律に基づいて判決を下す。

- ア [ a 民事 b 原告 c 被告 ]      イ [ a 民事 b 被告 c 原告 ]  
 ウ [ a 刑事 b 原告 c 被告 ]      エ [ a 刑事 b 被告 c 原告 ]

- (4) 次の [ ] の文中の [ ] に当てはまる語を書きなさい。また、文中の下線部の天皇の国事に関する行為に当てはまるものを、下のア～エの中から一つ選んで、その記号を書きなさい。

日本国憲法の第1条には、「天皇は、日本国の [ ] であり日本国民統合の [ ] であつて、この地位は、主権の存する日本国民の総意に基く。」とある。また、第3条には、「天皇の国事に関するすべての行為には、内閣の助言と承認を必要とし、内閣が、その責任を負ふ。」とある。

ア 最高裁判所長官の指名 イ 条約の承認 ウ 内閣総理大臣の指名 エ 衆議院の解散

- (5) 図2は、景気変動を示している。また、 [ ] の文は、図2中のXの時期におこなわれる財政政策を説明したものである。 [ ] の文中の [ a ] , [ b ] に当てはまる語の組み合わせを、下のア～エの中から一つ選んで、その記号を書きなさい。

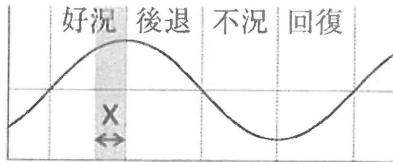


図2

政府は、景気の行きすぎを防ぐために [ a ] し、公共事業の支出を [ b ] , 生産や消費活動を減らそうとする。

- ア [ a 増税 b 減らして ]      イ [ a 増税 b 増やして ]  
 ウ [ a 減税 b 減らして ]      エ [ a 減税 b 増やして ]

- (6) 図3は、それぞれの商品生産の集中の程度を示している。生産の集中(寡占)が最も進んでいるものを、次のア～ウの中から一つ選んで、その記号を書きなさい。また、企業の自由で公正な競争を促す法律を何というか、書きなさい。

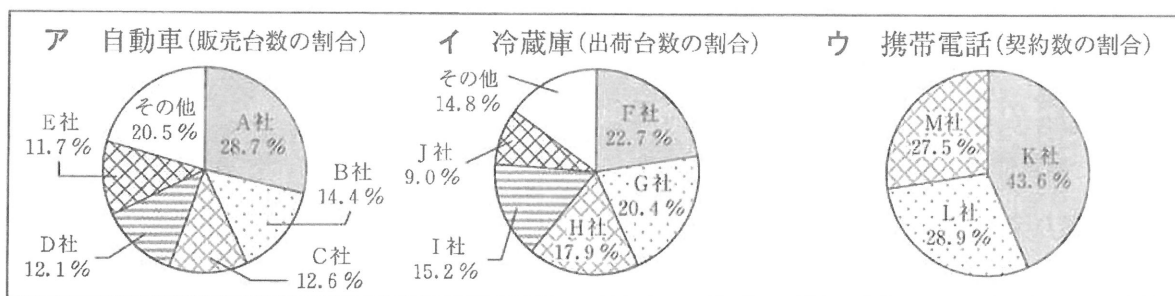


図3 商品生産の集中の程度(2015年)[アは「日本自動車工業会資料」、イは「日本電機工業会資料」、ウは「総務省資料」より作成]

板書による補足

図10のグラフの面積は、数字で示した割合と一致しない部分があります。図10に示されている数字を使って問題を解きなさい。

資料

- (7) 資料は、国際連合(国連)の安全保障理事会に提案された、ある重要な議案に対する理事国の投票結果を示したものである。この議案は可決されたか否決されたか、解答用紙の可決・否決のどちらかを○で囲みなさい。また、そのように判断した理由を書きなさい。

ある重要な議案の投票結果  
 理事国 15 国(常任理事国 5 国 非常任理事国 10 国)

賛成 13 国	常任理事国	4 国
	非常任理事国	9 国
反対 2 国	常任理事国	1 国
	非常任理事国	1 国

3 次の(1)~(8)の問いに答えなさい。

(1) 図1を見て、日本(東京)とエジプト(カイロ)の時差を書きなさい。なお、標準時の基準となる子午線は、日本は東経135度、エジプトは東経30度とする。また、11月5日午後9時に成田国際空港を出発し、14時間かけてカイロに到着した。カイロに到着したときの現地の日時を、解答用紙の午前・午後のどちらかを○で囲み、書きなさい。

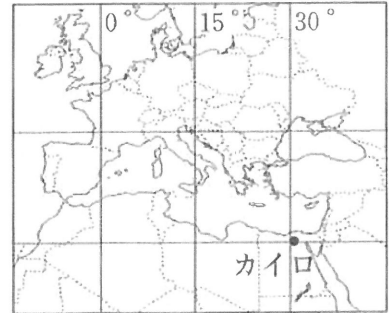


図1

(2) 図2のA~Dは、四つの県の県庁所在地を示している。Bの県庁所在地名を書きなさい。また、Cの都市の気温と降水量を示したものを、次のア~エの中から一つ選んで、その記号を書きなさい。

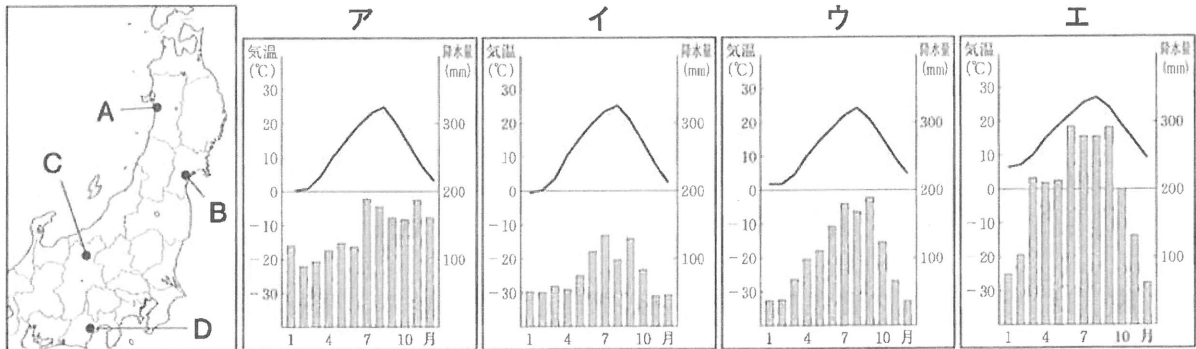



図2

〔理科年表 平成29年版〕より作成

(3) 図3は、日本の排他的経済水域を、の色で示したものである。このうち、はばまいくんとう 歯舞群島、しごたんとう 色丹島、くなしりとう 国後島、えとろみとう 択捉島から成り立つ島々Aを何と書いて書きなさい。また、Bは日本最南端の島を示している。その島名を、次のア~エの中から一つ選んで、その記号を書きなさい。

- |                              |                               |
|------------------------------|-------------------------------|
| ア <small>みなみとりしま</small> 南鳥島 | イ <small>おきのとりしま</small> 沖ノ鳥島 |
| ウ <small>よなぐにしま</small> 与那国島 | エ <small>あわじしま</small> 淡路島    |

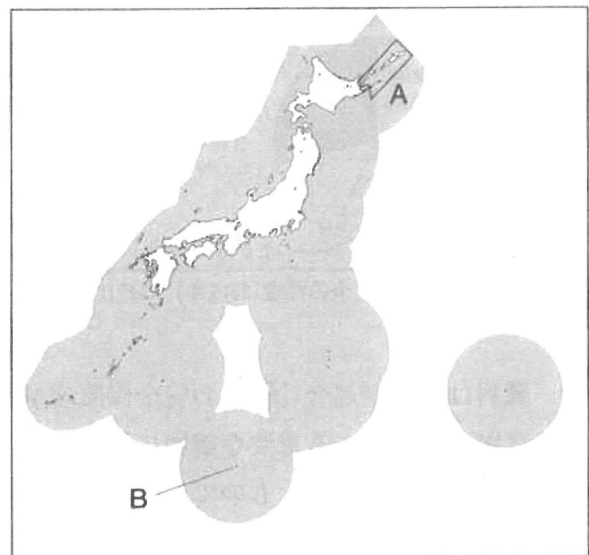


図3 日本の排他的経済水域

(4) 図4は、昭和47年発行、図5は、平成24年発行の同じ地域を示した地形図である。  
この地形図上の長さが3cmのとき、実際の距離は何mになるか書きなさい。また、これらを見て、下のア～エの中から正しいものを一つ選んで、その記号を書きなさい。

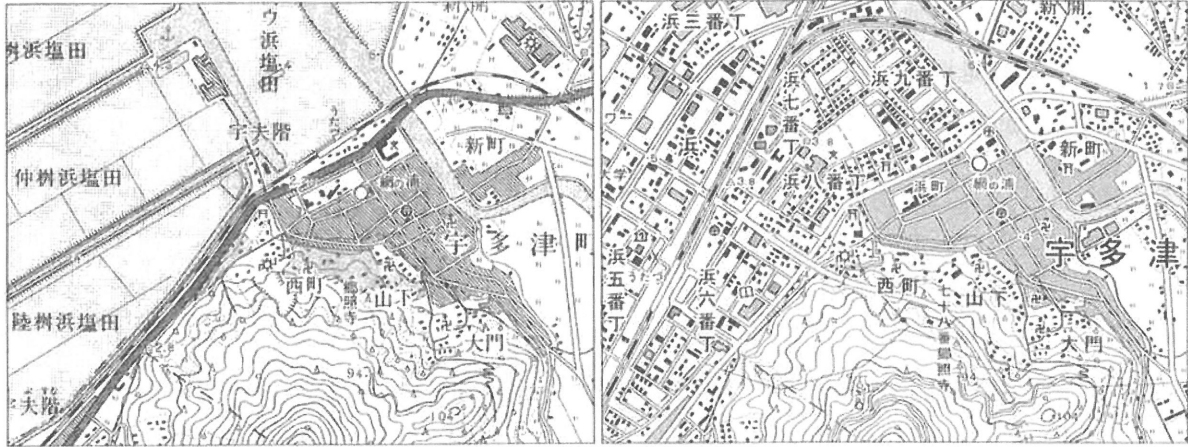


図4 図5  
注) 塩田は、海水を蒸発させて塩をとる場所および施設。 (図4、図5は国土地理院発行2万5千分の1地形図「丸亀」より作成)

- ア かつて塩田だった場所に、新しく工業団地が造成された。
- イ 山と塩田の間を通っていた線路の位置が変更され、駅も南東に移転した。
- ウ かつて駅の近くに学校があったが、その場所に町役場が移転した。
- エ かつて寺院や神社が山の北側ふもとにあったが、現在は見られない。

(5) 図6は、1人当たり国民総所得と第一次産業人口の割合を、図7は、1人当たり国民総所得と第三次産業人口の割合を示している。これらを見て、1人当たり国民総所得が多い国では、産業別人口の割合にどのような特徴が見られるか、第一次・第三次産業の両方にふれながら、解答用紙の書き出しに続いて、書きなさい。

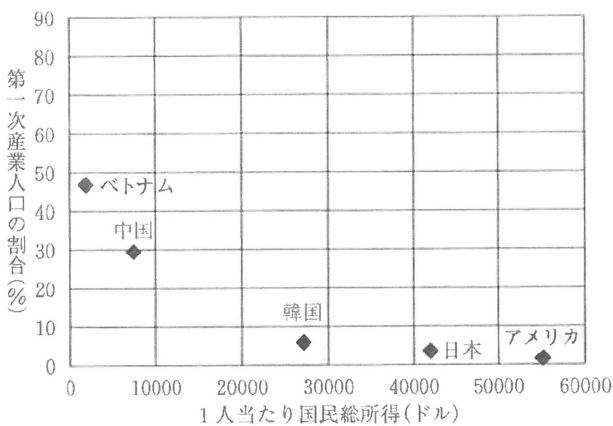


図6

注) 国民総所得は、国の内外にかかわらず、国民が一定期間に得た所得の合計を表す。調査年は2014年。

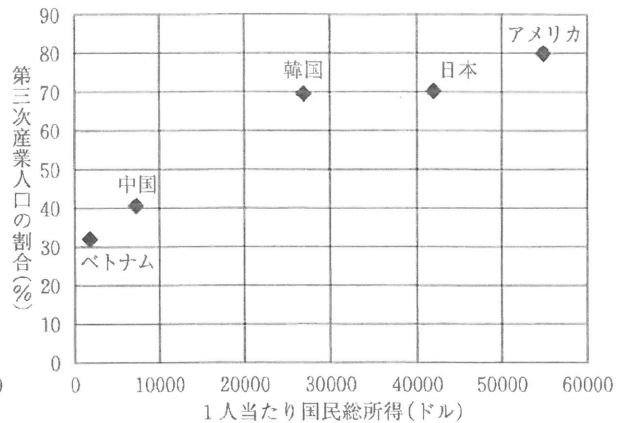


図7

(図6、図7は「データブック オブ・ザ・ワールド 2016・2017」より作成)

(6) 図8は、中国の行政区(自治区と台湾を除く)別の1人当たり国内総生産が6万元以上の行政区を  の色で示し、外国企業の進出を受け入れた沿海部の重点開発地区を●で示したものである。これらの重点開発地区を何というか、書きなさい。また、図8に関して説明した次の  の文中の  a  ~  c  に当てはまる語の組み合わせを、下のア~エの中から一つ選んで、その記号を書きなさい。

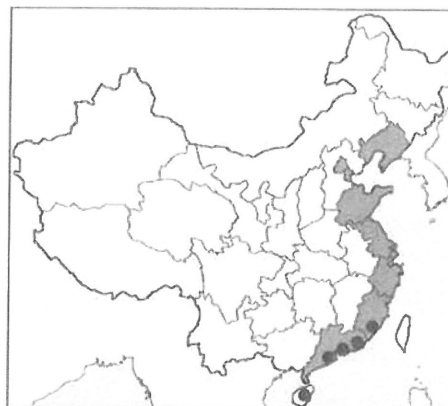


図8  
〔データブック オブ・ザ・ワールド2017〕より作成  
注) 調査年は2015年。1元は約16円。

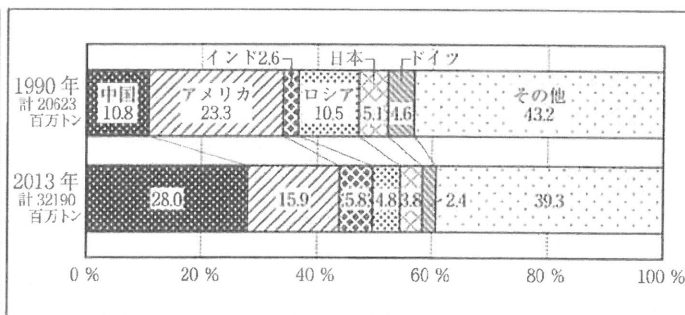
中国では、沿海部にある行政区の1人当たり国内総生産が内陸部にある行政区に比べて  a  いので、出かせぎ労働者が  b  部から  c  部へ移動している。

- ア [ a 低 b 沿海 c 内陸 ]    イ [ a 高 b 沿海 c 内陸 ]  
ウ [ a 低 b 内陸 c 沿海 ]    エ [ a 高 b 内陸 c 沿海 ]

(7) 表1, 図9を見て、下のア~エの中から正しいものを一つ選んで、その記号を書きなさい。

表1 主要国の二酸化炭素排出量と1人当たり二酸化炭素排出量

	二酸化炭素排出量 (百万トン)		1人当たり二酸化炭素排出量(トン)	
	1990年	2013年	1990年	2013年
日本	1049	1235	8.49	9.70
アメリカ	4802	5120	19.20	16.18
ロシア	2163	1543	14.62	10.79
ドイツ	940	760	11.85	9.25
インド	534	1869	0.61	1.49
中国	2217	9023	1.93	6.60



〔表1, 図9は「世界国勢図会2016/17」より作成〕 図9 二酸化炭素排出量の国別割合(%)  
注) 二酸化炭素排出量の国別割合は、四捨五入しているため、合計は100%にならない場合もある。

- ア 日本の二酸化炭素排出量と二酸化炭素排出量の国別割合について、1990年と2013年を比べると、いずれも増加している。  
イ アメリカは、2013年の1人当たり二酸化炭素排出量が、主要国の中で最も多いが、2013年の二酸化炭素排出量は1990年と比べて減少している。  
ウ ロシアとドイツの2013年の二酸化炭素排出量は、ドイツよりロシアの方が多いが、1人当たり二酸化炭素排出量では、ロシアよりドイツの方が多い。  
エ 中国とインドの2013年の二酸化炭素排出量は、ともに1990年の3倍以上に増加しており、2013年の両国の二酸化炭素排出量の国別割合を合わせると、世界の30%を超えている。



(8) 図 10, 表 2, 表 3 を見て, 下のア～オの中から正しいものを二つ選んで, その記号を書きなさい。

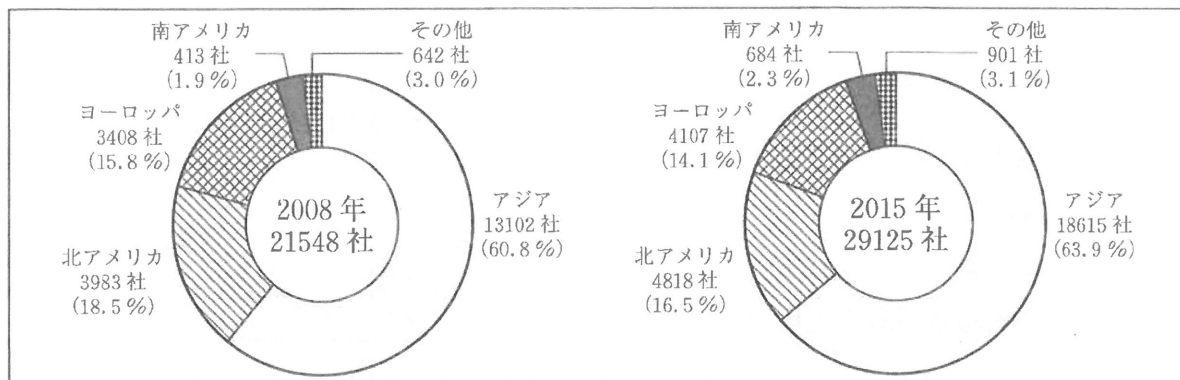


図 10 海外に進出している日本企業数とその割合

注) 海外に進出している日本企業数の割合は, 四捨五入しているため, 合計は 100% にならない場合もある。

〔データブック オブ・ザ・ワールド 2010・2017〕「海外進出企業総覧 2009・2016」より作成

表 2 日本の大陸別貿易の輸出額とその割合

	2008年		2015年	
	輸出額 (億円)	割合 (%)	輸出額 (億円)	割合 (%)
アジア	439452	54.2	438820	58.0
ヨーロッパ	139070	17.2	90621	12.0
北アメリカ	181316	22.4	184115	24.3
南アメリカ	14456	1.8	11242	1.5
その他	35886	4.4	31341	4.1
合計	810181	100.0	756139	100.0

表 3 日本の大陸別貿易の輸入額とその割合

	2008年		2015年	
	輸入額 (億円)	割合 (%)	輸入額 (億円)	割合 (%)
アジア	495573	62.8	481072	61.4
ヨーロッパ	96109	12.2	117628	15.0
北アメリカ	100427	12.7	100967	12.9
南アメリカ	21914	2.8	21560	2.7
その他	75524	9.6	62829	8.0
合計	789548	100.0	784055	100.0

注) 大陸別貿易の金額は, 四捨五入しているため, 合計と一致しない部分がある。また, 大陸別貿易の割合は, 四捨五入しているため, 合計は 100% にならない場合もある。

〔表 2, 表 3 は「データブック オブ・ザ・ワールド 2010・2017」「財務省貿易統計」より作成〕

ア 海外に進出している日本企業の中でアジアに進出している企業数とその割合は, 2008年と2015年を比べると, いずれも増加している。

イ 海外に進出している日本企業の中でヨーロッパに進出している企業数は, 2008年と2015年を比べると増加し, 日本の大陸別貿易の輸出額・輸入額のそれぞれに占めるヨーロッパの割合は, 2008年と2015年を比べると, とともに減少している。

ウ 海外に進出している日本企業の中で北アメリカに進出している企業数は, 2008年と2015年を比べると減少し, 日本と北アメリカとの貿易についても, 2008年と2015年を比べると, 輸出額・輸入額ともに減少している。

エ 海外に進出している日本企業の中で南アメリカに進出している企業数は, 2008年と2015年を比べると増加しているが, 日本と南アメリカとの貿易については, 2008年と2015年を比べると, 輸出額・輸入額ともに減少している。

オ 2008年の日本の輸出額の合計は, 輸入額の合計を上回っており, 2015年の日本の輸出額の合計も, 輸入額の合計を上回っている。

4 次の(1)~(8)の問いに答えなさい。

- (1) 次の [ ] の文は、年表中の下線部①についての先生と生徒との会話である。文中の [ ] に当てはまる語を書きなさい。

先生：聖徳太子は、蘇我氏らと協力しながら新しい政治をおこないましたね。  
 生徒：はい。冠位十二階の制度を定めて、能力や功績のある人物を役人に取り立てようとしていました。  
 先生：そうですね。また、資料1の [ ] を定めて、役人の心構えも示しましたね。  
 生徒：はい。その他、遣隋使として小野妹子らを送ったりもしました。

西暦	できごと
593	① 聖徳太子が摂政となる
794	都を平安京に移す
894	② 遣唐使が停止される
935	平将門の乱がおこる
1086	院政が始まる
1192	③ 源頼朝が征夷大將軍となる

資料1 (一部)

一に曰く、和をもって貴しとなし、さからうことなきを宗とせよ。  
 二に曰く、あつく三宝を敬え。三宝とは、  
 仏・法・僧なり。  
 三に曰く、詔を承りては、必ず謹め。

- (2) 年表中の下線部②によって、日本の風土や生活に合った文化が生まれた。この文化を何というか、書きなさい。また、この文化が栄えたころの作品を、次のア~エの中から一つ選んで、その記号を書きなさい。

ア 方丈記      イ 枕草子      ウ 徒然草      エ 南総里見八犬伝

- (3) 次の [ ] の文は、年表中の下線部③の源頼朝が亡くなった後の社会の様子を述べたものである。文中の [ ] に当てはまる語を書きなさい。また、[ a ] , [ b ] に当てはまる語の組み合わせを、下のア~エの中から一つ選んで、その記号を書きなさい。

北条氏が [ ] という地位について政治をおこなった。北条時宗の時代には元寇(蒙古襲来)があり、その後、御家人の生活が苦しくなったことなどから幕府に対する御家人たちの不満が高まった。そのような中、[ a ] とよばれる武士たちが登場したが、彼らは [ b ] 領主や幕府に従わず、年貢をうばったり、武装して反抗したりした。

ア [ a 悪党      b 荘園 ]      イ [ a 蝦夷      b 荘園 ]  
 ウ [ a 悪党      b 公領 ]      エ [ a 蝦夷      b 公領 ]

(4) 次のⅠ～Ⅲは、17世紀前半の日本の外交政策について述べたものである。それらを年代の古い順に並べたものを、下のア～カの中から一つ選んで、その記号を書きなさい。

- Ⅰ 日本人の海外への渡航と海外からの帰国を禁止した。
- Ⅱ オランダ商館を長崎の出島に移した。
- Ⅲ 徳川家康による朱印船貿易が開始された。

- ア Ⅰ－Ⅱ－Ⅲ      イ Ⅰ－Ⅲ－Ⅱ      ウ Ⅱ－Ⅰ－Ⅲ  
 エ Ⅱ－Ⅲ－Ⅰ      オ Ⅲ－Ⅰ－Ⅱ      カ Ⅲ－Ⅱ－Ⅰ

(5) 豊臣秀吉の朝鮮侵略以来とぎれていた朝鮮との国交は、江戸時代に入ると対馬藩の努力によって回復した。その後、日本の将軍が代わるごとに朝鮮から使節が派遣されることになった。この使節を何というか、書きなさい。また、対馬の位置を、図1のア～エの中から一つ選んで、その記号を書きなさい。

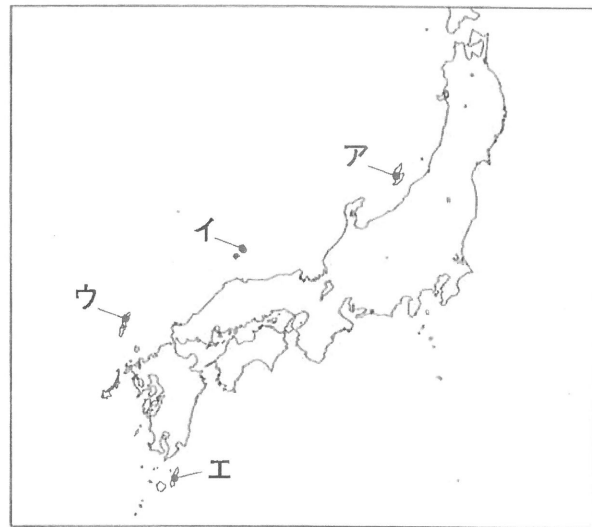


図1

(6) アメリカでは1861年に南北戦争がおこったが、この戦争中に「人民の、人民による、人民のための政治」と演説した大統領の名前を書きなさい。また、このころの日本では尊王攘夷運動がさかんになっていたが、この運動と最も関係の深いできごとを、次のア～エの中から一つ選んで、その記号を書きなさい。

- ア 板垣退助などが、国民の意見を政治に反映させるために、国会の開設を要求した。
- イ 長州藩が、下関(関門)海峡を通る外国船を砲撃した。
- ウ 大塩平八郎が、ききんに対する奉行所や大商人の対応に不満をもち、拳兵した。
- エ 渡辺崋山と高野長英が、外国船の打ち払いを批判した。

(7) 図2は、第一次世界大戦前のヨーロッパの国際関係を示したものである。このうち、図2中の [ ] に当てはまる語を書きなさい。また、図3は第一次世界大戦のころの、日本の産業別生産額の内訳を示したグラフである。1919年の工業生産額と農業生産額を比較し、1914年からどのように変化したか、書きなさい。その際、資料2を参考にし、そのように変化した理由を含めて書きなさい。

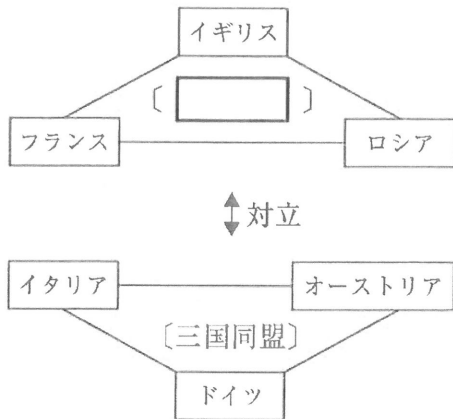


図2

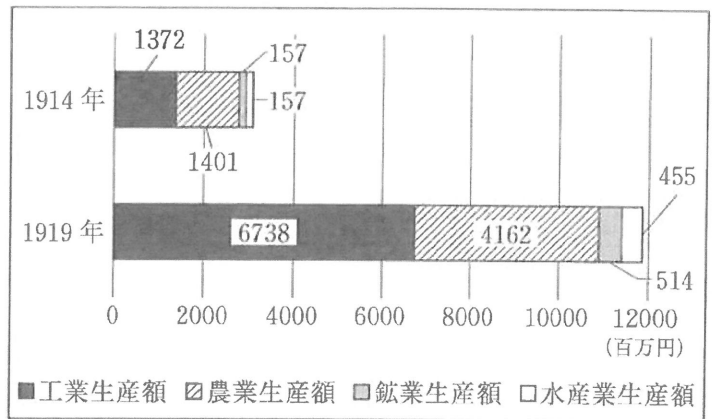


図3

〔日本資本主義発達史年表〕より作成

資料2

日本では、戦争に必要とされた船舶や鉄鋼などの生産により海運業や造船業が発展したほか、ドイツからの輸入がとだえた薬品や化学肥料の国産化が進むなど、重化学工業が急成長した。また、アメリカへの生糸の輸出や、中国への綿糸・綿織物の輸出が急増し、繊維業もいっそう活発になった。

(8) 図4は、つくば市の一部を撮影した写真である。つくば市には国の研究機関が多く置かれ、その一つに地球環境保全、公害の防止などを目的として設置された国立環境研究所がある。高度経済成長の時代に、日本では公害が社会問題となった。1967年に公害防止と環境保護を目指して制定された法律を何というか、書きなさい。また、1967年以降の日本のできごととして当てはまるものを、次のア～エの中から一つ選んで、その記号を書きなさい。

- ア 日本が国際連合(国連)に加盟した。
- イ 日本国憲法が公布された。
- ウ 日中平和友好条約が結ばれた。
- エ 日米安全保障条約(安保条約)が結ばれた。



図4