

受検番号	第	番
------	---	---

平成30年度学力検査問題

社 会 (11時45分～12時35分)  
(50分間)

注 意

1 解答用紙について

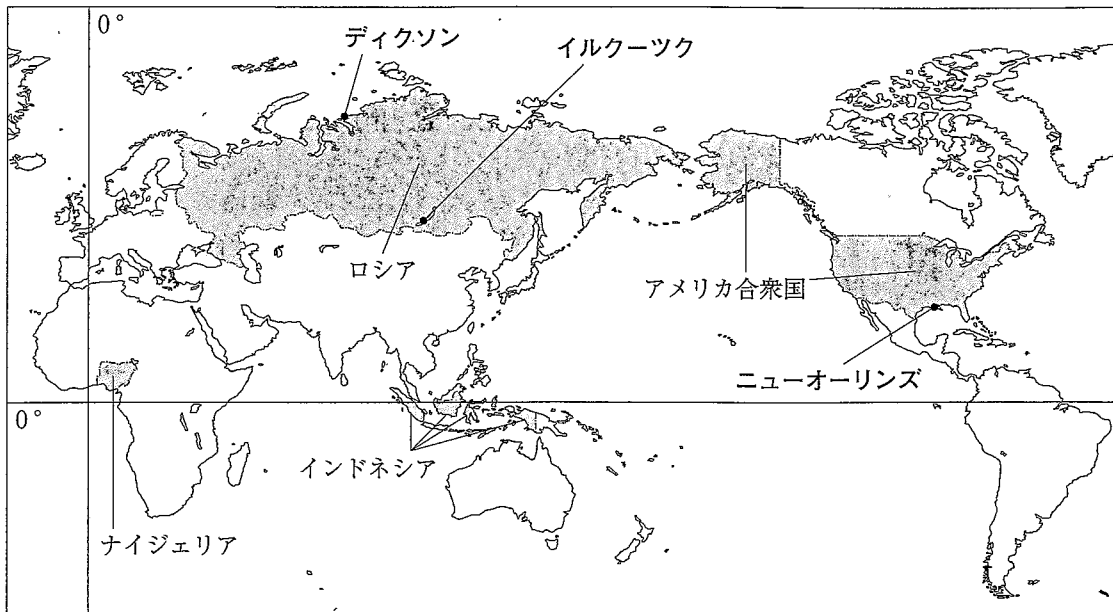
- (1) 解答用紙は1枚で、問題用紙にはさんであります。
- (2) 係の先生の指示に従って、所定の欄2か所に受検番号を書きなさい。
- (3) 答えはすべて解答用紙のきめられたところに、はっきりと書きなさい。
- (4) 解答用紙は切りはなしてはいけません。
- (5) 解答用紙の※印は集計のためのもので、解答には関係ありません。

2 問題用紙について

- (1) 表紙の所定の欄に受検番号を書きなさい。
  - (2) 問題は全部で6問あり、表紙を除いて16ページです。
- 印刷のはっきりしないところは、手をあげて係の先生に聞きなさい。

1 Mさんは、ナイジェリア、ロシア、インドネシア及びアメリカ合衆国の4か国について調べました。次の地図をみて、問1～問5に答えなさい。(15点)

地図



問1 三大洋のうち、地図中に示したインドネシアが面している二つの海洋の名称を、それぞれ書きなさい。(3点)

問2 次の文章は、地図中に示したニューオーリンズの位置について説明するためにMさんがまとめたものです。文章中の **A** と **B** にあてはまる語の組み合わせとして正しいものを、下のア～エの中から一つ選び、その記号を書きなさい。(2点)

地球上の各地点の位置は、緯度と経度を使ってあらわすことができます。緯度は、**A** を0度として、それより北側を北緯、南側を南緯と呼び、それぞれを90度に分けたものです。経度は、**B** を0度として、それより東側を東経、西側を西経と呼び、それぞれを180度に分けたものです。ニューオーリンズは、**A** より北側に、**B** より西側にあるので、およその位置は「北緯30度、西経90度」とあらわすことができます。

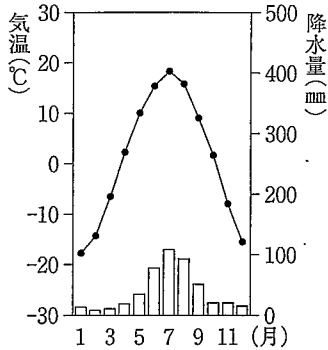
- ア A-赤道 B-本初子午線      イ A-回帰線 B-本初子午線  
 ウ A-赤道 B-日付変更線      エ A-回帰線 B-日付変更線

問3 Mさんは、地図中のナイジェリアがあるアフリカ大陸の鉱産資源について調べ、次のようにまとめました。まとめの中の **X** にあてはまる語を書きなさい。(2点)

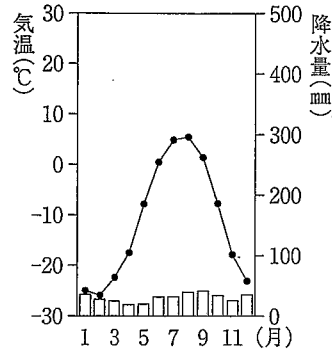
アフリカ大陸は鉱産資源にめぐまれています。ナイジェリア及び北アフリカの国々などでは、石油が多く産出されます。また、近年では、コンゴ民主共和国や南アフリカ共和国で産出されるコバルトやマンガンなどの **X** が注目されてきています。**X** とは、埋蔵量が非常に少ない金属や、量はあっても経済的・技術的に取り出すのが難しい金属の総称で、高度な技術を使った製品の生産に欠かせない金属です。日本では不要になった家電製品から **X** を回収して再利用する動きも広がっています。

問 4 次のグラフ 1 は、冷帯(亜寒帯)に属する地図中に示したイルクーツクの気温と降水量を、  
 グラフ 2 は、寒帯に属する地図中に示したディクソンの気温と降水量を示したものです。また、  
 資料 1 は、冷帯(亜寒帯)にみられる景観を、資料 2 は、寒帯にみられる景観を示したもので  
 す。資料 1 と資料 2 から読みとれる冷帯(亜寒帯)と寒帯の樹木の生育の違いを、気温と関連づ  
 けて書きなさい。(5点)

グラフ 1



グラフ 2



(理科年表 平成 29 年から作成)

資料 1



資料 2



問 5 次の表は、地図中に示した 4 か国の、2013 年における人口、面積、発電量、石炭産出量、  
 石油産出量、二酸化炭素排出量を示したものです。表から読みとれる内容を述べた文として正  
 しいものを、下のア～オの中からすべて選び、その記号を書きなさい。(3点)

表

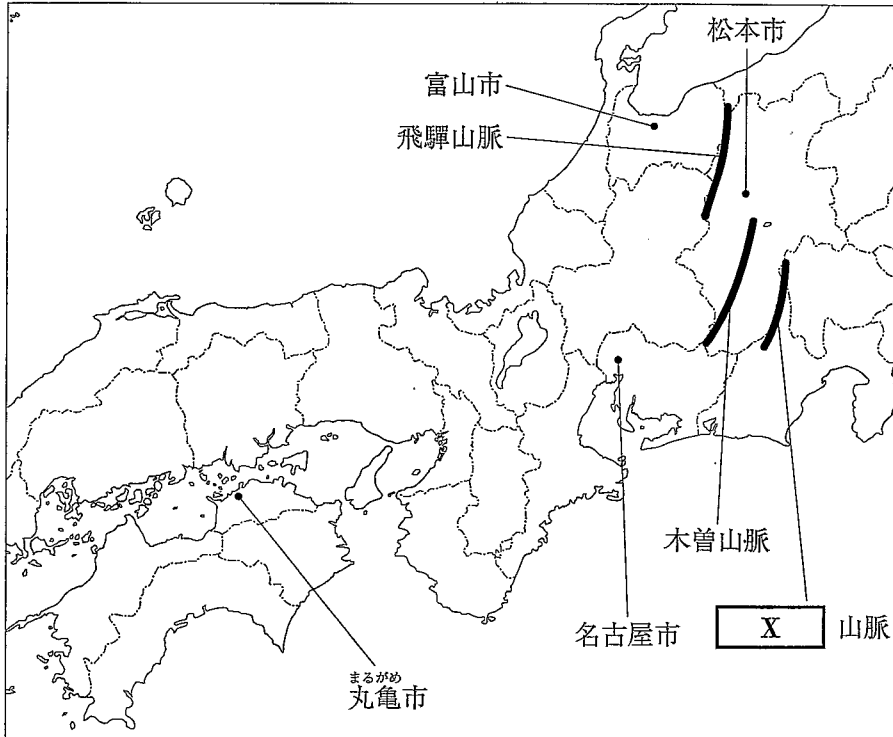
	人口 (万人)	面積 (万 km <sup>2</sup> )	発電量 (億 kWh)		石炭産出量 (万 t)	石油産出量 (万 t)	二酸化炭素 排出量 (百万 t)
				火力			
ナイジェリア	17362	92	290	236	4	10673	61
ロシア	14283	1710	10591	7035	25231	49748	1543
インドネシア	24987	191	2156	1892	45846	3994	425
アメリカ合衆国	32005	983	43062	29859	43920	37196	5120

(世界国勢図会 2016/17 年版などから作成)

- ア ナイジェリアとインドネシアを比べると、人口密度はインドネシアの方が高い。
- イ アメリカ合衆国とロシアを比べると、石炭産出量と石油産出量ともにロシアの方が多い。
- ウ 4 か国のうち、発電量が最も多い国が、二酸化炭素排出量も最も多い。
- エ 4 か国においては、人口が多い国の順に、発電量も多い。
- オ 4 か国のうち、発電量に占める火力の割合が最も低い国は、ロシアである。

2 Nさんは、地理的分野の授業で日本の諸地域を学習したあと、地図1を作成しました。地図1をみて、問1～問4に答えなさい。(15点)

地図1

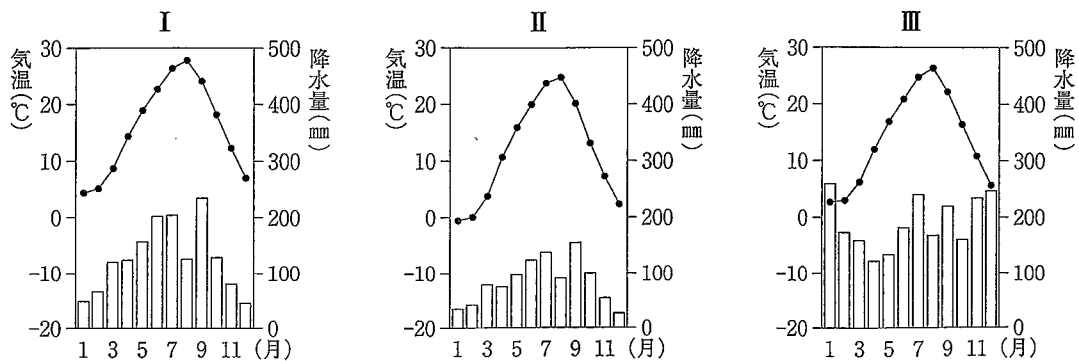


問1 Nさんは、日本アルプスについて調べ、地図1中に三つの山脈を模式的に示し、次のようにまとめました。地図1及びまとめの中の **X** にあてはまる語を書きなさい。(3点)

まとめ

本州の中央部には、「日本の屋根」と呼ばれる山がちな地域が広がっています。特に地図1中に示した、飛驒山脈、木曽山脈、**X**山脈は、標高3000m前後の山々が連なり、日本アルプスとも呼ばれています。

問2 Nさんは、地図1中の富山市、松本市、名古屋市の三つの都市の気温と降水量を調べ、次のI～IIIのグラフをつくりました。I～IIIのグラフと都市の組み合わせとして正しいものを、あとのア～カの中から一つ選び、その記号を書きなさい。(2点)

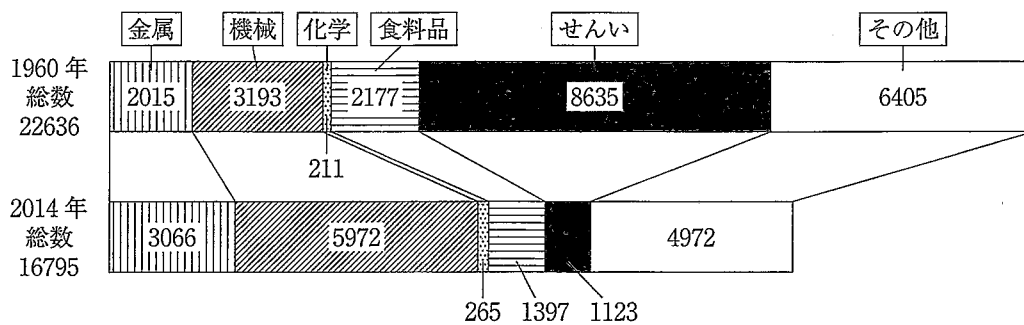


(理科年表 平成29年から作成)

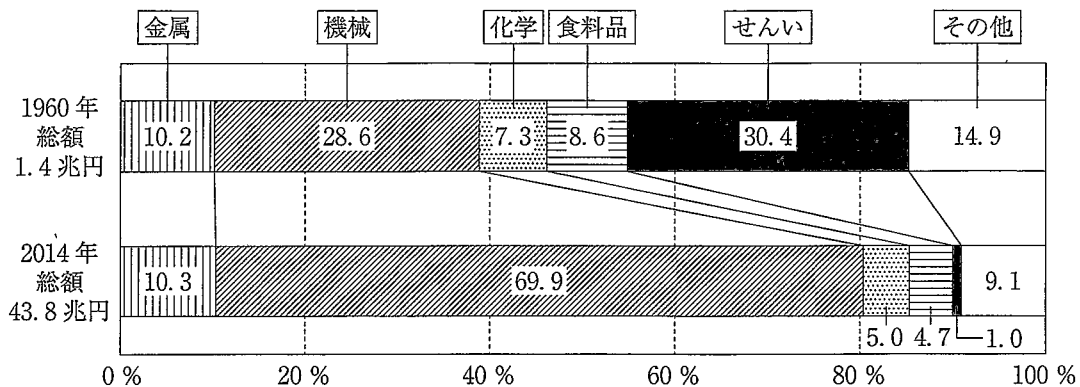
- ア I - 松本市      II - 名古屋市      III - 富山市
- イ I - 松本市      II - 富山市      III - 名古屋市
- ウ I - 富山市      II - 松本市      III - 名古屋市
- エ I - 富山市      II - 名古屋市      III - 松本市
- オ I - 名古屋市      II - 松本市      III - 富山市
- カ I - 名古屋市      II - 富山市      III - 松本市

問 3 Nさんは、地図1中の名古屋市のある愛知県の製造業について調べ、次のグラフ1とグラフ2をつくりました。グラフ1とグラフ2から読みとれる内容を述べた文として正しいものを、下のア～エの中から一つ選び、その記号を書きなさい。(2点)

グラフ1 製造業事業所数の変化



グラフ2 製造品出荷額の割合の変化



(注) 製造業事業所数と製造品出荷額は、従業者4人以上の事業所。


(経済産業省ホームページから作成)

- ア 1960年と2014年を比べると、製造業事業所数の上位3位までの製造業の順位は変わらない。
- イ 製造業事業所数に占めるせんいの事業所数の割合は、1960年は30%を超えていたが、2014年は5%以下となっている。
- ウ 1960年の機械の事業所数と製造品出荷額は、どちらも全体の半分以下であったが、2014年はどちらも全体の半分以上を超えている。
- エ 金属、機械、化学を合わせた製造品出荷額は、1960年は1兆円以下であったが、2014年は30兆円を超えている。

問 4 右の地図 2 は、地図 1 中の丸亀市まるがめの一部を示した 2 万 5 千分の 1 の地形図です。地図 2 をみて、次の(1)と(2)の問いに答えなさい。

- (1) 日本の気候区分において、瀬戸内の気候に属する丸亀市では、資料にみられる、ため池を利用した農業が行われてきました。ため池が利用されてきた理由を、瀬戸内の気候の特色にふれながら、地図 2 から読みとれる農業に関するおもな土地利用に着目して説明しなさい。(5 点)

資料



- (2) 地図 2 から読みとれる内容を述べた文として下線部が正しいものを、次のア～オの中からすべて選び、その記号を書きなさい。(3 点)

ア A地点の高さとB地点の高さを比べると、B地点の方が高い。

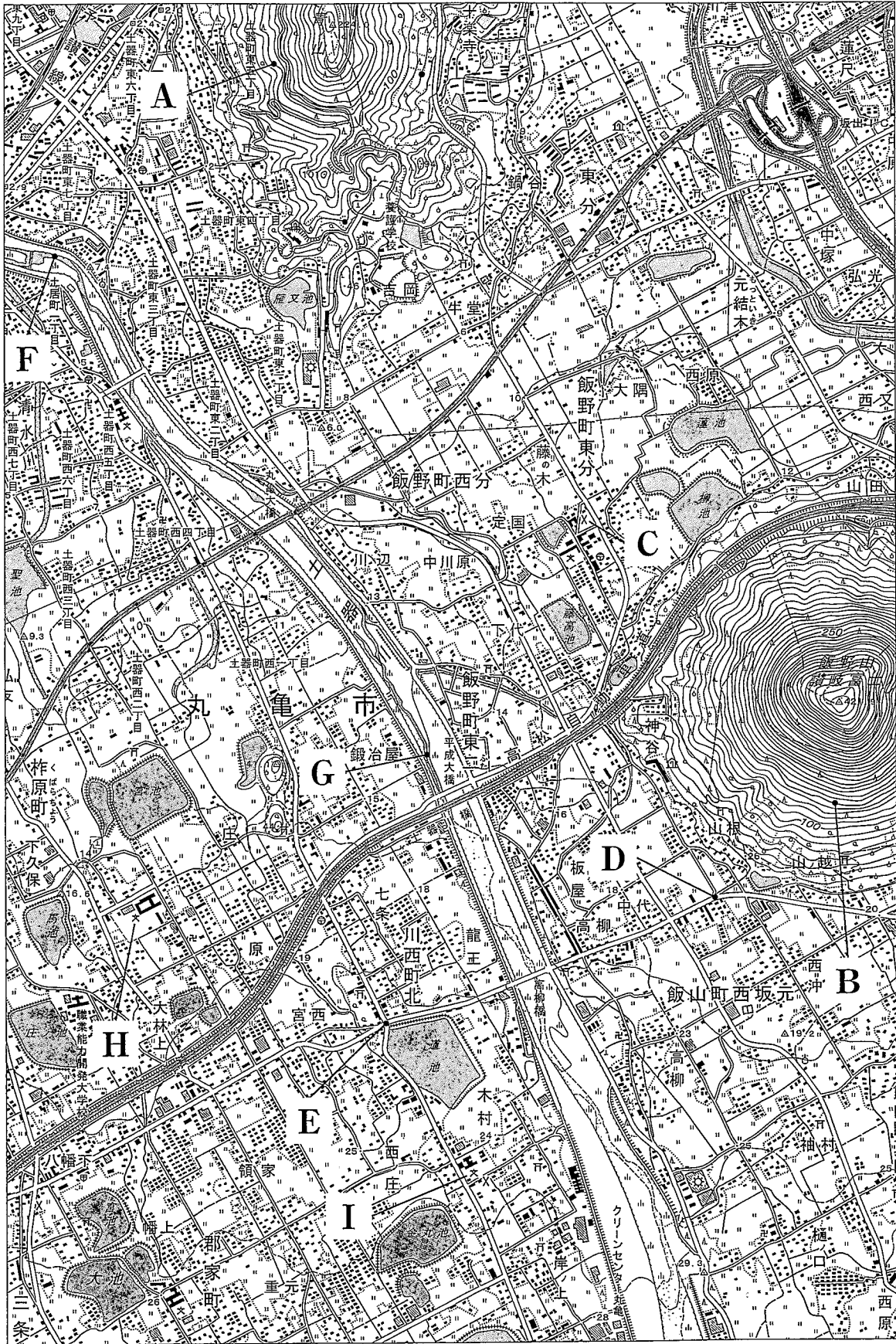
イ C地点には、消防署がある。

ウ D地点からE地点までの直線距離は、地図上で約 6 cm であり、実際の直線距離は約 1500 m である。

エ 土器川どきがわは、F地点からG地点に向かって流れている。

オ H地点の小・中学校からみると、I地点の小・中学校は、およそ南西の方向にある。

地図 2



(国土地理院 2万5千分の1地形図「丸亀」平成 24年発行一部改変)

3 次のⅠ～Ⅴは、Sさんが、5つの異なる時代の人物についてまとめたものです。これをみて、問1～問5に答えなさい。(16点)

Ⅰ	①中大兄皇子は、中臣鎌足らとともに蘇我蝦夷・入鹿の親子をたおし、新しい政治のしくみをつくる改革を始めた。
Ⅱ	②藤原道長は、四人の娘を天皇のきさきにするこゝで権力をにぎった。「この世をばわが世とぞ思う望月の欠けたることも無しと思えば」という歌は、道長の権力の強さを物語っている。
Ⅲ	③執権の北条泰時は、朝廷の律令とは別に、武士の社会で行われていた慣習にもとづいて <input type="text" value="A"/> を定めた。 <input type="text" value="A"/> は執権政治を進めるための法律であり、長く武士の法律の手本とされた。
Ⅳ	足利義満は、④南北朝の動乱をしずめて統一を実現させた。朝廷内部にも勢力を広げて太政大臣となって権力をにぎった。
Ⅴ	老中の水野忠邦は、幕府の力を回復させるため、⑤天保の改革を行った。儉約令を出して、町人の派手な風俗を取りしまったほか、物価の上昇をおさえるため株仲間の解散を命じた。


問1 下線部①の人物に関して述べた文として正しいものを、次のア～エの中から一つ選び、その記号を書きなさい。(2点)

- ア 蘇我氏や物部氏などの豪族がそれぞれの支持する皇子を大王にしようとして続いた争いを和らげるために即位し、おいの聖徳太子を摂政とした。
- イ 西日本の各地に山城を築いて、唐、新羅からの攻撃に備えるとともに、都を大津宮に移し、ここで即位して天皇となり、はじめて全国の戸籍をつくった。
- ウ 壬申の乱に勝って天皇となり、都をふたたび飛鳥に移して律令や歴史書の編さんを命じた。
- エ 仏教の力にたよって国家を守ろうと、国ごとに国分寺と国分尼寺を、都には東大寺を建て、東大寺に金銅の大仏をつくらせた。

問2 Sさんは、文化に興味をもち調べたところ、次のa、bの文と資料1、資料2をみつけました。下線部②の人物が権力をにぎった時代に栄えた文化について述べた文と、その時代の代表的な文化財の組み合わせとして正しいものを、表中のア～エの中から一つ選び、その記号を書きなさい。(2点)


- a 神話や伝承、記録などをもとにまとめた歴史書の「古事記」と「日本書紀」、地方の国ごとに、自然、産物、伝説などを記した「風土記」がつくられた。
- b 日本語の発音をあらわせるようにくふうした仮名文字が用いられ、紀貫之などが編集した「古今和歌集」や、紫式部の「源氏物語」、清少納言の随筆「枕草子」などが書かれた。

資料1



平等院鳳凰堂の  
阿弥陀如来像

資料2



唐招提寺の鑑真像

表

	文化	代表的な文化財
ア	a	資料1
イ	a	資料2
ウ	b	資料1
エ	b	資料2



問 3 IIIのまとめについて、次の(1)と(2)の問いに答えなさい。

(1) まとめの中の **A** にあてはまる語を書きなさい。(3点)

(2) 下線部③に関連して、北条氏が執権であった時代に起こった世界のできごとを述べた文として、その正誤の組み合わせが正しいものを、下のア～エの中から一つ選び、その記号を書きなさい。(2点)

X バスコ・ダ・ガマがアフリカ大陸南端の喜望峰をまわってインドにわたり、インドの物産を持ち帰った。  
 Y モンゴル帝国のフビライ・ハンは、都を大都(北京)に移し、国号を元と定めて皇帝となった。  
 Z イギリスでは、名誉革命によって、議会を尊重する国王が立てられ、「権利章典」が制定された。

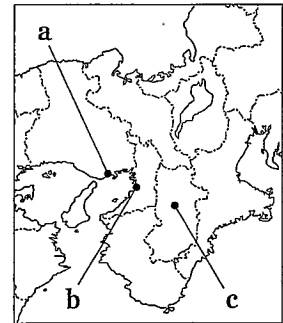
ア X 誤 Y 正 Z 誤                      イ X 正 Y 誤 Z 正  
 ウ X 正 Y 誤 Z 誤                      エ X 誤 Y 正 Z 正

問 4 次の文章は、下線部④についてまとめたものです。まとめの中の **P** と **P** の地図中の位置の組み合わせとして正しいものを、下のア～カの中から一つ選び、その記号を書きなさい。(2点)

まとめ

後醍醐天皇を中心とする、建武の新政が始まると、武士たちの間に不満が高まり、足利尊氏が兵をあげると、新政は2年ほどでくずれた。  
 尊氏は京都に新たに天皇を立て、後醍醐天皇が **P** にのがれたので、二つの朝廷が生まれた。京都方を北朝、**P** 方を南朝と呼び、この南北朝は全国の武士に呼びかけて戦った。南北朝の動乱が続いた約60年を南北朝時代という。

地図



ア P-堺      位置-a                      イ P-堺      位置-b  
 ウ P-堺      位置-c                      エ P-吉野      位置-a  
 オ P-吉野      位置-b                      カ P-吉野      位置-c

問 5 Sさんは、下線部⑤のときに、幕府の外国船への対応が変わったことを知り、このことについて調べたところ、次の資料1と資料2を見つけました。資料1と資料2をみて、幕府の外国船への対応の方針がどのように変わったかを、方針が変わる原因となった海外のできごとにふれながら、説明しなさい。(5点)

資料1 1825年に幕府が出した法令

どこの港でも、外国船が入港するのを見たなら、有無を言わず、いちずに打ち払え。逃亡したら追う必要はない。もし強引に上陸したら、つかまえるか、または打ち殺してもかまわない。  
 (『徳川禁令考』より一部要約)

資料2 1842年に幕府が出した法令

外国船が難破して漂流し、薪や水、食料を求めてきたとき、事情を考えず、いちずに打ち払っては失礼なので、よくようすを見て必要な品を与え、帰るように言い聞かせよ。ただし、上陸させてはならない。  
 (『徳川禁令考』より一部要約)

4 次の年表をみて、問1～問5に答えなさい。(15点)


西暦(年)	できごと
1877	・西南戦争が起こる……………
1894	・日清戦争が始まる……………
1914	・第一次世界大戦が始まる……………
1918	・原敬内閣が成立する……………
1939	・第二次世界大戦が始まる……………
1951	・サンフランシスコ平和条約が結ばれる……………
1955	・アジア・アフリカ会議が開かれる……………
1973	・石油危機が起こる……………

問1 次のア～エは、年表中Aの時期のできごとについて述べた文です。年代の古い順に並べかえ、その順に記号で書きなさい。(3点)

ア 天皇が国民にあたえるという形で大日本帝国憲法が発布された。  
 イ 大隈重信を党首とする立憲改進黨が結成された。  
 ウ 全国の代表者が大阪に集まって国会期成同盟を結成し、国会の開設を求めた。  
 エ 衆議院議員選挙が初めて行われ、第1回帝国議会在開かれた。

問2 次の文章は、年表中Bの時期のインドの民族運動についてまとめたものです。まとめの中の  と  にあてはまる語の組み合わせとして正しいものを、下のア～エの中から一つ選び、その記号を書きなさい。(2点)

まとめ

<p>第一次世界大戦後も列強による植民地支配が続いたアジアやアフリカでは、民族の独立をめざす運動が高まった。インドでは、第一次世界大戦に協力すれば自治を認めるという約束を <input type="text" value="X"/> が守らなかったため、非暴力・不服従を唱える <input type="text" value="Y"/> の指導により、完全な自治を求める運動が高まった。右の資料は、<input type="text" value="X"/> の機械や製品を使わないという姿勢をみせるために、インドの伝統的な方法である糸車で自ら糸をつむぐ <input type="text" value="Y"/> の様子である。</p>	<p>資料</p> 
---	--

- ア X-イギリス Y-ネルー      イ X-イギリス Y-ガンディー  
 ウ X-アメリカ Y-ガンディー      エ X-アメリカ Y-ネルー

問 3 年表中Cに関連して、本格的な政党内閣といわれる原敬内閣の特色を、次のグラフと表のそれぞれから読みとれることをもとに、グラフと表の中の **P** にあてはまる政党名を用いて書きなさい。(5点)

グラフ 原敬内閣成立時の衆議院議員の所属政党別割合

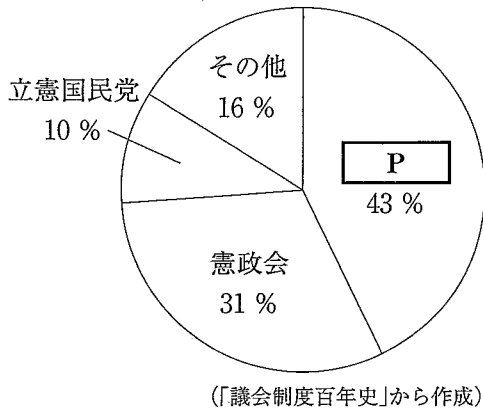


表 原敬内閣成立時の大臣の所属政党など

大臣名	所属政党など
内閣総理大臣	<b>P</b>
外務大臣	官僚
内務大臣	<b>P</b>
大蔵大臣	<b>P</b>
陸軍大臣	陸軍
海軍大臣	海軍
司法大臣	<b>P</b>
文部大臣	<b>P</b>
農商務大臣	<b>P</b>
ていしん 通信大臣	<b>P</b>

(首相官邸ホームページなどから作成)

問 4 年表中Dの時期における日本の政治や社会の様子を述べた文として正しいものを、次のア～エの中から一つ選び、その記号を書きなさい。(2点)

- ア 農地改革が行われ、地主が持つ小作地を政府が強制的に買い上げて、小作人に安く売りわたしたため、多くの自作農が生まれた。
- イ 蝦夷地を北海道と改め、開拓使という役所を置いて、統治を強化するとともに、農地の開墾、鉄道や道路の建設など、開拓事業を進めた。
- ウ 政府は、近代化を進めるためには、教育によって国民の知識を高める必要があると考え、小学校から大学までの学校制度を定めた学制を公布した。
- エ 関東大震災で経済が大きな打撃を受け、その後の混乱から、多くの銀行が休業、倒産する金融恐慌に見舞われた。

問 5 次の文章は、年表中Eの時期における日本の経済の様子についてまとめたものです。まとめの中の **Q** にあてはまる語を書きなさい。(3点)

まとめ

日本経済は、1950年代の中ごろから20年近くにわたって、大きく発展した。これを **Q** という。しかし、1973年の石油危機によって世界の経済は大きな打撃を受け、日本でも **Q** が終わった。 **Q** によって国民の所得は増え、くらしが便利になる一方、さまざまな社会問題が生み出され、公害問題も深刻化した。

5 Kさんのクラスでは、公民的分野の学習のまとめとして、自分の興味のある分野からテーマを選び、調べることになりました。次の表1は、Kさんが興味をもった分野とテーマについてまとめたものです。表1をみて、問1～問7に答えなさい。(24点)

表1

分野	テーマ
憲法が保障する① <u>基本的人権</u>	・人権はどのようなときに制限されるのか。
② <u>民主主義</u> と日本の政治	・③ <u>国会</u> ではどのようにして審議が行われているのか。
④ <u>地方自治</u> と住民の参加	・地域の政治はどのようなしくみで行われているのか。
財政と政府の役割	・⑤ <u>日本の財政</u> はどのような課題を抱えているのか。
消費生活と市場経済	・⑥ <u>消費者を守る制度</u> にはどのようなものがあるのか。
国際社会と国家	・⑦ <u>国際連合</u> はどのような役割をはたしているのか。

問1 下線部①に関連して、日本国憲法では基本的人権が保障されています。しかし、「公共の福祉」によって人権が制限される場合もあります。Kさんは、このことについて調べ、次の表2をつくりました。表2中の  ～  にあてはまる語の組み合わせとして正しいものを、下のア～カの中から一つ選び、その記号を書きなさい。(3点)

表2 人権保障と「公共の福祉」による人権の制限の例

<input type="text" value="I"/>	感染症による入院措置
集会・結社の自由	デモの規制
<input type="text" value="II"/>	選挙運動の制限
職業選択の自由	無資格者の営業禁止
<input type="text" value="III"/>	不備な建築の禁止
労働基本権	公務員のストライキ禁止

- |   |              |               |                |
|---|--------------|---------------|----------------|
| ア | I - 財産権の保障   | II - 表現の自由    | III - 居住・移転の自由 |
| イ | I - 財産権の保障   | II - 居住・移転の自由 | III - 表現の自由    |
| ウ | I - 居住・移転の自由 | II - 表現の自由    | III - 財産権の保障   |
| エ | I - 居住・移転の自由 | II - 財産権の保障   | III - 表現の自由    |
| オ | I - 表現の自由    | II - 財産権の保障   | III - 居住・移転の自由 |
| カ | I - 表現の自由    | II - 居住・移転の自由 | III - 財産権の保障   |

問 2 Kさんは、下線部②に関連して、衆議院議員選挙について調べ、次のようにまとめました。

まとめの中の **A** と **B** にあてはまる語を、それぞれ書きなさい。(各2点)

まとめ

現在、日本では、衆議院議員の選挙(総選挙)は、**A** 制(定数 289)と、全国を 11 のブロックに分けて行う **B** 制(定数 176)とを組み合わせた選挙制度が採られています。

次の資料 1 と資料 2 は、衆議院議員選挙の投票用紙を模式的にあらわしたもので、資料 1 は **A** 制の、資料 2 は **B** 制の投票用紙です。

資料 1

候補者氏名	<p style="text-align: center;">第四十八回 衆議院( <b>A</b> ) 選出)議員選挙投票</p> <p style="text-align: center;">○ 注 意</p> <p>一 候補者の氏名は、欄内に一人書くこと。 二 候補者でない者の氏名は、書かないこと。</p>	印
		印

資料 2

政党その他の政治団体の名称又は略称	<p style="text-align: center;">第四十八回 衆議院( <b>B</b> ) 選出)議員選挙投票</p> <p style="text-align: center;">○ 注 意</p> <p>政党その他の政治団体の名称又は略称は、欄内に一つ書くこと。</p>	印
		印

問 3 下線部③に関連して、法律案の議決において、衆議院で可決後、参議院で否決された法律案が、法律として成立するのは、衆議院と参議院のどちらの議院において、どのような条件で再可決したときですか。「出席議員」という語を用いて書きなさい。(4点)


問 4 Kさんは、下線部④に関連して、地方議会について調べ、次のようにまとめました。まとめの中の **P** にあてはまる語を書きなさい。(3点)

まとめ

地方議会は、地方公共団体独自の法である **P** を定めたり、予算を議決したりします。  
**P** は、地方公共団体が法律の範囲内で自由に制定できます。右の資料は、金沢市のひがし茶屋街<sup>ちややがい</sup>で、金沢市の **P** により景観が保全されています。

資料

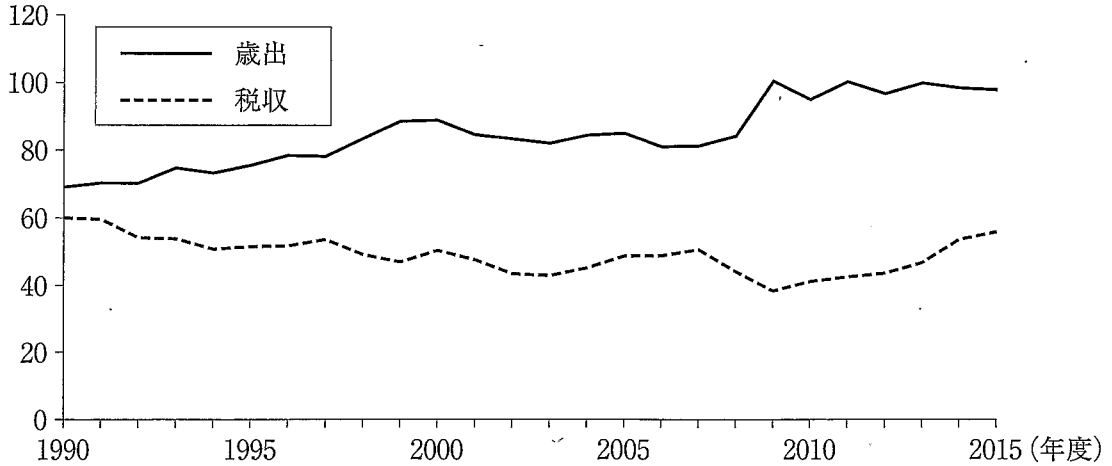
\* 金沢市より提供



問 5 Kさんは、下線部⑤について調べ、国の一般会計における歳出と税収を示したグラフをつくりました。グラフをみて、政府が国債を発行する目的を、「歳出」と「税収」という二つの語を用いて書きなさい。(4点)

グラフ

(兆円)



(財務省「日本の財政関係資料」から作成)

問 6 下線部⑥について、次のX～Zの正誤の組み合わせとして正しいものを、下のア～エの中から一つ選び、その記号を書きなさい。(3点)

X 政府のさまざまな省庁に分かれていた消費者行政を一元化し、消費者問題に取り組む官庁として、公正取引委員会が設置された。

Y 欠陥商品によって消費者が被害を受けたときの企業の責任について定めた消費者契約法が制定された。

Z 訪問販売などによって商品を購入した場合、一定期間内であれば、理由に関わりなく契約を解除できるクーリング・オフ制度が定められた。

- |   |     |     |     |   |     |     |     |
|---|-----|-----|-----|---|-----|-----|-----|
| ア | X 正 | Y 誤 | Z 誤 | イ | X 誤 | Y 正 | Z 正 |
| ウ | X 誤 | Y 誤 | Z 正 | エ | X 正 | Y 正 | Z 誤 |

問 7 Kさんは、下線部⑦に関連して、2015年と2016年における国連予算の分担率の上位10か国を調べ、次の表3をつくりました。表3中の **Q** には安全保障理事会の常任理事国があてはまります。 **Q** にあてはまる国名を書きなさい。(3点)



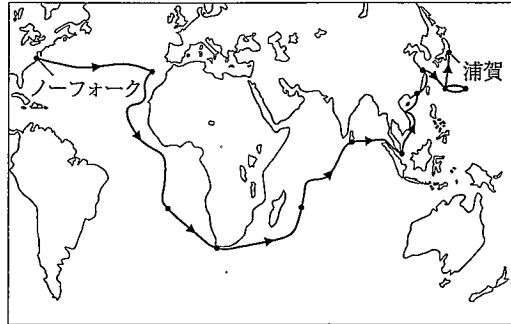

表 3

国連予算分担率(2015年)		
順位	国名	分担率
1	アメリカ	22.00%
2	日本	10.83%
3	ドイツ	7.14%
4	フランス	5.59%
5	イギリス	5.18%
6	<b>Q</b>	5.15%
7	イタリア	4.45%
8	カナダ	2.98%
9	スペイン	2.97%
10	ブラジル	2.93%

国連予算分担率(2016年)		
順位	国名	分担率
1	アメリカ	22.00%
2	日本	9.68%
3	<b>Q</b>	7.92%
4	ドイツ	6.39%
5	フランス	4.86%
6	イギリス	4.46%
7	ブラジル	3.82%
8	イタリア	3.75%
9	ロシア	3.09%
10	カナダ	2.92%

(外務省ホームページから作成)

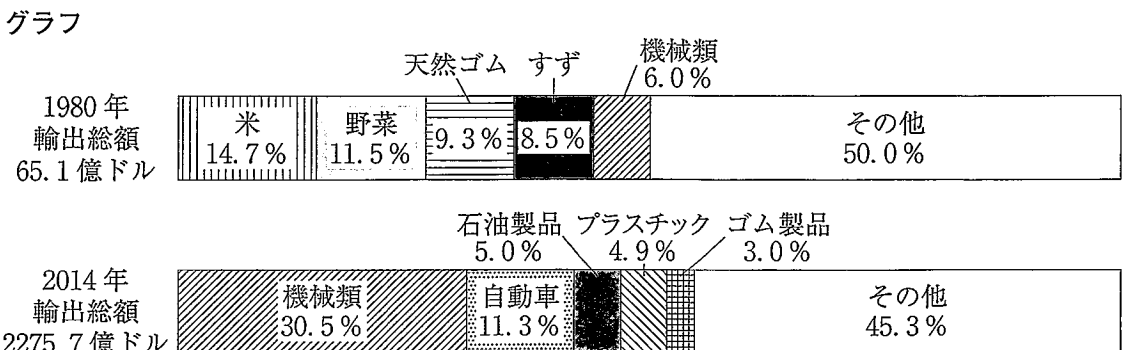
6 Hさんは、歴史的分野で学習した船について興味をもち、次の資料A～資料Dをつくりました。これをみて、問1～問4に答えなさい。(15点)

<p><b>資料A 遣唐使船</b></p>  <p>唐の制度や文化を取り入れようと、朝廷はたびたび①遣唐使を送ったので、都を中心に、仏教と唐の文化の影響を強く受けた国際的な文化が栄えました。</p> <p style="text-align: center;">広島市より提供</p>	<p><b>資料B 朱印船</b></p> <div style="border: 1px solid black; padding: 5px; width: fit-content; margin-bottom: 10px;"> <p>著作権法上の都合により、掲載しておりません</p> </div> <p>朱印船貿易により、東南アジア産の染料や象牙も日本に輸出されました。また、多くの日本人が海外へ移住し、東南アジアの各地には②日本町ができました。</p>
<p><b>資料C 黒船</b></p>  <p>アメリカの③ノーフォークを出航したペリーは、4隻の軍艦を率いて浦賀に来航し、日本の開国を求める④大統領の国書を、江戸幕府に差し出しました。</p>	 <p style="text-align: center;">ペリーの航路</p>
<p><b>資料D エルトゥールル号</b></p>  <p>和歌山県沖で沈没した⑤トルコの軍艦で、乗組員への救助活動が、日本とトルコの友好関係につながりました。</p>	

問1 次の文章は、下線部①に関する人物について述べたものです。文章中の X にあてはまる人物名を書きなさい。(3点)

9世紀のはじめ、遣唐使とともに唐にわたった X と空海は、仏教の新しい宗派を日本に伝えました。天台宗を伝えた X は、比叡山に延暦寺を建て、真言宗を伝えた空海は、高野山に金剛峯寺を建てました。

問2 下線部②に関連して、Hさんは、最大の日本町があったとされる、タイの貿易について調べ、次のグラフをつくりました。グラフは、1980年と2014年のタイの輸出総額と輸出品の総額に占める割合(上位5品目)を示したものです。グラフを読みとり、タイの輸出がどのように変化したかを、輸出総額と輸出品の特色に着目して書きなさい。(5点)



(世界国勢図会 2016/17年版などから作成)



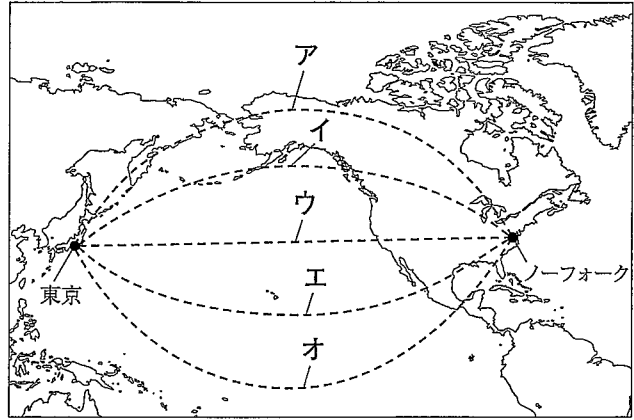
問 3 資料Cに関連して、次の(1)と(2)に答えなさい。

- (1) 下線部③に関連して、東京からの距離と方位が正しくあらわされた地図1をみて、東京とノーフォークの最短ルートとして最も適切なものを、地図2中のア～オの中から一つ選び、その記号を書きなさい。(2点)

地図1



地図2



- (2) 下線部④に関連して、次のア～エは、アメリカの大統領が関係するできごとについて述べた文です。年代の古い順に並べかえ、その順に記号で書きなさい。(3点)

ア アメリカのブッシュ大統領とソ連のゴルバチョフ共産党書記長が、地中海のマルタ島で会談し、冷戦の終結を宣言した。

イ 世界恐慌に対して、アメリカでは、それまでの経済政策を変えて、ルーズベルト大統領のもと、ニューディール(新規まき直し)という政策がとられた。

ウ ケネディ大統領は、ソ連がキューバで核ミサイル基地を建設していることを知ると、キューバの海上封鎖にふみきり、米ソ間の核戦争の危機が高まったが、ソ連がミサイルの撤去を発表し、危機は回避された。

エ 民族自決を唱えていたウィルソン大統領の提案にもとづき、世界平和と国際協調のための国際連盟が誕生した。

- 問 4 下線部⑤に関連して、Hさんは、トルコの世界遺産について調べ、次のようにまとめました。まとめの中の  にあてはまる語を書きなさい。(2点)


まとめ

右の資料は、アヤ・ソフィア大聖堂で、正教会の大聖堂が、イスラム教のモスクに転用されて四つの塔が加わり、現在は宗教的融和を象徴する世界遺産です。

世界遺産とは、 の世界遺産リストに登録された、人類共通の遺産として次の世代に残しておきたい文化財や自然です。世界遺産の登録や保護を行っている

は、文化・教育の振興に取り組んでいる国連の専門機関の一つです。

資料



(以上で問題は終わりです。)

社 会 解 答 用 紙 (1)

1

--

問 1 ※		
問 2 ※		
問 3 ※		
問 4 ※		
問 5 ※		

2

--

問 1 ※			山脈
問 2 ※			
問 3 ※			
問 4 ※	(1)		
	(2)		

3

--

問 1 ※		
問 2 ※		
問 3 ※	(1)	
	(2)	
問 4 ※		
問 5 ※		

1～3の計

受検番号	第	番
------	---	---

(もしはなしてはいけません)

(ここには何も書いてはいけません)

社 会 解 答 用 紙 (2)

4

--

問 1 ※	→                      →                      →
問 2 ※	
問 3 ※	
問 4 ※	
問 5 ※	

5

--

問 1 ※					
問 2 ※	<table border="1" style="width: 100%;"> <tr> <td style="width: 10%; text-align: center;">A</td> <td style="width: 80%;"></td> <td style="width: 10%; text-align: center;">B</td> <td style="width: 10%;"></td> </tr> </table>	A		B	
A		B			
問 3 ※					
問 4 ※					
問 5 ※					
問 6 ※					
問 7 ※					

6

--

問 1 ※					
問 2 ※					
問 3 ※	<table border="1" style="width: 100%;"> <tr> <td style="width: 10%; text-align: center;">(1)</td> <td style="width: 80%;"></td> </tr> <tr> <td style="width: 10%; text-align: center;">(2)</td> <td style="width: 80%; text-align: center;">→                      →                      →</td> </tr> </table>	(1)		(2)	→                      →                      →
(1)					
(2)	→                      →                      →				
問 4 ※					

1～3の計

得 点		※
-----	--	---

受 検 番 号	第	番
---------	---	---