

1 次の文章を読み、あとの(1)~(4)の問いに答えなさい。

千葉市にある加曽利貝塚は、国内最大級の縄文時代の貝塚であり、文部科学大臣により国の特別史跡に指定されています。貝塚は、貝がらや食べ物の残りがすなどの捨てられたものが積もってできたところで、当時の人々の暮らしを知ることができます。



- (1) 下線部 a に関連して、次の文章は、縄文時代の日本列島の様子についてまとめたものの一部である。文章中の  I  ,  II  にあてはまる語の組み合わせとして最も適当なものを、あとのア~エのうちから一つ選び、その符号を書きなさい。

今から約1万年前に氷期が終わると、海面が  I  し、日本列島は、ほぼ現在の姿になった。気候は  II  になり、食料となるシカ・イノシシなどの動物や木の実などが豊かになった。

ア I : 上昇 II : 温暖

イ I : 下降 II : 温暖

ウ I : 上昇 II : 寒冷

エ I : 下降 II : 寒冷

- (2) 下線部 b に関連して、次の文章は、内閣について述べたものである。文章中の  に共通してあてはまる適当な語を漢字4字で書きなさい。

内閣は、内閣総理大臣と国务大臣で組織される。内閣総理大臣は、 の中から国会の議決で指名され、国务大臣は、内閣総理大臣によって任命される。国务大臣の過半数は  でなければならない。

- (3) 下線部 c に関連して、次の文は、日本の食料自給率について述べたものである。文中の  にあてはまることばとして最も適当なものを、あとのア~エのうちから一つ選び、その符号を書きなさい。

現在、貿易の自由化が進み、海外から輸入される  ことなどのため、食料自給率が低くなっている。

ア 価格の高い農産物が増えた

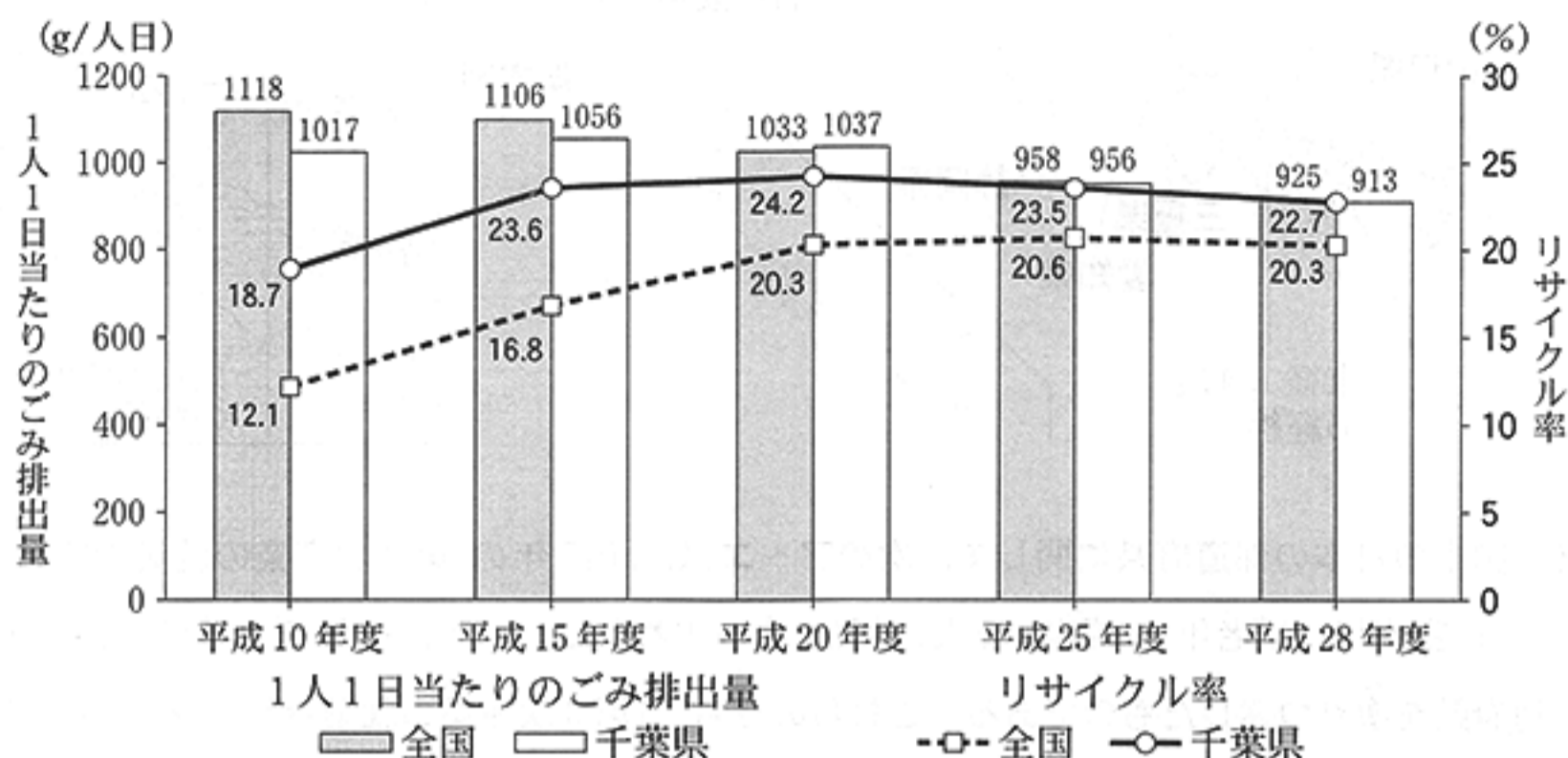
イ 価格の安い農産物が増えた

ウ 価格の高い農産物が減った

エ 価格の安い農産物が減った

- (4) 下線部 d に関連して、次の資料 1、資料 2 は、社会科の授業で、さくらさんが、ごみ排出量とリサイクル率についてまとめるために用意したものである。資料 1、資料 2 から読み取れることとして最も適当なものを、あとのア～エのうちから一つ選び、その符号を書きなさい。

資料 1 1 人 1 日当たりのごみ排出量及びリサイクル率の推移



(注) g/人日は 1 人 1 日当たりのごみ排出量を表す単位。

資料 2 平成 10 年度及び平成 28 年度の 1 人 1 日当たりのごみ排出量の内訳 (g/人日)

	全国の 1 人 1 日当たりのごみ排出量		千葉県の 1 人 1 日当たりのごみ排出量	
	生活系ごみ	事業系ごみ	生活系ごみ	事業系ごみ
平成 10 年度	736	382	738	279
平成 28 年度	646	278	654	259

(注) 生活系ごみと事業系ごみを足しても、1 人 1 日当たりのごみ排出量にならない場合がある。

(資料 1、資料 2 とも、「環境省ホームページ」より作成)

- ア 平成 10 年度、平成 15 年度、平成 20 年度、平成 25 年度及び平成 28 年度における全ての年度で、1 人 1 日当たりのごみ排出量は千葉県が全国より少なく、平成 10 年度及び平成 28 年度の 1 人 1 日当たりの事業系ごみ排出量も千葉県が全国より少ない。
- イ 平成 10 年度、平成 15 年度、平成 20 年度、平成 25 年度及び平成 28 年度における全ての年度で、リサイクル率は千葉県が全国より高く、平成 10 年度及び平成 28 年度の 1 人 1 日当たりの生活系ごみ排出量は千葉県が全国より少ない。
- ウ 平成 10 年度と平成 28 年度を比較すると、1 人 1 日当たりのごみ排出量、1 人 1 日当たりの生活系ごみ排出量及び 1 人 1 日当たりの事業系ごみ排出量における千葉県と全国の差は小さくなっている。
- エ 平成 10 年度と平成 28 年度を比較すると、リサイクル率における千葉県と全国の差は小さくなり、1 人 1 日当たりのごみ排出量に占める生活系ごみと事業系ごみの割合は、千葉県では事業系ごみの割合が高まっている。

2 次の図を見て、あとの(1)~(4)の問いに答えなさい。



(1) 下の拡大図は、図中の東経134度の経線が通過する地域を示している。東経134度の経線が通過する県のうち、県名と県庁所在地名が異なる県の、県庁所在地名を漢字で書きなさい。



(2) 図中の日本の都道府県に関して、次のア~エは、2015年の「第3次産業の就業者割合」「面積」「人口密度」及び「老年(65歳以上)人口割合」のいずれかについて、それぞれ数値の高い上位8都道府県を塗りつぶしたものである。これらのうち、「第3次産業の就業者割合」を示すものはどれか。最も適当なものを一つ選び、その符号を書きなさい。

ア

イ

ウ

エ



(「データでみる県勢2018年版」などより作成)

(3) 図中の静岡県、愛知県、岐阜県及び三重県の工業に関して述べた、次のA~Dの文中の  ~  には、あとのア~エのいずれかがあてはまる。これらのうち  にあてはまるものはどれか。最も適当なものを一つ選び、その符号を書きなさい。

- A 豊田市周辺では、関連工場が集まり、地域全体で  の生産が行われている。
- B 陶磁器とうじきの生産地である多治見市周辺では、  の生産も盛んである。
- C 富士市周辺では、富士山麓さんろくの豊かな水を利用し、  の生産が盛んである。
- D 四日市市周辺には、工業製品の原材料を生産する  などが集まっている。

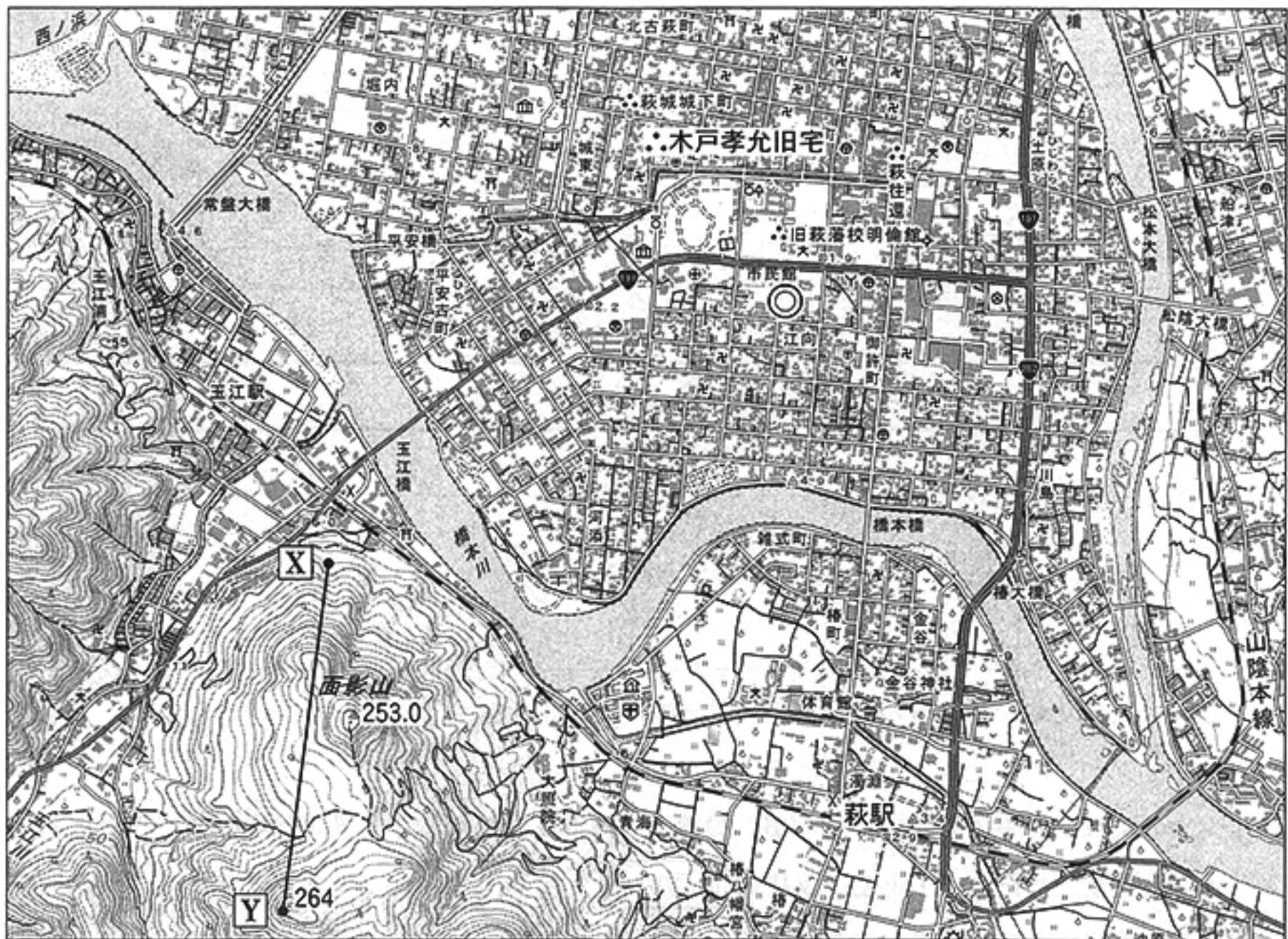
ア 石油化学コンビナート

イ 自動車

ウ ファインセラミックス

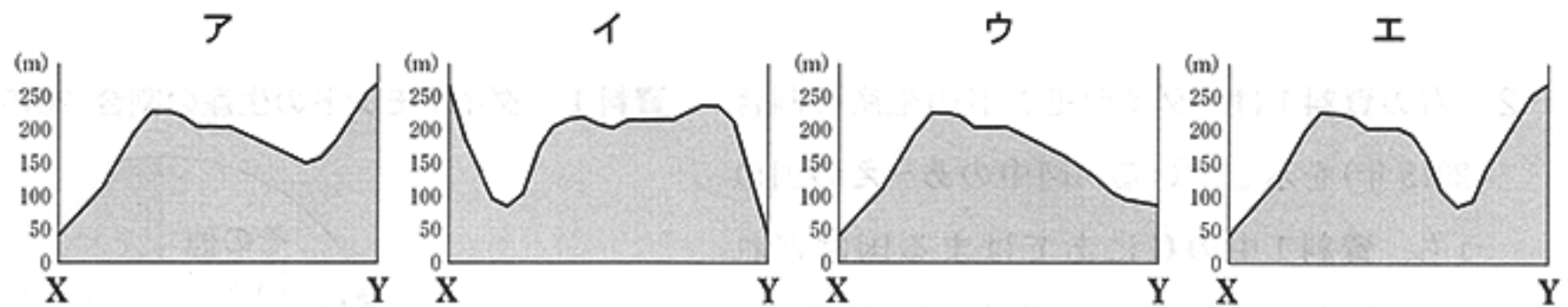
エ 紙製品やパルプ

(4) 次の地形図は、前のページの図中の山口県のある地域を示したものである。これを見て、あとの①、②の問いに答えなさい。



(国土地理院 平成26年発行 1:25,000「萩」原図より作成)

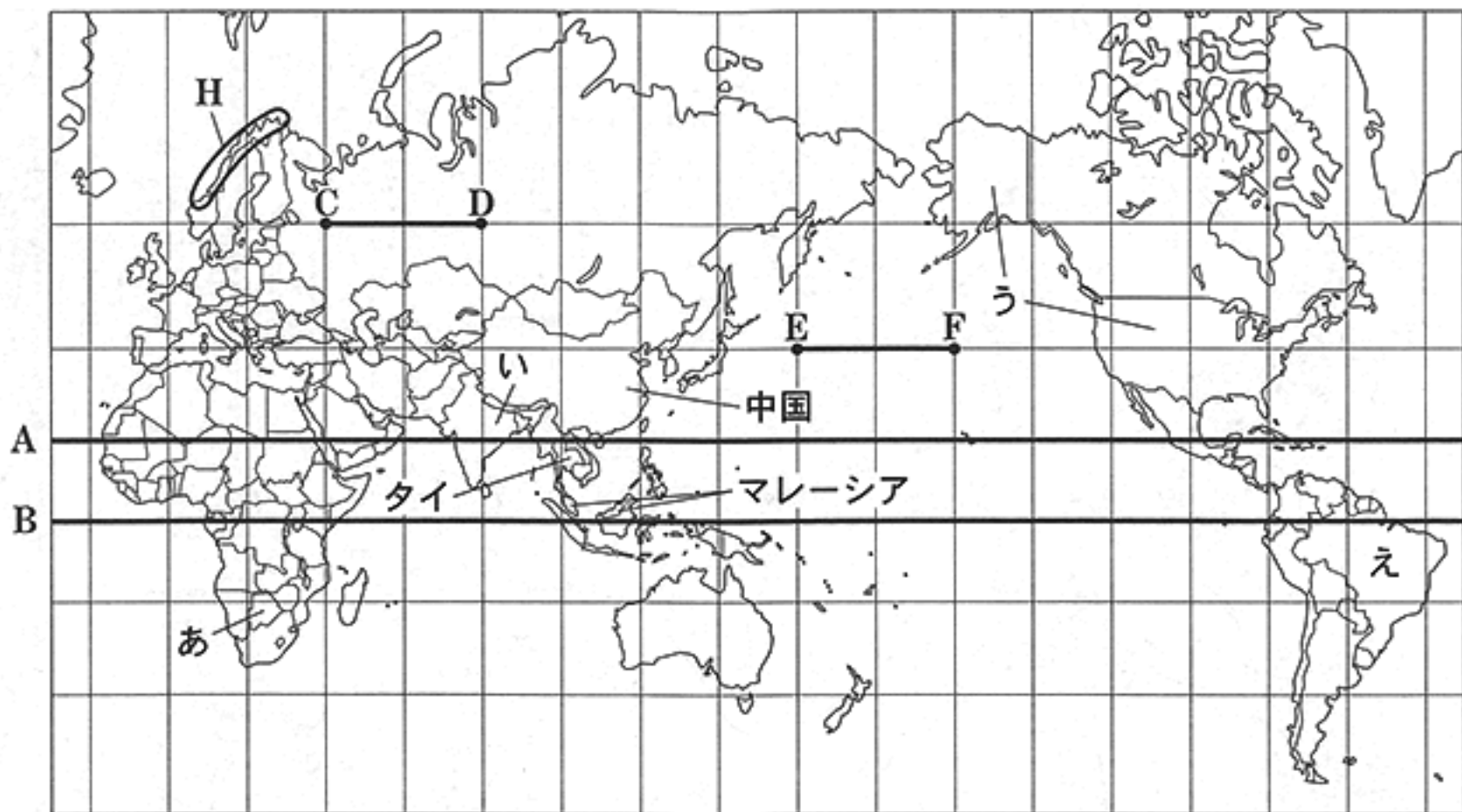
① 地形図中のX—Y間の土地の起伏を表しているものとして最も適当なものを、次のア～エのうちから一つ選び、その符号を書きなさい。



② 上の地形図を正しく読み取ったことがらとして最も適当なものを、次のア～エのうちから一つ選び、その符号を書きなさい。

- ア 木戸孝允旧宅は、市役所から見てほぼ北東の方向にある。
- イ 萩駅を中心とした半径250mの範囲内に病院がある。
- ウ 山地から流れ出る川によって運ばれた土砂がたまってできた扇状地がみられる。
- エ 面影山の東側の斜面には、果樹園がみられる。

3 次の図は、緯線と経線が直角に交わる地図である。これを見て、あとの(1)~(5)の問いに答えなさい。



(注) 島等は省略したものもある。また、国境に一部未確定部分がある。

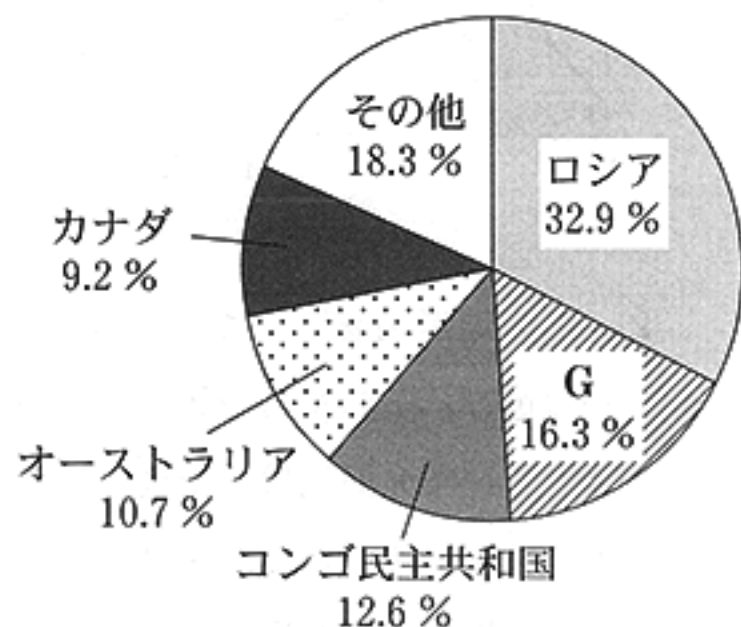
(1) 次の文は、図中の緯線 A、緯線 B、緯線の一部 CD 及び緯線の一部 EF について読み取れることがらをまとめたものである。文中の 、 にあてはまる語の組み合わせとして最も適当なものを、あとのア~エのうちから一つ選び、その符号を書きなさい。

赤道を示しているのは  であり、緯線の一部 CD と緯線の一部 EF は、地図上では同じ長さであるが、実際の距離が長いのは  である。

- ア I : 緯線 A II : 緯線の一部 CD      イ I : 緯線 A II : 緯線の一部 EF  
 ウ I : 緯線 B II : 緯線の一部 CD      エ I : 緯線 B II : 緯線の一部 EF

(2) 右の資料1は、ダイヤモンドの生産の割合(2015年)を示している。図中のあ~えの国のうち、資料1中のGにあてはまる国はどれか。最も適当なものを一つ選び、その符号を書きなさい。

資料1 ダイヤモンドの生産の割合(2015年)



(「世界国勢図会 2018/19」より作成)

- (3) 次の文は、前のページの図中の○で示したHの地域で見られる地形についてまとめたものの一部である。文中の□にあてはまる適当な語をカタカナで書きなさい。



ヨーロッパ北部の沿岸部には、右の写真のような、氷河によってけずられた谷に海水が深く入りこんだ□とよばれる奥行きのある湾がみられる。

- (4) 次の文は、前のページの図中の中国における農業の様子について述べたものである。文中のⅢ、Ⅳ、Ⅴにあてはまる語の組み合わせとして最も適当なものを、あとのア～エのうちから一つ選び、その符号を書きなさい。

東北・華北など降水量の少ない北部ではⅢが中心、華中・華南など降水量の多い南部ではⅣが中心、乾燥した西部(内陸部)ではⅤが中心となっている。

ア Ⅲ：畑作 Ⅳ：牧畜 Ⅴ：稲作

イ Ⅲ：稲作 Ⅳ：畑作 Ⅴ：牧畜

ウ Ⅲ：畑作 Ⅳ：稲作 Ⅴ：牧畜

エ Ⅲ：稲作 Ⅳ：牧畜 Ⅴ：畑作

- (5) 次の資料2は、前のページの図中のタイ及びマレーシアの輸出上位3品目(1980年及び2016年)を示している。あとの文章は、社会科の授業で、けんたさんが資料2を見て、まとめたレポートの一部である。文章中の□にあてはまる適当なことばを、10字以上20字以内(読点を含む。)で書きなさい。

資料2 タイ及びマレーシアの輸出上位3品目(1980年及び2016年)

タイの輸出上位3品目と割合(%)						
1980年	米	14.7	野菜・果実	14.2	天然ゴム	9.3
2016年	機械類	31.3	自動車	12.8	プラスチック	4.2

マレーシアの輸出上位3品目と割合(%)						
1980年	原油	23.8	天然ゴム	16.4	木材	14.1
2016年	機械類	41.4	石油製品	6.6	パーム油	4.8

(「世界国勢図会 2018/19」などより作成)

東南アジアの国々は、労働賃金の安さを生かして外国企業を受け入れてきました。工業化の進んだタイやマレーシアの主な輸出品目は、1980年と2016年を比べると、□に変化しています。

4 次の4枚のパネルは、社会科の授業で、班ごとに日本の歴史を分担して調べ、まとめたものの一歩である。これらをもとに、先生と生徒の会話文を読んで、あとの(1)~(5)の問いに答えなさい。

A班

[原始・古代]

縄文文化と弥生文化

大和政権(ヤマト王権)の成立

大化の改新

律令国家の成立

<sup>だいせん</sup>  
「大仙古墳  
(大山古墳)」



B班

[中世]

鎌倉幕府の成立

南北朝の動乱(内乱)

日明貿易(勘合貿易)

応仁の乱

<sup>わこう</sup>  
「倭寇図巻」



C班

[近世(江戸時代初期まで)]

長篠の戦い

<sup>たいこう</sup>  
太閤検地と刀狩

関ヶ原の戦い

大阪の陣(大阪夏の陣)

<sup>びょうぶ</sup>  
「長篠合戦図屏風」



D班

[近世(江戸時代)]

諸産業の発達

幕府政治の改革

外国船の来航

開国

「徳川吉宗」



先生：今回の学習では、班ごとに大きな時代区分を分担して、重要なことがらと特徴的な写真や絵をあげてもらいました。原始・古代を調べたA班は、律令国家の成立をあげていますね。それでは、701年につくられた律令国家のしくみを定めたものは何ですか。

A班：  です。

先生：よく調べていますね。次に、中世を調べたB班に質問します。日明貿易(勘合貿易)について当時の状況を含めて説明してください。

B班：

先生：そのとおりです。C班は近世を江戸時代初期まで調べました。戦いを多くあげていますね。それでは、大阪の陣(大阪夏の陣)はどのような結果をもたらしたできごとですか。

C班：  できごとです。

先生：よくできました。D班は近世の江戸時代を調べました。産業、政治、外交と様々なことがらをあげています。幕府政治の改革では徳川吉宗、松平定信、水野忠邦の改革が知られて<sup>d</sup>います。三人の改革に共通する特徴としては、どのようなことが言えますか。

D班：財政立て直しをめざし、政治の引きしめを行おうとしました。

先生：よくわかっていますね。個別のことがらを理解することと同時に、今回の学習のように歴史の大きな流れを把握することを心がけましょう。

(1) 会話文中の  にあてはまる適当な語を漢字4字で書きなさい。

(2) 会話文中の  について、その内容を述べた次の文章中の  にあてはまる適当なことばを、「倭寇」「勘合」の二つの語を用いて30字以内(読点を含む。)で書きなさい。

日明貿易とは、足利義満が明の求めに応じて  を持たせて、<sup>ちょうこう</sup>朝貢の形式で始めた貿易です。日本は銅・<sup>いおう</sup>硫黄・刀剣などを輸出し、明から銅銭や生糸などを輸入しました。

(3) 会話文中の  にあてはまることばとして最も適当なものを、次のア～エのうちから一つ選び、その符号を書きなさい。

ア 徳川家康が石田三成らの大名を破り、全国支配の実権をにぎった

イ 織田信長が鉄砲を効果的に活用した戦法で、武田勝頼に勝利した

ウ 豊臣氏が滅んで幕府の権力が固まり、徳川氏の全国支配が確立した

エ 豊臣秀吉が関東を支配する北条氏を滅ぼし、天下を統一した

(4) 会話文中の下線部 d について、次のア～エのうち、三人がそれぞれ行った改革の内容を三つ選び、年代の古いものから順に並べ、その符号を書きなさい。

ア 物価の上昇をおさえるため、株仲間に解散を命じた。

イ <sup>くじかたおさだめがき</sup>公事方御定書という法律を整え、裁判の基準をつくった。

ウ 公武合体策をとり、天皇の妹を將軍の夫人に迎えた。

エ 朱子学を重んじて幕府の正式な学問とし、人材育成をはかった。

(5) 前のページの4枚のパネルにあげられたことがらの中に、日本最初の年号(元号)とされるものを含んでいるものがある。この年号(元号)を含んだことがらと同じ世紀におこった世界のできごととして最も適当なものを、次のア～エのうちから一つ選び、その符号を書きなさい。

ア シャカが仏教を開いた

イ ムハンマドがイスラム教を始めた

ウ イエスが神の愛を説いた

エ ギリシャでポリス(都市国家)が生まれた



5 次の略年表は、19世紀半ば以降の日本の外交に関するできごとをまとめたものである。これを見て、あとの(1)~(5)の問いに答えなさい。

年代	主なできごと
1858	日米修好通商条約を結ぶ ↓ A
1894	甲午農民戦争が起こり出兵する ↓ B
1914	第一次世界大戦に参戦する ↓ C
1945	ポツダム宣言を受け入れて降伏する ↓ D
1972	日中共同声明に調印する ↓ E
1992	PKO 協力法が成立する

(1) 略年表中のAの時期に起こったことがらとして最も適当なものを、次のア~エのうちから一つ選び、その符号を書きなさい。

- ア 清は朝鮮の独立を認め、日本は台湾・<sup>リヤオトン</sup>遼東半島・<sup>ボンフー</sup>澎湖諸島と賠償金2億<sup>テール</sup>両を得た。  
 イ ワシントン会議において、海軍の軍備を制限する条約などが結ばれた。  
 ウ 樺太をロシア領、千島列島の全てを日本領とし、両国の国境を確定した。  
 エ 強い権限をもつ朝鮮総督府において、武力を背景に植民地支配を行った。

(2) 略年表中のBの時期に行われたできごとに関連し、次の文章中の  ,  にあてはまる人物名の組み合わせとして最も適当なものを、あとのア~エのうちから一つ選び、その符号を書きなさい。

ロシアとの戦争中に、  は「君死にたまふことなかれ」という詩をよんで、出兵した弟の身を案じた。日本は苦戦を重ねながら戦争を進め、  が指揮する海軍が日本海海戦に勝利したことを機に、アメリカの仲介によって講和条約を結んだ。

- ア I : 市川房枝 II : 東郷平八郎      イ I : 与謝野晶子 II : 東郷平八郎  
 ウ I : 市川房枝 II : 陸奥宗光      エ I : 与謝野晶子 II : 陸奥宗光

- (3) 次の文章は、略年表中のCの時期に起こった動きについて述べたものである。文章中の  に共通してあてはまる適当な語をカタカナ5字で書きなさい。

第一次世界大戦後のヨーロッパでは、  と呼ばれる政治運動が登場した。民主主義を否定して、個人よりも民族や国家を重視し、軍事力で領土を拡大しようとする独裁体制をとった。この  は、大衆の支持を得てイタリアやドイツで勢力を強めた。

- (4) 略年表中のDの時期に、日本人が初めてノーベル賞(物理学)を受賞した。その人物名として最も適当なものを、次のア～エのうちから一つ選び、その符号を書きなさい。

ア 湯川秀樹      イ 野口英世      ウ 北里柴三郎      エ 川端康成

- (5) 次の文章は、略年表中のEの時期に起こったことがらについて、社会科の授業で、かおりさんが書いたレポートの一部である。文章中の  I ,  II にあてはまる語の組み合わせとして最も適当なものを、あとのア～エのうちから一つ選び、その符号を書きなさい。

右の写真は1989年にアメリカのブッシュ大統領とソ連のゴルバチョフ共産党書記長が  I 会談で冷戦の終結を宣言したときのものです。冷戦が終わっても、民族や宗教の対立などから各地で地域紛争が起こり、中東では1991年に  II 戦争が勃発ぼっぱつしました。

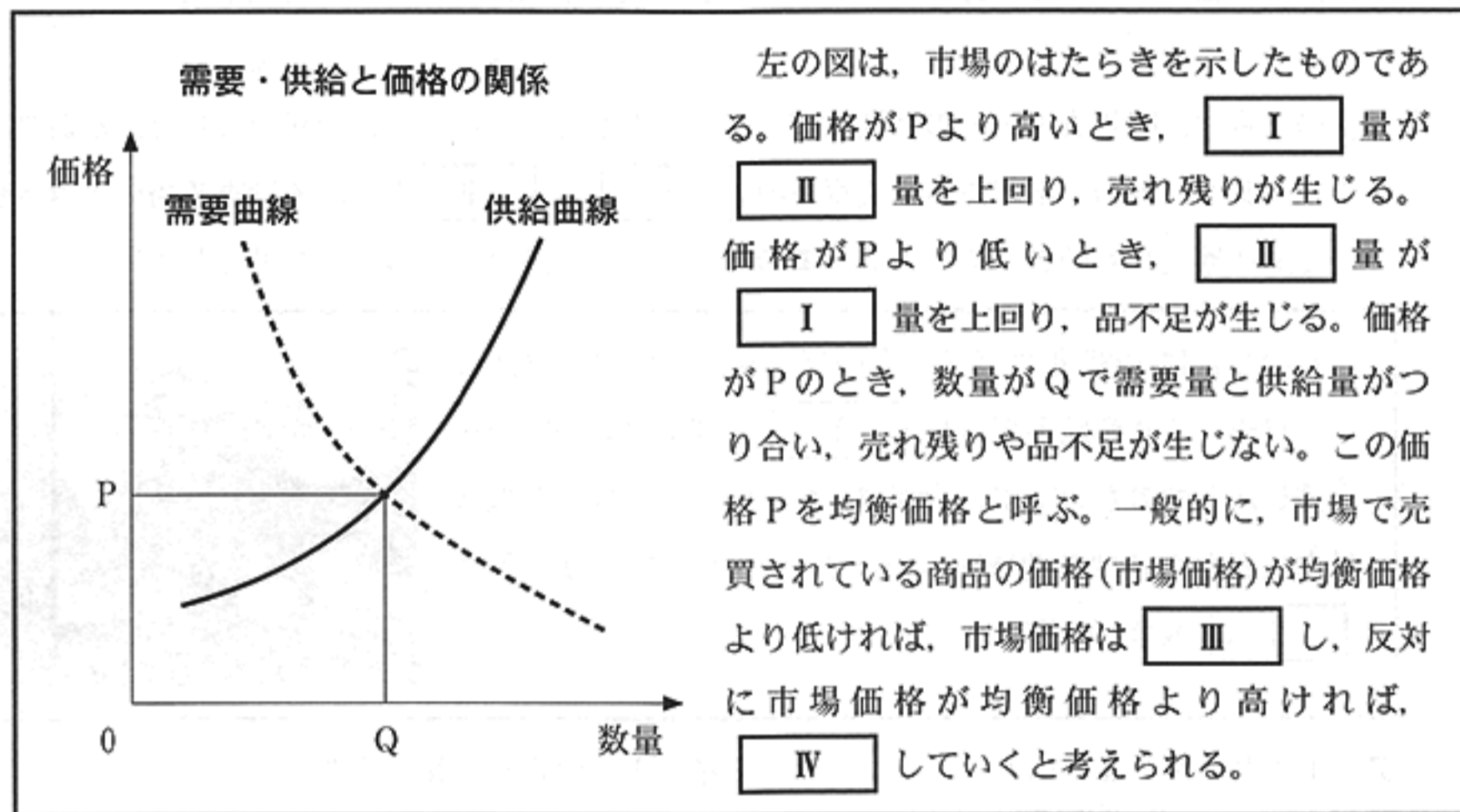


- ア I : ヤルタ    II : ベトナム      イ I : ヤルタ    II : 湾岸  
ウ I : マルタ    II : ベトナム      エ I : マルタ    II : 湾岸

6 次の文章を読み、あとの(1)~(3)の問いに答えなさい。

一般的に、市場経済では、市場のはたらきを通じて価格が調整され、資源が有効に利用されます。身近な商品の価格から為替相場(為替レート)にいたるまで、その決定には、市場が大きな役割を果たしています。しかし、市場に委ねるだけではうまくいかないこともあり、財政政策や社会保障など、政府は重要な役割を担っています。

(1) 下線部 a に関連して、次の文章は、市場のはたらきについて説明したものの一部である。文章中の  ~  にあてはまる語の組み合わせとして最も適当なものを、あとのア~エのうちから一つ選び、その符号を書きなさい。



- |   |        |         |          |         |
|---|--------|---------|----------|---------|
| ア | I : 需要 | II : 供給 | III : 上昇 | IV : 下落 |
| イ | I : 供給 | II : 需要 | III : 上昇 | IV : 下落 |
| ウ | I : 需要 | II : 供給 | III : 下落 | IV : 上昇 |
| エ | I : 供給 | II : 需要 | III : 下落 | IV : 上昇 |

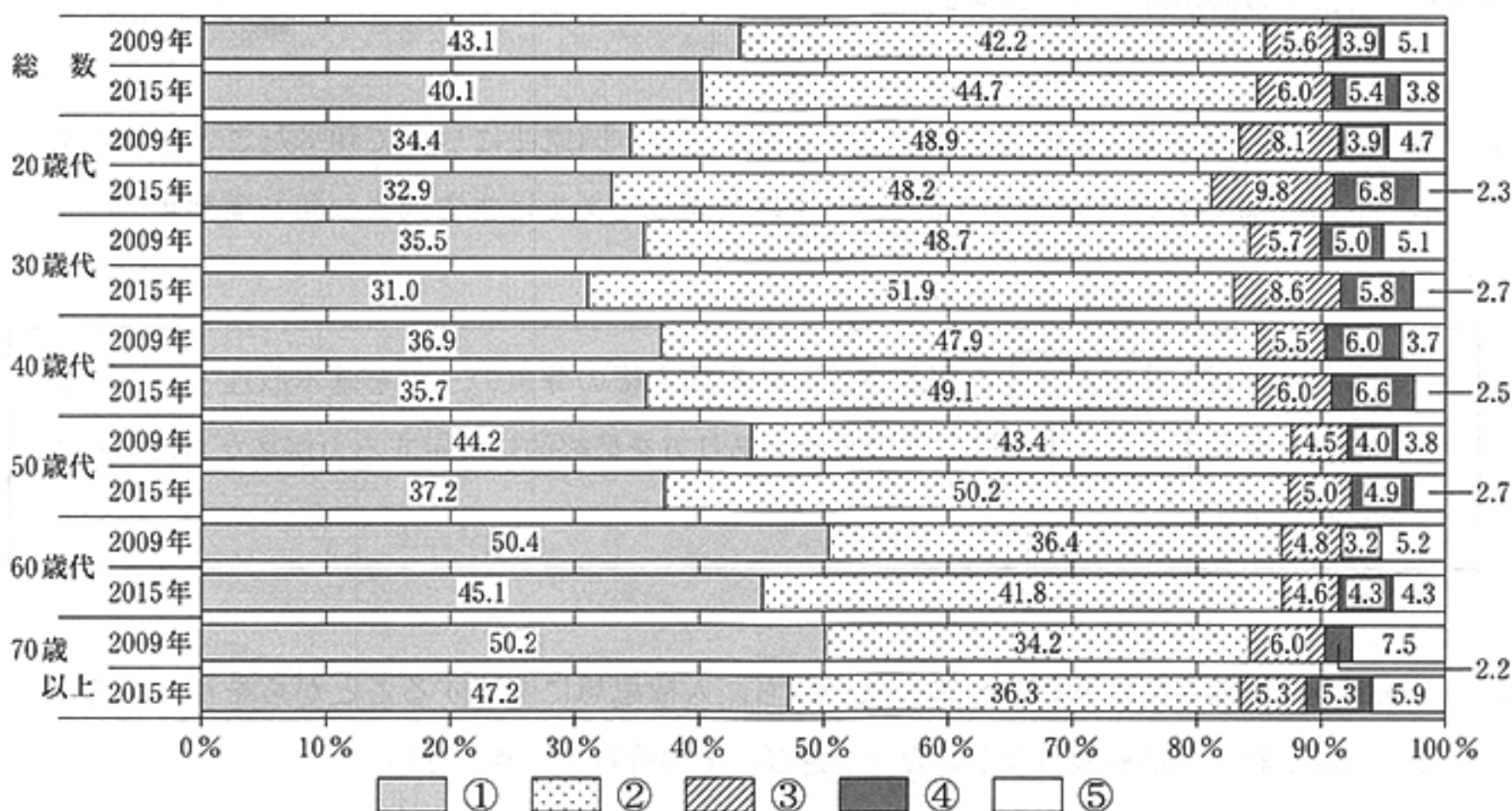
(2) 下線部 b に関連して、次の文章は、為替相場(為替レート)について述べたものの一部である。文章中の  にあてはまる適当な数字を書きなさい。

為替相場(為替レート)は、世界経済の状況で日々変化している。例えば、1ドル=100円の時、日本国内での価格が50万円の機械をアメリカに輸出すると、アメリカでの価格は5000ドルになる。その後、円安が進行して1ドル=125円になった場合、同じ機械のアメリカでの価格は  ドルとなり、以前よりも安くなるので、売り上げが伸びることが期待される。このように、円安は輸出には有利になると考えられる。

(注) ここでは、為替相場(為替レート)以外の影響を考えないものとする。

(3) 下線部 c に関連して、次の資料は、今後の老後の生活を支える年金給付等の在り方に関する年齢層別のアンケート結果を示したものである。この資料から読み取れることとして最も適当なものを、あとのア～エのうちから一つ選び、その符号を書きなさい。

資料 今後の老後の生活を支える年金給付等の在り方に関する年齢層別のアンケート結果



①公的年金に要する税や社会保険料の負担が増加しても、老後の生活は公的年金のみで充足できるだけの水準を確保すべき  
 ②公的年金を基本としつつも、その水準は一定程度抑制し、これに企業年金や個人年金、貯蓄などを組み合わせて老後に備えるべき  
 ③企業年金や個人年金、貯蓄などで老後に備えることを基本とするべき ④その他 ⑤不詳

(注) 公的年金とは国が管理・運営する年金のこと。企業年金や個人年金とは公的年金に加えて受け取ることができる年金のこと。四捨五入の関係で、合計しても100%にならない場合がある。

(厚生労働省「平成29年版厚生労働白書」より作成)

ア 2009年と2015年ともに、全ての年齢層で、「①公的年金に要する税や社会保険料の負担が増加しても、老後の生活は公的年金のみで充足できるだけの水準を確保すべき」と「②公的年金を基本としつつも、その水準は一定程度抑制し、これに企業年金や個人年金、貯蓄などを組み合わせて老後に備えるべき」の割合の合計が90%以上である。

イ 2009年と2015年とで、「③企業年金や個人年金、貯蓄などで老後に備えることを基本とするべき」の割合の変化を比べると、30歳以上の全ての年齢層で、2009年よりも2015年の方が割合が増加しており、変化の幅が最も大きいのは「40歳代」である。

ウ 「①公的年金に要する税や社会保険料の負担が増加しても、老後の生活は公的年金のみで充足できるだけの水準を確保すべき」の割合について、2009年と2015年を比較すると、全ての年齢層で、2015年の割合は減少しているが、2015年の割合を40歳以上の年齢層で見ると、年齢層が高くなるほど大きくなっている。

エ 「総数」を見ると、2009年と2015年ともに、「②公的年金を基本としつつも、その水準は一定程度抑制し、これに企業年金や個人年金、貯蓄などを組み合わせて老後に備えるべき」の割合が最も大きい。

7 次の文章を読み、あとの(1)~(3)の問いに答えなさい。

日本国憲法は、わが国の最高法規で、基本的人権や政治のしくみなどが定められています。

<sup>a</sup>これに基づいて、立法権を持つ国会、<sup>b</sup>行政権を持つ内閣、<sup>c</sup>司法権を持つ裁判所による三権分立がなされ、日本の政治が行われています。

- (1) 下線部 a に関連して、次の文章は、ただしさんが日本国憲法について調べたことをまとめたレポートの一部である。文章中の  に共通してあてはまる適当な語を漢字 4 字で書きなさい。

日本国憲法は、、平和主義、基本的人権の尊重の三つを基本原理としています。このうち、とは、国の政治のあり方を最終的に決定する力が私たちにあることを意味します。

- (2) 下線部 b に関連して、次のア~エの文のうち、人権思想に関連することがらを正しく述べているものはどれか。最も適当なものを一つ選び、その符号を書きなさい。

ア フランス人権宣言は、「すべての人は平等につくられ、生命・自由・幸福の追求の権利が与えられている」と宣言し、アメリカ独立宣言に影響を与えた。

イ 大日本帝国憲法において、「人権は侵すことのできない永久の権利である」と規定され、国民の権利が大幅に拡大された。

ウ ドイツのワイマール憲法は、「個人として尊重され自由に生きる権利」である自由権を、世界で初めて取り入れた憲法である。

エ 世界人権宣言は、「すべての人間は、生まれながらにして自由であり、かつ、尊厳と権利とについて平等である」と宣言し、これを具体化するために、国際人権規約が採択された。

- (3) 下線部 c に関連して、次の文章は、2009 年に始まった、裁判員制度のしくみの一部について述べたものである。文章中の  にあてはまる適当なことばを、「刑事裁判」「被告人」の二つの語を用いて 20 字以内(読点を含む。)で書きなさい。

裁判員制度は、国民が裁判員として  が有罪か無罪かを判断し、刑罰の内容を決める制度である。裁判員制度は、国民の感覚や視点が裁判に反映されると同時に、裁判に対する国民の意識が高められると期待されている。

8 次の文章を読み、あとの(1)、(2)の問いに答えなさい。

2018年7月、南アフリカ共和国のヨハネスブルグ(ヨハネスバーグ)において、新興5か国による首脳会議が開催され、自由貿易の重要性や発展へ向けた協力の必要性などが議論されました。  
10回目となるこの会議では、これまでも、課題の解決へ向けた様々な議論が行われてきました。

- (1) 下線部 a に関連して、次の文章は、近年の経済成長により世界経済で影響力を高めている国々について述べたものである。文章中の  にあてはまる適当な語をアルファベットの大文字5字で書きなさい。

21世紀に入ると、広大な国土と多くの人口や資源を持つ、ブラジル、ロシア連邦、インド、中国、南アフリカ共和国の5か国は、急速に経済成長した。これらの経済成長のいちじるしい国々は、 と呼ばれている。

- (2) 下線部 b に関連して、次の資料は、りゅうたさんがこの会議について調べたことをまとめたレポートの一部である。資料中の  I  ,  II  にあてはまる語の組み合わせとして最も適当なものを、あとのア～エのうちから一つ選び、その符号を書きなさい。

資料 りゅうたさんのレポートの一部

この会議で出された「ヨハネスブルグ(ヨハネスバーグ)宣言」の中で、「産業の発展、貧困の根絶など、アフリカにおける持続可能な開発を支援し、お互いに栄えるために、インフラを整備するための投資を積極的に行う」という内容が書かれた部分がありました。

宣言が出された背景の一つには、世界における経済格差の問題があると思います。発展途上国の中には、国の経済を特定の資源や作物の生産と輸出に依存する  I  経済の構造から抜け出せずにいる国や地域もあります。また、発展途上国どうしでの経済格差の問題もあります。経済発展をとげた国や地域と、経済発展から取り残され産業の発展や開発が遅れている国や地域があり、このような発展途上国どうしでの経済格差は  II  と呼ばれています。こうした問題を解決し、より良い世界を築くために、世界全体での協力の重要性を感じました。

(注) 「インフラ」とは、水道・電気・公共交通機関・情報通信網など、生活や産業発展の基礎となる施設・設備のこと。

- ア I : モノカルチャー II : 南北問題      イ I : グローバル II : 南北問題  
ウ I : モノカルチャー II : 南南問題      エ I : グローバル II : 南南問題

問題番号	正 解				配点及び注意	計								
1	(1)	ア				3	12							
	(2)	国会議員				3		・漢字4字指定						
	(3)	イ				3								
	(4)	エ				3								
2	(1)	高松(市)				3	・漢字指定	15						
	(2)	イ				3								
	(3)	ウ				3								
	(4)	①	ア	②	エ	各3								
3	(1)	エ				3	16							
	(2)	あ				3								
	(3)	フィヨルド				3		・カタカナ指定						
	(4)	ウ				3								
	(5)	資	源	や	農	産		物	か	ら	機	械	4	・正解文の趣旨にそって いれればよい。 ・部分点を与えてもよい。
4	(1)	大宝律令				3	・漢字4字指定	16						
	(2)	倭	寇	を	取	り	し		ま	り	,	正	4	・正解文の趣旨にそって いれればよい。 ・部分点を与えてもよい。
		式	な	貿	易	船	に		は	明	か	ら		
		与	え	ら	れ	た	勘		合					
	(3)	ウ				3								
(4)	年代の古い順	1	2	3	3	・全部できた場合、点 を与える。								
	符 号	イ	エ	ア										
(5)	イ				3									

問題番号	正解	配点及び注意	計	
5	(1) ウ	3	15	
	(2) イ	3		
	(3) ファシズム	3		・カタカナ5字指定
	(4) ア	3		
	(5) エ	3		
6	(1) イ	3	10	
	(2) 4000	4		
	(3) ウ	3		
7	(1) 国民主権	3	・漢字4字指定	10
	(2) エ	3		
	(3) 裁判官とともに刑事裁判に 参加し、被告人	4	・正解文の趣旨にそって いれよ。 ・部分点を与えてもよ い。	
8	(1) BRICS	3	・アルファベット大文字5 字指定	6
	(2) ウ	3		
合 計			100	