

1 次の文章を読み、あとの(1)～(3)の問いに答えなさい。

さつまいもは、享保の飢饉^{ききん}の対策に苦慮していた徳川吉宗の指示により試作栽培が行われて以降、^a関東地方に広まりました。^b千葉市花見川区幕張町と山武郡九十九里町には、さつまいもの試作地となったことを記した碑^ひが建てられています。現在では、さつまいもを利用した^cバイオマス発電も行われるなど、その利用方法は多岐^{たき}にわたっています。

(1) 下線部 a に関連して、次の表中の A～D は、それぞれさつまいもの栽培が盛んな茨城県、宮崎県、鹿児島県及び千葉県のいずれかを示している。表中の A～D が示す県の組み合わせとして最も適当なものを、あとのア～エのうちから一つ選び、その符号を書きなさい。

単位：(億円)

	石油・石炭製品 出荷額等(2016年)	ブロイラー (肉用若鶏) の産出額(2016年)	茶の産出額 (2016年)	野菜の産出額 (2016年)
A	60	584	166	616
B	780	38	3	2,150
C	46	730	18	771
D	22,323	55	0	1,927

(注) 単位に満たない場合は、「0」としている。

(農林水産省「2017年生産農業所得統計」及び経済産業省「2017年工業統計表」より作成)

- | | | | | |
|---|--------|--------|-------|-------|
| ア | A：鹿児島県 | B：茨城県 | C：宮崎県 | D：千葉県 |
| イ | A：茨城県 | B：鹿児島県 | C：宮崎県 | D：千葉県 |
| ウ | A：鹿児島県 | B：茨城県 | C：千葉県 | D：宮崎県 |
| エ | A：茨城県 | B：鹿児島県 | C：千葉県 | D：宮崎県 |

(2) 下線部 b に関連して、次のア～ウの文は、享保の飢饉以降の日本のできごとについて述べたものである。ア～ウを年代の古いものから順に並べ、その符号を書きなさい。

ア 天保の飢饉に苦しむ人々を見かねた大塩平八郎たちは、大阪で挙兵したが、鎮圧された。

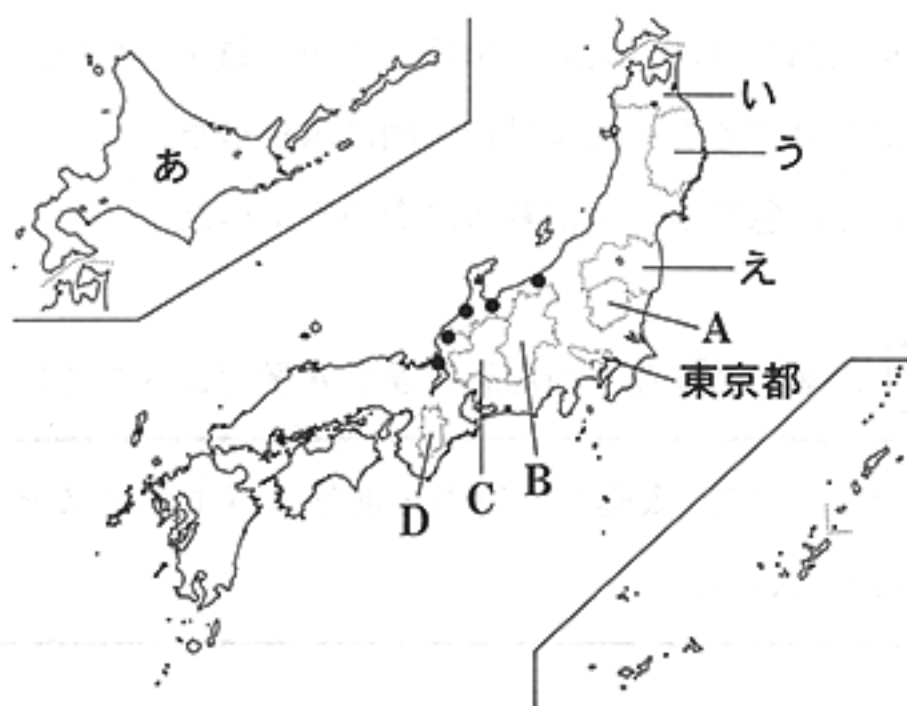
イ シベリア出兵を見越した買い占めで米価が上昇すると、米騒動が全国に広がった。

ウ 天明の飢饉が起こって百姓一揆や打ちこわしが急増し、田沼意次は老中を退いた。

(3) 下線部 c に関連して、次の文中の にあてはまる適当な語を漢字 4 字で書きなさい。

資源の有効活用や環境問題への対策の一つとして、太陽光・風力・地熱・バイオマスといった エネルギーの利用が進められている。

2 次の図を見て、あとの(1)~(4)の問いに答えなさい。



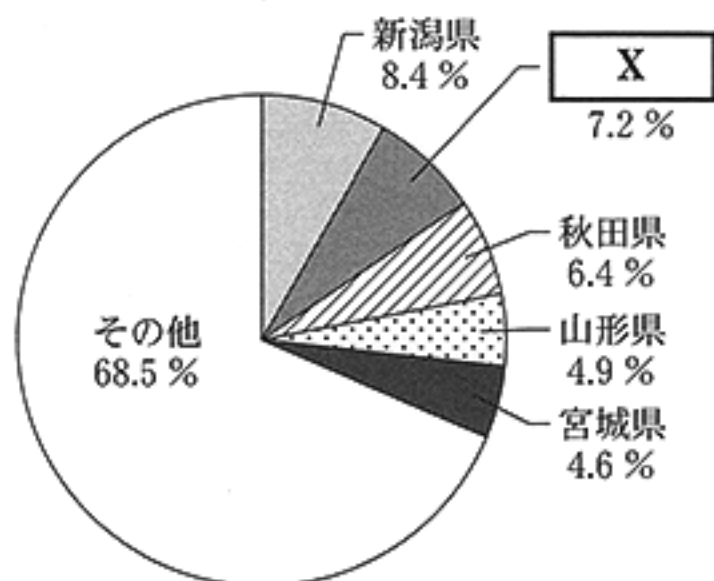
(1) 図中のA~Dの県のうち、それぞれの県に接している府県の数が多い県の県名を書きなさい。

(注) ● : 1月の降水量が250 mm以上の地点。降水量は1981年から2010年までの平均値を用いている。

(「理科年表平成30年」より作成)

(2) 右の資料は、米の収穫量上位5都道府県の全国の米の収穫量に占める割合を示したものであり、次の文章は、社会科の授業で、ゆうたさんが、資料中のXにおける米づくりについてまとめたレポートの一部である。資料中及び文章中の に共通してあてはまる道県として最も適当なものを図中のあ~えのうちから一つ選び、その符号を書きなさい。また、文章中の にあてはまる適当な語を漢字4字で書きなさい。

資料 米の収穫量上位5都道府県の全国の米の収穫量に占める割合(2016年)



(「データで見る県勢2018年版」より作成)

稲の生育期間である夏季の気温が低い は、もともと稲作には不向きな地域でした。しかし、寒さに強い稲を生み出すための が重ねられたことなどで、日本有数の米の生産地となりました。

(3) 次の文は、ゆうたさんが、図中に●で示した1月の降水量が250 mm以上の地点で、太平洋側と比べて1月の降水量が多くなる理由をまとめたレポートの一部である。文中の にあてはまる最も適当なものを、あとのア~エのうちから一つ選び、その符号を書きなさい。

これらの地点がある北陸で、1月の降水量が多くなるのは、主に が、日本海をわたるときに水分をふくんで雲をつくり、山地にぶつかって雪や雨を降らせるためです。

ア 南東の季節風 イ 南西の季節風 ウ 北東の季節風 エ 北西の季節風

(4) 次の地形図1、地形図2は、それぞれ昭和32年及び平成20年発行の東京都のある地域を示したものであり、あとの文章は、ゆうたさんが、この2枚の地形図を見て、読み取ったことがらをまとめたレポートの一部である。文章中の下線部ア～エのうち、内容が誤っているものを一つ選び、その符号を書きなさい。

地形図1




(国土地理院 昭和32年発行1:25,000「武蔵府中」原図より作成)

地形図2



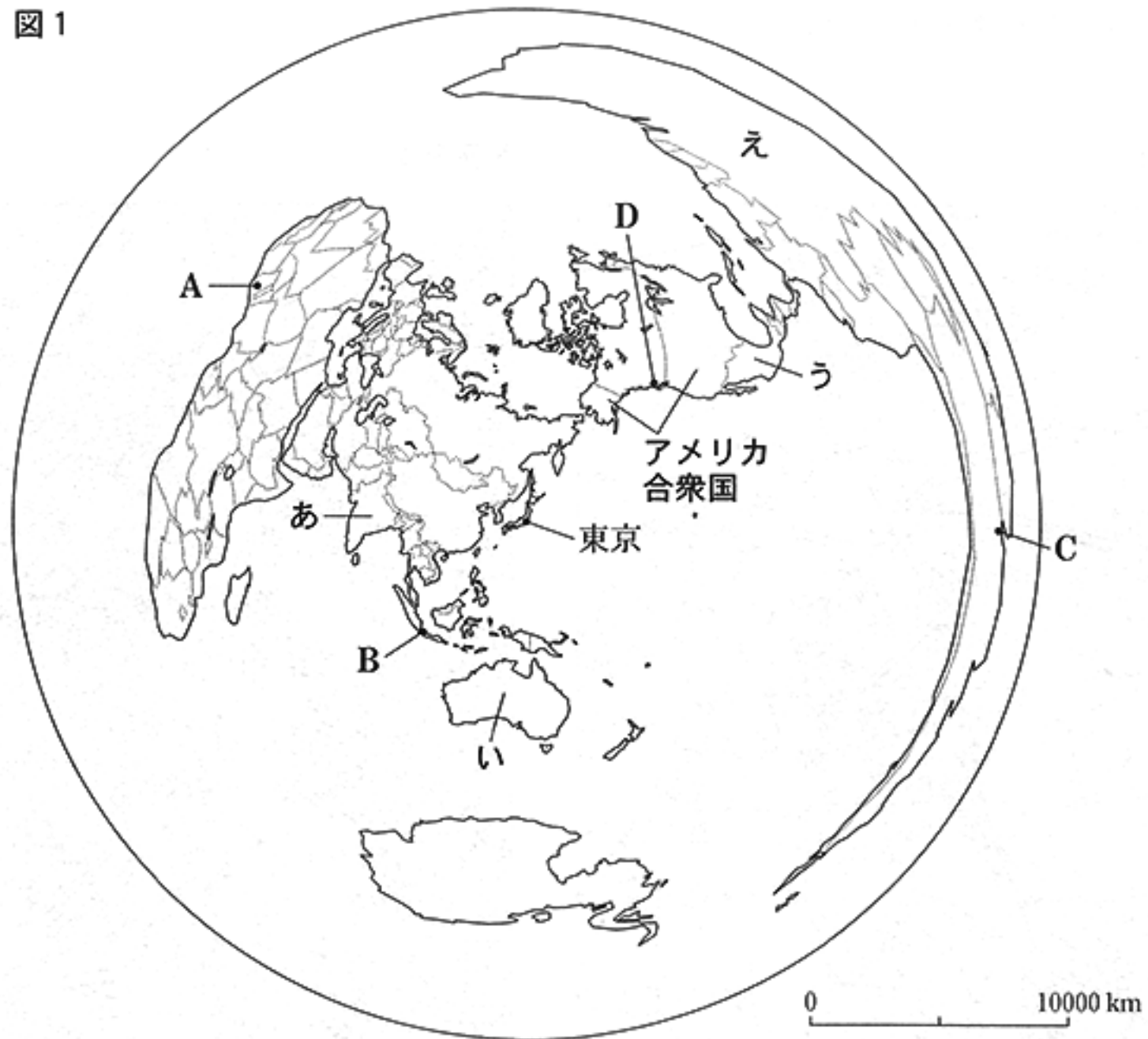
(国土地理院 平成20年発行1:25,000「武蔵府中」原図より作成)



昭和32年ごろ、「せいせきさくらがおか」駅の周囲には水田が広がっていましたが、新たに住宅などがつくられました。地形図1中のA地点のほぼ北東の方向には新たに老人ホームや病院がつけられました。地形図1中のB地点は、最寄り駅まで直線距離で2.0 km以上ありましたが、その後、鉄道が開通し駅が近くなって便利になりました。また、地形図2中のC地点とD地点の標高差は50 m以上となっています。

3 次の図1は、東京を中心とし、東京からの距離と方位が正しい地図である。これを見て、あとの(1)~(4)の問いに答えなさい。

図1



(注) 島等は省略したものもある。また、国境に一部未確定部分がある。

(1) 次のア~エの文のうち、図1中の東京とA~Dの都市との位置関係について正しく述べたものはどれか。最も適当なものを一つ選び、その符号を書きなさい。

- ア Aは東京から見て、ほぼ北西の方向にあり、A~Dの都市のうち最も東京から遠い。
- イ Bは東京から見て、ほぼ南東の方向にあり、A~Dの都市のうち最も東京に近い。
- ウ Cは東京から見て、ほぼ西の方向にあり、A~Dの都市のうち3番目に東京に近い。
- エ Dは東京から見て、ほぼ北東の方向にあり、A~Dの都市のうち2番目に東京に近い。

(2) 次の文章は、社会科の授業で、あいさんが、図1中のアメリカ合衆国の工業についてまとめたレポートの一部である。文章中の にあてはまる適当な語をカタカナ5字で書きなさい。

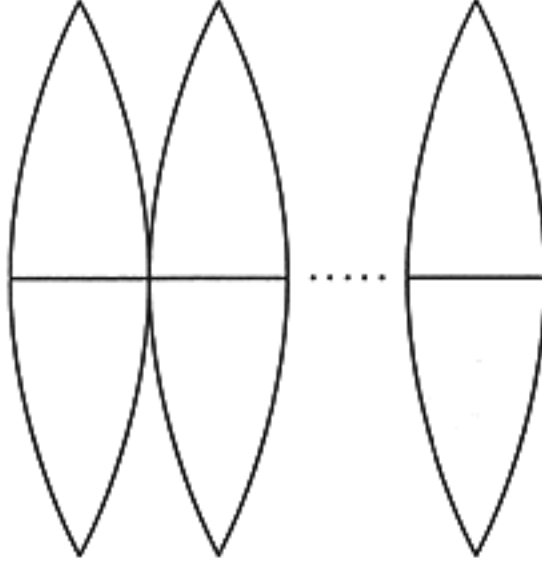
は北緯37度付近から南に位置する地域で、航空宇宙産業やコンピュータ関連産業などが発達しています。特に、サンフランシスコ郊外のシリコンバレーには、先端技術産業などが集まっています。

(3) 次の文章は、前のページの図1中のあ～えの国のうち、いずれかの国について述べたものである。この文章はどの国について述べたものか。最も適当なものを一つ選び、その符号を書きなさい。

かつて、イギリスの植民地であったこの国では、1970年代までヨーロッパ系の白人以外の移民を制限する政策をとっていました。その後、アジア諸国との結びつきが強くなったことなどから、政策を変更し多文化主義に基づく社会づくりを進めています。

(4) あいさんは、前のページの図1の地図では面積などを正しく表すことができないため、地球儀を作成することにし、図2のような部品1から部品8までの地図を準備しました。地球儀は球体にこれらの部品を貼り合わせることで完成し、貼る位置は地球儀を北極点の真上から見て図3のとおりです。図4のI、IIはそれぞれ何番と何番の部品を表したもののか。I、IIと部品番号の組み合わせとして最も適当なものを、あとのア～エのうちから一つ選び、その符号を書きなさい。

図2 部品1 部品2 …… 部品8

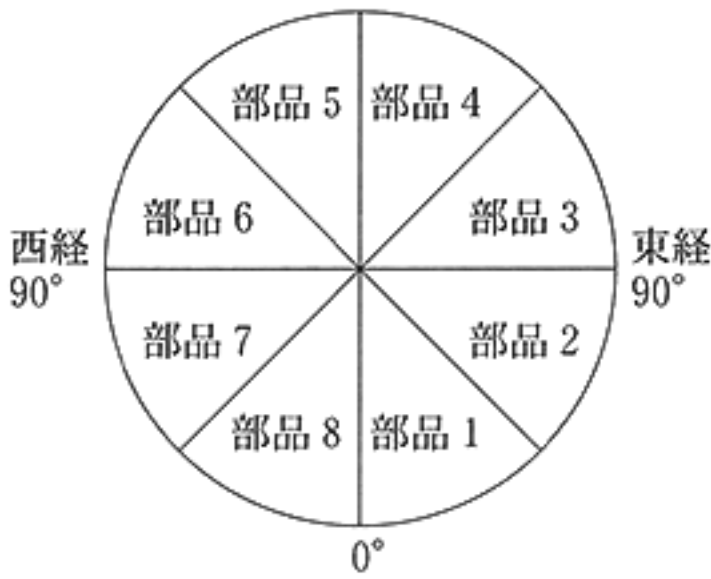


(注) 赤道以外は省略してある。

図4 I II



図3



- ア I : 部品6 II : 部品3
- ウ I : 部品7 II : 部品3

- イ I : 部品6 II : 部品4
- エ I : 部品7 II : 部品4

4 次のA～Dのパネルは、社会科の授業で、こうじさんたちの班が、日本と関わりのある外国人に関連することがらについて調べ、まとめたものの一部である。これらを見て、あとの(1)～(5)の問いに答えなさい。

A



孔子は、思いやりの心と正しい行いを基本とした政治をすべきだと説きました。その教えは儒教(儒学)として朝鮮や日本にも伝わり、大きな影響を与えました。

B



鑑真は、日本に渡ろうとしたものの、何度も航海に失敗しました。それでも強い意志を持ち続けて来日すると、唐の仏教を伝え、奈良に唐招提寺を開きました。

C



元の皇帝フビライ・ハンは、高麗に続き日本を従えようと、元軍が二度にわたり襲来しました。幕府軍を苦しめましたが、暴風雨のために打撃を受け、引きあげました。

D



アメリカ東インド艦隊司令長官ペリーは、4隻の軍艦を率いて浦賀に来航しました。そして日本の開国を求める大統領の国書を幕府に受け取らせました。

(1) パネルAの人物が活動した地域の古代文明の説明として最も適当なものを、次のア～エのうちから一つ選び、その符号を書きなさい。

- ア モヘンジョ・ダロなどの都市では、インダス文字が使われた。
- イ 殷という国がおこり、亀の甲や牛の骨に甲骨文字が刻まれた。
- ウ ナイル川流域に国々が生まれ、太陽暦や象形文字が発明された。
- エ くさび形文字が使用され、太陰暦や60進法が考え出された。

(2) パネルBに関連して、鑑真が来日した奈良時代のことがらについて述べたものとして最も適当なものを、次のア～エのうちから一つ選び、その符号を書きなさい。

- ア 日本で最初の仏教文化が栄え、法隆寺の釈迦三尊像が作られた。
- イ かな文字を用いた文学がさかんになり、「古今和歌集」が編集された。
- ウ 天台宗や真言宗が日本に伝えられ、山奥の寺で学問や修行が行われた。
- エ 神話や国の成り立ちを記した、「古事記」や「日本書紀」が作られた。

- (3) 次の文章は、パネルCの時期の日本の様子について、こうじさんが書いたレポートの一部である。文章中の にあてはまる適当な語を漢字3字で書きなさい。

御家人たちは元軍に立ち向かいましたが、防衛戦であったため、鎌倉幕府は恩賞を十分に与えることができませんでした。また、領地の分割相続によって生活が苦しくなり、土地を手放す者もいました。幕府は、領地を売ったり質に入れたりして御家人が手放した土地を返させる を出して、御家人を救おうとしました。

- (4) 次の文章は、パネルDより前にアジアで起こったことについて述べたものである。文章中の にあてはまることばを、「南京条約」「香港」という二つの語を用いて、25字以内(読点を含む。)で書きなさい。

清がアヘンを厳しく取りしめると、1840年にイギリスは清に艦隊を派遣して戦争を始めた。この戦争に勝利したイギリスは、清と を支払わせた。また、上海や広州など五つの港を開かせた。

- (5) 次の文章は、パネルDより後の時期のことについて述べたものである。文章中の I , II にあてはまる語の組み合わせとして最も適当なものを、あとのア～エのうちから一つ選び、その符号を書きなさい。

江戸幕府は日米修好通商条約を結んだが、この条約は日本に I がない不平等条約であった。外国との貿易が始まると、米や生活用品が値上がりし、民衆の不満は高まっていった。幕府の威信が弱まる中、15代将軍となった徳川慶喜は、新しい政権の中で主導権を確保しようと II を申し出た。

ア I : 関税自主権

II : 大政奉還

イ I : 関税自主権

II : 王政復古の号令

ウ I : 治外法権(領事裁判権)

II : 大政奉還

エ I : 治外法権(領事裁判権)

II : 王政復古の号令

5 次のA～Dのカードは、社会科の授業で、まみさんたちの班が、「明治時代以降の歴史」について調べ、まとめたものの一部である。これを読み、あとの(1)～(4)の問いに答えなさい。

A 明治 政府は富国強兵をスローガンに近代化を進めました。自由民権運動の後、大日本帝国憲法が制定されて帝国議会が開かれました。その後、日清戦争や日露戦争をへて、大陸進出を図りました。文化面でも欧米の影響を受けて新しい近代文化が生まれました。
a

B 大正 第一次世界大戦に連合国側として参戦した日本は、戦勝国となりました。国内では大正デモクラシーの風潮が高まり、人々が求めていた普通選挙(男子普通選挙)が実現しました。b 同じ年に治安維持法も制定され、思想の取りしまりが強化されました。

C 昭和 度重なる不況の中で、満州事変が起こりました。日中戦争から第二次世界大戦では多くの被害が出ました。敗戦後はサンフランシスコ平和条約で独立を回復し、その後、国際連合に加盟しました。また、高度経済成長により経済大国となりました。c

D 平成 バブル経済が崩壊すると、日本は長い不況の時期が続きました。深刻な被害をもたらした災害などもあり、防災対策の重要性が注目されました。地球温暖化が指摘される中、2018年は、日本の観測史上、最高気温が更新されました。d

(1) Aのカード中の下線部aに関連して、次の文章は、まみさんがこの時代の文化についてまとめたものの一部である。文章中の 、 にあてはまる語の組み合わせとして最も適当なものを、あとのア～エのうちから一つ選び、その符号を書きなさい。

明治時代には、欧米の文化に向き合う知識人の視点から小説が書かれ、 は「舞姫」を発表しました。美術では、 が伝統的な技術に西洋の写実性を加え、右の写真の「ろうえん老猿」という彫刻を制作しました。



ア I : もりおうがい森鷗外 II : たきれん たろう滝廉太郎

イ I : なつめ そうせき夏目漱石 II : 滝廉太郎

ウ I : 森鷗外 II : たかむらこううん高村光雲

エ I : 夏目漱石 II : 高村光雲

- (2) Bのカード中の下線部 b に関連して、次の文章は、この時期の思想について述べたものである。文章中の にあてはまる適当な語を漢字 4 字で書きなさい。

吉野作造は政治の目的を民衆の幸福や利益に置き、民意に基づいた政治を実現していく方法を説いた。この主張は と呼ばれた。

- (3) Cのカード中の下線部 c の時期に起こったことがらを、次のア～エのうちから三つ選び、年代の古いものから順に並べ、その符号を書きなさい。

ア 日本国内の公害問題の深刻化を受けて、公害対策基本法が制定された。

イ 朝鮮戦争が始まると、日本に警察予備隊が新設された。

ウ 日本で国家総動員法が制定され、政府は議会の承認なく労働力や物資を動員可能になった。

エ 満州などでソ連軍にとらえられた約 60 万人の人々が、シベリアに送られた。

- (4) Dのカード中の下線部 d に関連して、次の文章は、地球温暖化防止への取り組みについて述べたものである。文章中の I , II にあてはまる語の組み合わせとして最も適当なものを、あとのア～エのうちから一つ選び、その符号を書きなさい。

1997 年、地球温暖化の原因とされる I など温室効果ガスの排出削減に向けて II 議定書が採択された。この II 議定書は、2005 年に発効した。

ア I : オゾン層 II : 水俣

イ I : オゾン層 II : 京都

ウ I : 二酸化炭素 II : 水俣

エ I : 二酸化炭素 II : 京都

6 次の文章を読み、あとの(1)~(3)の問いに答えなさい。

政府は、自由な経済活動のための環境を整えたり、家計や企業だけでは解決できない課題に取り組み^aたりするなど、さまざまな**対策**^bを行っています。このような取り組みをとおして、経済成長^cなど、国民生活の向上を目指しています。

- (1) 下線部 a に関連して、次の文章は、市場における競争をうながすために制定された法律について述べたものである。文章中の にあてはまる適切な語を漢字 4 字で書きなさい。

市場における公正で自由な競争をうながすために、日本では 法が制定されている。そして、この法律を運用するために公正取引委員会が設置されている。

- (2) 下線部 b に関連して、次のア~エの文のうち、セーフティネットについて説明しているものはどれか。最も適切なものを一つ選び、その符号を書きなさい。

ア 将来の世代の幸福と現代の世代の幸福とが両立できるような発展を目指す考え方のことである。

イ 失業による経済的な問題などに備えた、社会に安全や安心を提供するためのさまざまなしくみのことである。

ウ プライバシーの権利のもと、行政機関や民間業者に対し、個人情報^の慎重な管理を義務づけたしくみのことである。

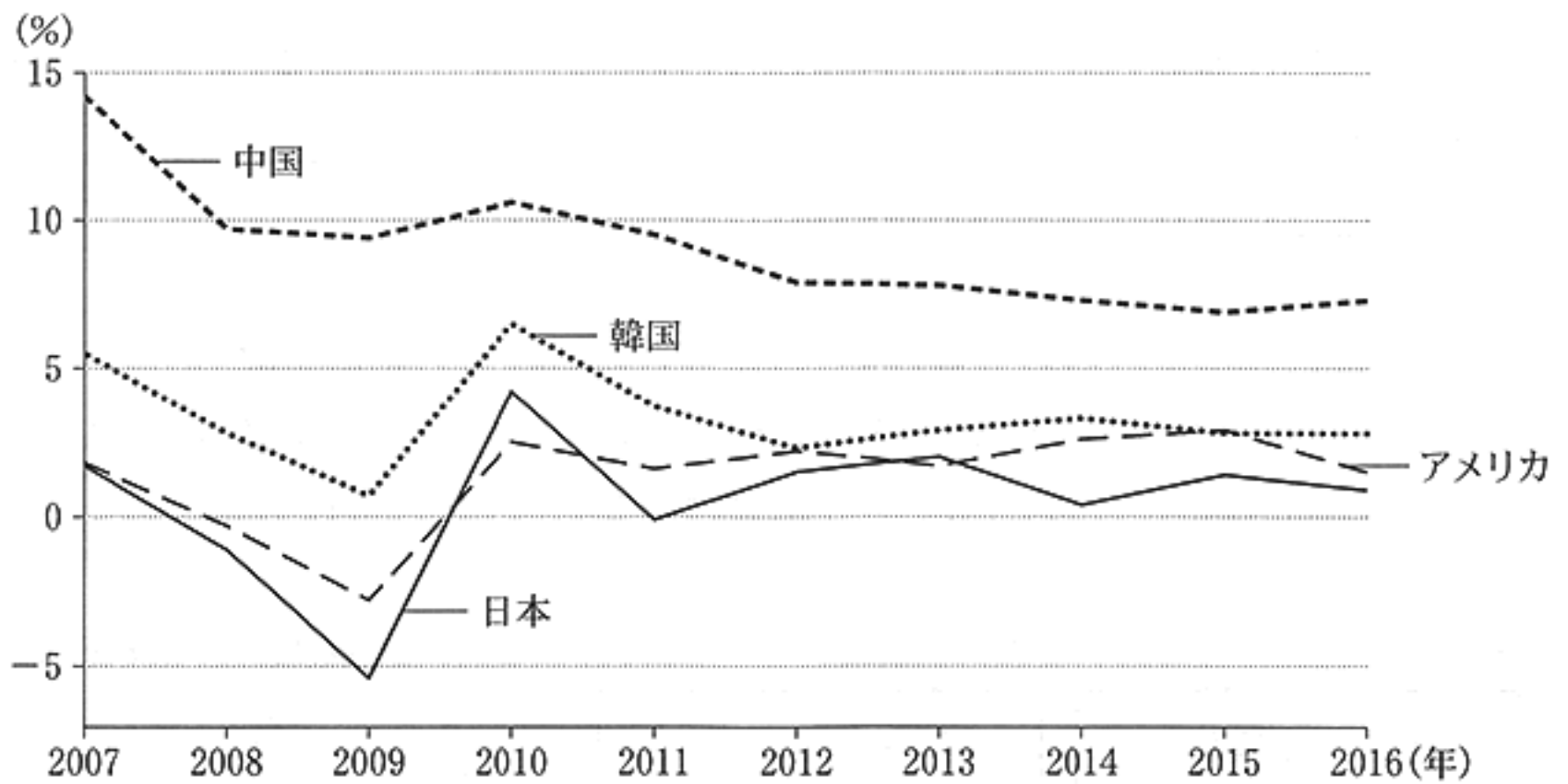
エ 道路やダムなどの大規模な開発事業を行う前に、環境への影響を調査・評価していくことである。

- (3) 下線部 c に関連して、次の文章は、社会科の授業で、まりさんたちの班が、右のページの資料を見ながら「日本の景気をよくする方法」について話し合っている場面の一部である。文章中の X Y にあてはまるものとして最も適切なものを、それぞれあとの選択肢ア~エのうちから一つずつ選び、その符号を書きなさい。

まりさん：この資料を見ると、各国の実質経済成長率は、年によって違うことがわかるね。

けんさん：そうだね。資料から、 X ということがわかるよ。

みきさん：2008年の世界金融危機(世界同時不況)のときは、多くの国が深刻な不景気になったけど、日本の経済も大きな打撃を受けたんだよね。日本では不景気の際に Y という方法をとることがあるね。政府や日本銀行によるさまざまな政策は、景気をよくする上で大切なことだと思うな。



(注) 「実質経済成長率」とは物価水準の変動を調整した経済成長率のことで、経済成長率とは国内総生産(GDP)の前年からの伸び率のことである。実質経済成長率が0%を下回りマイナスになることをマイナス成長と呼ぶ。

(総務省統計局「世界の統計 2018」より作成)

X の選択肢

- ア 日本の実質経済成長率は、2007年から2016年までの間、他の3か国と比べると毎年一番低く、マイナス成長を記録したことも一度あった
- イ アメリカの実質経済成長率は、2007年から2016年までの間、5%を超えたことは一度もないが、マイナス成長を記録したことも一度もない
- ウ 韓国の実質経済成長率は、2007年から2016年までの間、マイナス成長を記録したことは一度もないが、実質経済成長率が5%を超えたことも一度もない
- エ 中国の実質経済成長率は、2007年から2016年までの間、他の3か国と比べると毎年一番高いが、2007年の実質経済成長率を上回る年は一度もない

Y の選択肢

- ア 一般の銀行が企業に貸し出す際の金利を引き上げ、生産活動を縮小させる
- イ 政府が増税をして、家計や企業の消費活動を縮小させる
- ウ 日本銀行が国債などを積極的に買い上げ、一般の銀行の資金量を増加させる
- エ 政府が公共投資(公共事業)を減少させて、民間企業の仕事を減少させる

7 次の文章を読み、あとの(1)~(3)の問いに答えなさい。

民主政治が十分に機能するためには、自由な話し合いができること、自由権や社会権などの基本的人権が保障されていることが大切です。また、国民一人ひとりが政治に関心を持つことが求められます。みなさん一人ひとりの意思が、民主政治を支えているのです。

(1) 下線部 a に関連して、次のア~エのカードは、たけるさんが、日本国憲法における社会権について調べ、それぞれの内容をまとめたものである。これらのカードのうち、資料と関係の深い権利の内容をまとめたカードはどれか。最も適当なものを一つ選び、その符号を書きなさい。

ア
第 25 条で示され、健康で文化的な最低限度の生活を営む権利である。

イ
第 26 条で示され、全ての子どもが学校で学ぶことを保障した権利である。



ウ
第 27 条で示され、全ての国民に働く機会を保障した権利である。

エ
第 28 条で示され、労働三権と呼ばれる労働者のための権利である。

(2) 下線部 b に関連して、次の文は、世論について述べたものである。文中の [] にあてはまる適当なことばを、「社会」「人々」の二つの語を用いて 20 字以内(読点を含む。)で書きなさい。

世論とは、政治や [] のことで、世論の形成に大きな影響をあたえるのが、マスメディアである。

(3) 下線部 c に関連して、次の文章は、地方自治における人々の意思の表明方法の一つについて述べたものである。文章中の [] に共通してあてはまる適当な語を漢字 4 字で書きなさい。

[] は、地域の重要な問題について、地域の人々が賛成・反対の意思を表明するために実施される。この [] は、地方議会で定めた条例に基づいて実施され、法的な拘束力はないが、地域の政策決定に大きな影響をあたえることがある。

問題番号	正 解				配点及び注意	計		
1	(1)	ア				3	10	
	(2)	年代の古い順	1	2	3	3		・全部できた場合、点を与える。
		符 号	ウ	ア	イ			
(3)	再生可能				4	・漢字4字指定		
2	(1)	長野(県)				4	・ひらがなでもよい。	
	(2)	X	あ	Y	品種改良	4	・Yは漢字4字指定 ・両方できた場合、点を与える。	
	(3)	エ				4		
	(4)	ウ				4		
3	(1)	エ				3		
	(2)	サンベルト				4	・カタカナ5字指定	
	(3)	い				4		
	(4)	ウ				4		
4	(1)	イ				3		
	(2)	エ				4		
	(3)	徳政令				4	・漢字3字指定	
	(4)	南 京 条 約 を 結 ん で , 香	港 を 手 に 入 れ 多 額 の 賠	償 金			4	・正解文の趣旨にそって いればよい。 ・部分点を与えてもよい。
(5)	ア				4			

問題番号	正 解				配 点 及 び 注 意		計	
5	(1)	ウ				4		16
	(2)	民本主義				4	・漢字4字指定	
	(3)	年代の古い順	1	2	3	4	・全部できた場合、点を与える。	
		符 号	ウ	エ	イ			
(4)	エ				4			
6	(1)	独占禁止(法)				4	・漢字4字指定	12
	(2)	イ				4		
	(3)	X	エ	Y	ウ	各2		
7	(1)	ア				4		12
	(2)	社 会 に つ い て , 多 く の				4	・正解文の趣旨にそって いればよい。 ・部分点を与えてもよい。	
		人 々 が も っ て い る 意 見						
(3)	住民投票				4	・漢字4字指定		
合					計		100	