

令和3年度

神奈川県公立高等学校入学者選抜学力検査問題

共通選抜 全日制の課程

V 社 会

注 意 事 項

- 1 開始の合図があるまで、この問題冊子を開いてはいけません。
- 2 問題は問7まであり、1ページから14ページに印刷されています。
- 3 答えは、解答用紙の決められた欄に、記入またはマークしなさい。
- 4 数字や文字などを記述して解答する場合は、解答欄からはみ出さないように、はっきり書き入れなさい。
- 5 マークシート方式により解答する場合は、その番号の○の中を塗りつぶしなさい。
- 6 解答用紙にマス目（例：

--	--	--

）がある場合は、句読点もそれぞれ1字と数え、必ず1マスに1字ずつ書きなさい。
- 7 終了の合図があったら、すぐに解答をやめなさい。

受 検 番 号								番
---------	--	--	--	--	--	--	--	---

問1 Kさんは、地理の学習について次のレポートを作成した。これについて、あとの各問いに答えなさい。略地図中の緯線は赤道から、経線は本初子午線からそれぞれ等間隔に引いたものである。

レポート

右の詩は、谷川俊太郎たにかわしゅんたろうの「朝のリレー」の一部です。私は、この詩に出てくる地名がどの国や大陸にあるかを、表1にまとめ、その位置を略地図に示しました。

表1

地名	国	大陸
カムチャッカ	①ロシア	ユーラシア大陸
メキシコ	メキシコ	北アメリカ大陸
ニューヨーク	アメリカ合衆国	北アメリカ大陸
ローマ	イタリア	ユーラシア大陸

詩
カムチャッカの若者が
きりんの夢を見ているとき
メキシコの娘は
朝もやの中でバスを待っている
ニューヨークの少女が
ほほえみながら寝がえりをうつとき
ローマの少年は
柱頭を染める朝陽あさひにウインクする
この地球では
いつもどこかで朝がはじまっている

(『谷川俊太郎詩集 続』より引用)

略地図



1 詩の内容について

詩の——線の内容は、詩に出てくる四つの地名とその位置をふまえて考えると、地理で学習する「あ」という知識がもとになっていると、私は考えました。

2 略地図について

北アメリカ大陸の東側かつユーラシア大陸の西側に、②三大洋のうちの一つに数えられる大きな海洋が広がっています。

3 表1中の国の宗教や産業について

- (1) 宗教 表1中の国ぐにでは、多くの人びとが い を信仰しています。例えば、メキシコでは、スペインによって植民地がつけられたという歴史的な背景からこの宗教を信仰する人びとが多く、また、イタリアのローマ市内には、この宗教に関係が深いバチカン市国があります。
- (2) 産業 アメリカ合衆国は、世界で最も多く③とうもろこしを生産している国です。次の表2は、生産量上位4か国におけるとうもろこしの生産量と収穫がさかな月を示したものです。

表2

(生産量の単位：万トン)

	生産量		収穫がさかんな月 (■のマスで示した)											
	2008年	2018年	1	2	3	4	5	6	7	8	9	10	11	12
アメリカ合衆国	30,591	39,245									■	■	■	
中華人民共和国	16,603	25,735								■	■	■		
ブラジル	5,893	8,229	■	■	■	■	■	■						
アルゼンチン	2,202	4,346		■	■	■	■							

(国際連合食糧農業機関ウェブサイト掲載資料をもとに作成)

(ア) レポート中の **あ** にあてはまるものとして最も適するものを、次の1～4の中から一つ選び、その番号を答えなさい。

1. 世界には、国土が海洋に囲まれている国や、国土が全く海に面していない国がある
2. 標高が高い山脈や海洋の島々が連なる造山帯では、地震がおこりやすい
3. 各国が定めている標準時子午線の経度が異なると、時差が生じる
4. 気温と降水量によって、世界を五つの気候帯に分類することができる

(イ) レポート中の **い** にあてはまる宗教の名称 X, Y と、その宗教についての説明文 a, b の組み合わせとして最も適するものを、あとの1～4の中から一つ選び、その番号を答えなさい。

宗教の名称	X キリスト教	Y イスラム教
説明文	a 聖典の『コーラン』に、生活上の細かいいきまりが記されている。	b 日曜日に、礼拝のために教会を訪れる習慣がある。

1. Xとa
2. Xとb
3. Yとa
4. Yとb

(ウ) 一線①に関して、次の文 a～d のうち、ロシアの特徴について説明したものの組み合わせとして最も適するものを、あとの1～4の中から一つ選び、その番号を答えなさい。

- a 国土の面積が世界で最も大きい国である。
- b 人口が世界で最も多い国である。
- c 原油や天然ガスが、パイプラインを通じて外国へ輸出されている。
- d 世界全体のパソコンの9割以上が生産されている。

1. a, c
2. a, d
3. b, c
4. b, d

(エ) 一線②に関して、この海洋の名称を漢字3字で書きなさい。

(オ) 一線③に関して、表2から読み取れることについて説明した次の文 X, Y の正誤の組み合わせとして最も適するものを、あとの1～4の中から一つ選び、その番号を答えなさい。

- X 表2中の4か国のうち、「2008年の生産量」に対する「2018年の生産量」の割合が最も高い国は、アメリカ合衆国である。
- Y 表2中の4か国のうち、首都が南半球にあるすべての国で、9月にとりもろこしの収穫がさかんである。

1. X：正 Y：正
2. X：正 Y：誤
3. X：誤 Y：正
4. X：誤 Y：誤

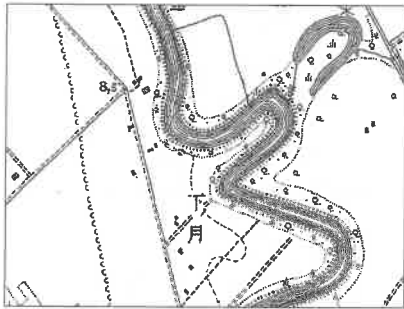
問2 Kさんは、地理の学習について次のレポートⅠ、レポートⅡを作成した。これらについて、あとの各問いに答えなさい。

レポートⅠ：北海道地方の土地利用

かつての石狩平野では、農業に適さない **あ** が広がっていました。明治時代になると、政府は北海道に開拓使を設置し、**い** などによる大規模な開拓をおこなうなど、土地改良が始まりました。

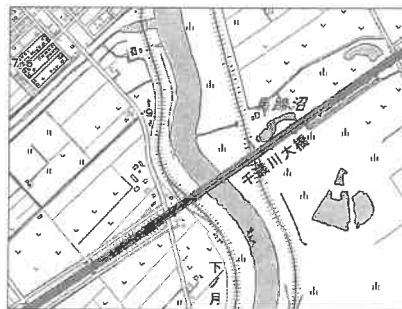
地形図1は大正時代の、地形図2は現在の石狩平野を示したもので、二つの地形図は同じ地域を示しています。私は、①二つの地形図に示された地域でどのような変化があったかについて考察しました。

地形図1



(「2万5千分の1の地形図 大日本帝国陸地測量部作成 (大正5年測量)」)

地形図2



(「2万5千分の1の電子地形図 国土地理院作成 (令和2年調製)」)

レポートⅡ：北海道地方と九州地方の比較

1 自然環境について

- どちらの地方にも、②火山の爆発や噴火による陥没などによってできた大きなくぼ地があります。
- ③二つの地方を比較すると、気温や降水量は大きく異なっています。

2 産業について

- どちらの地方も、他の地方と比較すると④畜産産出額が大きくなっています。

(ア) レポートⅠ中の **あ**、**い** にあてはまるものの組み合わせとして最も適するものを、次の1～4の中から一つ選び、その番号を答えなさい。

- | | | | |
|------------|-------|------------|------|
| 1. あ：シラス台地 | い：屯田兵 | 2. あ：シラス台地 | い：防人 |
| 3. あ：泥炭地 | い：屯田兵 | 4. あ：泥炭地 | い：防人 |

(イ) 一線①に関して、地形図1、地形図2から読み取れることについて説明した次の文X、Yの正誤の組み合わせとして最も適するものを、あとの1～4の中から一つ選び、その番号を答えなさい。

- | |
|--|
| X 大正時代から現在までのあいだに、道路が整備され橋が架けられた。 |
| Y 大正時代から現在までのあいだに、河川の流路が大きく蛇行するようになった。 |

- | | | | |
|------------|------------|------------|------------|
| 1. X：正 Y：正 | 2. X：正 Y：誤 | 3. X：誤 Y：正 | 4. X：誤 Y：誤 |
|------------|------------|------------|------------|

(ウ) 一線②に関して、このくぼ地の名称をカタカナ4字で書きなさい。

問3 Kさんは、歴史の授業で学習した文化財について、次のカードⅠ～カードⅣにまとめた。これらについて、あとの各問いに答えなさい。

カードⅠ

「漢委奴国王」と刻まれた金印

江戸時代に、現在の福岡県で発見されました。歴史書には、①福岡市の付近にあったとされる奴国の王が漢に使いを送り、皇帝から金印を与えられたことが記されています。

カードⅡ

「源氏物語絵巻」

あ が書いた源氏物語を題材としてつくられました。②源氏物語が書かれた時期の宮廷には、教養や才能ある女性が集められました。

カードⅢ

東大寺

大仏殿などの建物が③武士による争乱で焼失しましたが、宋の技術によって再建されました。南大門には、い があります。

カードⅣ

浮世絵「東海道五十三次」

歌川広重が、東海道を行きかう人びとの様子を描いたものです。浮世絵は、ヨーロッパの絵画に大きな影響を与えました。

(ア) カードⅡ中の あ ，カードⅢ中の い にあてはまるものの組み合わせとして最も適するものを、次の1～4の中から一つ選び、その番号を答えなさい。

1. あ：紫式部 い：極楽浄土へ生まれ変わることを願うためにつくられた阿弥陀如来像
2. あ：紫式部 い：運慶や快慶らがつくった金剛力士像
3. あ：清少納言 い：極楽浄土へ生まれ変わることを願うためにつくられた阿弥陀如来像
4. あ：清少納言 い：運慶や快慶らがつくった金剛力士像

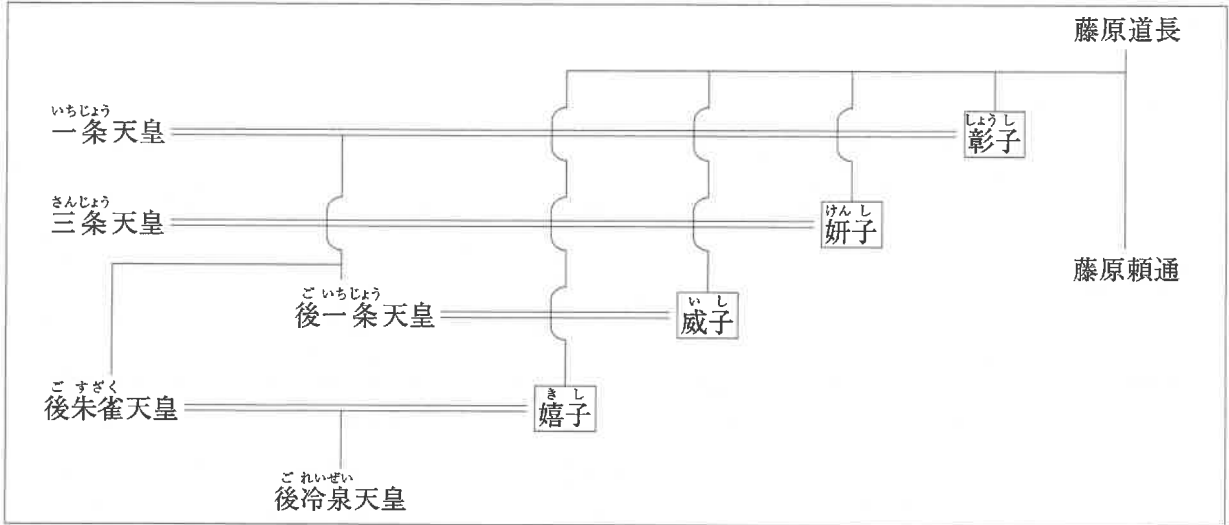
(イ) ー線①に関して、このできごとに最も近い時期の日本の様子について説明したものを、次の1～4の中から一つ選び、その番号を答えなさい。

1. ユーラシア大陸から移り住んだ人びとが、打製石器を使って大型動物をとらえていた。
2. 食料の煮たきのために、表面に縄目の文様がつけられた土器が使われるようになった。
3. 稲作が西日本から東日本へ広まり、ムラとムラのあいだで土地や水の利用をめぐる争いが始まった。
4. 班田収授がおこなわれ、6歳以上の人びとに口分田が与えられた。

- (ウ) 一線②に関して、次の系図は、11世紀前半から半ばにかけての時期における天皇と藤原氏の関係を示したものである。系図から読み取れることについて説明した文X、Yと、その時期における政治についての説明文a、bの組み合わせとして最も適するものを、あとの1～4の中から一つ選び、その番号を答えなさい。

系図

(□で囲まれた人物は、女性であることを示す。)



読み取れること	X 後一条天皇と威子は、婚姻関係にあった。 Y 後一条天皇と後朱雀天皇は、親子関係にあった。
説明文	a 藤原氏が、朝廷の高い官職をほぼ独占し、自分の娘の子を天皇に立てた。 b 天皇が、自らの位を幼少の皇子に譲り、上皇として権力をにぎった。

1. Xとa 2. Xとb 3. Yとa 4. Yとb

- (エ) 一線③に関して、武士による争乱について説明した次の文Ⅰ～Ⅲを、年代の古いものから順に並べたものを、あとの1～6の中から一つ選び、その番号を答えなさい。

Ⅰ 将軍のあとつぎ問題をめぐって有力な守護大名の細川氏と山名氏が対立し、戦乱がおこった。
Ⅱ 全国の武士が北朝、南朝の二つの勢力に分かれ、60年近く戦いが続いた。
Ⅲ 平氏に対する後白河上皇（法皇）らの反発が強まる中で、源頼朝らが挙兵した。

1. Ⅰ→Ⅱ→Ⅲ 2. Ⅰ→Ⅲ→Ⅱ 3. Ⅱ→Ⅰ→Ⅲ
4. Ⅱ→Ⅲ→Ⅰ 5. Ⅲ→Ⅰ→Ⅱ 6. Ⅲ→Ⅱ→Ⅰ

- (オ) Kさんは、カードⅣの浮世絵が描かれた時期について調査したいと考えた。この時期に関する調査について説明したものとして最も適するものを、次の1～4の中から一つ選び、その番号を答えなさい。

1. 調や庸が都に運ばれたことに着目して、朝廷が人びとに課した負担の特徴について調査する。
2. 鉄道が初めて設けられたことに着目して、文明開化が人びとに与えた影響について調査する。
3. 明との勘合貿易がおこなわれたことに着目して、東アジアの国ぐにの関係について調査する。
4. 庶民が旅を楽しむようになったことに着目して、五街道などの交通の発達について調査する。

問4 Kさんは、近現代の歴史について次のレポートを作成した。これについて、あとの各問いに答えなさい。

レポート

私は、開業130年を迎えた「帝国ホテル」の歴史に着目して、調べ学習をおこないました。次の表は、帝国ホテルに関するできごとと歴史の授業で学習したことを、年代の古いものから順に並べて作成したものです。

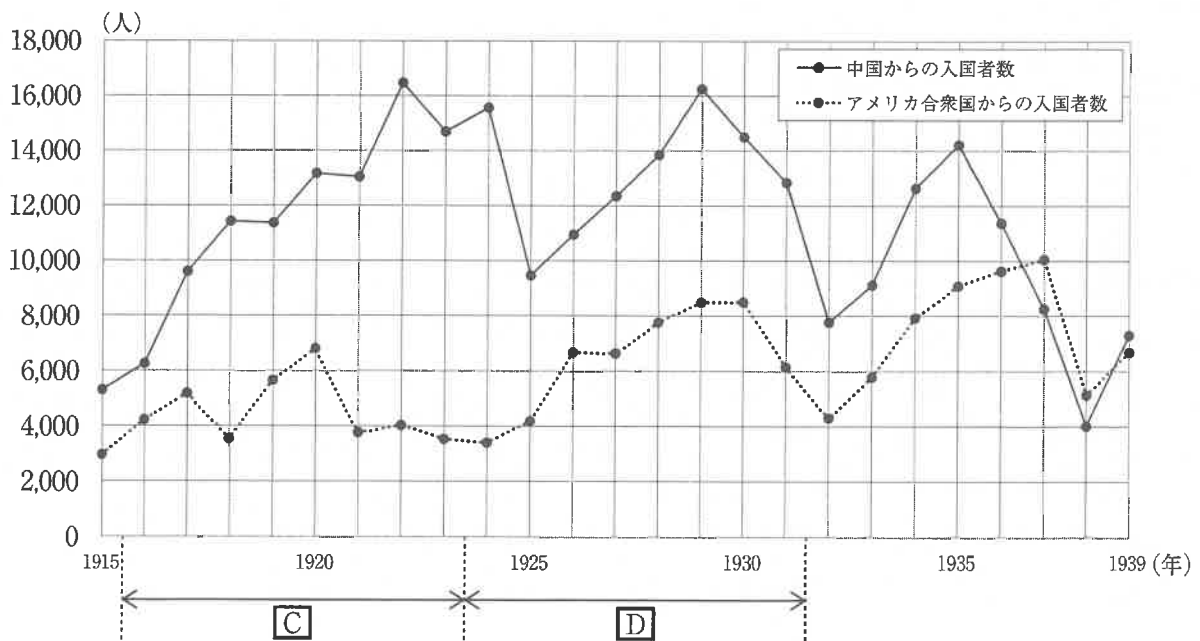
表

帝国ホテルに関するできごと	歴史の授業で学習したこと
外国人を迎えるための施設として開業した。-----	第1回帝国議会が開かれた。
新しい本館が開業した。-----	関東大震災がおこった。
国際オリンピック委員会の会議が開催された。-----	東京でオリンピックが開かれた。

(帝国ホテルウェブサイト掲載資料をもとに作成)

外国人を迎えるための施設として帝国ホテルがつくられたことから、外国人の入国者数の推移に興味をもちました。次のグラフは、20世紀前半における、中国とアメリカ合衆国からの入国者数の推移を表したものです。

グラフ



(国際観光局「入国外人統計」(昭和14年)をもとに作成)

(ア) 表中の — 線に関して、帝国議会が開かれるまでに、内閣制度の創設や大日本帝国憲法の制定にかかわった人物として最も適するものを、次の1~4の中から一つ選び、その番号を答えなさい。

1. 伊藤博文 2. 西郷隆盛 3. 板垣退助 4. 大隈重信

- (イ) 次の文 a～dのうち、表中の **A** の時期のできごとについて説明したものの組み合わせとして最も適するものを、あとの 1～4の中から一つ選び、その番号を答えなさい。

a	野口英世が、エクアドルで黄熱病について研究した。
b	日本でテレビ放送が開始され、スポーツ番組やドラマが人気を集めた。
c	日米安全保障条約の改定をめぐって反対運動がおこり、内閣が退陣した。
d	米騒動がおこり政府への批判が高まる中で、原敬が内閣を組織した。

1. a, c 2. a, d 3. b, c 4. b, d

- (ウ) 表中の **B** の時期のできごとについて説明した次の文 I～IIIを、年代の古いものから順に並べたものを、あとの 1～4の中から一つ選び、その番号を答えなさい。

I	帝国ホテルは、サンフランシスコ平和条約が調印されて日本が主権を回復したことを受けて、自由な営業が認められ、一般の宿泊客を受け入れるようになった。
II	帝国ホテルは、陸軍の青年将校らが大臣らを殺害し首相官邸や国会議事堂を占拠した事件がおこった際、反乱を鎮圧する部隊の拠点となった。
III	帝国ホテルは、日本が敗戦し占領が始まったことを受けて、GHQ(連合国軍総司令部)によって強制的に取り上げられ、GHQの高官が宿泊するための施設となった。

1. I→II→III 2. I→III→II 3. II→I→III 4. II→III→I

- (エ) グラフに関して、あとの各問いに答えなさい。

- (i) 右の略地図は、1930年代における東アジアの様子を示したものである。この略地図について説明した次の文中の にあてはまる語句を漢字2字で書きなさい。

略地図中の二つの都市を含むアの地域には「国」が建国され、清の最後の皇帝であった人物がこの国の元首になりました。

略地図



- (ii) グラフで示された時期におこった世界のできごとについて説明した文 X, Yと、グラフから読み取れることについて説明した文 a, bの組み合わせとして最も適するものを、あとの 1～4の中から一つ選び、その番号を答えなさい。

世界のできごと	X <input type="text"/> の時期に、日清戦争が始まった。
	Y <input type="text"/> の時期に、世界恐慌が始まった。
読み取れること	a 中国からの入国者数は、五・四運動がおこった年には、1万人をこえていた。
	b アメリカ合衆国からの入国者数は、日中戦争が始まって以降、1939年まで減少し続けた。

1. Xとa 2. Xとb 3. Yとa 4. Yとb

問5 Kさんは、東京都に関することを調べ、次のカードⅠ～カードⅣにまとめた。これらについて、あとの各問いに答えなさい。

カードⅠ

次の文は、東京都の浅草神社で例年おこなわれている年中行事について説明したものです。

もともと、**あ**は四季の節目を意味していた言葉で1年に4回ありましたが、旧暦で年の始まりにあたった立春が重視され、**あ**といえば立春の前日を指すようになりました。この日には、災厄や邪気を祓う行事がおこなわれますが、その代表的なものに「豆まき」があります。

(浅草神社ウェブサイト掲載資料をもとに作成)

カードⅡ

次の文は、東京都の渋谷区で平成27年から施行されている「渋谷区男女平等と多様性を尊重する社会を推進する条例」の一部です。

日本国憲法に定める個人の尊重及び法の下での平等の理念に基づき、性別、人種、年齢や障害の有無などにより差別されることなく、人が人として尊重され、誰もが自分の能力を活かしていきいきと生きることができ、差別のない社会を実現することは、私たち区民共通の願いである。

(渋谷区ウェブサイト掲載資料より抜粋)

カードⅢ

次の表は、東京都と日本全体の地方公共団体の財政収入の内訳とその割合を示したものです。

表 東京都と日本全体の地方公共団体の財政収入（平成30年度）

(金額の単位：億円)

	総額	地方税	地方譲与税	地方交付税(注)	国庫支出金	地方債	その他
東京都	78,688	54,625	2,768	(なし)	3,375	1,427	16,492
割合	100%	69.4%	3.5%	(なし)	4.3%	1.8%	21.0%
日本全体	1,013,453	407,514	26,509	165,482	148,341	105,084	160,523
割合	100%	40.2%	2.6%	16.3%	14.6%	10.4%	15.9%

(注) 地方交付税：地方交付税交付金を都道府県側からみた呼び名。

(総務省及び東京都ウェブサイト掲載資料をもとに作成)

カードⅣ

東京都には、多くの企業が集中しています。次の文は、企業が経済活動をおこなう上で大きな役割を果たしている公正取引委員会が運用する法律について説明したものです。

独占禁止法の目的は、公正かつ自由な競争を促進し、事業者が自主的な判断で自由に活動できるようにすることです。市場メカニズムが正しく機能していれば、事業者は、自らの創意工夫によって、より安くて優れた商品を提供して売上高を伸ばそうとしますし、消費者は、ニーズに合った商品を選択することができ、事業者間の競争によって、消費者の利益が確保されることとなります。

(公正取引委員会ウェブサイト掲載資料より抜粋)

(ア) カードⅠ中の「あ」にあてはまる語句を漢字2字で書きなさい。

(イ) カードⅡに関して、次の文は、法の下での平等の理念を実現するために制定された法律について説明したものである。この文中の「い」にあてはまるものを、あとのA、Bの中から一つ選び、その記号を書きなさい。また、「う」にあてはまる語句をカタカナ3字で書きなさい。

○昭和60年に制定された「男女雇用機会均等法」では、雇用における女性差別が禁止されました。この法律では、「い」とされています。

○平成9年に制定された「う」文化振興法」では、古くから北海道、樺太、千島列島を中心に独自の言葉と文化をもって生活してきた「う」の伝統を尊重することが求められています。この法律は、「う」の人々の誇りが尊重される社会を実現するための施策の推進に関する法律」が施行されたことを受けて、廃止されました。

- A 社会における制度又は慣行が男女の社会における活動の選択に対して及ぼす影響をできる限り中立なものとするように配慮されなければならない
- B 事業主は、労働者の募集及び採用について、その性別にかかわらず均等な機会を与えなければならない

(ウ) カードⅢに関して、表から読み取れることについて説明したものとして最も適するものを、次の1～4の中から一つ選び、その番号を答えなさい。

1. 東京都が独自に集めることができる自主財源からの財政収入は、東京都の財政収入の総額の5割に満たない。
2. 日本全体の地方公共団体の財政収入の総額は、100兆円に満たない。
3. 東京都には、他の地方公共団体と同様に、地方公共団体のあいだの財政格差をおさえるための資金が、国から配分されている。
4. 東京都の財政収入の総額に占める「地方債」の割合は、日本全体の地方公共団体の財政収入の総額に占める「地方債」の割合よりも小さい。

(エ) カードⅣに関して、次の文X、Yの正誤の組み合わせとして最も適するものを、あとの1～4の中から一つ選び、その番号を答えなさい。

X カードⅣを参考にして考えると、複数の企業が協定を結び、製品の価格を一定の水準以上に維持する行為は、独占禁止法の目的に反する行為である。

Y カードⅣによると、「市場メカニズムが正しく機能する」ことで事業者の売上高が伸びるが、消費者の利益は確保されない。

1. X：正 Y：正 2. X：正 Y：誤 3. X：誤 Y：正 4. X：誤 Y：誤

問6 Kさんは、きまり（ルール）について調べたことを発表するために、次のメモを作成した。
これについて、あとの各問いに答えなさい。

メモ

きまり（ルール）をつくるためには、人びとのあいだの合意が必要です。合意を得るためには、①「効率」や「公正」という考え方をふまえる必要があります。私たちの暮らしは、合意によってつくられたきまりによって支えられています。

日本における主なきまりとしては、国と国民とのかかわりなどを定めた②憲法や、国民から選挙によって選ばれた③国会議員が話し合っつくる法律、地方公共団体で制定される④条例があります。

(ア) — 線①に関して、「効率」の考え方について説明したものとして最も適するものを、次の1～4の中から一つ選び、その番号を答えなさい。

1. 合意の内容が、他人の権利や利益を不当に侵害していないかどうかを重視する考え方。
2. 合意の内容が、無駄を省き最大の利益が得られるものになっているかどうかを重視する考え方。
3. 関係者の全員が、合意を得るための話し合いに参加できているかどうかを重視する考え方。
4. 関係者の全員が、合意を得るための決定方法に納得できているかどうかを重視する考え方。

(イ) — 線②に関して、あとの各問いに答えなさい。

- (i) 日本国憲法について説明した次の文X、Yの正誤の組み合わせとして最も適するものを、あとの1～4の中から一つ選び、その番号を答えなさい。

X 日本国憲法は、国の最高法規であって、条文を改正する仕組みをもっていない。
Y 日本国憲法には、すべての国民が生存権を有すると定められている。

1. X：正 Y：正 2. X：正 Y：誤 3. X：誤 Y：正 4. X：誤 Y：誤

- (ii) 次の事例は、権利の保障をめぐるおこなわれた実際の裁判について説明したものである。この事例中の — 線で示した内容に最も関係が深いと考えられる日本国憲法の条文を、あとの1～4の中から一つ選び、その番号を答えなさい。

事例

企業Aは、新規の薬局を開設することを申請した。しかし、新規に開設する薬局と既存の店舗との距離を制限することを認める法律にもとづいて、薬局の開設は認められなかった。企業Aは、この処分を不服として裁判をおこした。最高裁判所は、この法律が日本国憲法に違反し、無効であるとの判決を下した。

1. 賃金、就業時間、休息その他の勤労条件に関する基準は、法律でこれを定める。
2. 勤労者の団結する権利及び団体交渉その他の団体行動をする権利は、これを保障する。
3. 何人も、公共の福祉に反しない限り、居住、移転及び職業選択の自由を有する。
4. 天皇は、内閣の指名に基いて、最高裁判所の長たる裁判官を任命する。

(ウ) —線③に関して、次の文 a～dのうち、現在の日本における国会や国会議員を選出するための選挙について説明したものの組み合わせとして最も適するものを、あとの1～4の中から一つ選び、その番号を答えなさい。

- a 国会の役割の一つは、予算にもとづいて政策を実施することである。
- b 衆議院か参議院に提出された法案は、通常、委員会で審査された後、本会議で議決される。
- c 直接国税を一定額以上納める満25歳以上の男性のみに対して、選挙権が認められている。
- d 満18歳以上の国民に対して、選挙権が認められている。

1. a, c 2. a, d 3. b, c 4. b, d

(エ) —線④に関して、次の資料は、平成31年に制定された神奈川県条例の一部である。この資料から読み取れることについて説明した文 X, Yと、条例についての説明文 a, bの組み合わせとして最も適するものを、あとの1～4の中から一つ選び、その番号を答えなさい。

資料

第5条 自転車利用者は、…(中略)…車両の運転者としての責任を自覚し、自転車を安全かつ適正に利用するため、自転車に関係する交通事故の防止についての知識を習得するとともに、自転車の利用に当たって必要な安全上の措置を講ずるよう努めなければならない。

第16条 自転車利用者は、その利用に係る自転車損害賠償責任保険等に加入しなければならない。ただし、当該自転車利用者以外の者が、当該利用に係る自転車損害賠償責任保険等に加入しているときは、この限りでない。

(神奈川県ウェブサイト掲載資料より抜粋)

読み取れること	<p>X 「自転車利用者」は、車両の運転者としての責任を自覚するとともに、自転車に関係する交通事故の防止についての知識を習得することが求められている。</p> <p>Y 「自転車利用者」は、当該自転車利用者以外の者が、当該利用に係る自転車損害賠償責任保険等に加入していない場合であっても、自転車損害賠償責任保険等に加入する必要はない。</p>
説明文	<p>a 地方議会の役割の一つは、条例を制定することである。</p> <p>b 条例の制定について内閣総理大臣に請求することは、直接請求権の一つである。</p>

1. Xとa 2. Xとb 3. Yとa 4. Yとb

問7 Kさんは、滋賀県を題材に調べ学習をおこない次のレポートを作成した。これについて、あとの各問いに答えなさい。

レポート

1 大津市の様子

大津市は、滋賀県の県庁所在地です。次の地形図は、大津市の一部を示したものです。

地形図



(「2万5千分の1の電子地形図 国土地理院作成 (令和2年調製)」一部改変)

地形図上のアで示した□の地図記号は、自然災害に見舞われたときの様子や教訓が刻まれた「自然災害伝承碑」を表したものです。右の資料1は、アで示した位置にある碑に刻まれた内容について説明したものです。

資料1

明治29(1896)年9月3日から12日の間に1008ミリの雨量を記録し県内で死者・行方不明者34名などの大きな被害をもたらしている。□あが増水し、しもさかもと下坂本村では全村700戸のすべてが浸水した。

(国土地理院ウェブサイト掲載資料をもとに作成)

2 近江国(滋賀県の過去の名称)でおこったできごと

次の資料2は、近江国から始まり周辺に拡大した、あるできごとについて示したものです。

資料2

正長元年、大勢の民衆がいっせいに反乱をおこした。徳政と言いつつながら、酒屋や土倉、寺院などを破壊し、さまざまな物をほしいままに取り、借金の証明書などもすべて破った。管領はこれを取り締まった。…(中略)…日本が始まって以来、民衆の蜂起は初めてである。

(『大乘院日記目録』をもとに作成)

3 近代の滋賀県でおこったできごと

1891年に、現在の津市でおこったできごとについて、次のメモにまとめました。

メモ

日本を訪問していたロシアの皇太子に対し、警備にあっていた警察官が重傷を負わせました。ロシアとの関係悪化を恐れた日本政府は、この警察官を死刑にするよう裁判所に圧力をかけましたが、裁判所は、日本の刑法にもとづき無期懲役(注)の判決を下しました。

(注) 懲役：刑務所に拘禁し、労働を義務としておこなわせること。

(ア) 地形図から読み取れることについて説明した次の文X, Yの正誤の組み合わせとして最も適するものを、あとの1～4の中から一つ選び、その番号を答えなさい。

X 「湖西線」が東西方向に設けられている。

Y 標高が300mをこえる地点に建てられている神社がある。

1. X：正 Y：正 2. X：正 Y：誤 3. X：誤 Y：正 4. X：誤 Y：誤

(イ) 資料1中の「あ」にあてはまる、地形図上のイで示したものの名称として最も適するものを、次の1～4の中から一つ選び、その番号を答えなさい。

1. 日本海 2. 霞ヶ浦 3. 大阪湾 4. 琵琶湖

(ウ) 資料2で示されたできごとがおこった時期を含む時代区分の名称X, Yと、その時期の社会の様子について説明した文a, bの組み合わせとして最も適するものを、あとの1～4の中から一つ選び、その番号を答えなさい。

時代区分	X 中世	Y 近世
社会の様子	a 馬に荷を乗せて運搬する専門の運送業者が、陸上交通で活躍した。	b 同業者の組織である株仲間が、営業をおこなう特権を得て利益をあげた。

1. Xとa 2. Xとb 3. Yとa 4. Yとb

(エ) 次の文は、メモで示されたできごとについて説明したものである。これについて、あとの各問いに答えなさい。

メモから、「現在の日本における、裁判所が国会や「い」して裁判をおこなうという原則」につながる内容が読み取れます。この原則は、公正で中立な裁判をおこなうために必要です。

(i) 文中の「い」にあてはまる内容を、内閣という語句を用いて、6字以上10字以内で書きなさい。

(ii) 〓線に関して、現在の日本において、公正で中立な裁判をおこなうために設けられている仕組みについて説明したものとして最も適するものを、次のA, Bの中から一つ選び、その記号を書きなさい。

- A 心身の故障や弾劾裁判による罷免の場合を除き、裁判官の身分は保障されている。
B 裁判官は、衆議院議員総選挙の際におこなわれる国民審査によって選出される。

(問題は、これで終わりです。)

V 社会 正答表並びに採点上の注意 (令和3年度)

問1	(ア)	3	3点
	(イ)	2	3点
	(ウ)	1	3点
	(エ)	大西洋	3点
	(オ)	4	3点

問5	(ア)	節分		3点
	(イ)	い	B	両方できて 3点
		う	アイヌ	
	(ウ)	4		3点
	(エ)	2		3点

問2	(ア)	3	3点
	(イ)	2	3点
	(ウ)	カルデラ	3点
	(エ)	1	3点
	(オ)	4	3点

問6	(ア)	2	3点	
	(イ)	(i)	3	3点
		(ii)	3	3点
	(ウ)	4	3点	
	(エ)	1	3点	

問3	(ア)	2	3点
	(イ)	3	3点
	(ウ)	1	3点
	(エ)	6	3点
	(オ)	4	3点

問7	(ア)	3	3点	
	(イ)	4	2点	
	(ウ)	1	3点	
	(エ)	(i)	内閣から独立	6点
		(ii)	A	

問4	(ア)	1	2点	
	(イ)	2	3点	
	(ウ)	4	3点	
	(エ)	(i)	満州	3点
		(ii)	3	3点

採点上の注意

【問題全般について】

- 中間点は、問7(エ)以外には設けないこと。
- 疑問点は、複数の採点者及び点検者によって判断し、校内で統一すること。
- 誤字・脱字（句読点に係る誤りを含む）の判断については、校内で統一すること。

【中間点のある記述問題について】

- 問7(エ)について
 - ・ 正答例以外であっても、与えられた条件をすべて満たし、次の得点項目A，得点項目Bの条件をともに満たす場合は正答として6点を与える。得点項目Aのみを満たす場合は4点を与え、得点項目Bのみを満たす場合は誤答とする。

得点項目A (i) 「(現在の日本における、裁判所が国会や) 内閣から独立 (して裁判をおこなうという原則)」という趣旨が読み取れること。

得点項目B (ii) Aが選択されていること。

- ・ (i)の指定語句は「内閣」である。
- ・ 指定語句を含め、(i)における誤字・脱字については、その数にかかわらず1点減点とする。
- ・ 指定語句が脱落している場合は、該当の得点項目について0点とする。
- ・ 誤ったことを書き加えている場合は、該当の得点項目について0点とする。
- ・ 0点となった得点項目にある誤字・脱字については減点しない。
- ・ 誤字・脱字がある場合も含めて、中間点は5点、4点、3点となる。