

受検番号	第	番
------	---	---

令和3年度学力検査問題

社 会 (11時45分~12時35分)
(50分間)

注 意

1 解答用紙について

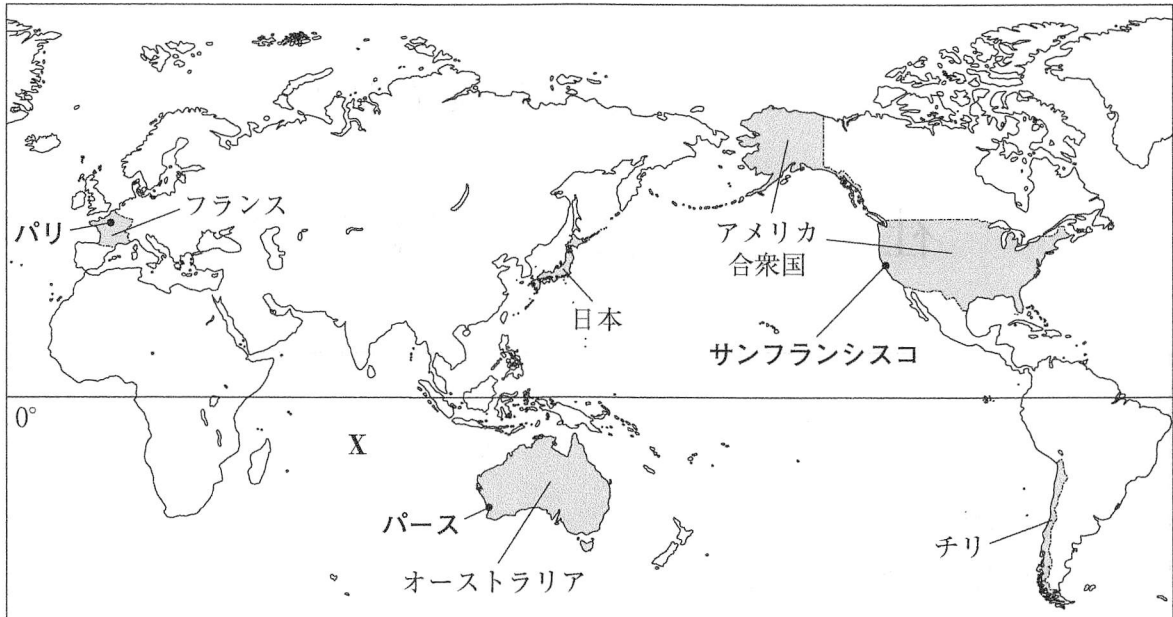
- (1) 解答用紙は1枚で、問題用紙にはさんであります。
- (2) 係の先生の指示に従って、所定の欄2か所に受検番号を書きなさい。
- (3) 答えはすべて解答用紙のきめられたところに、はっきりと書きなさい。
- (4) 解答用紙は切りはなしてはいけません。
- (5) 解答用紙の*印は集計のためのもので、解答には関係ありません。

2 問題用紙について

- (1) 表紙の所定の欄に受検番号を書きなさい。
 - (2) 問題は全部で6問あり、表紙を除いて17ページです。
- 印刷のはっきりしないところは、手をあげて係の先生に聞きなさい。

1 Mさんは、フランス、オーストラリア、アメリカ合衆国、チリ及び日本の5か国について調べました。次の地図をみて、問1～問4に答えなさい。(15点)

地図



問1 三大洋のうち、地図中のXの海洋の名称を書きなさい。(3点)

問2 Mさんは、地図中のチリの輸出の変化について調べ、次のグラフと表1をつくりました。また、これらから読みとれることを、あのようにまとめました。まとめの中の **P** にあてはまる州の名称と **Q** にあてはまる輸出品を、それぞれ書きなさい。(4点)

グラフ チリの輸出総額に占める輸出相手国の割合(上位5か国)

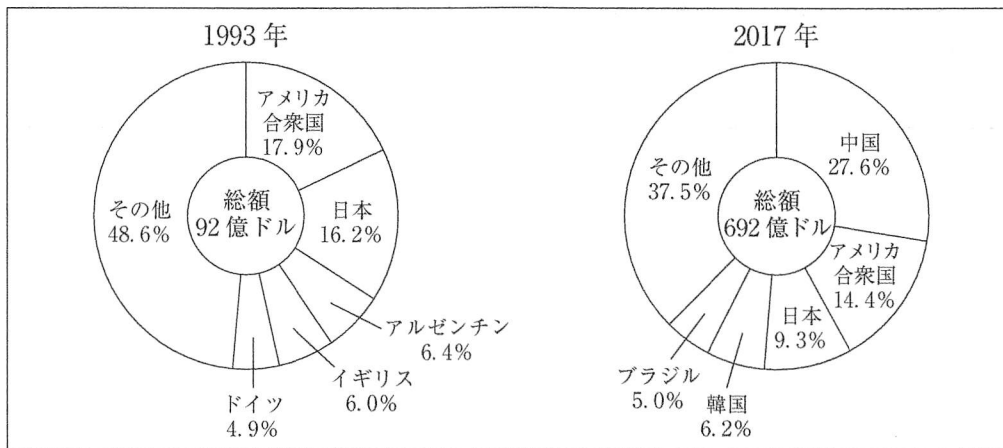


表1 チリの輸出総額に占める輸出品の割合(上位3品目)

1993年		2017年	
銅	37.7%	銅	50.5%
野菜・果実	10.7%	野菜・果実	9.1%
魚介類	7.9%	魚介類	8.1%

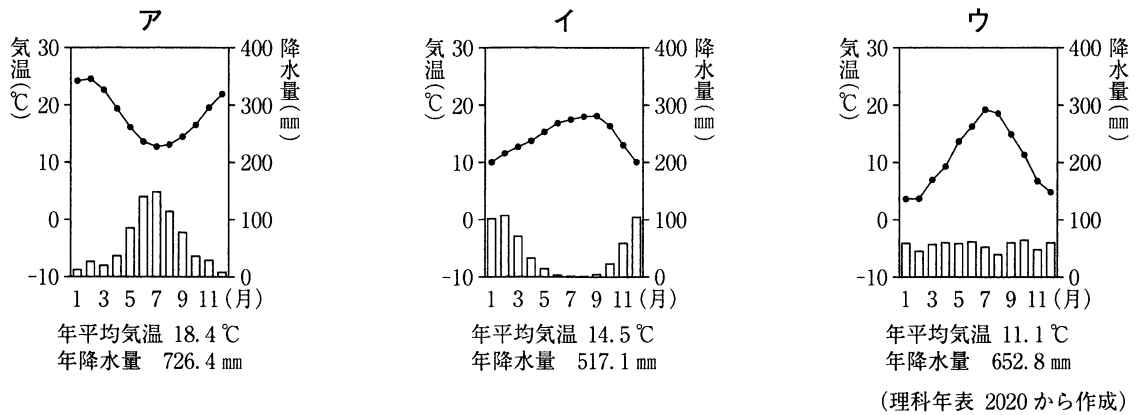
(注) 銅は、銅と銅鉱の合計である。

(世界国勢図会 2019/20年版などから作成)

まとめ

グラフをみると、チリの2017年の輸出総額は1993年と比べて増加しており、おもな輸出相手国やその地域も変化していることがわかります。チリの輸出相手国の上位5か国に着目すると、1993年には1か国だった **P** 州の国が、2017年には3か国となっています。表1をみると、チリの輸出総額に占める割合が最も高い輸出品は、1993年と2017年ともに **Q** であることがわかります。

問3 Mさんは、地図中に示した、パリ、パース、サンフランシスコの三つの都市の気温と降水量を調べ、次のア～ウのグラフをつくりました。このうち、地中海性気候に属するサンフランシスコの気温と降水量を示すものを、ア～ウの中から一つ選び、その記号を書きなさい。また、そう判断した理由を、選んだグラフから読みとれる特色のうち、6月から9月の気温、気温と降水量の関係の二点に着目して説明しなさい。(5点)



問4 次の表2は、地図中に示した5か国の、2016年における人口、国土面積、農地面積、穀物生産量を示したものです。表2から読みとれる内容を述べた文として正しいものを、下のア～オの中からすべて選び、その記号を書きなさい。(3点)

表2

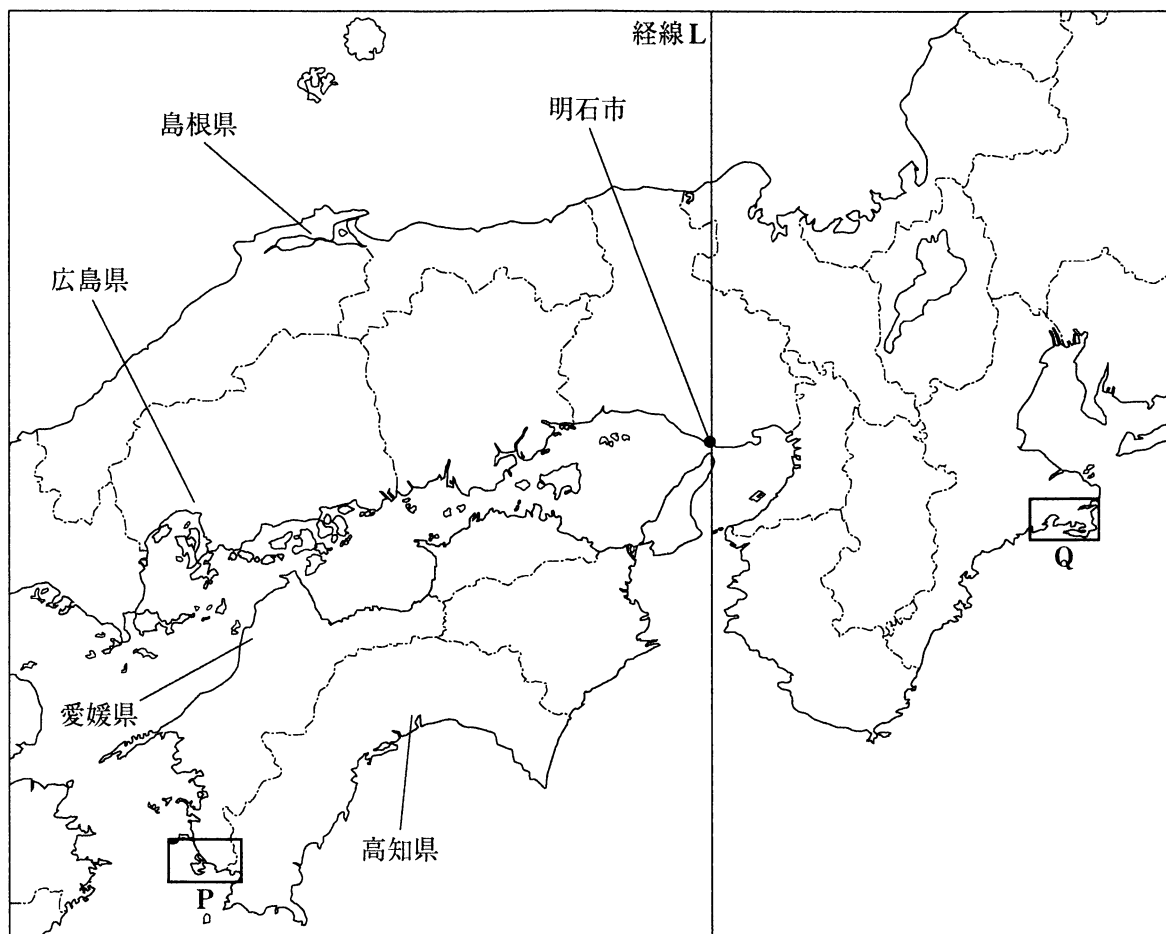
	人口 (千人)	国土面積 (千 km ²)	農地面積 (千 km ²)	農地面積の内訳		穀物 生産量 (千 t)	小麦の 生産量
				耕地・ 樹園地	牧場・ 牧草地		
フランス	64721	552	287	193	94	54655	29504
オーストラリア	24126	7692	3711	464	3247	35230	22275
アメリカ合衆国	322180	9834	4059	1549	2510	475984	62859
チリ	17910	756	157	17	140	3872	1732
日本	127749	378	45	39	6	9035	791

(世界国勢図会 2019/20 年版などから作成)

- ア アメリカ合衆国の国土面積に占める農地面積の割合は、3分の1以上である。
- イ フランスとアメリカ合衆国を比べると、穀物生産量に占める小麦の生産量の割合は、アメリカ合衆国の方が高い。
- ウ オーストラリアと日本を比べると、農地面積に占める牧場・牧草地の面積の割合は、オーストラリアの方が高い。
- エ 5か国においては、耕地・樹園地の面積が大きい順に、穀物生産量が多い。
- オ 5か国においては、国土面積が最も小さい国が、人口密度が最も高い。

2 Nさんは、地理的分野の授業で日本の諸地域を学習したあと、地図1を作成しました。地図1をみて、問1～問5に答えなさい。(17点)

地図1



問1 Nさんは、地図1中の経線Lについて調べ、次のようにまとめました。まとめの中の にあてはまる経度を、東経または西経をつけて書きなさい。(3点)

まとめ

世界の国々は、それぞれ基準になる経線を決めて、それに合わせた時刻を標準時として使っています。日本は、兵庫県明石市を通る 度の経線を基準にし、この経線上を太陽が通る時刻を正午として標準時を決めています。

問 2 Nさんは、地図1中の島根県、広島県、高知県の三つの県における県庁所在地の12月・1月・2月と7月・8月・9月のそれぞれ3か月間の降水量と年降水量を調べ、次の表1をつくりました。表1中のⅠ～Ⅲにあてはまる県庁所在地の組み合わせとして正しいものを、下のア～カの中から一つ選び、その記号を書きなさい。(3点)

表1

	Ⅰ	Ⅱ	Ⅲ
12月・1月・2月の3か月間の降水量	150.8 mm	404.8 mm	218.6 mm
7月・8月・9月の3か月間の降水量	538.9 mm	564.0 mm	960.7 mm
年降水量	1537.6 mm	1787.2 mm	2547.5 mm

(注) 降水量は1981年～2010年の平均値である。

(気象庁ホームページから作成)

- ア Ⅰ－松江市 Ⅱ－広島市 Ⅲ－高知市
 イ Ⅰ－松江市 Ⅱ－高知市 Ⅲ－広島市
 ウ Ⅰ－広島市 Ⅱ－松江市 Ⅲ－高知市
 エ Ⅰ－広島市 Ⅱ－高知市 Ⅲ－松江市
 オ Ⅰ－高知市 Ⅱ－松江市 Ⅲ－広島市
 カ Ⅰ－高知市 Ⅱ－広島市 Ⅲ－松江市

問 3 次の表2は、地図1中の島根県、広島県、愛媛県、高知県の、2017年における人口、農業産出額、工業出荷額を示したものです。表2中のX～Zにあてはまる県の組み合わせとして正しいものを、下のア～エの中から一つ選び、その記号を書きなさい。(3点)

表2

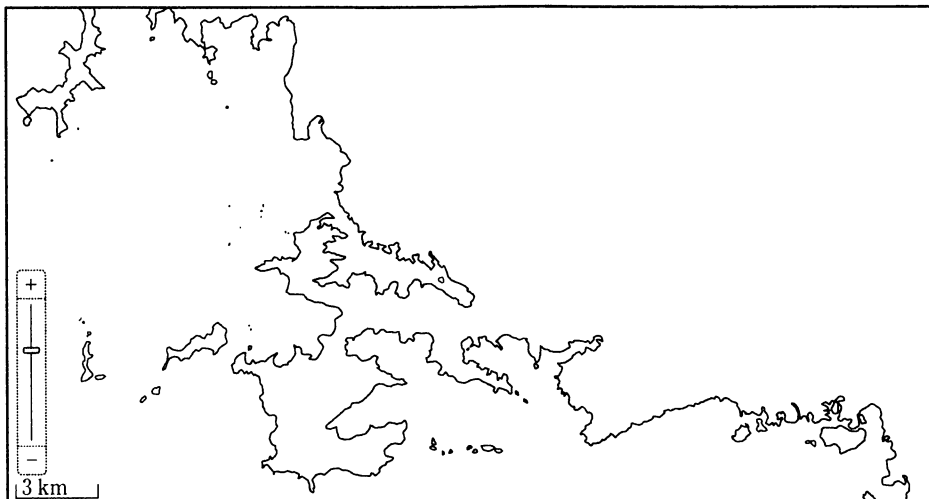
	人口 (千人)	農業産出額(億円)			工業出荷額 (億円)
		米	野菜	果実	
X	2829	263	240	172	102356
Y	714	125	750	118	5919
Z	1364	164	206	537	42008
島根県	685	196	103	38	11841

(データでみる県勢 2020年版から作成)

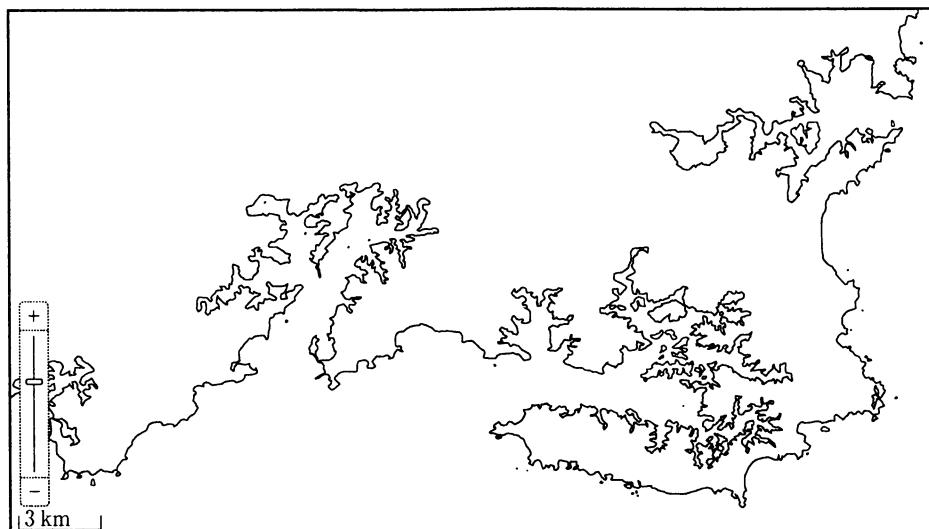
- ア X－広島県 Y－愛媛県 Z－高知県
 イ X－広島県 Y－高知県 Z－愛媛県
 ウ X－愛媛県 Y－広島県 Z－高知県
 エ X－高知県 Y－愛媛県 Z－広島県

問 4 次は、地図 1 中の P の範囲と、三重県志摩半島の一部を示した Q の範囲を、それぞれ拡大した地図です。P と Q には、同じ特色をもつ海岸の地形がみられます。P と Q にみられる海岸の地形の名称を書きなさい。また、その海岸の地形の特色を書きなさい。(5 点)

P



Q



(国土地理院 地理院地図から作成)

問 5 右の地図 2 は、地図 1 中の島根県の一部を示した 2 万 5 千分の 1 の地形図です。地図 2 から読みとれる内容を述べた文として下線部が正しいものを、次のア～オの中からすべて選び、その記号を書きなさい。(3 点)

ア A 地点から B 地点まで列車で移動する途中には、進行方向左側に宍道湖がある。

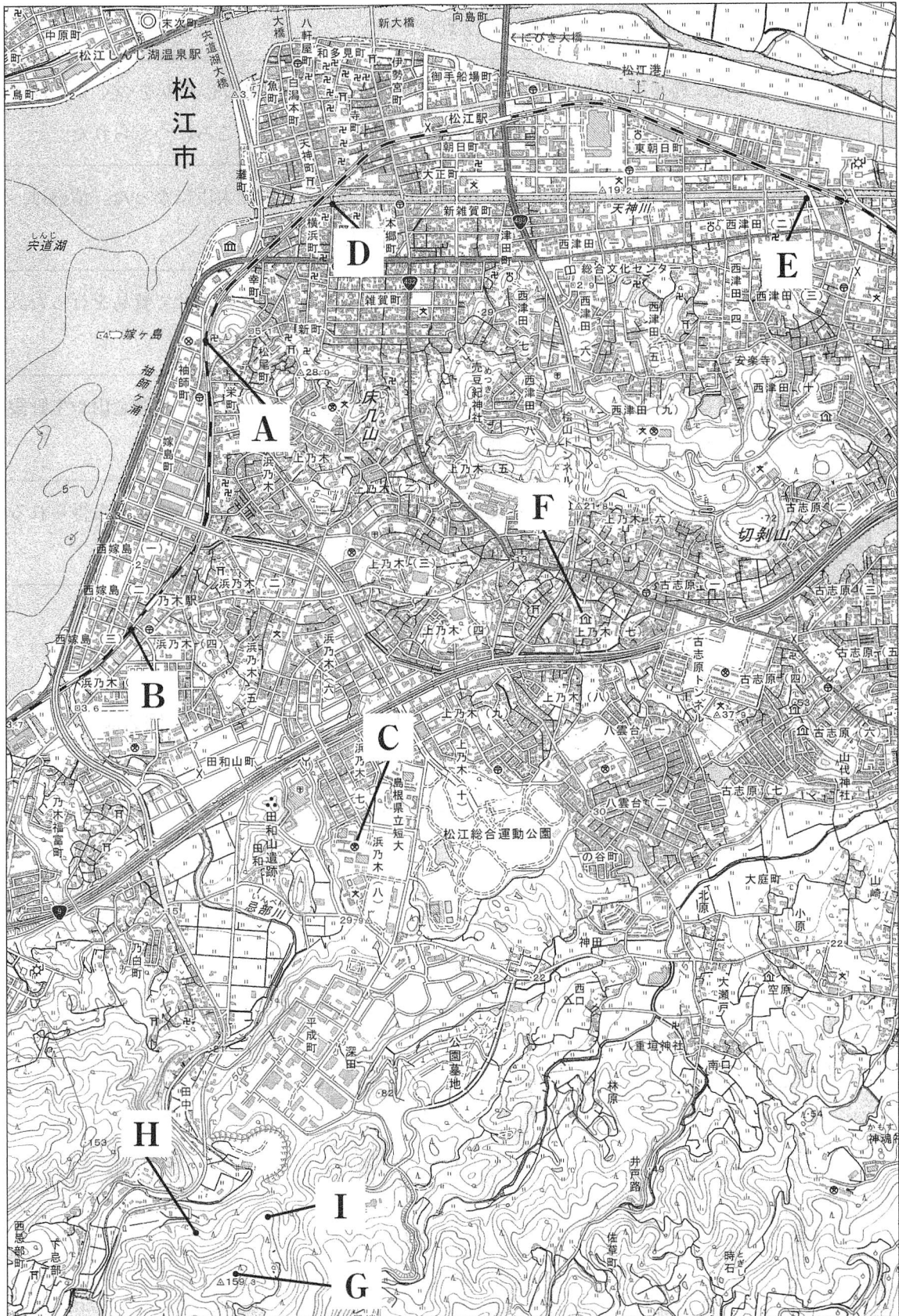
イ B 地点からみると、C 地点の高等学校は、およそ南西の方向にある。

ウ D 地点から E 地点までの直線距離は、地図上で約 8 cm であり、実際の直線距離は約 2 km である。

エ F 地点には、老人ホームがある。

オ G 地点から H 地点までと、G 地点から I 地点までとは、等高線から考えると、G 地点から I 地点までの方が急な傾斜となっている。

地図 2



(国土地理院 2万5千分の1 地形図「松江」平成 28年発行一部改変)

3 次のⅠ～Ⅴは、Sさんが、日本の五つの異なる時代の経済などについて調べ、まとめたものです。これをみて、問1～問5に答えなさい。(17点)

Ⅰ	壬申の乱に勝って即位した A 天皇は、強力な支配のしくみをつくり上げていった。日本で最初の銅の貨幣である富本銭は、 A 天皇のころにつくられた。
Ⅱ	平清盛は、平治の乱に勝利したのち、武士として初めて太政大臣になった。清盛は、中国の宋との貿易に目をつけ、航路を整え、港を整備した。
Ⅲ	足利義満は、正式な貿易船の証明として、勘合を日本の船に持たせて貿易を行った。この貿易で銅銭などが、大量に日本に入った。
Ⅳ	豊臣秀吉は、大名の領地にある金山や銀山から税を取った。また、佐渡金山や生野銀山などを直接支配して開発を進め、大判などの金貨を発行した。
Ⅴ	田沼意次は、年貢だけにたよる従来の政策を転換し、商品の流通や生産から得られる利益によって財政の立て直しをはかった。

問1 まとめの中の **A** にあてはまる人物名を書きなさい。(3点)

問2 Ⅱの時代の平清盛に関して、次の図1は皇室と平氏の関係を示し、図2は皇室と藤原氏の関係を示しています。平清盛が権力をふるったときに行ったことと藤原道長が行ったことには共通点があります。その共通点を、図1と図2から書きなさい。(5点)

図1

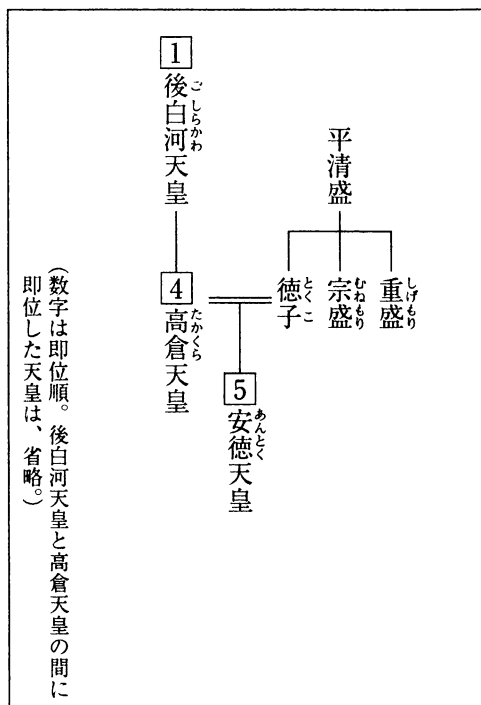
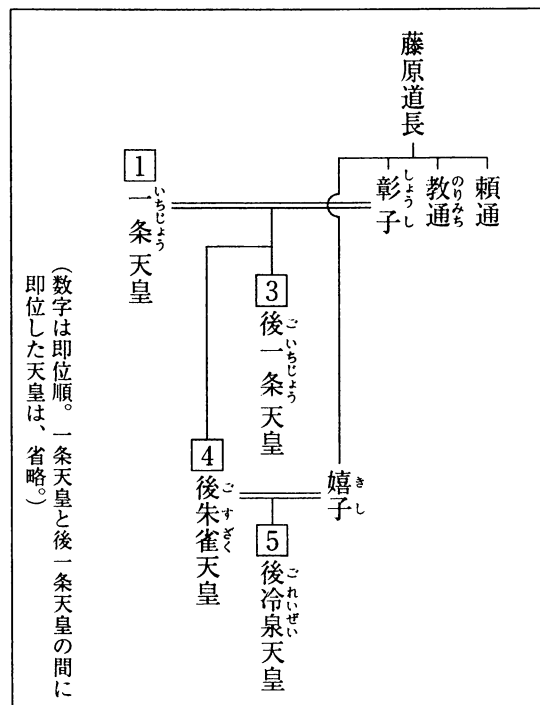


図2



問 3 IIIの時代に起こった世界のできごとを述べた文として、その正誤の組み合わせが正しいものを、下のア～エの中から一つ選び、その記号を書きなさい。(3点)

X ムハンマドは、唯一の神アラーのお告げを受けたとして、イスラム教の開祖になった。
 Y モンゴル高原では、チンギス・ハンが遊牧民の諸部族を統一し、モンゴル帝国を築いた。
 Z 朝鮮半島では、李成桂が高麗をほろぼして、朝鮮国を建てた。

- ア X 正 Y 誤 Z 誤 イ X 誤 Y 正 Z 誤
 ウ X 誤 Y 誤 Z 正 エ X 誤 Y 正 Z 正

問 4 Sさんは、文化に興味をもち調べたところ、次のa、bの文と資料1、資料2をみつけました。IVの時代の文化について述べた文と、その時代の代表的な文化財の組み合わせとして正しいものを、表中のア～エの中から一つ選び、その記号を書きなさい。(3点)


- a 茶の湯は大名や大商人たちの交流の場になり、流行した。千利休は禅宗の影響を受け、内面の精神性を重視し、質素なわび茶の作法を完成させた。
 b 上方を中心に、町人をにない手とする文化が生まれた。人形浄瑠璃では近松門左衛門が現実に起こった事件をもとに台本を書き、庶民の共感を呼んだ。

資料1



狩野永徳がえがいた唐獅子図屏風

資料2



尾形光琳のすずり箱

表

	文化	代表的な文化財
ア	a	資料1
イ	a	資料2
ウ	b	資料1
エ	b	資料2

問 5 Vの時代における社会や経済の様子を述べた文として正しいものを、次のア～エの中から一つ選び、その記号を書きなさい。(3点)

- ア 団結を固めた農民などは、お金の貸し付けを行っていた土倉や酒屋などをおそって借金の帳消しなどを求める土一揆を起こした。
 イ 幕府の支配を支えていた御家人の生活が、領地の分割相続などによって苦しくなったので、幕府は、手放した土地を御家人に返させる徳政令を出して救おうとした。
 ウ 公家や寺社といった荘園領主などがそれぞれもっていた土地の複雑な権利が否定され、検地帳に登録された農民だけに、土地の所有権が認められた。
 エ 有力な本百姓は、庄屋(名主)や組頭、百姓代などの村役人になり、村の自治をになうとともに年貢を徴収して領主におさめた。

4 次の年表をみて、問1～問5に答えなさい。(17点)

西暦(年)	できごと
1871	・岩倉使節団が派遣される……………
1889	・大日本帝国憲法が發布される……………
1911	・関税自主権が完全に回復される……………
1933	・日本が国際連盟の脱退を通告する……………
1945	・ヤルタ会談が行われる……………
1962	・ Y 危機が起こる…………… E
1989	・マルタ会談が行われる……………

問1 次の年表中Aの時期のできごとについてまとめたものです。まとめ1の中の **P** と **Q** にあてはまる人物名の組み合わせとして正しいものを、下のア～エの中から一つ選び、その記号を書きなさい。(3点)

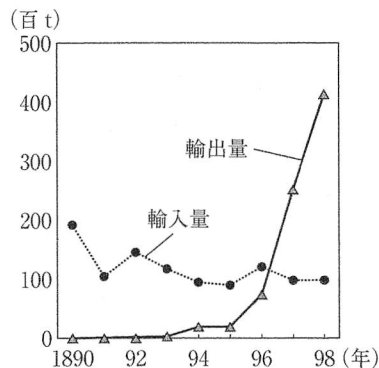
まとめ1

政府を去った **P** らが、民撰議院設立の建白書を政府に提出したことで、立憲政治の実現をめざす自由民権運動が始まりました。政治への意識が高まるなか、民権派の団体の代表者たちは大阪に集まり、国会の開設を求めました。政府は、国会の早期開設などの急進的な主張をしていた **Q** を政府から追い出すとともに、10年後に国会を開くことを約束しました。自由民権運動は、国会開設に備えて政党の結成へと進み、 **P** を党首とする自由党や、 **Q** を党首とする立憲改進黨が結成されました。

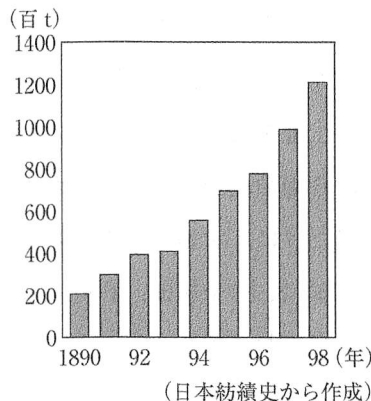
- ア P 板垣退助 Q 大隈重信 イ P 板垣退助 Q 大久保利通
 ウ P 伊藤博文 Q 大久保利通 エ P 伊藤博文 Q 大隈重信

問2 次のグラフ1とグラフ2は、年表中Bのある時期における日本の綿糸の輸出入量と国内生産量の推移を示したものです。また、資料は大阪の紡績工場の様子を示したものです。グラフ1における綿糸の輸入量に対する輸出量の変化を、グラフ2と資料から読みとれることにふれながら書きなさい。(5点)


グラフ1 綿糸の輸出入量



グラフ2 綿糸の国内生産量



資料



問 3 年表中Cの時期における日本の政治や社会の様子を述べた文として正しいものを、次のア～エの中から一つ選び、その記号を書きなさい。(3点)

- ア 農地改革が行われ、政府が地主の小作地を強制的に買い上げ、小作人に安く売りわたした。
- イ 国家総動員法が制定され、政府は議会の承認なしに、労働力や物資を動員できるようになった。
- ウ シベリア出兵を見こした米の買いしめから、米価が高くなり、米の安売りを求める騒動が起こった。
- エ 大気汚染や水質汚濁などの公害問題が深刻化するなか、公害対策基本法が制定された。

問 4 次のア～エは、年表中Dの時期の日本の経済について述べた文です。年代の古い順に並べかえ、その順に記号で書きなさい。(3点)

- ア 池田勇人内閣が所得倍増をスローガンにかかげるなど、政府も経済成長を促進し、国民総生産は、資本主義国の中でアメリカに次ぐ第2位になった。
- イ 朝鮮戦争が始まると、大量の軍需物資が日本で調達され、特需景気が起こった。
- ウ 多くの企業が土地や株式を買い集めたことで、地価や株価が異常に高くなり、バブル経済とよばれる不健全な好景気が起こった。
- エ 第四次中東戦争をきっかけとした石油価格の大幅な上昇により、日本経済は大きな打撃を受け、戦後初めて経済成長率がマイナスとなった。


問 5 次は、年表中Eのできごとについてまとめたものです。まとめ2の中の **X** にあてはまる語を書きなさい。また、年表及びまとめ2の中の **Y** にあてはまる国を、下のア～エの中から一つ選び、その記号を書きなさい。(3点)

まとめ2

アメリカを中心とする資本主義陣営(西側諸国)と、ソ連を中心とする社会主義陣営(東側諸国)の対立は、両陣営の全体や、米ソの間では直接の武力戦争が起こらなかったため、**X**とよばれました。右の地図は、1955年における両陣営の対立を示したものです。

X という国際的な緊張のもと、1962年には、右の地図中にある **Y** にソ連が核ミサイル基地を建設していることを知ったアメリカが、海上封鎖にふみ切りました。これにより、米ソの間で、核兵器による全面戦争の危機が高まりました。

地図



■ 北大西洋条約機構(NATO)加盟国(1955年)
■ ワルシャワ条約機構加盟国(1955年)

- ア キューバ イ イギリス ウ ベトナム エ インドネシア

5 Kさんのクラスでは、これまでの公民的分野の学習のまとめとして、自分の興味のある分野からテーマを選び、調べることになりました。次の表は、Kさんが興味をもった分野とテーマについてまとめたものです。表をみて、問1～問5に答えなさい。(18点)

表

分野	テーマ
社会の変化と①「 <u>新しい人権</u> 」	・人権はどのように広がってきているのだろうか。
② <u>国会</u> のはたらき	・国会はどのような仕事をしているのだろうか。
内閣と国会の関係	・③ <u>議院内閣制</u> とはどのような制度なのだろうか。
裁判所のしくみとはたらき	・法や④ <u>裁判</u> はどのような役割を果たしているのだろうか。
⑤ <u>地方財政</u> のしくみと課題	・地方財政はどのような課題をかかえているのだろうか。

問1 下線部①に関連して、Kさんは、情報化の進展と人権について調べ、次のようにまとめました。まとめ1の中の と にあてはまる語の組み合わせとして正しいものを、下のア～エの中から一つ選び、その記号を書きなさい。(2点)

まとめ1

情報化が進む現代では、国や地方公共団体に多くの情報が集まっており、これらの情報を手に入れる権利として、 が主張されています。 は、私たちが主権者として意思決定する前提となる重要な権利です。国では1999年に が制定され、私たちが請求すると、国が作成した公的な文書などをみることができるよう制度が設けられました。

- | | |
|-----------------|--------------|
| ア I - プライバシーの権利 | II - 個人情報保護法 |
| イ I - プライバシーの権利 | II - 情報公開法 |
| ウ I - 知る権利 | II - 個人情報保護法 |
| エ I - 知る権利 | II - 情報公開法 |

問2 下線部②について、次のXとYの正誤の組み合わせとして正しいものを、下のア～エの中から一つ選び、その記号を書きなさい。(3点)

X 全国民を代表する選挙された議員によって構成される国会は、国権の最高機関であり、唯一の行政機関である。

Y 衆議院と参議院は国政調査権をもち、証人を議院によんで質問したり、政府に記録の提出を要求したりすることができる。

- | | |
|-----------|-----------|
| ア X 正 Y 正 | イ X 正 Y 誤 |
| ウ X 誤 Y 正 | エ X 誤 Y 誤 |

問 3 次は、下線部③について学習する授業における、先生とKさんの会話です。会話文を読み、下の(1)と(2)の問いに答えなさい。

先生：以前の授業で学習しましたが、内閣を組織して政権をになう政党のことを、野党に対して何というかわかりますか。

Kさん：です。

先生：そうです。場合によっては、複数の政党がとなり、政権をになうこともあります。

Kさん：そのような政権を連立政権といいます。

先生：そのとおりです。しっかり理解していますね。

今日は、以前の授業をふまえ、国会と内閣の関係について学習しましょう。

Kさん：国会と内閣の関係について調べていたら、次の資料を見つけました。

資料 2017年11月1日の新聞記事の一部

第98代首相安倍氏指名へ

衆院選を受けた第195特別国会が1日召集され、安倍晋三首相が午後の衆院本会議での首相指名選挙で、第98代首相に選出される。

先生：資料は、衆議院が解散して総選挙が行われたあと、首相が国会で指名された日のものですね。この資料から、日本では議院内閣制が採用されていることがわかりますね。日本で採用されている議院内閣制とは、どのようなしくみか、説明できますか。

Kさん：はい。日本で採用されている議院内閣制とは、しくみです。

先生：そうですね。衆議院の総選挙が行われたときは、必ず内閣は総辞職し、新しい内閣がつくられます。

(1) 会話文中のにあてはまる語を書きなさい。(2点)

(2) 会話文中のにあてはまる議院内閣制のしくみの説明を、「信任」、「連帯」、「責任」という三つの語を用いて書きなさい。(5点)

問 4 下線部④に関連して、Kさんは、刑事裁判について調べ、次のようにまとめました。まとめ2
 中の **P** と **Q** にあてはまる語を、それぞれ書きなさい。(3点)

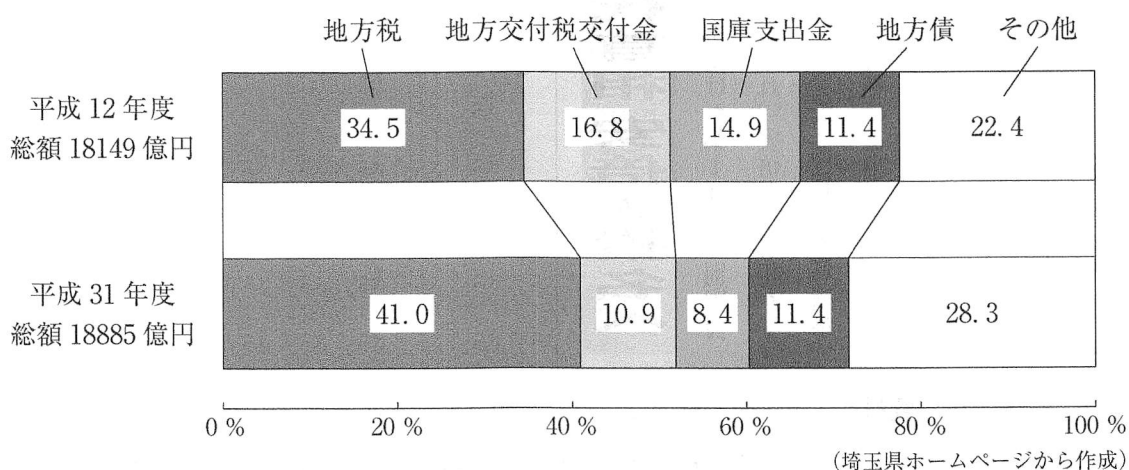
まとめ2

殺人や傷害などの事件が起こると、警察が捜査し被疑者を逮捕したあと、**P** 官が警察官の協力を得て取り調べを行います。**P** 官は、罪を犯した疑いが確実で、罰したほうがよいと判断すると、被疑者を起訴し、刑事裁判が行われます。

重大な犯罪の疑いで起訴された事件の第一審は、**Q** 制度の対象となります。原則として国民から選ばれた6人の**Q** と3人の裁判官が一つの事件を担当し、被告人が有罪か無罪か、有罪の場合はどのような刑罰にするかを決めます。

問 5 下線部⑤に関連して、Kさんは、埼玉県の財政について調べ、次のグラフをつくりました。グラフについて説明した文として正しいものを、下のア～エの中から一つ選び、その記号を書きなさい。(3点)

グラフ 埼玉県の平成12年度及び平成31年度一般会計当初予算(歳入)の内訳




- ア 地方税は、必要な収入をまかなうことが困難な地方公共団体が借り入れるものであり、平成31年度の地方税の収入額は、平成12年度の地方税の収入額よりも多い。
- イ 地方交付税交付金は、地方公共団体の間の財政格差をおさえるために国から配分されるものであり、平成31年度の地方交付税交付金の収入額は、平成12年度の地方交付税交付金の収入額よりも少ない。
- ウ 国庫支出金は、義務教育や道路整備など特定の費用の一部について国が負担するものであり、平成31年度の国庫支出金の収入額は、平成12年度の国庫支出金の収入額よりも多い。
- エ 地方債は、地方公共団体が独自に集める自主財源であり、平成31年度の地方債の収入額は、平成12年度の地方債の収入額と同じである。

(問題は次のページに続きます。)

- 6 Fさんは、東京と各地との結びつきに関して、江戸時代から現代までを調べ、次の資料1～資料3をつくりました。これらを見て、問1～問5に答えなさい。(16点)

資料1


幕府は、江戸を起点に東海道や中山道などの五街道を整備し、各地に関所を設け、人々の通行や荷物の運送を監視しました。箱根関所では、江戸への鉄砲の持ち込みと、大名の妻が江戸を出ることを特に取りしました。



箱根関所跡

資料2

明治政府は殖産興業政策の一つとして、1872年に新橋・横浜間に鉄道を開通させるなど、交通の整備を進めました。明治時代の中ごろには、鉄道網が全国に広がりました。①大正時代から昭和時代のはじめにかけて、東京郊外に宅地開発が計画され、都心と郊外とが鉄道で結ばれました。



しおどめ
東京汐留鉄道御開業祭礼図

資料3

1964年に東海道新幹線が開通するなど、東京は、全国を結ぶ交通網の中心となっています。②東京とその周辺地域は人口が増え、③東京周辺の貿易港は、世界各地と物流で結びついています。

今日では、④インターネットなどの整備も進み、国境を越えての交流や情報交換ができるようになっています。



東海道新幹線開業

- 問1 資料1に関連して、江戸時代の文化について述べた文として正しいものを、次のア～エの中から一つ選び、その記号を書きなさい。(3点)

- ア 幕府の保護を受けた観阿弥と世阿弥は、民衆の間で行われていた田楽や猿楽を、能として大成させた。
- イ 武士や民衆の力がのびるにつれて、文化に新しい動きが起こり、文学では、「平家物語」などの武士の活躍をえがいた軍記物が生まれた。
- ウ 欧米文化を取り入れつつ、これまでの伝統文化を独自に発展させたものが多く、絵画ではフランスの画風を学んだ黒田清輝が、帰国後に日本らしい情景を「湖畔」でえがいた。
- エ 庶民をにない手として発展してきた文化は、地方にも広がり、十返舎一九が伊勢参りなどの道中をこっけいにえがいた「東海道中膝栗毛」を書いた。

問 2 Fさんは、資料2の下線部①の時期の人物について調べ、次のようにまとめました。まとめ1の中の **P** にあてはまる政党名を書きなさい。また、まとめ1の中の原内閣のときのできごとについて述べた文として正しいものを、下のア～エの中から一つ選び、その記号を書きなさい。(3点)

まとめ1

陸軍出身の寺内正毅首相が辞職すると、1918年9月、原敬が内閣を組織しました。原内閣は、陸軍、海軍、外務の3大臣以外はすべて、衆議院第一党の **P** の党員で組織する、初めての本格的な政党内閣でした。原敬は、藩閥とは縁のない盛岡藩出身で、華族の^{しゃく}爵位をもたず、軍人出身でもない初めての首相であることから、「平民宰相」とよばれました。

- ア 満州事変をきっかけに日本国内では軍部への支持が高まり、政党政治家や財閥の要人が暗殺される事件もあい次ぎ、五・一五事件が起こった。
- イ 選挙法が改正され、選挙権の資格に必要な直接国税の納税額が10円以上から3円以上に引き下げられた。
- ウ 治安維持法が制定され、共産主義に対する取りしまりが強められた。
- エ 新聞や知識人は、藩閥をたおし、憲法に基づく政治を守ることをスローガンとする第一次護憲運動を起こした。

問 3 Fさんは、資料3の下線部②について調べたところ、グラフ1、図1と図2をみつけました。グラフ1から読みとれる東京23区における昼間人口と夜間人口の関係の特色を書きなさい。また、そのような特色となる理由を、図1と図2から書きなさい。(5点)

グラフ1 東京23区、都内市町村、埼玉県、千葉県、神奈川県の日間人口と夜間人口(2015年)

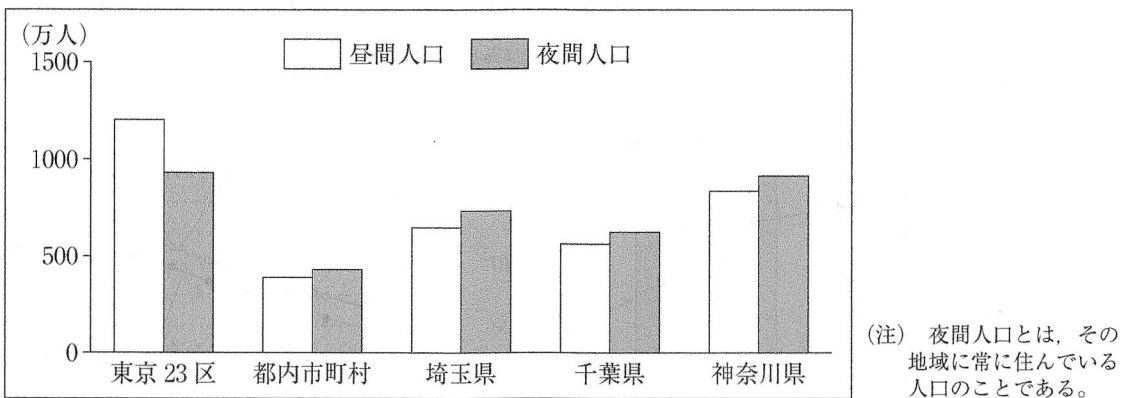


図1 東京23区への通勤・通学人口(2015年)

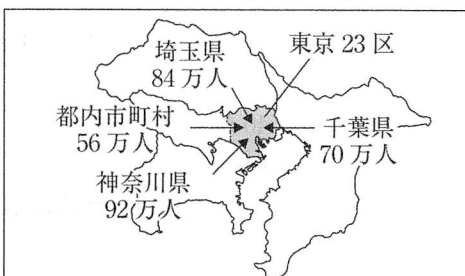
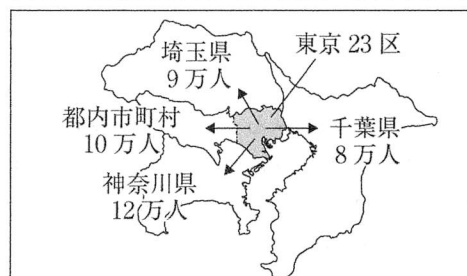


図2 東京23区からの通勤・通学人口(2015年)



(平成27年国勢調査から作成)

問 4 Fさんは、資料3の下線部③に関連して、海上輸送と航空輸送について調べ、次の表をつくりました。また、表から読みとれることを、下のようにまとめました。表とまとめ2の中の **X** ~ **Z** にあてはまる語句の組み合わせとして正しいものを、ア~エの中から一つ選び、その記号を書きなさい。(2点)

表 2018年における横浜港と成田国際空港の輸出入総額に占める輸出入品目の割合(上位2品目)

	X		Y	
横浜港	自動車	22.1%	石油	9.1%
	自動車部品	4.9%	液化ガス	5.2%
成田国際空港	科学光学機器(カメラ・レンズなど)	6.2%	通信機(携帯電話など)	14.0%
	金(非貨幣用)	5.2%	医薬品	11.6%

(日本国勢図会 2019/20年版から作成)

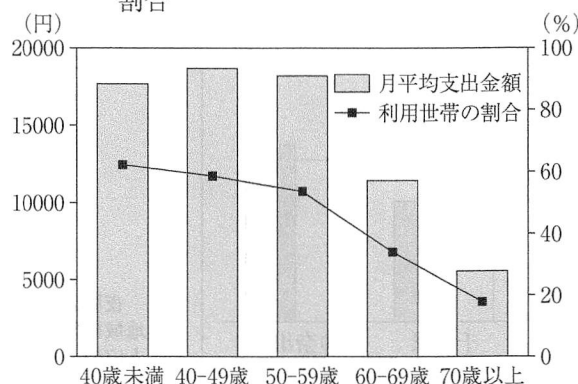
まとめ2

輸出入総額に占める輸出入品目の割合をみると、海上輸送の拠点である横浜港では、自動車など輸送機械の **X** の割合が高く、鉱産資源の **Y** の割合が高いことがわかります。また、航空輸送の拠点である成田国際空港では、横浜港に比べて、おもに科学光学機器や通信機のような **Z** 品目の輸出入の割合が高いことがわかります。

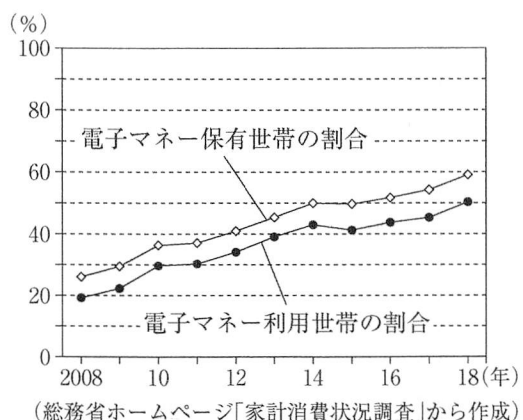
- ア X-輸出 Y-輸入 Z-重量の軽い イ X-輸入 Y-輸出 Z-重量の軽い
 ウ X-輸出 Y-輸入 Z-重量の重い エ X-輸入 Y-輸出 Z-重量の重い

問 5 Fさんは、資料3の下線部④に関連して、インターネットを利用した商品やサービスの購入について調べたところ、次のグラフ2とグラフ3をみつけました。グラフ2とグラフ3から読みとれる内容を述べた文として正しいものを、下のア~エの中から一つ選び、その記号を書きなさい。(3点)

グラフ2 2018年の世帯主の年齢階級別ネットショッピングの支出金額と利用世帯の割合



グラフ3 電子マネー保有世帯の割合と電子マネー利用世帯の割合の推移



- ア グラフ2をみると、ネットショッピング利用世帯の割合は、世帯主の年齢階級が低いほど低くなる。
 イ グラフ2をみると、月平均支出金額が最も高い年齢階級は、40歳未満である。
 ウ グラフ3をみると、電子マネー利用世帯の割合は、前年を下回った年はない。
 エ グラフ3をみると、2018年の電子マネー保有世帯の割合と電子マネー利用世帯の割合は、いずれも2008年と比べて2倍以上である。

(以上で問題は終わりです。)

令和3年度採点の手引（社会）

問題		正 答	配 点	採 点 上 の 注 意
1	問1	インド洋	3	内容に応じて部分点を認める。
	問2	(P) アジア (州) (Q) 銅	4	
	問3	(記号) イ (説明) (例) 6月から9月の気温が高く、 気温の高い月に降水量が少ないから。	5	
	問4	ア, ウ, オ	3	
2	問1	東経135 (度)	3	特色については、「小さな岬と湾が連続している」なども正答とする。 内容に応じて部分点を認める。
	問2	ウ	3	
	問3	イ	3	
	問4	(名称) リアス海岸 (特色) (例) 海岸線が入り組んでいる。	5	
	問5	ウ, エ	3	
3	問1	天武 (天皇)	3	内容に応じて部分点を認める。
	問2	(例) 娘を天皇のきさきにし、その子を天皇に立てた。	5	
	問3	ウ	3	
	問4	ア	3	
	問5	エ	3	

問 題		正 答	配 点	採 点 上 の 注 意		
4	問 1	ア	3	17	資料については、「産業革命が進み」なども正答とする。 内容に応じて部分点を認める。	
	問 2	(例) 工場に機械が導入されて、綿糸の国内生産量が増え、輸出量が輸入量を上回った。	5			
	問 3	イ	3			
	問 4	イ → ア → エ → ウ	3			
	問 5	(X) 冷戦 (記号) ア	3		(X)については、「冷たい戦争」も正答とする。	
5	問 1	エ	2	18	内容に応じて部分点を認める。	
	問 2	ウ	3			
	問 3	(1)	与党			2
		(2)	(例) 内閣は国会の信任に基づいて成立し、国会に対して連帯して責任を負う			5
	問 4	(P) 検察 (官) (Q) 裁判員	3			
	問 5	イ	3			
6	問 1	エ	3	16	(P)については、「政友会」も正答とする。	
	問 2	(P) 立憲政友会 (記号) イ	3			
	問 3	(特色) (例) 昼間人口が、夜間人口より多い。 (理由) (例) 東京23区への通勤・通学人口が、東京23区からの通勤・通学人口より多いため。	5		内容に応じて部分点を認める。	
	問 4	ア	2			
	問 5	エ	3			
配 点 合 計			100			